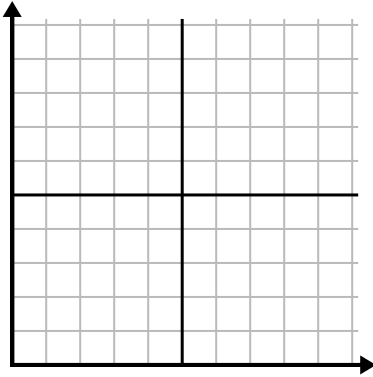




Điền vào lưới bằng cách sử dụng biểu đồ.

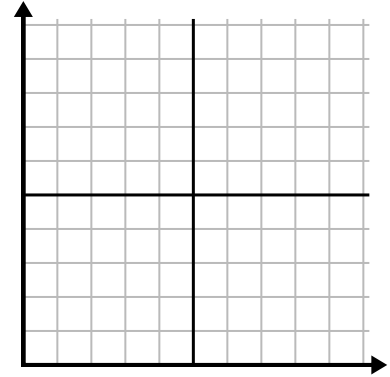
1)

| Ngày | 1 | 2 | 3 | 4 | 5 | 6 |
|------------------|----|----|-----|-----|----|-----|
| Calo bị đốt cháy | 80 | 60 | 140 | 100 | 40 | 180 |



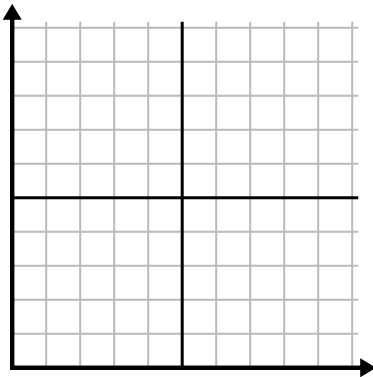
2)

| Tháng | 1 | 2 | 3 | 4 | 5 |
|------------------|-----|-----|-----|-----|----|
| Giá hóa đơn điện | 225 | 250 | 175 | 150 | 75 |



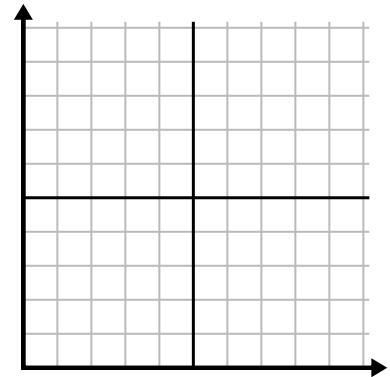
3)

| Giờ | 1 | 2 | 3 | 4 | 5 |
|-----------------|---|---|---|---|---|
| Số lượng đã bán | 1 | 9 | 2 | 6 | 5 |



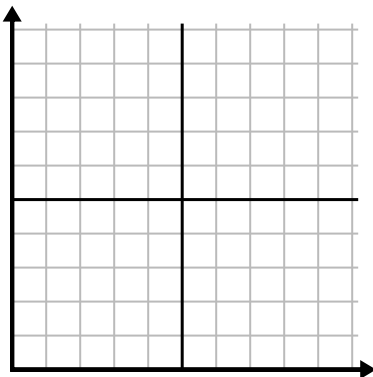
4)

| Ngày | 1 | 2 | 3 | 4 | 5 | 6 | 7 |
|-----------------|---|----|----|----|----|----|----|
| Nội dung đã gửi | 5 | 10 | 50 | 30 | 20 | 15 | 25 |



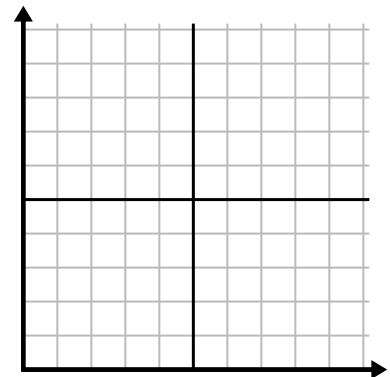
5)

| Tuần | 1 | 2 | 3 | 4 | 5 | 6 | 7 |
|----------------------------|----|----|----|-----|----|----|----|
| Nước được sử dụng (gallon) | 90 | 10 | 80 | 100 | 50 | 20 | 70 |



6)

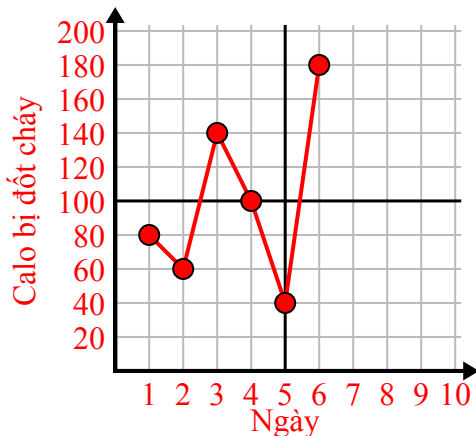
| Ngày | 1 | 2 | 3 | 4 | 5 | 6 | 7 |
|--------------|---|---|---|---|---|---|----|
| Tiền đã tiêu | 8 | 7 | 6 | 5 | 4 | 3 | 10 |



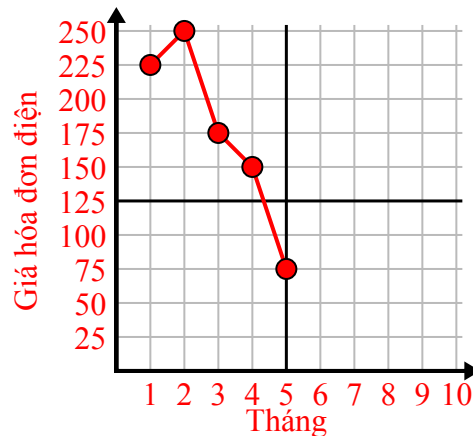


Điền vào lưới bằng cách sử dụng biểu đồ.

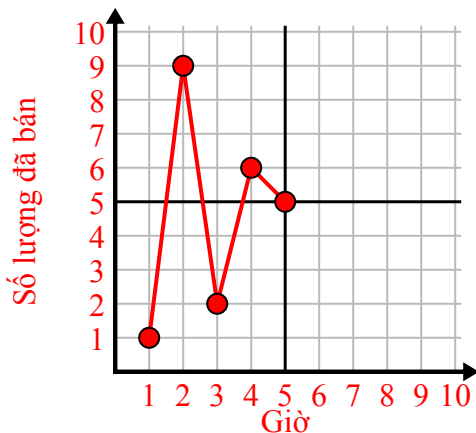
| Ngày | 1 | 2 | 3 | 4 | 5 | 6 |
|------------------|----|----|-----|-----|----|-----|
| Calo bị đốt cháy | 80 | 60 | 140 | 100 | 40 | 180 |



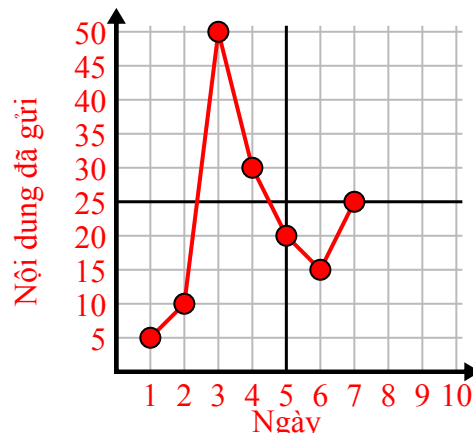
| Tháng | 1 | 2 | 3 | 4 | 5 |
|------------------|-----|-----|-----|-----|----|
| Giá hóa đơn điện | 225 | 250 | 175 | 150 | 75 |



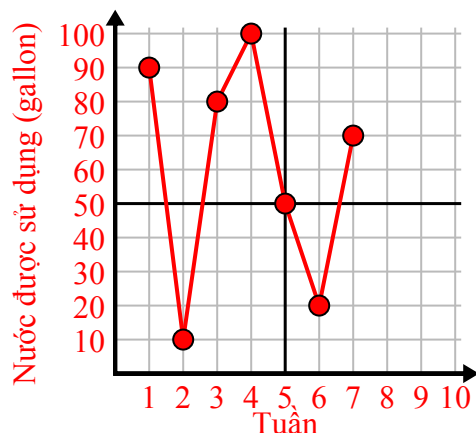
| Giờ | 1 | 2 | 3 | 4 | 5 |
|-----------------|---|---|---|---|---|
| Số lượng đã bán | 1 | 9 | 2 | 6 | 5 |



| Ngày | 1 | 2 | 3 | 4 | 5 | 6 | 7 |
|-----------------|---|----|----|----|----|----|----|
| Nội dung đã gửi | 5 | 10 | 50 | 30 | 20 | 15 | 25 |



| Tuần | 1 | 2 | 3 | 4 | 5 | 6 | 7 |
|----------------------------|----|----|----|-----|----|----|----|
| Nước được sử dụng (gallon) | 90 | 10 | 80 | 100 | 50 | 20 | 70 |



| Ngày | 1 | 2 | 3 | 4 | 5 | 6 | 7 |
|--------------|---|---|---|---|---|---|----|
| Tiền đã tiêu | 8 | 7 | 6 | 5 | 4 | 3 | 10 |

