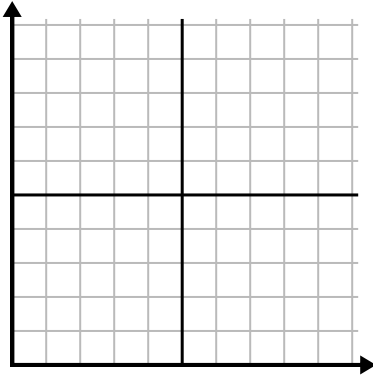




Điền vào lưới bằng cách sử dụng biểu đồ.

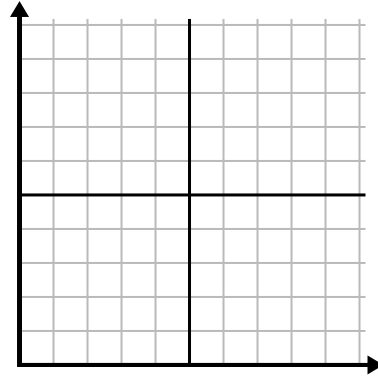
1)

Tháng	1	2	3	4	5	6
Giá hóa đơn điện	175	50	250	200	100	150



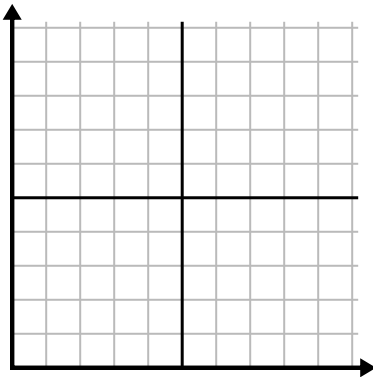
2)

Ngày	1	2	3	4	5
Bữa ăn đã bán	900	300	600	1.000	400



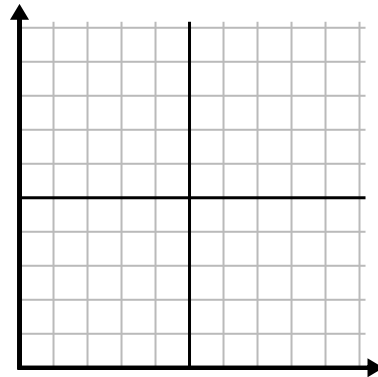
3)

Tuần	1	2	3	4	5	6	7
Số giờ xem TV	15	30	50	35	10	25	45



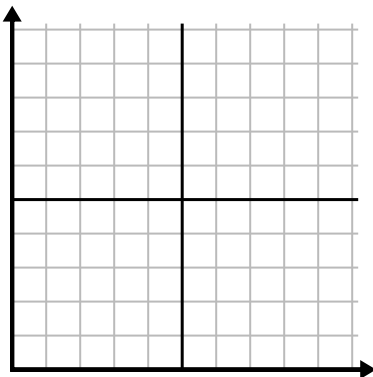
4)

Giờ	1	2	3	4	5
Số lượng đã bán	2	3	8	1	4



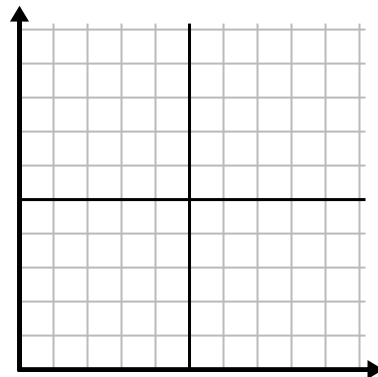
5)

Ngày	1	2	3	4	5
Calo bị đốt cháy	200	180	40	80	120



6)

Năm	1	2	3	4	5	6
Hộp mực được sử dụng	18	20	14	16	12	8

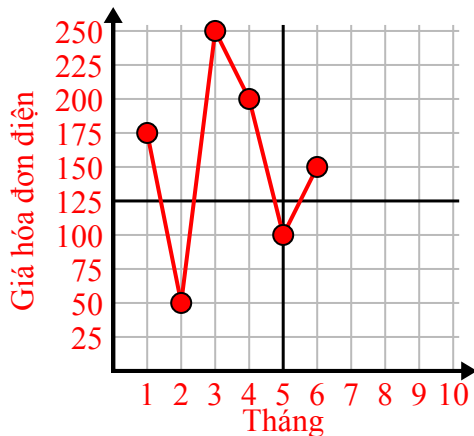




Điền vào lưới bằng cách sử dụng biểu đồ.

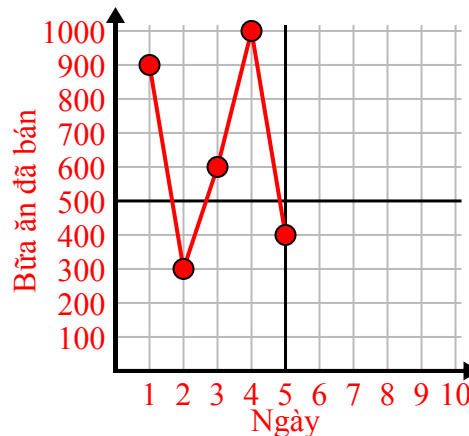
1)

Tháng	1	2	3	4	5	6
Giá hóa đơn điện	175	50	250	200	100	150



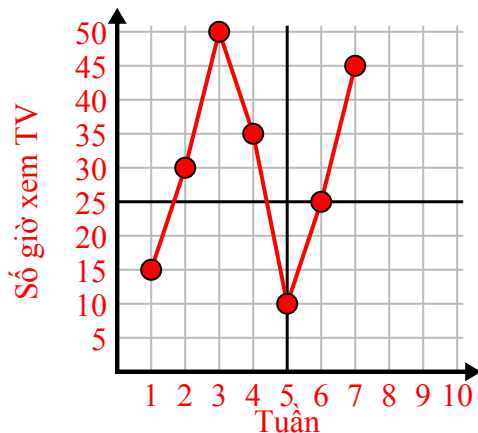
2)

Ngày	1	2	3	4	5
Bữa ăn đã bán	900	300	600	1.000	400



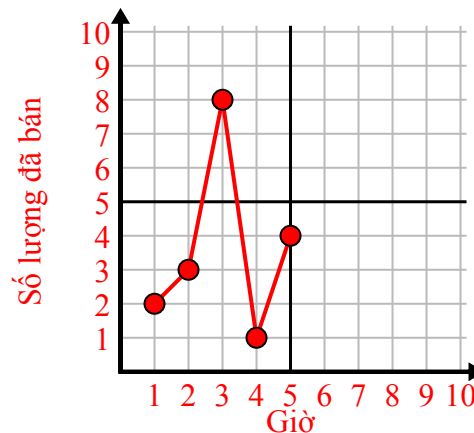
3)

Tuần	1	2	3	4	5	6	7
Số giờ xem TV	15	30	50	35	10	25	45



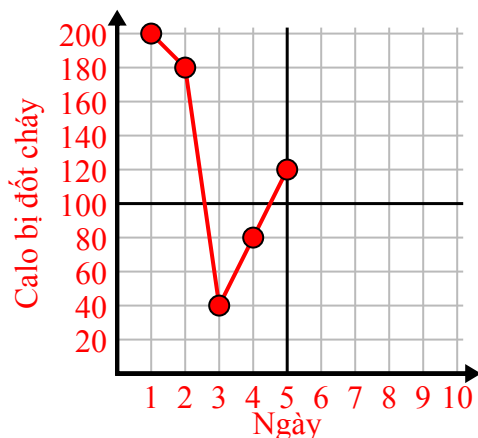
4)

Giờ	1	2	3	4	5
Số lượng đã bán	2	3	8	1	4



5)

Ngày	1	2	3	4	5
Calo bị đốt cháy	200	180	40	80	120



6)

Năm	1	2	3	4	5	6
Hộp mực được sử dụng	18	20	14	16	12	8

