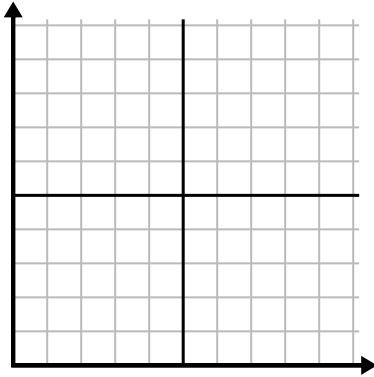




Điền vào lưới bằng cách sử dụng biểu đồ.

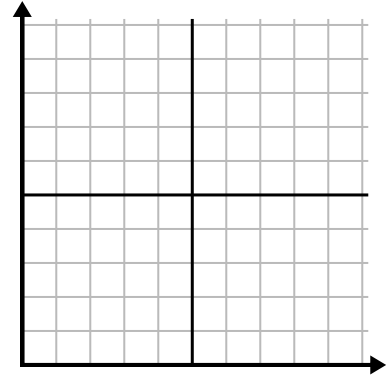
1)

Ngày	1	2	3	4	5	6	7
Video trên Youtube đã xem	30	180	270	150	60	90	240



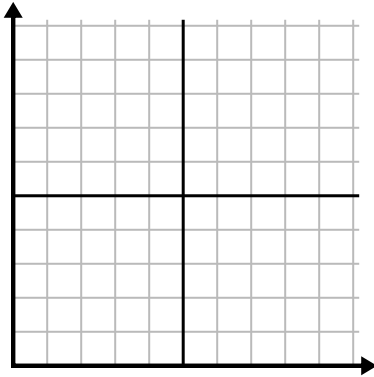
2)

Tháng	1	2	3	4	5
Giá hóa đơn điện	225	150	75	125	50



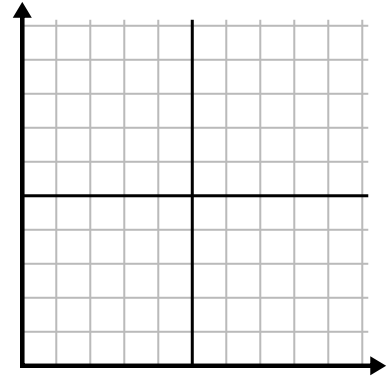
3)

Năm	1	2	3	4	5
Hộp mực được sử dụng	16	2	10	12	8



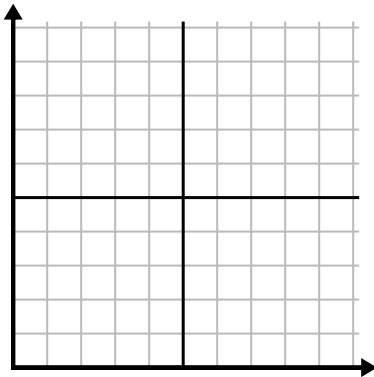
4)

Ngày	1	2	3	4	5	6
Tiền đã tiêu	2	7	9	8	5	1



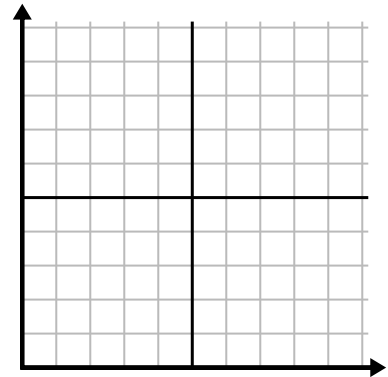
5)

Giờ	1	2	3	4	5	6	7
Số lượng đã bán	5	4	2	9	7	6	8



6)

Ngày	1	2	3	4	5	6
Bữa ăn đã bán	600	900	700	500	100	400

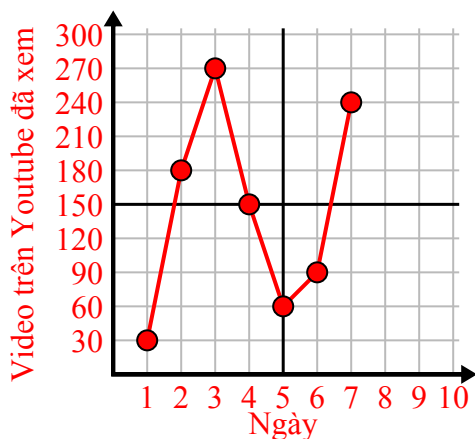




Điền vào lưới bằng cách sử dụng biểu đồ.

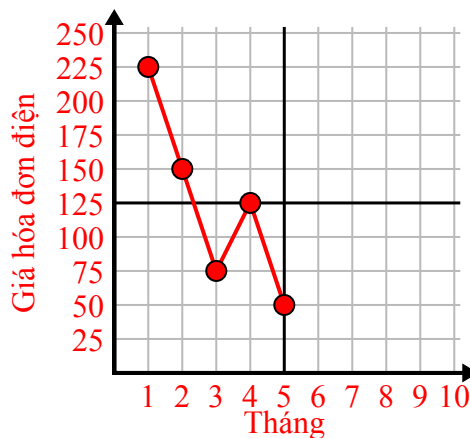
1)

Ngày	1	2	3	4	5	6	7
Video trên Youtube đã xem	30	180	270	150	60	90	240



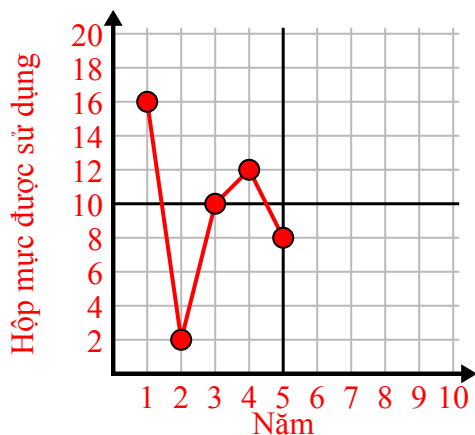
2)

Tháng	1	2	3	4	5
Giá hóa đơn điện	225	150	75	125	50



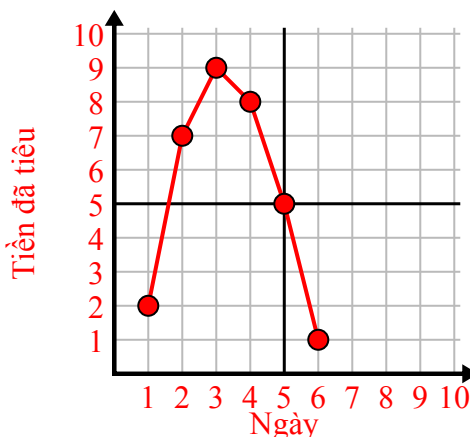
3)

Năm	1	2	3	4	5
Hộp mực được sử dụng	16	2	10	12	8



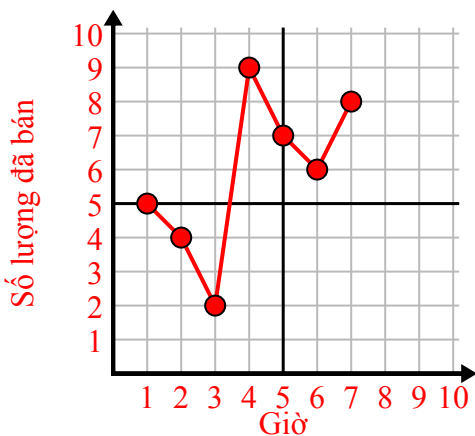
4)

Ngày	1	2	3	4	5	6
Tiền đã tiêu	2	7	9	8	5	1



5)

Giờ	1	2	3	4	5	6	7
Số lượng đã bán	5	4	2	9	7	6	8



6)

Ngày	1	2	3	4	5	6
Bữa ăn đã bán	600	900	700	500	100	400

