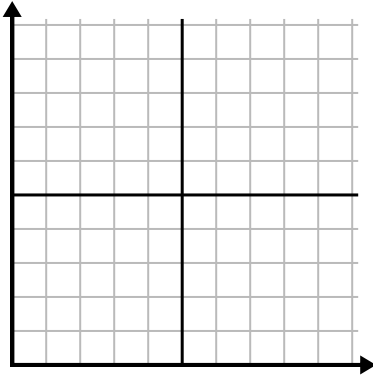




Điền vào lưới bằng cách sử dụng biểu đồ.

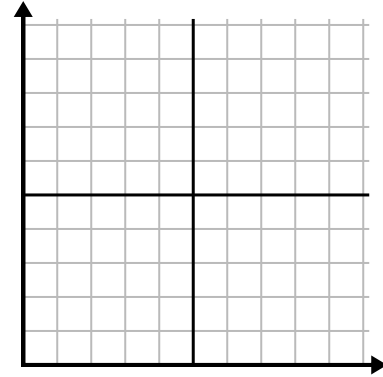
1)

Năm	1	2	3	4	5	6
Hộp bút được sử dụng	10	1	6	2	7	8



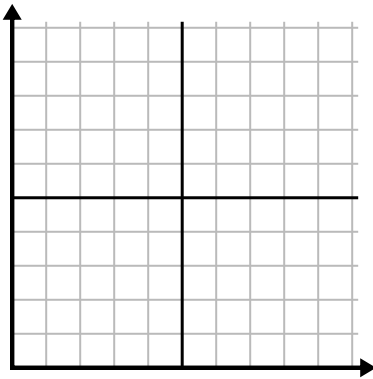
2)

Ngày	1	2	3	4	5
Nội dung đã gửi	25	35	40	15	5



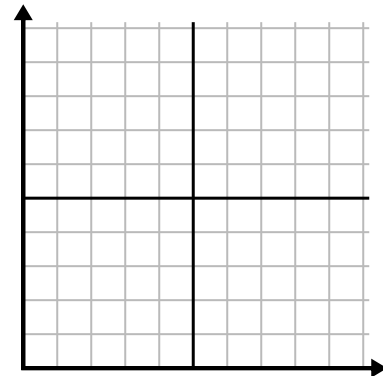
3)

Năm	1	2	3	4	5
Hộp mực được sử dụng	10	4	12	2	14



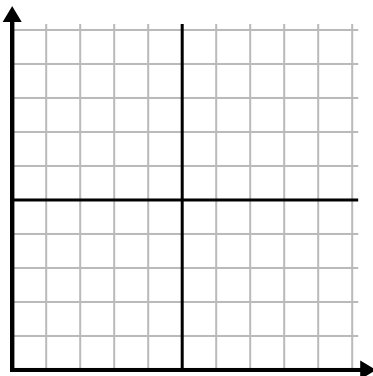
4)

Ngày	1	2	3	4	5
Video trên Youtube đã xem	120	60	300	150	30



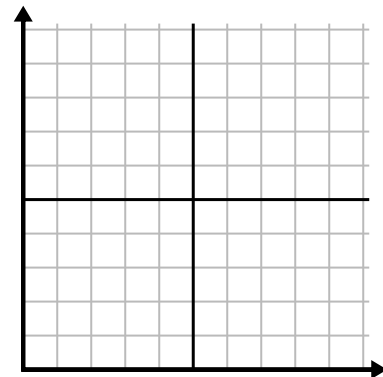
5)

Tuần	1	2	3	4	5	6	7
Nước được sử dụng (gallon)	100	50	90	10	60	80	40



6)

Ngày	1	2	3	4	5	6	7
Tiền đã tiêu	1	7	3	4	5	6	8

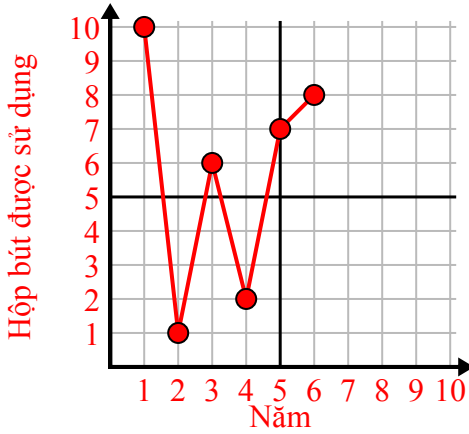




Điền vào lưới bằng cách sử dụng biểu đồ.

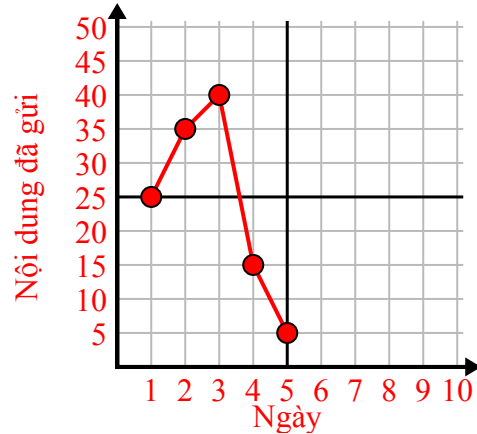
1)

Năm	1	2	3	4	5	6
Hộp bút được sử dụng	10	1	6	2	7	8



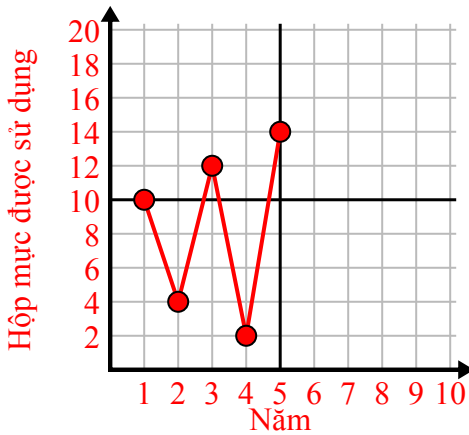
2)

Ngày	1	2	3	4	5
Nội dung đã gửi	25	35	40	15	5



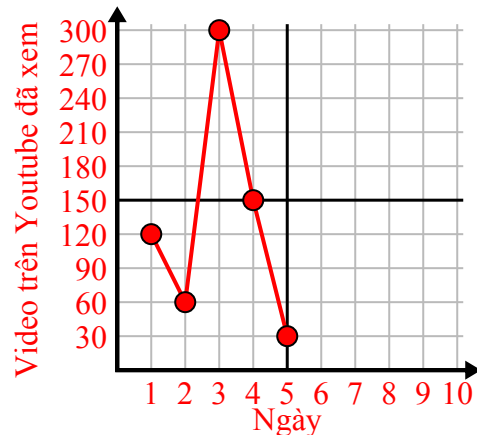
3)

Năm	1	2	3	4	5
Hộp mực được sử dụng	10	4	12	2	14



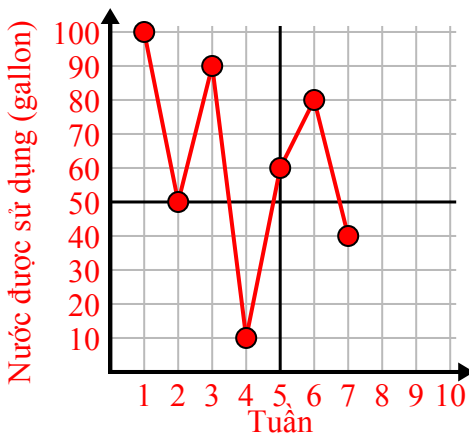
4)

Ngày	1	2	3	4	5
Video trên Youtube đã xem	120	60	300	150	30



5)

Tuần	1	2	3	4	5	6	7
Nước được sử dụng (gallon)	100	50	90	10	60	80	40



6)

Ngày	1	2	3	4	5	6	7
Tiền đã tiêu	1	7	3	4	5	6	8

