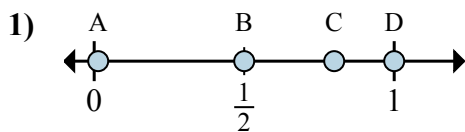


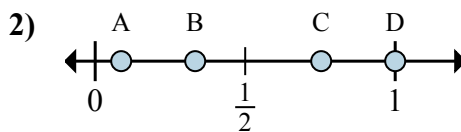


Xác định đáp án nào phù hợp nhất cho thấy vị trí của phân số.

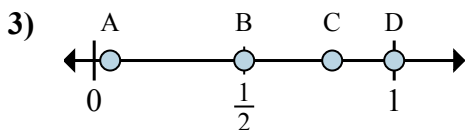
Câu trả lời



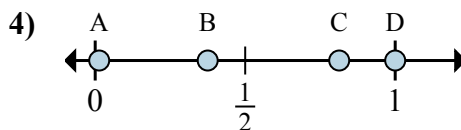
- a. Đáp án nào đúng với  $\frac{4}{4}$
- b. Đáp án nào đúng với  $\frac{2}{4}$



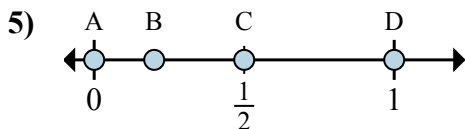
- a. Đáp án nào đúng với  $\frac{1}{3}$
- b. Đáp án nào đúng với  $\frac{3}{3}$



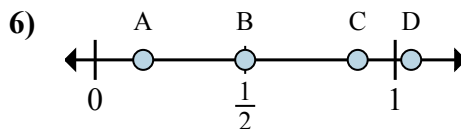
- a. Đáp án nào đúng với  $\frac{1}{2}$
- b. Đáp án nào đúng với  $\frac{2}{2}$



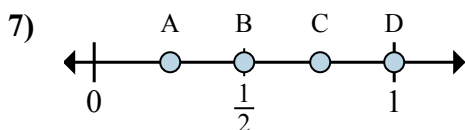
- a. Đáp án nào đúng với  $\frac{8}{8}$
- b. Đáp án nào đúng với  $\frac{3}{8}$



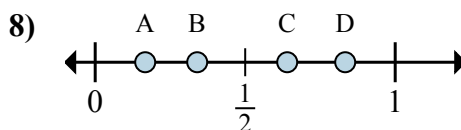
- a. Đáp án nào đúng với  $\frac{2}{2}$
- b. Đáp án nào đúng với  $\frac{1}{2}$



- a. Đáp án nào đúng với  $\frac{4}{8}$
- b. Đáp án nào đúng với  $\frac{7}{8}$



- a. Đáp án nào đúng với  $\frac{1}{2}$
- b. Đáp án nào đúng với  $\frac{2}{2}$



- a. Đáp án nào đúng với  $\frac{5}{6}$
- b. Đáp án nào đúng với  $\frac{1}{6}$

1. \_\_\_\_\_

2. \_\_\_\_\_

3. \_\_\_\_\_

4. \_\_\_\_\_

5. \_\_\_\_\_

6. \_\_\_\_\_

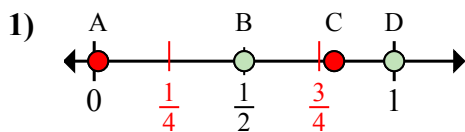
7. \_\_\_\_\_

8. \_\_\_\_\_

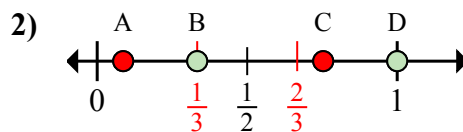


Xác định đáp án nào phù hợp nhất cho thấy vị trí của phân số.

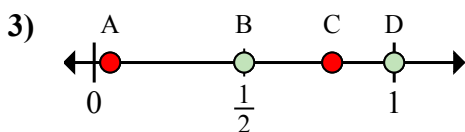
Câu trả lời



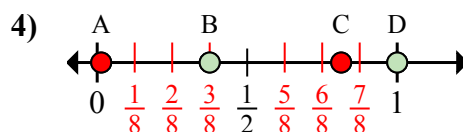
- a. Đáp án nào đúng với  $\frac{4}{4}$   
b. Đáp án nào đúng với  $\frac{2}{4}$



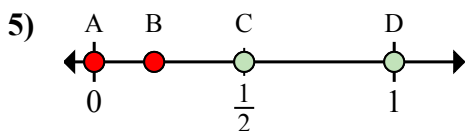
- a. Đáp án nào đúng với  $\frac{1}{3}$   
b. Đáp án nào đúng với  $\frac{3}{3}$



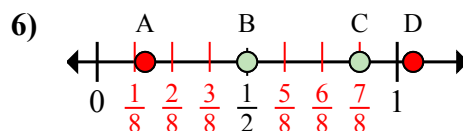
- a. Đáp án nào đúng với  $\frac{1}{2}$   
b. Đáp án nào đúng với  $\frac{2}{2}$



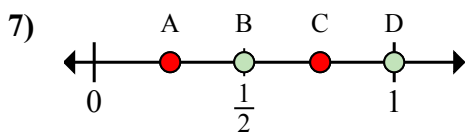
- a. Đáp án nào đúng với  $\frac{8}{8}$   
b. Đáp án nào đúng với  $\frac{3}{8}$



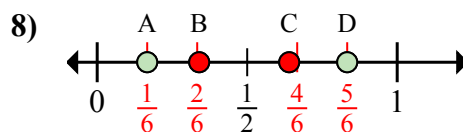
- a. Đáp án nào đúng với  $\frac{2}{2}$   
b. Đáp án nào đúng với  $\frac{1}{2}$



- a. Đáp án nào đúng với  $\frac{4}{8}$   
b. Đáp án nào đúng với  $\frac{7}{8}$



- a. Đáp án nào đúng với  $\frac{1}{2}$   
b. Đáp án nào đúng với  $\frac{2}{2}$



- a. Đáp án nào đúng với  $\frac{5}{6}$   
b. Đáp án nào đúng với  $\frac{1}{6}$

1.   D     B  

2.   B     D  

3.   B     D  

4.   D     B  

5.   D     C  

6.   B     C  

7.   B     D  

8.   D     A