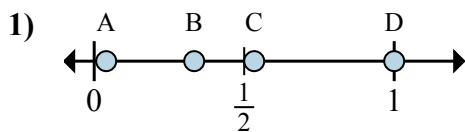


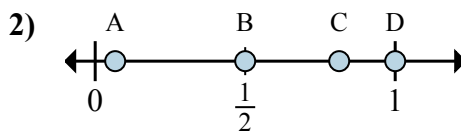


Xác định đáp án nào phù hợp nhất cho thấy vị trí của phân số.

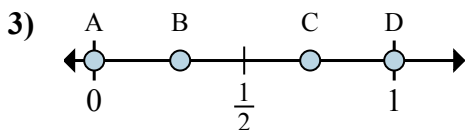
Câu trả lời



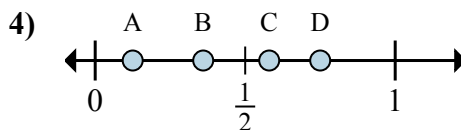
- a. Đáp án nào đúng với  $\frac{1}{3}$
- b. Đáp án nào đúng với  $\frac{3}{3}$



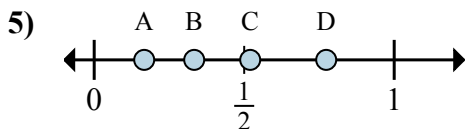
- a. Đáp án nào đúng với  $\frac{1}{2}$
- b. Đáp án nào đúng với  $\frac{2}{2}$



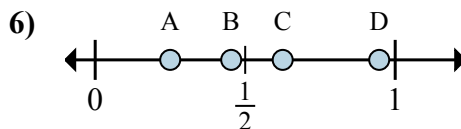
- a. Đáp án nào đúng với  $\frac{0}{6}$
- b. Đáp án nào đúng với  $\frac{6}{6}$



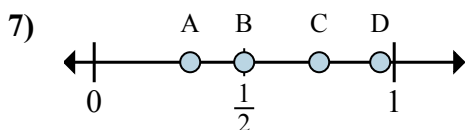
- a. Đáp án nào đúng với  $\frac{1}{8}$
- b. Đáp án nào đúng với  $\frac{6}{8}$



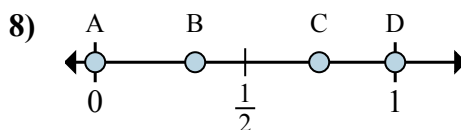
- a. Đáp án nào đúng với  $\frac{2}{6}$
- b. Đáp án nào đúng với  $\frac{1}{6}$



- a. Đáp án nào đúng với  $\frac{5}{8}$
- b. Đáp án nào đúng với  $\frac{2}{8}$



- a. Đáp án nào đúng với  $\frac{3}{4}$
- b. Đáp án nào đúng với  $\frac{2}{4}$



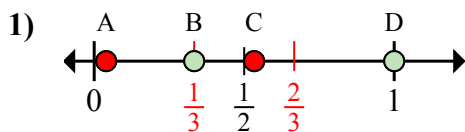
- a. Đáp án nào đúng với  $\frac{0}{6}$
- b. Đáp án nào đúng với  $\frac{6}{6}$

- 1. \_\_\_\_\_
- 2. \_\_\_\_\_
- 3. \_\_\_\_\_
- 4. \_\_\_\_\_
- 5. \_\_\_\_\_
- 6. \_\_\_\_\_
- 7. \_\_\_\_\_
- 8. \_\_\_\_\_

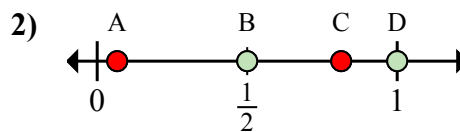


Xác định đáp án nào phù hợp nhất cho thấy vị trí của phân số.

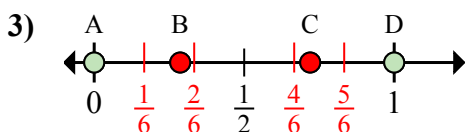
Câu trả lời



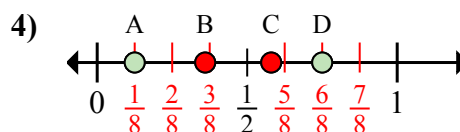
- a. Đáp án nào đúng với  $\frac{1}{3}$   
 b. Đáp án nào đúng với  $\frac{3}{3}$



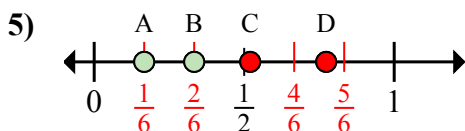
- a. Đáp án nào đúng với  $\frac{1}{2}$   
 b. Đáp án nào đúng với  $\frac{2}{2}$



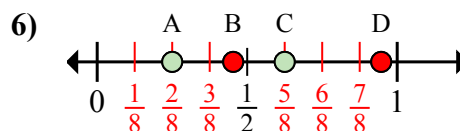
- a. Đáp án nào đúng với  $\frac{0}{6}$   
 b. Đáp án nào đúng với  $\frac{6}{6}$



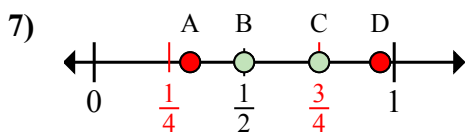
- a. Đáp án nào đúng với  $\frac{1}{8}$   
 b. Đáp án nào đúng với  $\frac{6}{8}$



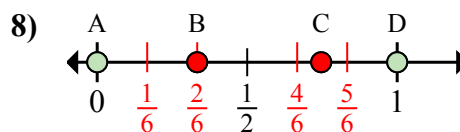
- a. Đáp án nào đúng với  $\frac{2}{6}$   
 b. Đáp án nào đúng với  $\frac{1}{6}$



- a. Đáp án nào đúng với  $\frac{5}{8}$   
 b. Đáp án nào đúng với  $\frac{2}{8}$



- a. Đáp án nào đúng với  $\frac{3}{4}$   
 b. Đáp án nào đúng với  $\frac{2}{4}$



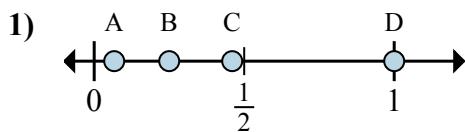
- a. Đáp án nào đúng với  $\frac{0}{6}$   
 b. Đáp án nào đúng với  $\frac{6}{6}$

1.    **B**    **D**     
 2.    **B**    **D**     
 3.    **A**    **D**     
 4.    **A**    **D**     
 5.    **B**    **A**     
 6.    **C**    **A**     
 7.    **C**    **B**     
 8.    **A**    **D**



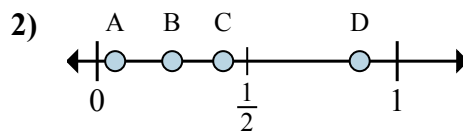
Xác định đáp án nào phù hợp nhất cho thấy vị trí của phân số.

Câu trả lời



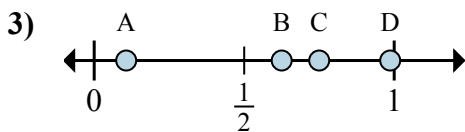
a. Đáp án nào đúng với  $\frac{4}{4}$

b. Đáp án nào đúng với  $\frac{1}{4}$



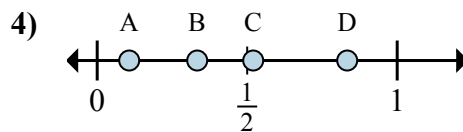
a. Đáp án nào đúng với  $\frac{7}{8}$

b. Đáp án nào đúng với  $\frac{2}{8}$



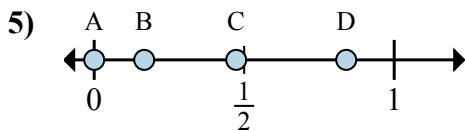
a. Đáp án nào đúng với  $\frac{5}{8}$

b. Đáp án nào đúng với  $\frac{6}{8}$



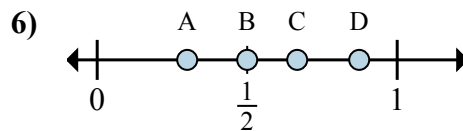
a. Đáp án nào đúng với  $\frac{5}{6}$

b. Đáp án nào đúng với  $\frac{2}{6}$



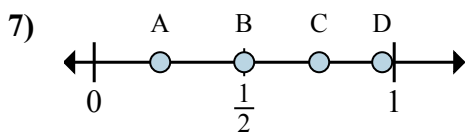
a. Đáp án nào đúng với  $\frac{0}{6}$

b. Đáp án nào đúng với  $\frac{1}{6}$



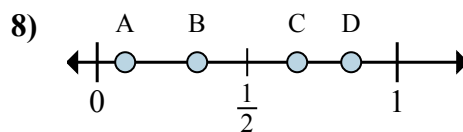
a. Đáp án nào đúng với  $\frac{3}{6}$

b. Đáp án nào đúng với  $\frac{4}{6}$



a. Đáp án nào đúng với  $\frac{3}{4}$

b. Đáp án nào đúng với  $\frac{2}{4}$



a. Đáp án nào đúng với  $\frac{2}{3}$

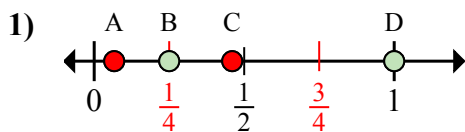
b. Đáp án nào đúng với  $\frac{1}{3}$

1. \_\_\_\_\_
2. \_\_\_\_\_
3. \_\_\_\_\_
4. \_\_\_\_\_
5. \_\_\_\_\_
6. \_\_\_\_\_
7. \_\_\_\_\_
8. \_\_\_\_\_



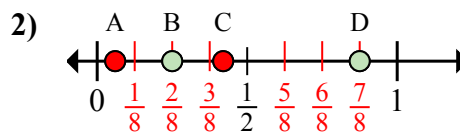
Xác định đáp án nào phù hợp nhất cho thấy vị trí của phân số.

Câu trả lời



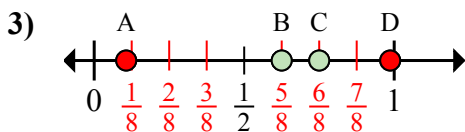
a. Đáp án nào đúng với  $\frac{4}{4}$

b. Đáp án nào đúng với  $\frac{1}{4}$



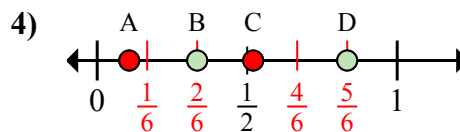
a. Đáp án nào đúng với  $\frac{7}{8}$

b. Đáp án nào đúng với  $\frac{2}{8}$



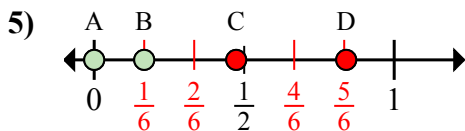
a. Đáp án nào đúng với  $\frac{5}{8}$

b. Đáp án nào đúng với  $\frac{6}{8}$



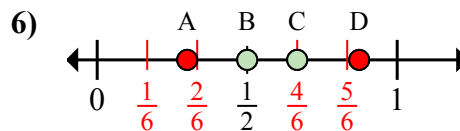
a. Đáp án nào đúng với  $\frac{5}{6}$

b. Đáp án nào đúng với  $\frac{2}{6}$



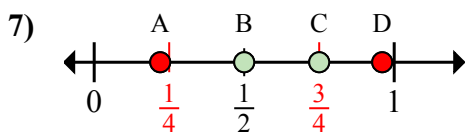
a. Đáp án nào đúng với  $\frac{0}{6}$

b. Đáp án nào đúng với  $\frac{1}{6}$



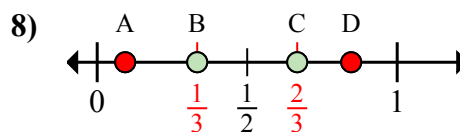
a. Đáp án nào đúng với  $\frac{3}{6}$

b. Đáp án nào đúng với  $\frac{4}{6}$



a. Đáp án nào đúng với  $\frac{3}{4}$

b. Đáp án nào đúng với  $\frac{2}{4}$



a. Đáp án nào đúng với  $\frac{2}{3}$

b. Đáp án nào đúng với  $\frac{1}{3}$

1. D B

2. D B

3. B C

4. D B

5. A B

6. B C

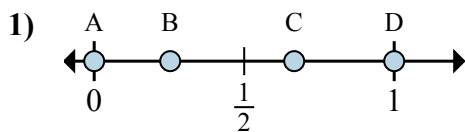
7. C B

8. C B



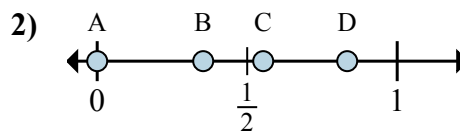
Xác định đáp án nào phù hợp nhất cho thấy vị trí của phân số.

Câu trả lời



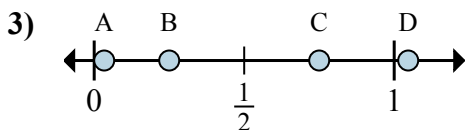
a. Đáp án nào đúng với  $\frac{0}{3}$

b. Đáp án nào đúng với  $\frac{2}{3}$



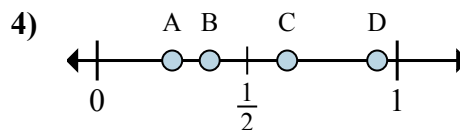
a. Đáp án nào đúng với  $\frac{0}{6}$

b. Đáp án nào đúng với  $\frac{5}{6}$



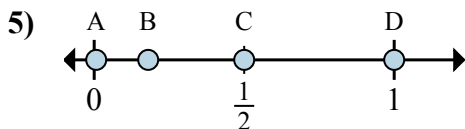
a. Đáp án nào đúng với  $\frac{3}{4}$

b. Đáp án nào đúng với  $\frac{1}{4}$



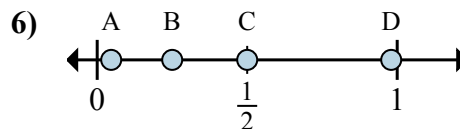
a. Đáp án nào đúng với  $\frac{2}{8}$

b. Đáp án nào đúng với  $\frac{3}{8}$



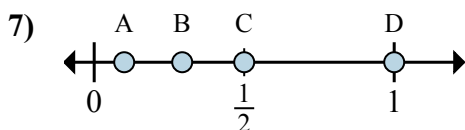
a. Đáp án nào đúng với  $\frac{2}{4}$

b. Đáp án nào đúng với  $\frac{4}{4}$



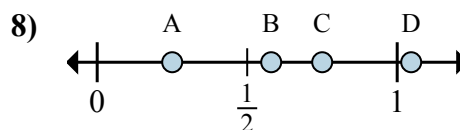
a. Đáp án nào đúng với  $\frac{1}{4}$

b. Đáp án nào đúng với  $\frac{2}{4}$



a. Đáp án nào đúng với  $\frac{1}{2}$

b. Đáp án nào đúng với  $\frac{2}{2}$



a. Đáp án nào đúng với  $\frac{1}{4}$

b. Đáp án nào đúng với  $\frac{3}{4}$

1. \_\_\_\_\_

2. \_\_\_\_\_

3. \_\_\_\_\_

4. \_\_\_\_\_

5. \_\_\_\_\_

6. \_\_\_\_\_

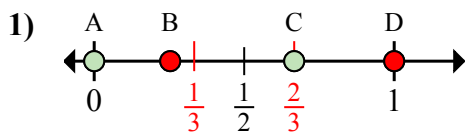
7. \_\_\_\_\_

8. \_\_\_\_\_



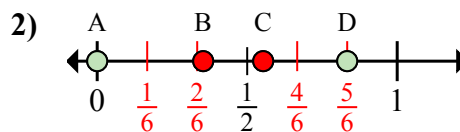
Xác định đáp án nào phù hợp nhất cho thấy vị trí của phân số.

Câu trả lời



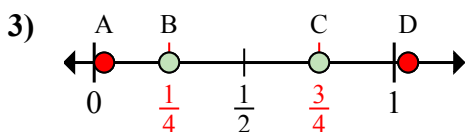
a. Đáp án nào đúng với  $\frac{0}{3}$

b. Đáp án nào đúng với  $\frac{2}{3}$



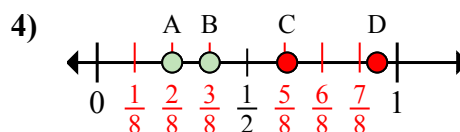
a. Đáp án nào đúng với  $\frac{0}{6}$

b. Đáp án nào đúng với  $\frac{5}{6}$



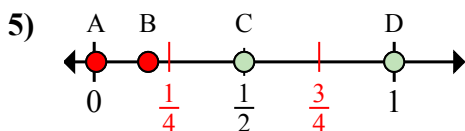
a. Đáp án nào đúng với  $\frac{3}{4}$

b. Đáp án nào đúng với  $\frac{1}{4}$



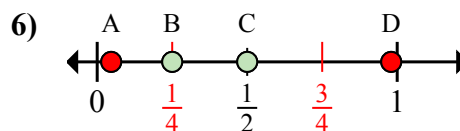
a. Đáp án nào đúng với  $\frac{2}{8}$

b. Đáp án nào đúng với  $\frac{3}{8}$



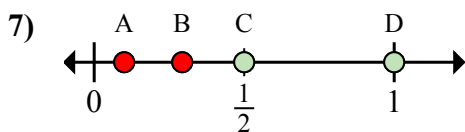
a. Đáp án nào đúng với  $\frac{2}{4}$

b. Đáp án nào đúng với  $\frac{4}{4}$



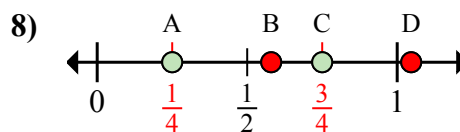
a. Đáp án nào đúng với  $\frac{1}{4}$

b. Đáp án nào đúng với  $\frac{2}{4}$



a. Đáp án nào đúng với  $\frac{1}{2}$

b. Đáp án nào đúng với  $\frac{2}{2}$



a. Đáp án nào đúng với  $\frac{1}{4}$

b. Đáp án nào đúng với  $\frac{3}{4}$

1. A C

2. A D

3. C B

4. A B

5. C D

6. B C

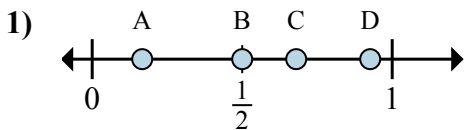
7. C D

8. A C

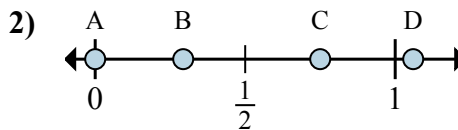


Xác định đáp án nào phù hợp nhất cho thấy vị trí của phân số.

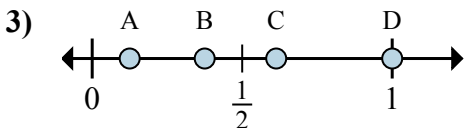
Câu trả lời



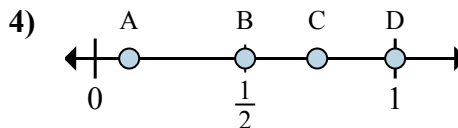
- a. Đáp án nào đúng với  $\frac{1}{6}$
- b. Đáp án nào đúng với  $\frac{3}{6}$



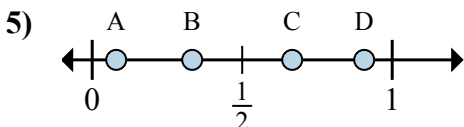
- a. Đáp án nào đúng với  $\frac{0}{4}$
- b. Đáp án nào đúng với  $\frac{3}{4}$



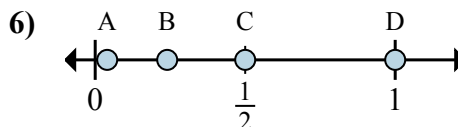
- a. Đáp án nào đúng với  $\frac{1}{8}$
- b. Đáp án nào đúng với  $\frac{3}{8}$



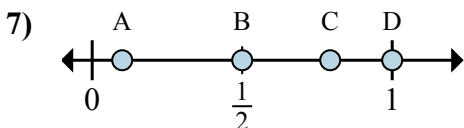
- a. Đáp án nào đúng với  $\frac{2}{2}$
- b. Đáp án nào đúng với  $\frac{1}{2}$



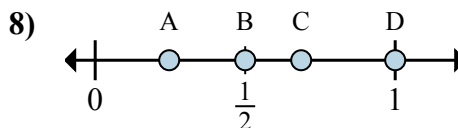
- a. Đáp án nào đúng với  $\frac{1}{3}$
- b. Đáp án nào đúng với  $\frac{2}{3}$



- a. Đáp án nào đúng với  $\frac{2}{2}$
- b. Đáp án nào đúng với  $\frac{1}{2}$



- a. Đáp án nào đúng với  $\frac{1}{2}$
- b. Đáp án nào đúng với  $\frac{2}{2}$



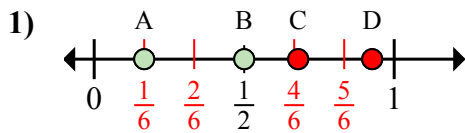
- a. Đáp án nào đúng với  $\frac{1}{2}$
- b. Đáp án nào đúng với  $\frac{2}{2}$

- 1. \_\_\_\_\_
- 2. \_\_\_\_\_
- 3. \_\_\_\_\_
- 4. \_\_\_\_\_
- 5. \_\_\_\_\_
- 6. \_\_\_\_\_
- 7. \_\_\_\_\_
- 8. \_\_\_\_\_



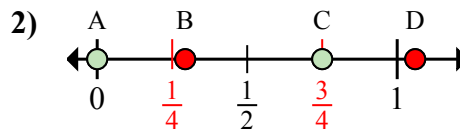
Xác định đáp án nào phù hợp nhất cho thấy vị trí của phân số.

Câu trả lời



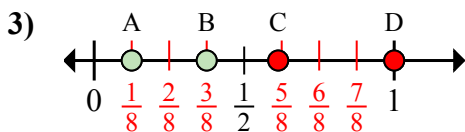
a. Đáp án nào đúng với  $\frac{1}{6}$

b. Đáp án nào đúng với  $\frac{3}{6}$



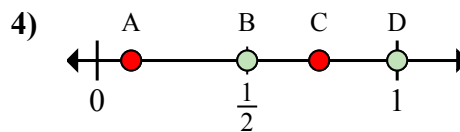
a. Đáp án nào đúng với  $\frac{0}{4}$

b. Đáp án nào đúng với  $\frac{3}{4}$



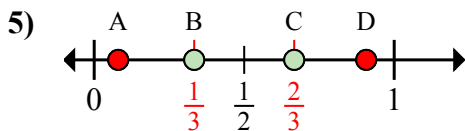
a. Đáp án nào đúng với  $\frac{1}{8}$

b. Đáp án nào đúng với  $\frac{3}{8}$



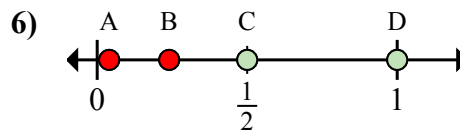
a. Đáp án nào đúng với  $\frac{2}{2}$

b. Đáp án nào đúng với  $\frac{1}{2}$



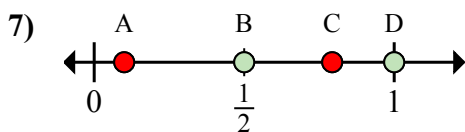
a. Đáp án nào đúng với  $\frac{1}{3}$

b. Đáp án nào đúng với  $\frac{2}{3}$



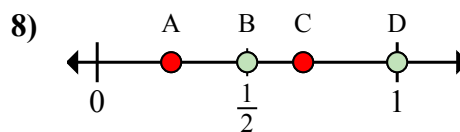
a. Đáp án nào đúng với  $\frac{2}{2}$

b. Đáp án nào đúng với  $\frac{1}{2}$



a. Đáp án nào đúng với  $\frac{1}{2}$

b. Đáp án nào đúng với  $\frac{2}{2}$



a. Đáp án nào đúng với  $\frac{1}{2}$

b. Đáp án nào đúng với  $\frac{2}{2}$

1. A B

2. A C

3. A B

4. D B

5. B C

6. D C

7. B D

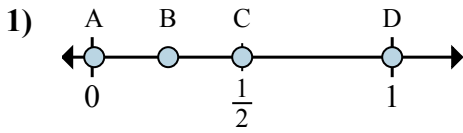
8. B D



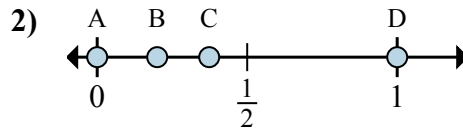


Xác định đáp án nào phù hợp nhất cho thấy vị trí của phân số.

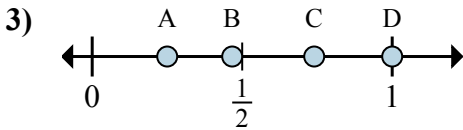
Câu trả lời



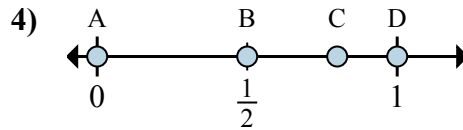
- a. Đáp án nào đúng với  $\frac{6}{6}$
- b. Đáp án nào đúng với  $\frac{3}{6}$



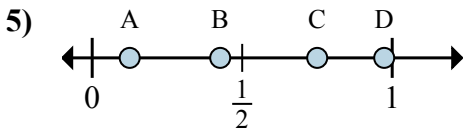
- a. Đáp án nào đúng với  $\frac{0}{2}$
- b. Đáp án nào đúng với  $\frac{2}{2}$



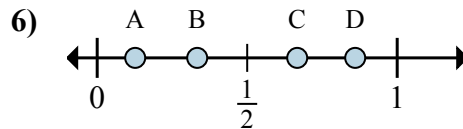
- a. Đáp án nào đúng với  $\frac{1}{4}$
- b. Đáp án nào đúng với  $\frac{4}{4}$



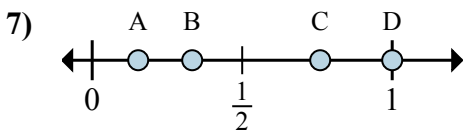
- a. Đáp án nào đúng với  $\frac{0}{3}$
- b. Đáp án nào đúng với  $\frac{3}{3}$



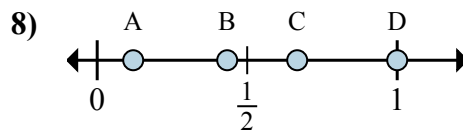
- a. Đáp án nào đúng với  $\frac{1}{8}$
- b. Đáp án nào đúng với  $\frac{6}{8}$



- a. Đáp án nào đúng với  $\frac{2}{3}$
- b. Đáp án nào đúng với  $\frac{1}{3}$



- a. Đáp án nào đúng với  $\frac{1}{3}$
- b. Đáp án nào đúng với  $\frac{3}{3}$



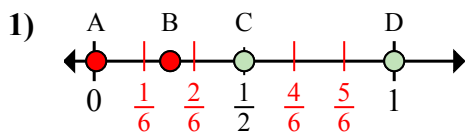
- a. Đáp án nào đúng với  $\frac{3}{3}$
- b. Đáp án nào đúng với  $\frac{2}{3}$

- 1. \_\_\_\_\_
- 2. \_\_\_\_\_
- 3. \_\_\_\_\_
- 4. \_\_\_\_\_
- 5. \_\_\_\_\_
- 6. \_\_\_\_\_
- 7. \_\_\_\_\_
- 8. \_\_\_\_\_



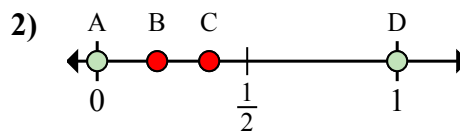
Xác định đáp án nào phù hợp nhất cho thấy vị trí của phân số.

Câu trả lời



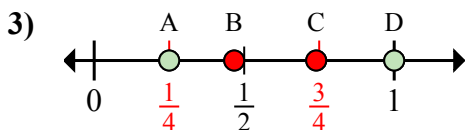
a. Đáp án nào đúng với  $\frac{6}{6}$

b. Đáp án nào đúng với  $\frac{3}{6}$



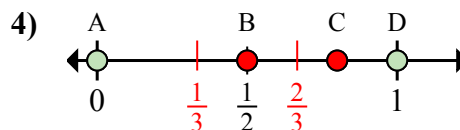
a. Đáp án nào đúng với  $\frac{0}{2}$

b. Đáp án nào đúng với  $\frac{2}{2}$



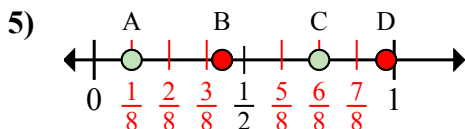
a. Đáp án nào đúng với  $\frac{1}{4}$

b. Đáp án nào đúng với  $\frac{4}{4}$



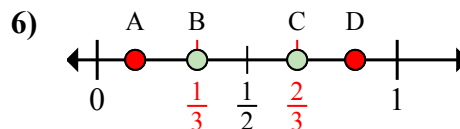
a. Đáp án nào đúng với  $\frac{0}{3}$

b. Đáp án nào đúng với  $\frac{3}{3}$



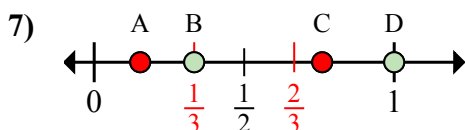
a. Đáp án nào đúng với  $\frac{1}{8}$

b. Đáp án nào đúng với  $\frac{6}{8}$



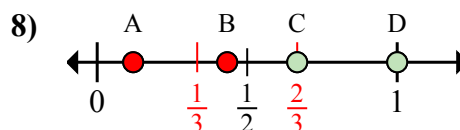
a. Đáp án nào đúng với  $\frac{2}{3}$

b. Đáp án nào đúng với  $\frac{1}{3}$



a. Đáp án nào đúng với  $\frac{1}{3}$

b. Đáp án nào đúng với  $\frac{3}{3}$



a. Đáp án nào đúng với  $\frac{3}{3}$

b. Đáp án nào đúng với  $\frac{2}{3}$

1.   D     C  

2.   A     D  

3.   A     D  

4.   A     D  

5.   A     C  

6.   C     B  

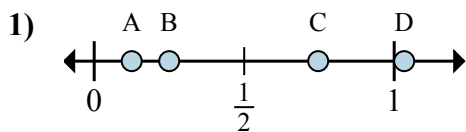
7.   B     D  

8.   D     C

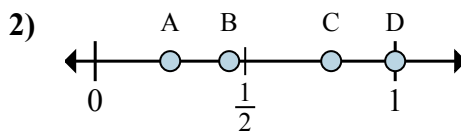


Xác định đáp án nào phù hợp nhất cho thấy vị trí của phân số.

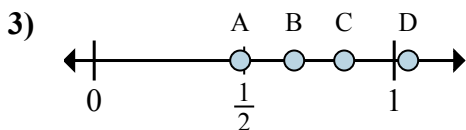
Câu trả lời



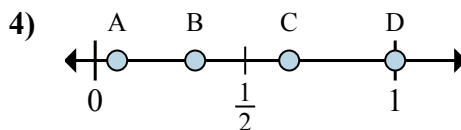
- a. Đáp án nào đúng với  $\frac{1}{8}$
- b. Đáp án nào đúng với  $\frac{2}{8}$



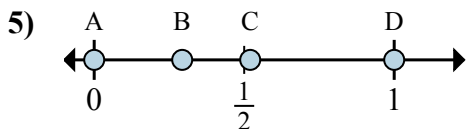
- a. Đáp án nào đúng với  $\frac{4}{4}$
- b. Đáp án nào đúng với  $\frac{1}{4}$



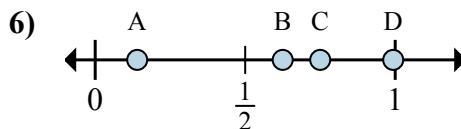
- a. Đáp án nào đúng với  $\frac{5}{6}$
- b. Đáp án nào đúng với  $\frac{4}{6}$



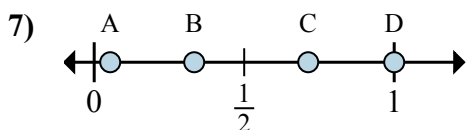
- a. Đáp án nào đúng với  $\frac{3}{3}$
- b. Đáp án nào đúng với  $\frac{1}{3}$



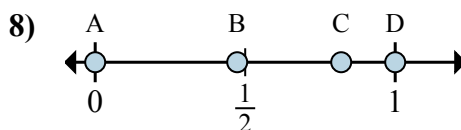
- a. Đáp án nào đúng với  $\frac{0}{2}$
- b. Đáp án nào đúng với  $\frac{2}{2}$



- a. Đáp án nào đúng với  $\frac{6}{8}$
- b. Đáp án nào đúng với  $\frac{5}{8}$



- a. Đáp án nào đúng với  $\frac{1}{3}$
- b. Đáp án nào đúng với  $\frac{3}{3}$



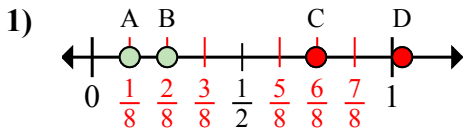
- a. Đáp án nào đúng với  $\frac{0}{2}$
- b. Đáp án nào đúng với  $\frac{2}{2}$

- 1. \_\_\_\_\_
- 2. \_\_\_\_\_
- 3. \_\_\_\_\_
- 4. \_\_\_\_\_
- 5. \_\_\_\_\_
- 6. \_\_\_\_\_
- 7. \_\_\_\_\_
- 8. \_\_\_\_\_

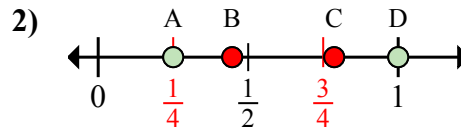


Xác định đáp án nào phù hợp nhất cho thấy vị trí của phân số.

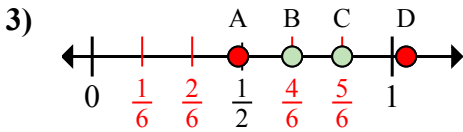
Câu trả lời



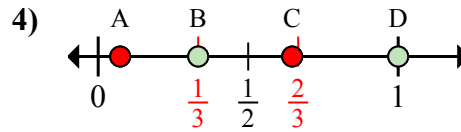
- a. Đáp án nào đúng với  $\frac{1}{8}$   
b. Đáp án nào đúng với  $\frac{2}{8}$



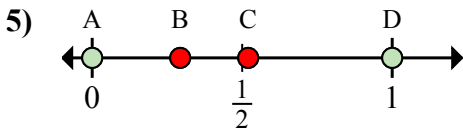
- a. Đáp án nào đúng với  $\frac{4}{4}$   
b. Đáp án nào đúng với  $\frac{1}{4}$



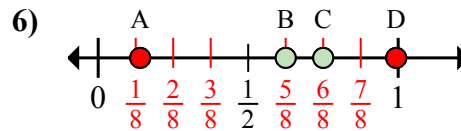
- a. Đáp án nào đúng với  $\frac{5}{6}$   
b. Đáp án nào đúng với  $\frac{4}{6}$



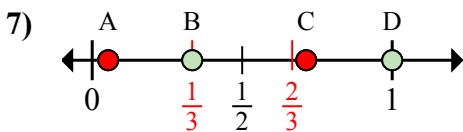
- a. Đáp án nào đúng với  $\frac{3}{3}$   
b. Đáp án nào đúng với  $\frac{1}{3}$



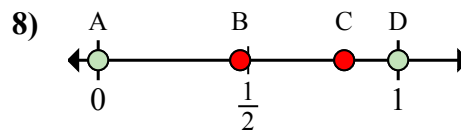
- a. Đáp án nào đúng với  $\frac{0}{2}$   
b. Đáp án nào đúng với  $\frac{2}{2}$



- a. Đáp án nào đúng với  $\frac{6}{8}$   
b. Đáp án nào đúng với  $\frac{5}{8}$



- a. Đáp án nào đúng với  $\frac{1}{3}$   
b. Đáp án nào đúng với  $\frac{3}{3}$



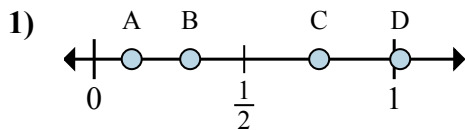
- a. Đáp án nào đúng với  $\frac{0}{2}$   
b. Đáp án nào đúng với  $\frac{2}{2}$

1. A B
2. D A
3. C B
4. D B
5. A D
6. C B
7. B D
8. A D

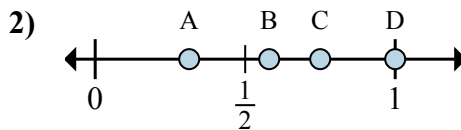


Xác định đáp án nào phù hợp nhất cho thấy vị trí của phân số.

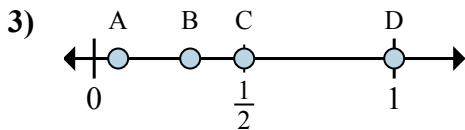
Câu trả lời



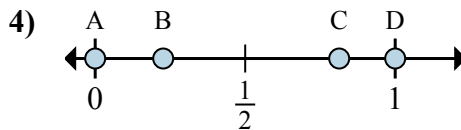
- a. Đáp án nào đúng với  $\frac{1}{8}$
- b. Đáp án nào đúng với  $\frac{6}{8}$



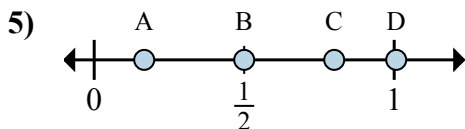
- a. Đáp án nào đúng với  $\frac{3}{4}$
- b. Đáp án nào đúng với  $\frac{4}{4}$



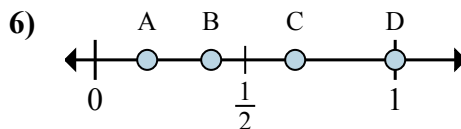
- a. Đáp án nào đúng với  $\frac{8}{8}$
- b. Đáp án nào đúng với  $\frac{4}{8}$



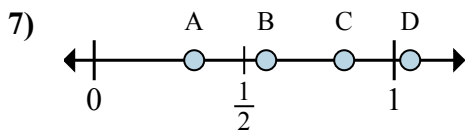
- a. Đáp án nào đúng với  $\frac{0}{2}$
- b. Đáp án nào đúng với  $\frac{2}{2}$



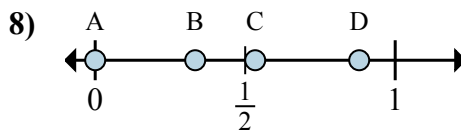
- a. Đáp án nào đúng với  $\frac{1}{6}$
- b. Đáp án nào đúng với  $\frac{3}{6}$



- a. Đáp án nào đúng với  $\frac{2}{3}$
- b. Đáp án nào đúng với  $\frac{3}{3}$



- a. Đáp án nào đúng với  $\frac{5}{6}$
- b. Đáp án nào đúng với  $\frac{2}{6}$



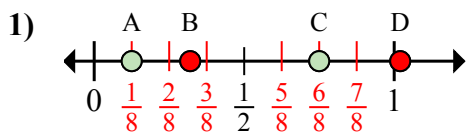
- a. Đáp án nào đúng với  $\frac{0}{3}$
- b. Đáp án nào đúng với  $\frac{1}{3}$

- 1. \_\_\_\_\_
- 2. \_\_\_\_\_
- 3. \_\_\_\_\_
- 4. \_\_\_\_\_
- 5. \_\_\_\_\_
- 6. \_\_\_\_\_
- 7. \_\_\_\_\_
- 8. \_\_\_\_\_

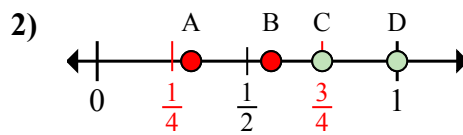


Xác định đáp án nào phù hợp nhất cho thấy vị trí của phân số.

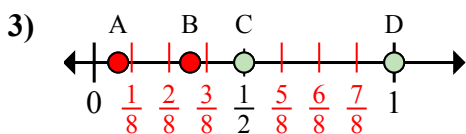
Câu trả lời



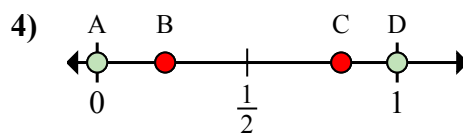
- a. Đáp án nào đúng với  $\frac{1}{8}$   
 b. Đáp án nào đúng với  $\frac{6}{8}$



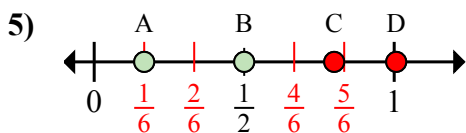
- a. Đáp án nào đúng với  $\frac{3}{4}$   
 b. Đáp án nào đúng với  $\frac{4}{4}$



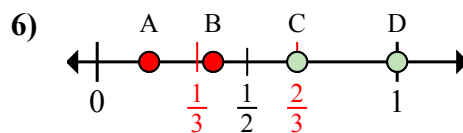
- a. Đáp án nào đúng với  $\frac{8}{8}$   
 b. Đáp án nào đúng với  $\frac{4}{8}$



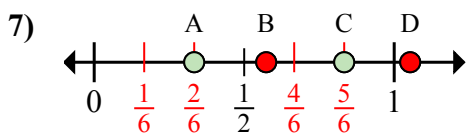
- a. Đáp án nào đúng với  $\frac{0}{2}$   
 b. Đáp án nào đúng với  $\frac{2}{2}$



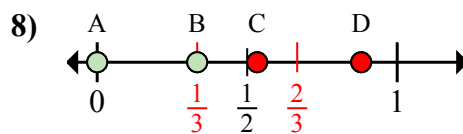
- a. Đáp án nào đúng với  $\frac{1}{6}$   
 b. Đáp án nào đúng với  $\frac{3}{6}$



- a. Đáp án nào đúng với  $\frac{2}{3}$   
 b. Đáp án nào đúng với  $\frac{3}{3}$



- a. Đáp án nào đúng với  $\frac{5}{6}$   
 b. Đáp án nào đúng với  $\frac{2}{6}$



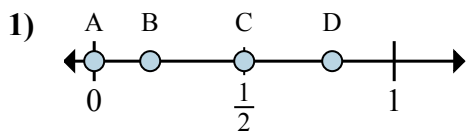
- a. Đáp án nào đúng với  $\frac{0}{3}$   
 b. Đáp án nào đúng với  $\frac{1}{3}$

1. A C  
 2. C D  
 3. D C  
 4. A D  
 5. A B  
 6. C D  
 7. C A  
 8. A B



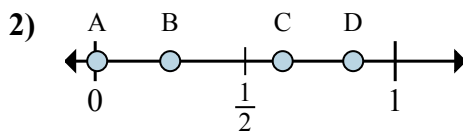
Xác định đáp án nào phù hợp nhất cho thấy vị trí của phân số.

Câu trả lời



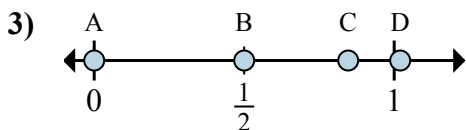
a. Đáp án nào đúng với  $\frac{0}{2}$

b. Đáp án nào đúng với  $\frac{1}{2}$



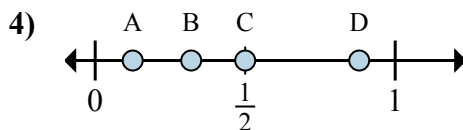
a. Đáp án nào đúng với  $\frac{2}{8}$

b. Đáp án nào đúng với  $\frac{5}{8}$



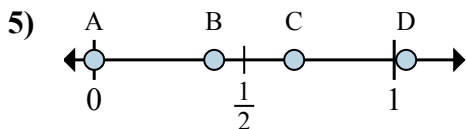
a. Đáp án nào đúng với  $\frac{0}{6}$

b. Đáp án nào đúng với  $\frac{3}{6}$



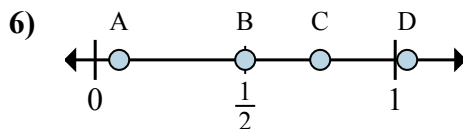
a. Đáp án nào đúng với  $\frac{1}{8}$

b. Đáp án nào đúng với  $\frac{4}{8}$



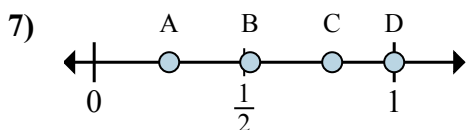
a. Đáp án nào đúng với  $\frac{0}{3}$

b. Đáp án nào đúng với  $\frac{2}{3}$



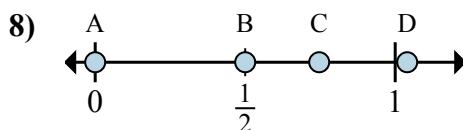
a. Đáp án nào đúng với  $\frac{2}{4}$

b. Đáp án nào đúng với  $\frac{3}{4}$



a. Đáp án nào đúng với  $\frac{1}{4}$

b. Đáp án nào đúng với  $\frac{4}{4}$



a. Đáp án nào đúng với  $\frac{0}{2}$

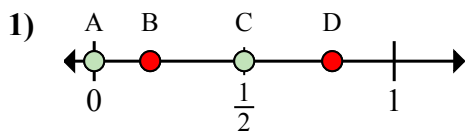
b. Đáp án nào đúng với  $\frac{1}{2}$

1. \_\_\_\_\_
2. \_\_\_\_\_
3. \_\_\_\_\_
4. \_\_\_\_\_
5. \_\_\_\_\_
6. \_\_\_\_\_
7. \_\_\_\_\_
8. \_\_\_\_\_



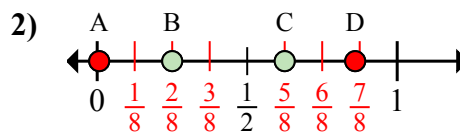
Xác định đáp án nào phù hợp nhất cho thấy vị trí của phân số.

Câu trả lời



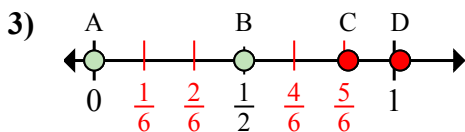
a. Đáp án nào đúng với  $\frac{0}{2}$

b. Đáp án nào đúng với  $\frac{1}{2}$



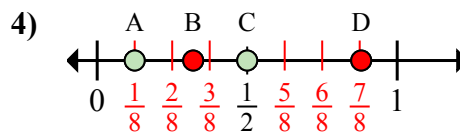
a. Đáp án nào đúng với  $\frac{2}{8}$

b. Đáp án nào đúng với  $\frac{5}{8}$



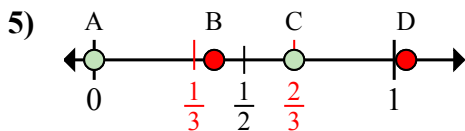
a. Đáp án nào đúng với  $\frac{0}{6}$

b. Đáp án nào đúng với  $\frac{3}{6}$



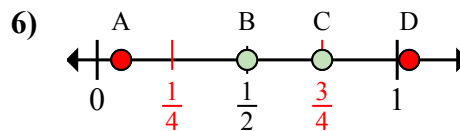
a. Đáp án nào đúng với  $\frac{1}{8}$

b. Đáp án nào đúng với  $\frac{4}{8}$



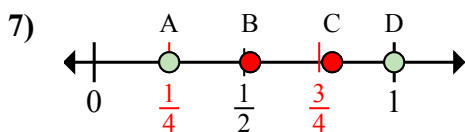
a. Đáp án nào đúng với  $\frac{0}{3}$

b. Đáp án nào đúng với  $\frac{2}{3}$



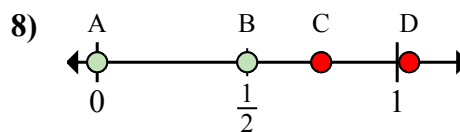
a. Đáp án nào đúng với  $\frac{2}{4}$

b. Đáp án nào đúng với  $\frac{3}{4}$



a. Đáp án nào đúng với  $\frac{1}{4}$

b. Đáp án nào đúng với  $\frac{4}{4}$



a. Đáp án nào đúng với  $\frac{0}{2}$

b. Đáp án nào đúng với  $\frac{1}{2}$

1. A C

2. B C

3. A B

4. A C

5. A C

6. B C

7. A D

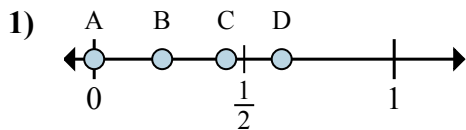
8. A B





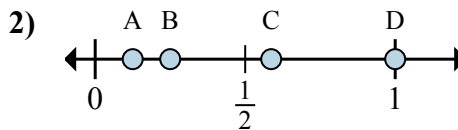
Xác định đáp án nào phù hợp nhất cho thấy vị trí của phân số.

Câu trả lời



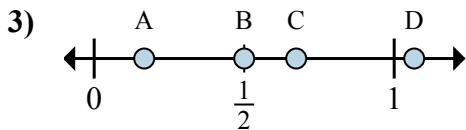
a. Đáp án nào đúng với  $\frac{0}{8}$

b. Đáp án nào đúng với  $\frac{5}{8}$



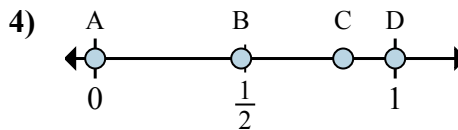
a. Đáp án nào đúng với  $\frac{1}{8}$

b. Đáp án nào đúng với  $\frac{2}{8}$



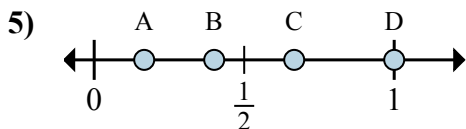
a. Đáp án nào đúng với  $\frac{1}{6}$

b. Đáp án nào đúng với  $\frac{3}{6}$



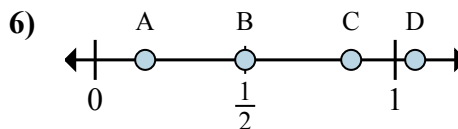
a. Đáp án nào đúng với  $\frac{0}{2}$

b. Đáp án nào đúng với  $\frac{2}{2}$



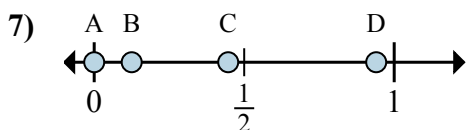
a. Đáp án nào đúng với  $\frac{3}{3}$

b. Đáp án nào đúng với  $\frac{2}{3}$



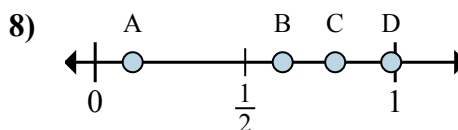
a. Đáp án nào đúng với  $\frac{3}{6}$

b. Đáp án nào đúng với  $\frac{1}{6}$



a. Đáp án nào đúng với  $\frac{0}{8}$

b. Đáp án nào đúng với  $\frac{1}{8}$



a. Đáp án nào đúng với  $\frac{5}{8}$

b. Đáp án nào đúng với  $\frac{1}{8}$

1. \_\_\_\_\_

2. \_\_\_\_\_

3. \_\_\_\_\_

4. \_\_\_\_\_

5. \_\_\_\_\_

6. \_\_\_\_\_

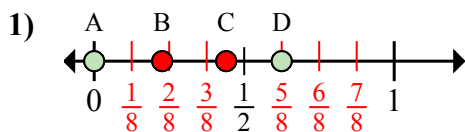
7. \_\_\_\_\_

8. \_\_\_\_\_



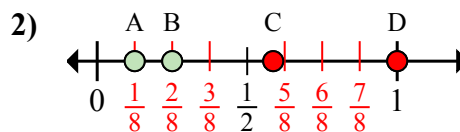
Xác định đáp án nào phù hợp nhất cho thấy vị trí của phân số.

Câu trả lời



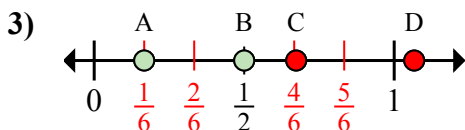
a. Đáp án nào đúng với  $\frac{0}{8}$

b. Đáp án nào đúng với  $\frac{5}{8}$



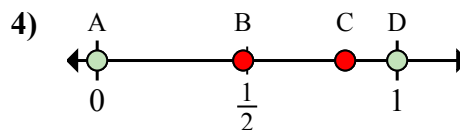
a. Đáp án nào đúng với  $\frac{1}{8}$

b. Đáp án nào đúng với  $\frac{2}{8}$



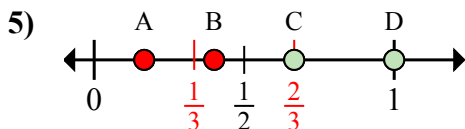
a. Đáp án nào đúng với  $\frac{1}{6}$

b. Đáp án nào đúng với  $\frac{3}{6}$



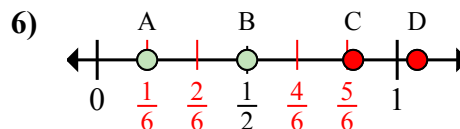
a. Đáp án nào đúng với  $\frac{0}{2}$

b. Đáp án nào đúng với  $\frac{2}{2}$



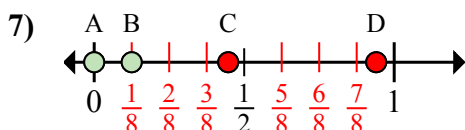
a. Đáp án nào đúng với  $\frac{3}{3}$

b. Đáp án nào đúng với  $\frac{2}{3}$



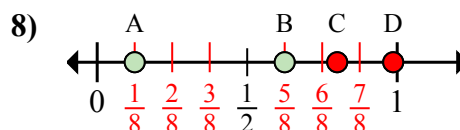
a. Đáp án nào đúng với  $\frac{3}{6}$

b. Đáp án nào đúng với  $\frac{1}{6}$



a. Đáp án nào đúng với  $\frac{0}{8}$

b. Đáp án nào đúng với  $\frac{1}{8}$



a. Đáp án nào đúng với  $\frac{5}{8}$

b. Đáp án nào đúng với  $\frac{1}{8}$

1. A D

2. A B

3. A B

4. A D

5. D C

6. B A

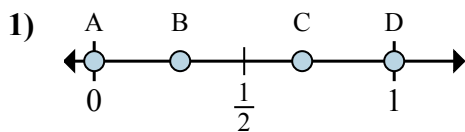
7. A B

8. B A



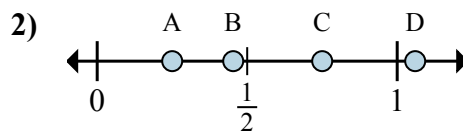
Xác định đáp án nào phù hợp nhất cho thấy vị trí của phân số.

Câu trả lời



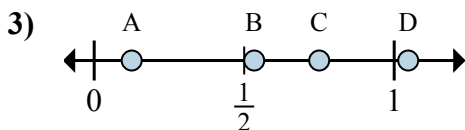
a. Đáp án nào đúng với  $\frac{0}{2}$

b. Đáp án nào đúng với  $\frac{2}{2}$



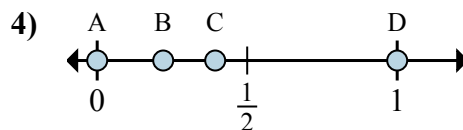
a. Đáp án nào đúng với  $\frac{1}{4}$

b. Đáp án nào đúng với  $\frac{3}{4}$



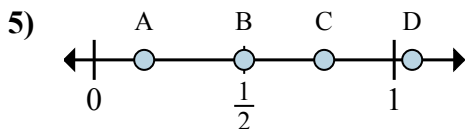
a. Đáp án nào đúng với  $\frac{6}{8}$

b. Đáp án nào đúng với  $\frac{1}{8}$



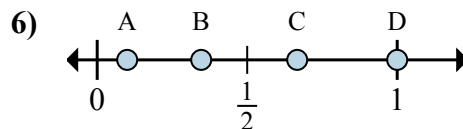
a. Đáp án nào đúng với  $\frac{0}{2}$

b. Đáp án nào đúng với  $\frac{2}{2}$



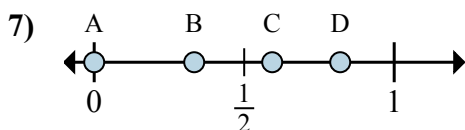
a. Đáp án nào đúng với  $\frac{3}{6}$

b. Đáp án nào đúng với  $\frac{1}{6}$



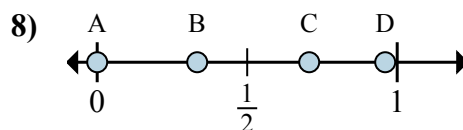
a. Đáp án nào đúng với  $\frac{2}{3}$

b. Đáp án nào đúng với  $\frac{3}{3}$



a. Đáp án nào đúng với  $\frac{0}{3}$

b. Đáp án nào đúng với  $\frac{1}{3}$



a. Đáp án nào đúng với  $\frac{0}{6}$

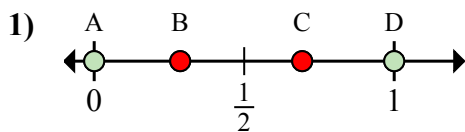
b. Đáp án nào đúng với  $\frac{2}{6}$

1. \_\_\_\_\_
2. \_\_\_\_\_
3. \_\_\_\_\_
4. \_\_\_\_\_
5. \_\_\_\_\_
6. \_\_\_\_\_
7. \_\_\_\_\_
8. \_\_\_\_\_



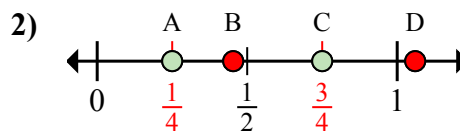
Xác định đáp án nào phù hợp nhất cho thấy vị trí của phân số.

Câu trả lời



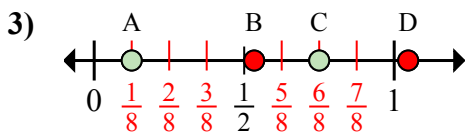
a. Đáp án nào đúng với  $\frac{0}{2}$

b. Đáp án nào đúng với  $\frac{2}{2}$



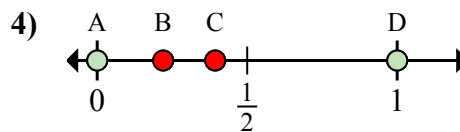
a. Đáp án nào đúng với  $\frac{1}{4}$

b. Đáp án nào đúng với  $\frac{3}{4}$



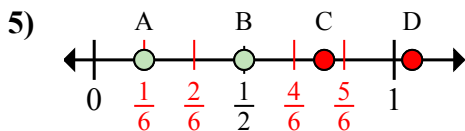
a. Đáp án nào đúng với  $\frac{6}{8}$

b. Đáp án nào đúng với  $\frac{1}{8}$



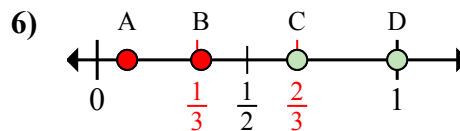
a. Đáp án nào đúng với  $\frac{0}{2}$

b. Đáp án nào đúng với  $\frac{2}{2}$



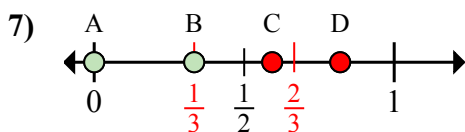
a. Đáp án nào đúng với  $\frac{3}{6}$

b. Đáp án nào đúng với  $\frac{1}{6}$



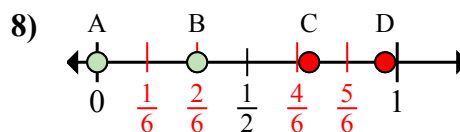
a. Đáp án nào đúng với  $\frac{2}{3}$

b. Đáp án nào đúng với  $\frac{3}{3}$



a. Đáp án nào đúng với  $\frac{0}{3}$

b. Đáp án nào đúng với  $\frac{1}{3}$



a. Đáp án nào đúng với  $\frac{0}{6}$

b. Đáp án nào đúng với  $\frac{2}{6}$

1. A D

2. A C

3. C A

4. A D

5. B A

6. C D

7. A B

8. A B