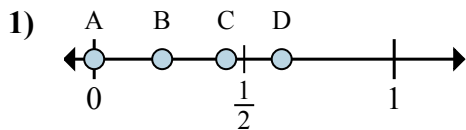




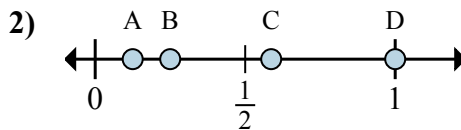
Xác định đáp án nào phù hợp nhất cho thấy vị trí của phân số.

Câu trả lời



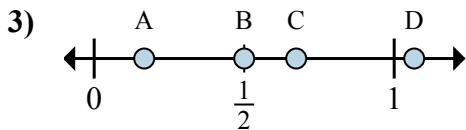
a. Đáp án nào đúng với  $\frac{0}{8}$

b. Đáp án nào đúng với  $\frac{5}{8}$



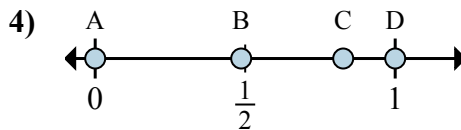
a. Đáp án nào đúng với  $\frac{1}{8}$

b. Đáp án nào đúng với  $\frac{2}{8}$



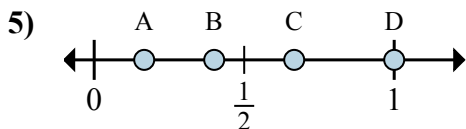
a. Đáp án nào đúng với  $\frac{1}{6}$

b. Đáp án nào đúng với  $\frac{3}{6}$



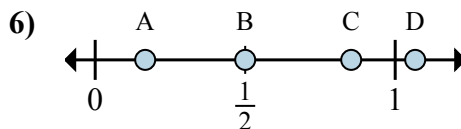
a. Đáp án nào đúng với  $\frac{0}{2}$

b. Đáp án nào đúng với  $\frac{2}{2}$



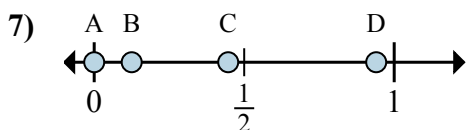
a. Đáp án nào đúng với  $\frac{3}{3}$

b. Đáp án nào đúng với  $\frac{2}{3}$



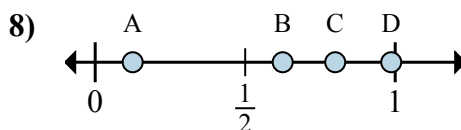
a. Đáp án nào đúng với  $\frac{3}{6}$

b. Đáp án nào đúng với  $\frac{1}{6}$



a. Đáp án nào đúng với  $\frac{0}{8}$

b. Đáp án nào đúng với  $\frac{1}{8}$



a. Đáp án nào đúng với  $\frac{5}{8}$

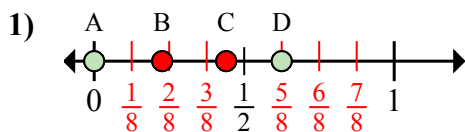
b. Đáp án nào đúng với  $\frac{1}{8}$

1. \_\_\_\_\_
2. \_\_\_\_\_
3. \_\_\_\_\_
4. \_\_\_\_\_
5. \_\_\_\_\_
6. \_\_\_\_\_
7. \_\_\_\_\_
8. \_\_\_\_\_



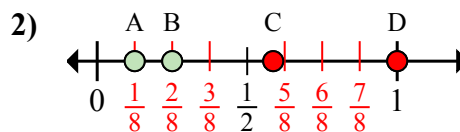
Xác định đáp án nào phù hợp nhất cho thấy vị trí của phân số.

Câu trả lời



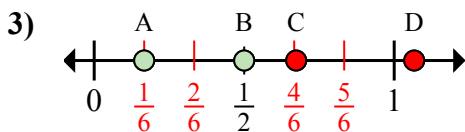
a. Đáp án nào đúng với  $\frac{0}{8}$

b. Đáp án nào đúng với  $\frac{5}{8}$



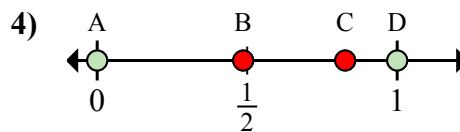
a. Đáp án nào đúng với  $\frac{1}{8}$

b. Đáp án nào đúng với  $\frac{2}{8}$



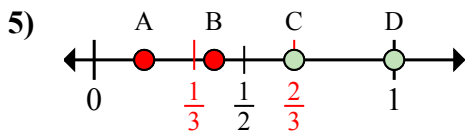
a. Đáp án nào đúng với  $\frac{1}{6}$

b. Đáp án nào đúng với  $\frac{3}{6}$



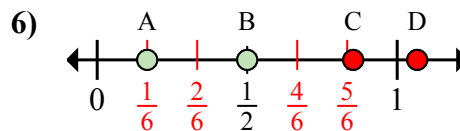
a. Đáp án nào đúng với  $\frac{0}{2}$

b. Đáp án nào đúng với  $\frac{2}{2}$



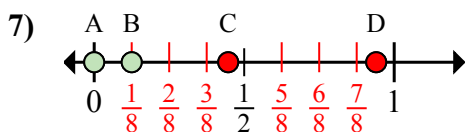
a. Đáp án nào đúng với  $\frac{3}{3}$

b. Đáp án nào đúng với  $\frac{2}{3}$



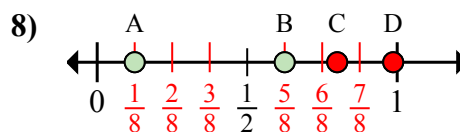
a. Đáp án nào đúng với  $\frac{3}{6}$

b. Đáp án nào đúng với  $\frac{1}{6}$



a. Đáp án nào đúng với  $\frac{0}{8}$

b. Đáp án nào đúng với  $\frac{1}{8}$



a. Đáp án nào đúng với  $\frac{5}{8}$

b. Đáp án nào đúng với  $\frac{1}{8}$

1. A D

2. A B

3. A B

4. A D

5. D C

6. B A

7. A B

8. B A