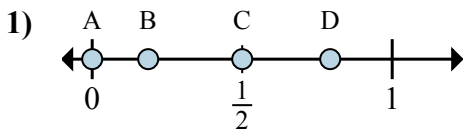


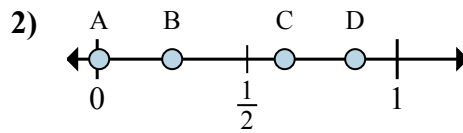


Xác định đáp án nào phù hợp nhất cho thấy vị trí của phân số.

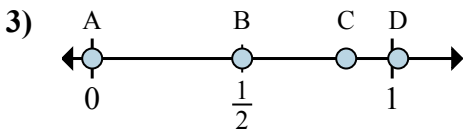
Câu trả lời



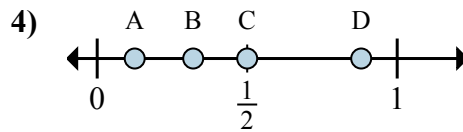
- a. Đáp án nào đúng với  $\frac{0}{2}$   
 b. Đáp án nào đúng với  $\frac{1}{2}$



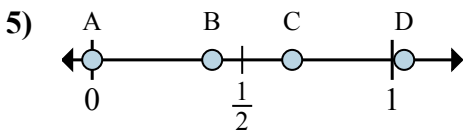
- a. Đáp án nào đúng với  $\frac{2}{8}$   
 b. Đáp án nào đúng với  $\frac{5}{8}$



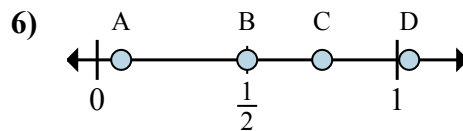
- a. Đáp án nào đúng với  $\frac{0}{6}$   
 b. Đáp án nào đúng với  $\frac{3}{6}$



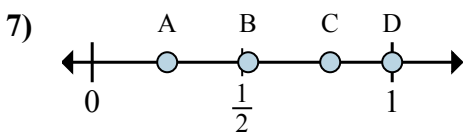
- a. Đáp án nào đúng với  $\frac{1}{8}$   
 b. Đáp án nào đúng với  $\frac{4}{8}$



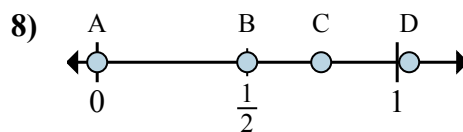
- a. Đáp án nào đúng với  $\frac{0}{3}$   
 b. Đáp án nào đúng với  $\frac{2}{3}$



- a. Đáp án nào đúng với  $\frac{2}{4}$   
 b. Đáp án nào đúng với  $\frac{3}{4}$



- a. Đáp án nào đúng với  $\frac{1}{4}$   
 b. Đáp án nào đúng với  $\frac{4}{4}$



- a. Đáp án nào đúng với  $\frac{0}{2}$   
 b. Đáp án nào đúng với  $\frac{1}{2}$

1. \_\_\_\_\_

2. \_\_\_\_\_

3. \_\_\_\_\_

4. \_\_\_\_\_

5. \_\_\_\_\_

6. \_\_\_\_\_

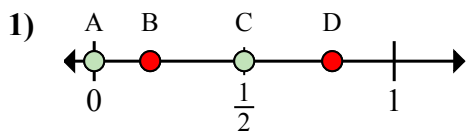
7. \_\_\_\_\_

8. \_\_\_\_\_



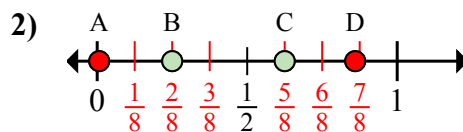
Xác định đáp án nào phù hợp nhất cho thấy vị trí của phân số.

Câu trả lời



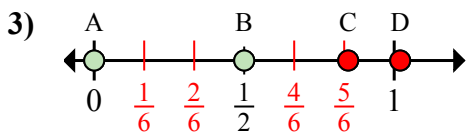
a. Đáp án nào đúng với  $\frac{0}{2}$

b. Đáp án nào đúng với  $\frac{1}{2}$



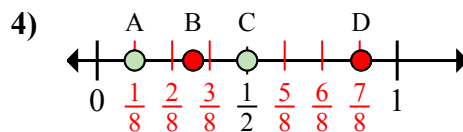
a. Đáp án nào đúng với  $\frac{2}{8}$

b. Đáp án nào đúng với  $\frac{5}{8}$



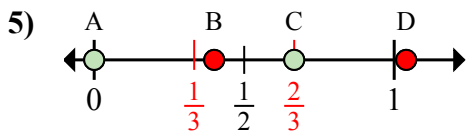
a. Đáp án nào đúng với  $\frac{0}{6}$

b. Đáp án nào đúng với  $\frac{3}{6}$



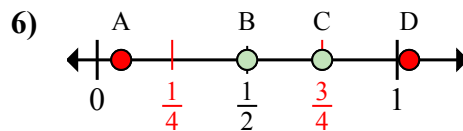
a. Đáp án nào đúng với  $\frac{1}{8}$

b. Đáp án nào đúng với  $\frac{4}{8}$



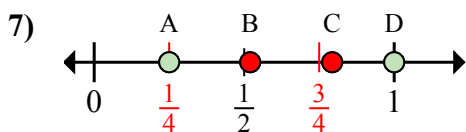
a. Đáp án nào đúng với  $\frac{0}{3}$

b. Đáp án nào đúng với  $\frac{2}{3}$



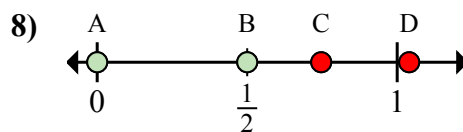
a. Đáp án nào đúng với  $\frac{2}{4}$

b. Đáp án nào đúng với  $\frac{3}{4}$



a. Đáp án nào đúng với  $\frac{1}{4}$

b. Đáp án nào đúng với  $\frac{4}{4}$



a. Đáp án nào đúng với  $\frac{0}{2}$

b. Đáp án nào đúng với  $\frac{1}{2}$

1. A C

2. B C

3. A B

4. A C

5. A C

6. B C

7. A D

8. A B