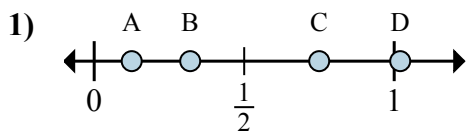


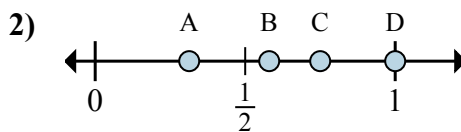


Xác định đáp án nào phù hợp nhất cho thấy vị trí của phân số.

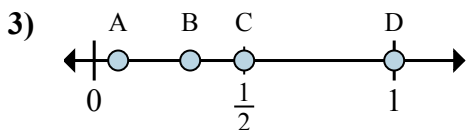
Câu trả lời



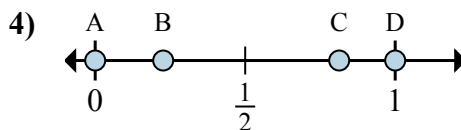
- a. Đáp án nào đúng với  $\frac{1}{8}$
- b. Đáp án nào đúng với  $\frac{6}{8}$



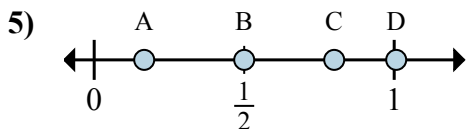
- a. Đáp án nào đúng với  $\frac{3}{4}$
- b. Đáp án nào đúng với  $\frac{4}{4}$



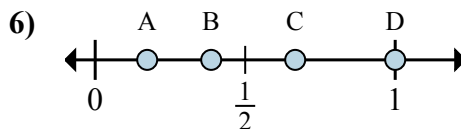
- a. Đáp án nào đúng với  $\frac{8}{8}$
- b. Đáp án nào đúng với  $\frac{4}{8}$



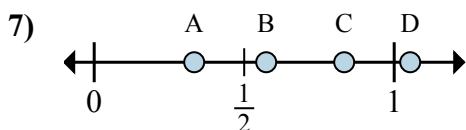
- a. Đáp án nào đúng với  $\frac{0}{2}$
- b. Đáp án nào đúng với  $\frac{2}{2}$



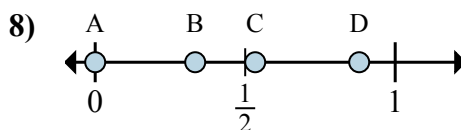
- a. Đáp án nào đúng với  $\frac{1}{6}$
- b. Đáp án nào đúng với  $\frac{3}{6}$



- a. Đáp án nào đúng với  $\frac{2}{3}$
- b. Đáp án nào đúng với  $\frac{3}{3}$



- a. Đáp án nào đúng với  $\frac{5}{6}$
- b. Đáp án nào đúng với  $\frac{2}{6}$



- a. Đáp án nào đúng với  $\frac{0}{3}$
- b. Đáp án nào đúng với  $\frac{1}{3}$

1. \_\_\_\_\_

2. \_\_\_\_\_

3. \_\_\_\_\_

4. \_\_\_\_\_

5. \_\_\_\_\_

6. \_\_\_\_\_

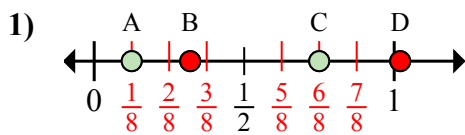
7. \_\_\_\_\_

8. \_\_\_\_\_

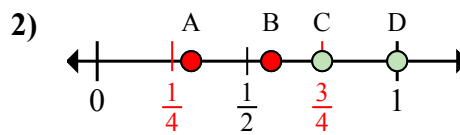


Xác định đáp án nào phù hợp nhất cho thấy vị trí của phân số.

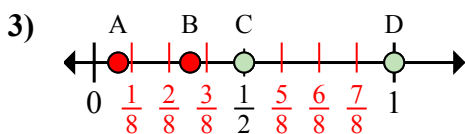
Câu trả lời



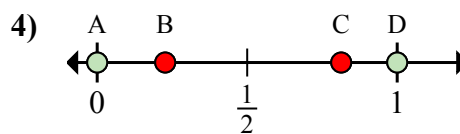
- a. Đáp án nào đúng với  $\frac{1}{8}$   
 b. Đáp án nào đúng với  $\frac{6}{8}$



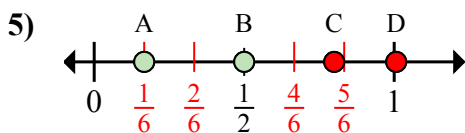
- a. Đáp án nào đúng với  $\frac{3}{4}$   
 b. Đáp án nào đúng với  $\frac{4}{4}$



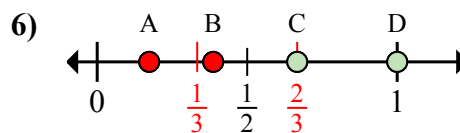
- a. Đáp án nào đúng với  $\frac{8}{8}$   
 b. Đáp án nào đúng với  $\frac{4}{8}$



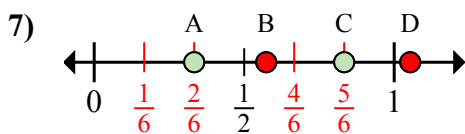
- a. Đáp án nào đúng với  $\frac{0}{2}$   
 b. Đáp án nào đúng với  $\frac{2}{2}$



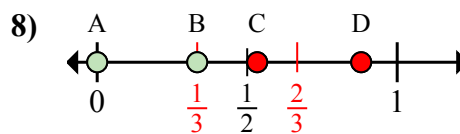
- a. Đáp án nào đúng với  $\frac{1}{6}$   
 b. Đáp án nào đúng với  $\frac{3}{6}$



- a. Đáp án nào đúng với  $\frac{2}{3}$   
 b. Đáp án nào đúng với  $\frac{3}{3}$



- a. Đáp án nào đúng với  $\frac{5}{6}$   
 b. Đáp án nào đúng với  $\frac{2}{6}$



- a. Đáp án nào đúng với  $\frac{0}{3}$   
 b. Đáp án nào đúng với  $\frac{1}{3}$

1. A C  
 2. C D  
 3. D C  
 4. A D  
 5. A B  
 6. C D  
 7. C A  
 8. A B