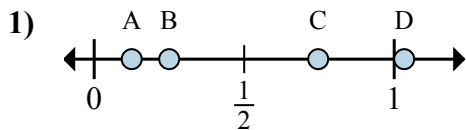


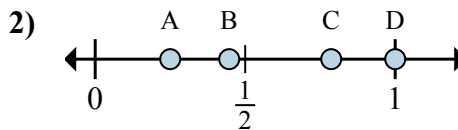


Xác định đáp án nào phù hợp nhất cho thấy vị trí của phân số.

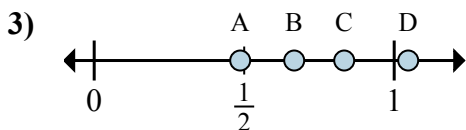
Câu trả lời



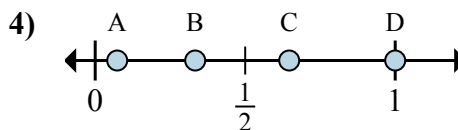
- a. Đáp án nào đúng với  $\frac{1}{8}$
- b. Đáp án nào đúng với  $\frac{2}{8}$



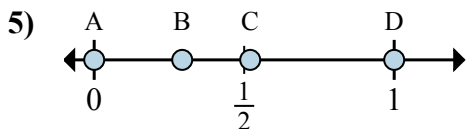
- a. Đáp án nào đúng với  $\frac{4}{4}$
- b. Đáp án nào đúng với  $\frac{1}{4}$



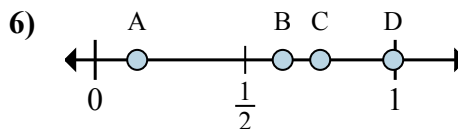
- a. Đáp án nào đúng với  $\frac{5}{6}$
- b. Đáp án nào đúng với  $\frac{4}{6}$



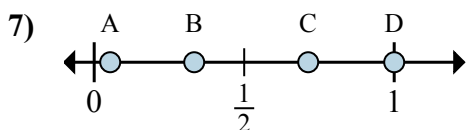
- a. Đáp án nào đúng với  $\frac{3}{3}$
- b. Đáp án nào đúng với  $\frac{1}{3}$



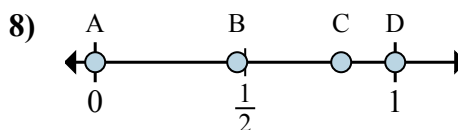
- a. Đáp án nào đúng với  $\frac{0}{2}$
- b. Đáp án nào đúng với  $\frac{2}{2}$



- a. Đáp án nào đúng với  $\frac{6}{8}$
- b. Đáp án nào đúng với  $\frac{5}{8}$



- a. Đáp án nào đúng với  $\frac{1}{3}$
- b. Đáp án nào đúng với  $\frac{3}{3}$



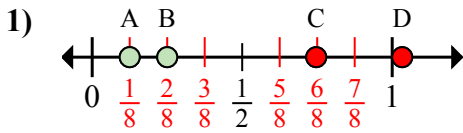
- a. Đáp án nào đúng với  $\frac{0}{2}$
- b. Đáp án nào đúng với  $\frac{2}{2}$

- 1. \_\_\_\_\_
- 2. \_\_\_\_\_
- 3. \_\_\_\_\_
- 4. \_\_\_\_\_
- 5. \_\_\_\_\_
- 6. \_\_\_\_\_
- 7. \_\_\_\_\_
- 8. \_\_\_\_\_

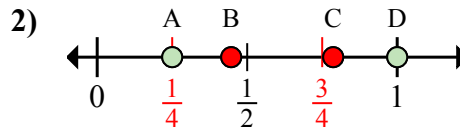


Xác định đáp án nào phù hợp nhất cho thấy vị trí của phân số.

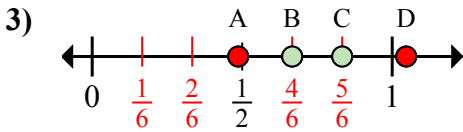
Câu trả lời



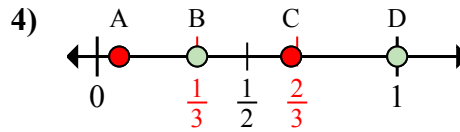
- a. Đáp án nào đúng với  $\frac{1}{8}$   
 b. Đáp án nào đúng với  $\frac{2}{8}$



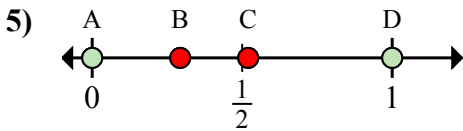
- a. Đáp án nào đúng với  $\frac{4}{4}$   
 b. Đáp án nào đúng với  $\frac{1}{4}$



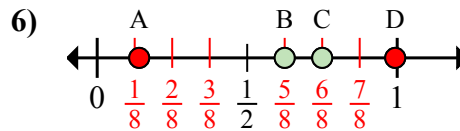
- a. Đáp án nào đúng với  $\frac{5}{6}$   
 b. Đáp án nào đúng với  $\frac{4}{6}$



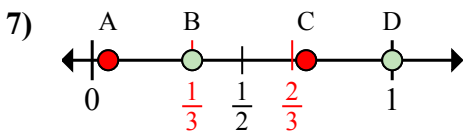
- a. Đáp án nào đúng với  $\frac{3}{3}$   
 b. Đáp án nào đúng với  $\frac{1}{3}$



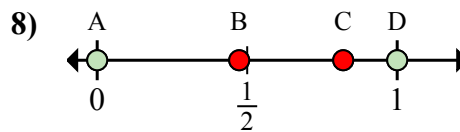
- a. Đáp án nào đúng với  $\frac{0}{2}$   
 b. Đáp án nào đúng với  $\frac{2}{2}$



- a. Đáp án nào đúng với  $\frac{6}{8}$   
 b. Đáp án nào đúng với  $\frac{5}{8}$



- a. Đáp án nào đúng với  $\frac{1}{3}$   
 b. Đáp án nào đúng với  $\frac{3}{3}$



- a. Đáp án nào đúng với  $\frac{0}{2}$   
 b. Đáp án nào đúng với  $\frac{2}{2}$

1. A B
2. D A
3. C B
4. D B
5. A D
6. C B
7. B D
8. A D