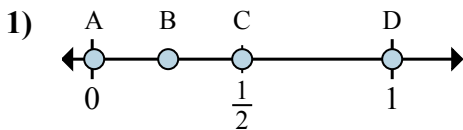




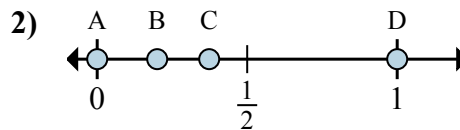
Xác định đáp án nào phù hợp nhất cho thấy vị trí của phân số.

Câu trả lời



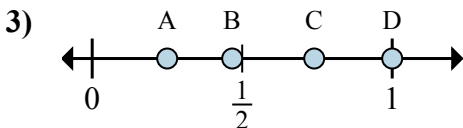
a. Đáp án nào đúng với $\frac{6}{6}$

b. Đáp án nào đúng với $\frac{3}{6}$



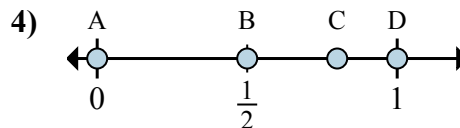
a. Đáp án nào đúng với $\frac{0}{2}$

b. Đáp án nào đúng với $\frac{2}{2}$



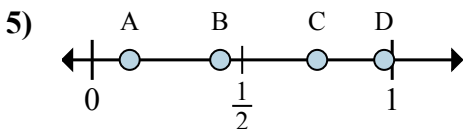
a. Đáp án nào đúng với $\frac{1}{4}$

b. Đáp án nào đúng với $\frac{4}{4}$



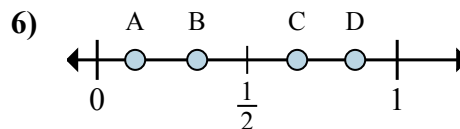
a. Đáp án nào đúng với $\frac{0}{3}$

b. Đáp án nào đúng với $\frac{3}{3}$



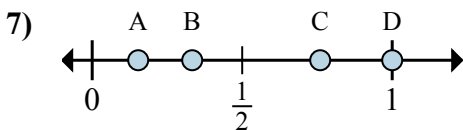
a. Đáp án nào đúng với $\frac{1}{8}$

b. Đáp án nào đúng với $\frac{6}{8}$



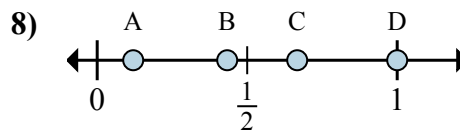
a. Đáp án nào đúng với $\frac{2}{3}$

b. Đáp án nào đúng với $\frac{1}{3}$



a. Đáp án nào đúng với $\frac{1}{3}$

b. Đáp án nào đúng với $\frac{3}{3}$



a. Đáp án nào đúng với $\frac{3}{3}$

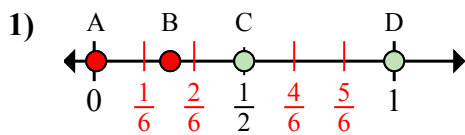
b. Đáp án nào đúng với $\frac{2}{3}$

1. _____
2. _____
3. _____
4. _____
5. _____
6. _____
7. _____
8. _____



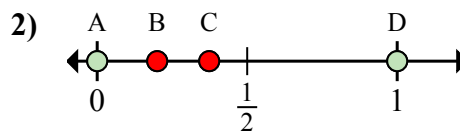
Xác định đáp án nào phù hợp nhất cho thấy vị trí của phân số.

Câu trả lời



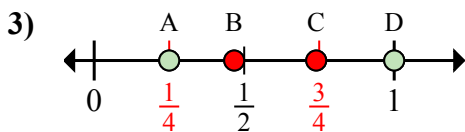
a. Đáp án nào đúng với $\frac{6}{6}$

b. Đáp án nào đúng với $\frac{3}{6}$



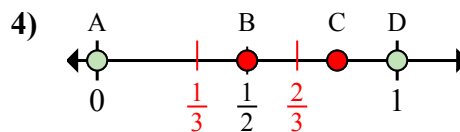
a. Đáp án nào đúng với $\frac{0}{2}$

b. Đáp án nào đúng với $\frac{2}{2}$



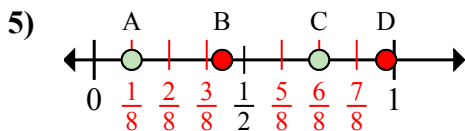
a. Đáp án nào đúng với $\frac{1}{4}$

b. Đáp án nào đúng với $\frac{4}{4}$



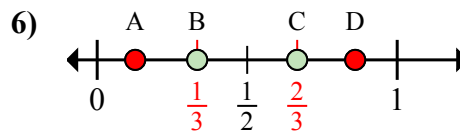
a. Đáp án nào đúng với $\frac{0}{3}$

b. Đáp án nào đúng với $\frac{3}{3}$



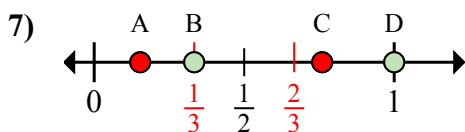
a. Đáp án nào đúng với $\frac{1}{8}$

b. Đáp án nào đúng với $\frac{6}{8}$



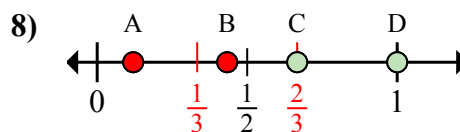
a. Đáp án nào đúng với $\frac{2}{3}$

b. Đáp án nào đúng với $\frac{1}{3}$



a. Đáp án nào đúng với $\frac{1}{3}$

b. Đáp án nào đúng với $\frac{3}{3}$



a. Đáp án nào đúng với $\frac{3}{3}$

b. Đáp án nào đúng với $\frac{2}{3}$

1. D C

2. A D

3. A D

4. A D

5. A C

6. C B

7. B D

8. D C