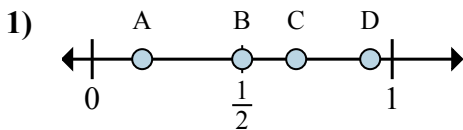


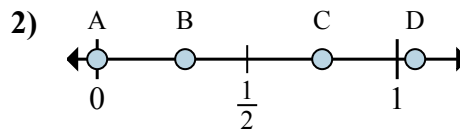


Xác định đáp án nào phù hợp nhất cho thấy vị trí của phân số.

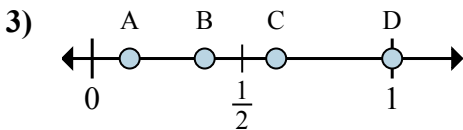
Câu trả lời



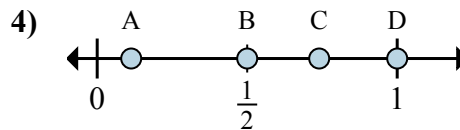
- a. Đáp án nào đúng với $\frac{1}{6}$
- b. Đáp án nào đúng với $\frac{3}{6}$



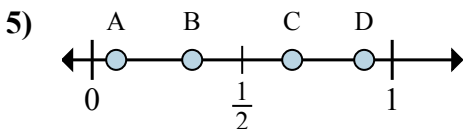
- a. Đáp án nào đúng với $\frac{0}{4}$
- b. Đáp án nào đúng với $\frac{3}{4}$



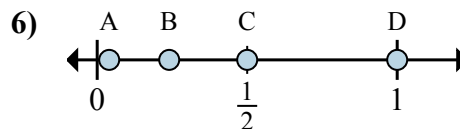
- a. Đáp án nào đúng với $\frac{1}{8}$
- b. Đáp án nào đúng với $\frac{3}{8}$



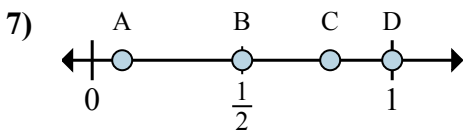
- a. Đáp án nào đúng với $\frac{2}{2}$
- b. Đáp án nào đúng với $\frac{1}{2}$



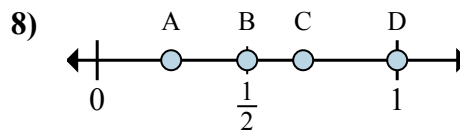
- a. Đáp án nào đúng với $\frac{1}{3}$
- b. Đáp án nào đúng với $\frac{2}{3}$



- a. Đáp án nào đúng với $\frac{2}{2}$
- b. Đáp án nào đúng với $\frac{1}{2}$



- a. Đáp án nào đúng với $\frac{1}{2}$
- b. Đáp án nào đúng với $\frac{2}{2}$



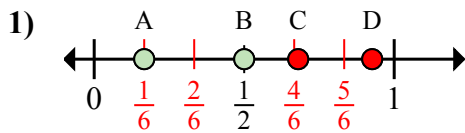
- a. Đáp án nào đúng với $\frac{1}{2}$
- b. Đáp án nào đúng với $\frac{2}{2}$

- 1. _____
- 2. _____
- 3. _____
- 4. _____
- 5. _____
- 6. _____
- 7. _____
- 8. _____



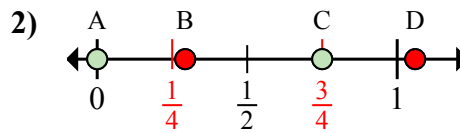
Xác định đáp án nào phù hợp nhất cho thấy vị trí của phân số.

Câu trả lời



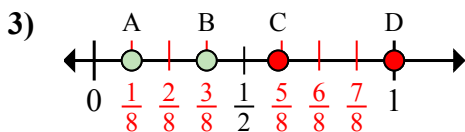
a. Đáp án nào đúng với $\frac{1}{6}$

b. Đáp án nào đúng với $\frac{3}{6}$



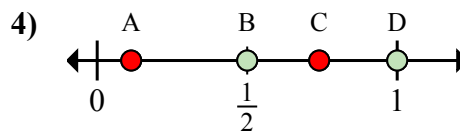
a. Đáp án nào đúng với $\frac{0}{4}$

b. Đáp án nào đúng với $\frac{3}{4}$



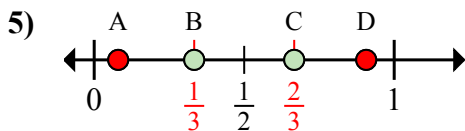
a. Đáp án nào đúng với $\frac{1}{8}$

b. Đáp án nào đúng với $\frac{3}{8}$



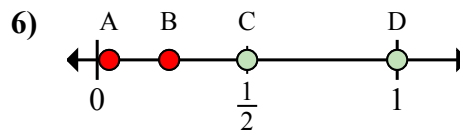
a. Đáp án nào đúng với $\frac{2}{2}$

b. Đáp án nào đúng với $\frac{1}{2}$



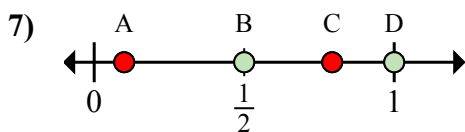
a. Đáp án nào đúng với $\frac{1}{3}$

b. Đáp án nào đúng với $\frac{2}{3}$



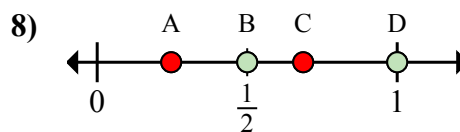
a. Đáp án nào đúng với $\frac{2}{2}$

b. Đáp án nào đúng với $\frac{1}{2}$



a. Đáp án nào đúng với $\frac{1}{2}$

b. Đáp án nào đúng với $\frac{2}{2}$



a. Đáp án nào đúng với $\frac{1}{2}$

b. Đáp án nào đúng với $\frac{2}{2}$

1. A B

2. A C

3. A B

4. D B

5. B C

6. D C

7. B D

8. B D