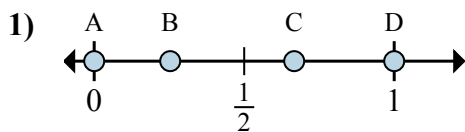




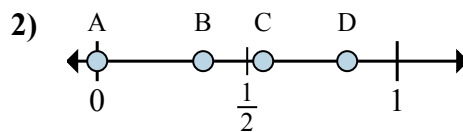
Xác định đáp án nào phù hợp nhất cho thấy vị trí của phân số.

Câu trả lời



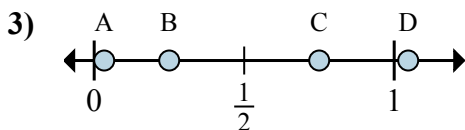
a. Đáp án nào đúng với $\frac{0}{3}$

b. Đáp án nào đúng với $\frac{2}{3}$



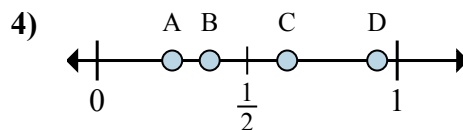
a. Đáp án nào đúng với $\frac{0}{6}$

b. Đáp án nào đúng với $\frac{5}{6}$



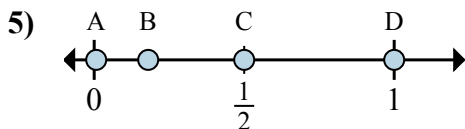
a. Đáp án nào đúng với $\frac{3}{4}$

b. Đáp án nào đúng với $\frac{1}{4}$



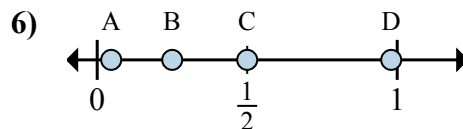
a. Đáp án nào đúng với $\frac{2}{8}$

b. Đáp án nào đúng với $\frac{3}{8}$



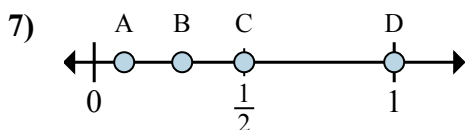
a. Đáp án nào đúng với $\frac{2}{4}$

b. Đáp án nào đúng với $\frac{4}{4}$



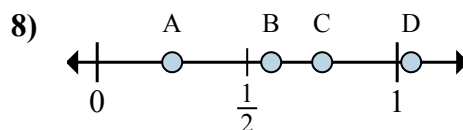
a. Đáp án nào đúng với $\frac{1}{4}$

b. Đáp án nào đúng với $\frac{2}{4}$



a. Đáp án nào đúng với $\frac{1}{2}$

b. Đáp án nào đúng với $\frac{2}{2}$



a. Đáp án nào đúng với $\frac{1}{4}$

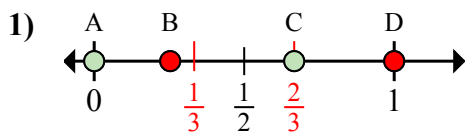
b. Đáp án nào đúng với $\frac{3}{4}$

1. _____
2. _____
3. _____
4. _____
5. _____
6. _____
7. _____
8. _____



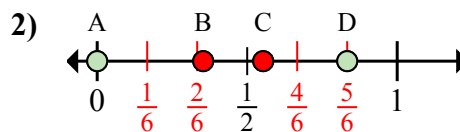
Xác định đáp án nào phù hợp nhất cho thấy vị trí của phân số.

Câu trả lời



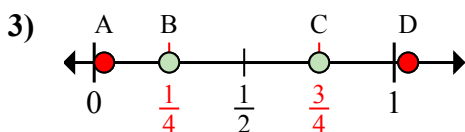
a. Đáp án nào đúng với $\frac{0}{3}$

b. Đáp án nào đúng với $\frac{2}{3}$



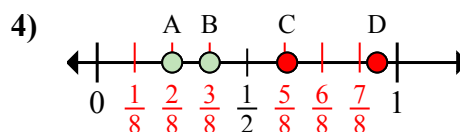
a. Đáp án nào đúng với $\frac{0}{6}$

b. Đáp án nào đúng với $\frac{5}{6}$



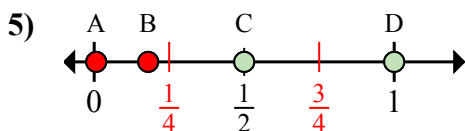
a. Đáp án nào đúng với $\frac{3}{4}$

b. Đáp án nào đúng với $\frac{1}{4}$



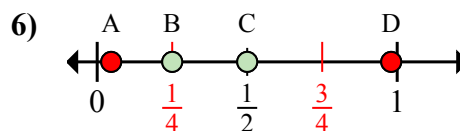
a. Đáp án nào đúng với $\frac{2}{8}$

b. Đáp án nào đúng với $\frac{3}{8}$



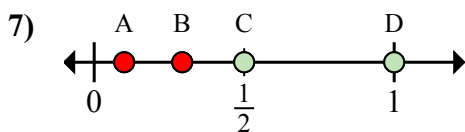
a. Đáp án nào đúng với $\frac{2}{4}$

b. Đáp án nào đúng với $\frac{4}{4}$



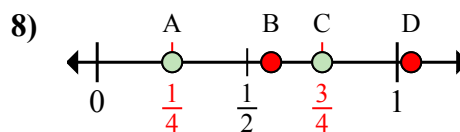
a. Đáp án nào đúng với $\frac{1}{4}$

b. Đáp án nào đúng với $\frac{2}{4}$



a. Đáp án nào đúng với $\frac{1}{2}$

b. Đáp án nào đúng với $\frac{2}{2}$



a. Đáp án nào đúng với $\frac{1}{4}$

b. Đáp án nào đúng với $\frac{3}{4}$

1. A C

2. A D

3. C B

4. A B

5. C D

6. B C

7. C D

8. A C