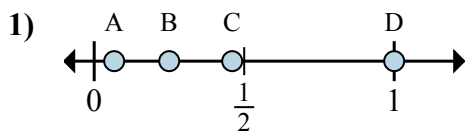




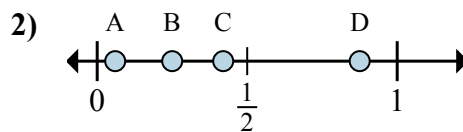
Xác định đáp án nào phù hợp nhất cho thấy vị trí của phân số.

Câu trả lời



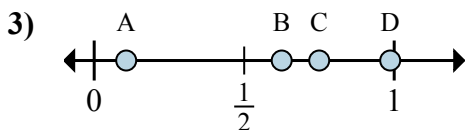
a. Đáp án nào đúng với $\frac{4}{4}$

b. Đáp án nào đúng với $\frac{1}{4}$



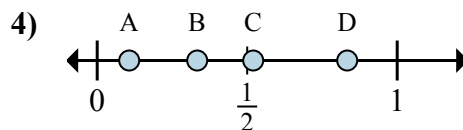
a. Đáp án nào đúng với $\frac{7}{8}$

b. Đáp án nào đúng với $\frac{2}{8}$



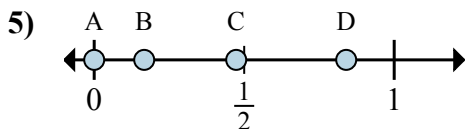
a. Đáp án nào đúng với $\frac{5}{8}$

b. Đáp án nào đúng với $\frac{6}{8}$



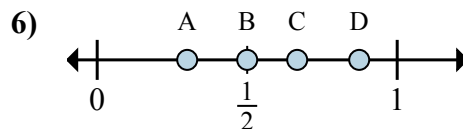
a. Đáp án nào đúng với $\frac{5}{6}$

b. Đáp án nào đúng với $\frac{2}{6}$



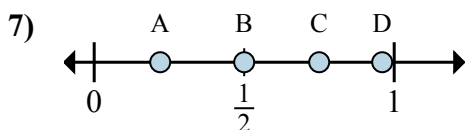
a. Đáp án nào đúng với $\frac{0}{6}$

b. Đáp án nào đúng với $\frac{1}{6}$



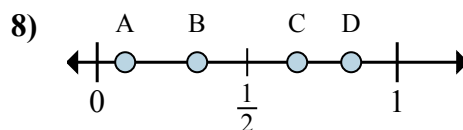
a. Đáp án nào đúng với $\frac{3}{6}$

b. Đáp án nào đúng với $\frac{4}{6}$



a. Đáp án nào đúng với $\frac{3}{4}$

b. Đáp án nào đúng với $\frac{2}{4}$



a. Đáp án nào đúng với $\frac{2}{3}$

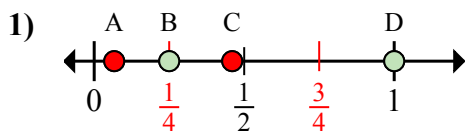
b. Đáp án nào đúng với $\frac{1}{3}$

1. _____
2. _____
3. _____
4. _____
5. _____
6. _____
7. _____
8. _____



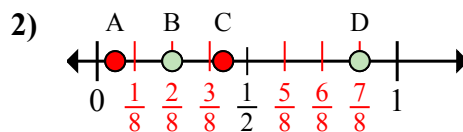
Xác định đáp án nào phù hợp nhất cho thấy vị trí của phân số.

Câu trả lời



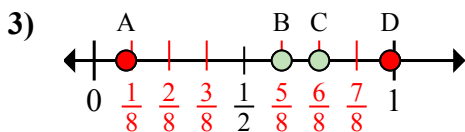
a. Đáp án nào đúng với $\frac{4}{4}$

b. Đáp án nào đúng với $\frac{1}{4}$



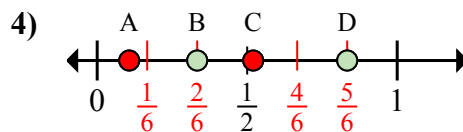
a. Đáp án nào đúng với $\frac{7}{8}$

b. Đáp án nào đúng với $\frac{2}{8}$



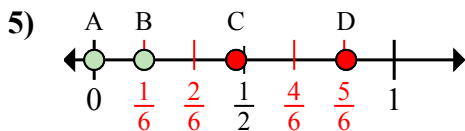
a. Đáp án nào đúng với $\frac{5}{8}$

b. Đáp án nào đúng với $\frac{6}{8}$



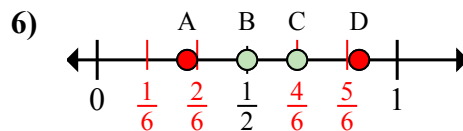
a. Đáp án nào đúng với $\frac{5}{6}$

b. Đáp án nào đúng với $\frac{2}{6}$



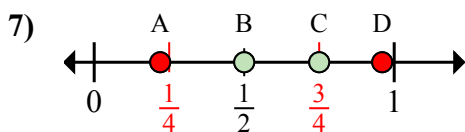
a. Đáp án nào đúng với $\frac{0}{6}$

b. Đáp án nào đúng với $\frac{1}{6}$



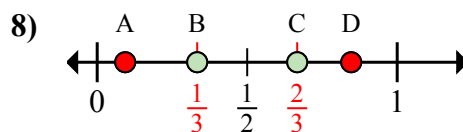
a. Đáp án nào đúng với $\frac{3}{6}$

b. Đáp án nào đúng với $\frac{4}{6}$



a. Đáp án nào đúng với $\frac{3}{4}$

b. Đáp án nào đúng với $\frac{2}{4}$



a. Đáp án nào đúng với $\frac{2}{3}$

b. Đáp án nào đúng với $\frac{1}{3}$

1. D B

2. D B

3. B C

4. D B

5. A B

6. B C

7. C B

8. C B