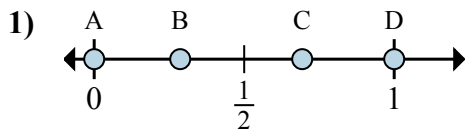




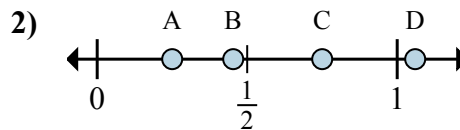
Xác định đáp án nào phù hợp nhất cho thấy vị trí của phân số.

Câu trả lời



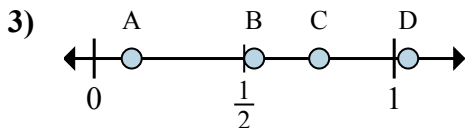
a. Đáp án nào đúng với $\frac{0}{2}$

b. Đáp án nào đúng với $\frac{2}{2}$



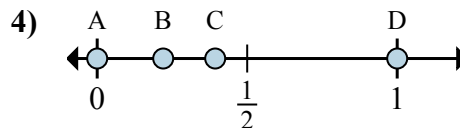
a. Đáp án nào đúng với $\frac{1}{4}$

b. Đáp án nào đúng với $\frac{3}{4}$



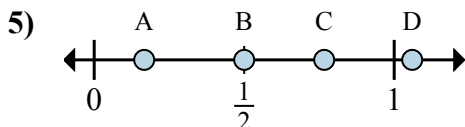
a. Đáp án nào đúng với $\frac{6}{8}$

b. Đáp án nào đúng với $\frac{1}{8}$



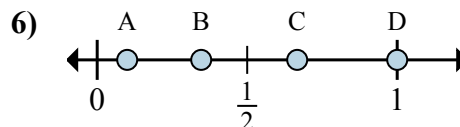
a. Đáp án nào đúng với $\frac{0}{2}$

b. Đáp án nào đúng với $\frac{2}{2}$



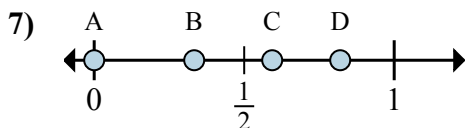
a. Đáp án nào đúng với $\frac{3}{6}$

b. Đáp án nào đúng với $\frac{1}{6}$



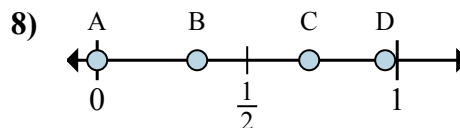
a. Đáp án nào đúng với $\frac{2}{3}$

b. Đáp án nào đúng với $\frac{3}{3}$



a. Đáp án nào đúng với $\frac{0}{3}$

b. Đáp án nào đúng với $\frac{1}{3}$



a. Đáp án nào đúng với $\frac{0}{6}$

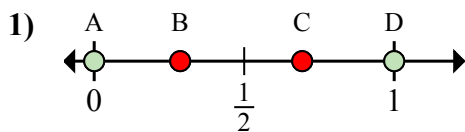
b. Đáp án nào đúng với $\frac{2}{6}$

1. _____
2. _____
3. _____
4. _____
5. _____
6. _____
7. _____
8. _____



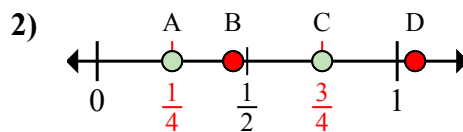
Xác định đáp án nào phù hợp nhất cho thấy vị trí của phân số.

Câu trả lời



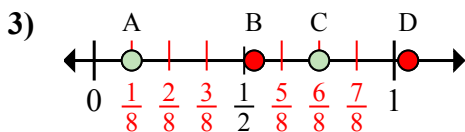
a. Đáp án nào đúng với $\frac{0}{2}$

b. Đáp án nào đúng với $\frac{2}{2}$



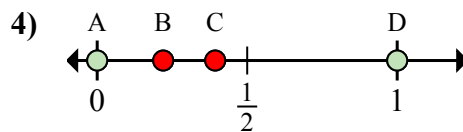
a. Đáp án nào đúng với $\frac{1}{4}$

b. Đáp án nào đúng với $\frac{3}{4}$



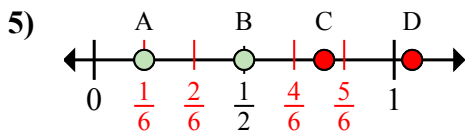
a. Đáp án nào đúng với $\frac{6}{8}$

b. Đáp án nào đúng với $\frac{1}{8}$



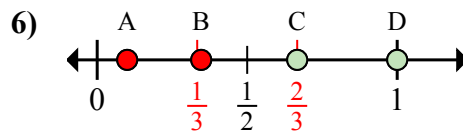
a. Đáp án nào đúng với $\frac{0}{2}$

b. Đáp án nào đúng với $\frac{2}{2}$



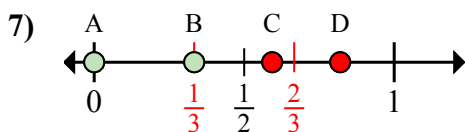
a. Đáp án nào đúng với $\frac{3}{6}$

b. Đáp án nào đúng với $\frac{1}{6}$



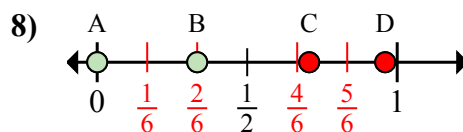
a. Đáp án nào đúng với $\frac{2}{3}$

b. Đáp án nào đúng với $\frac{3}{3}$



a. Đáp án nào đúng với $\frac{0}{3}$

b. Đáp án nào đúng với $\frac{1}{3}$



a. Đáp án nào đúng với $\frac{0}{6}$

b. Đáp án nào đúng với $\frac{2}{6}$

1. A D

2. A C

3. C A

4. A D

5. B A

6. C D

7. A B

8. A B