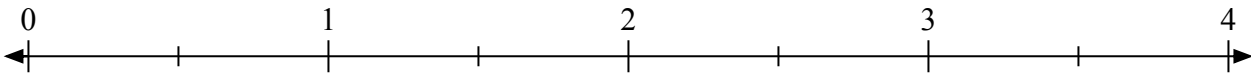


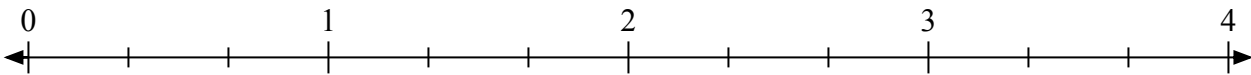


Giải các câu hỏi.

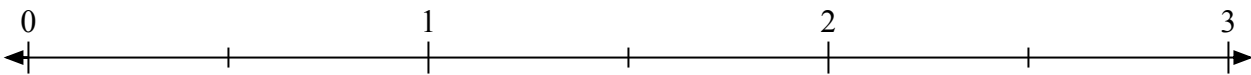
1) Đánh dấu vị trí của $\frac{3}{2}$



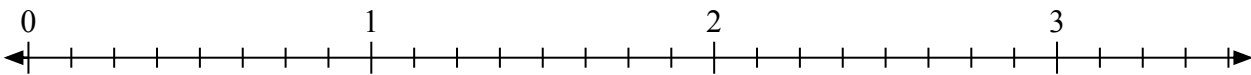
2) Đánh dấu vị trí của $\frac{6}{3}$



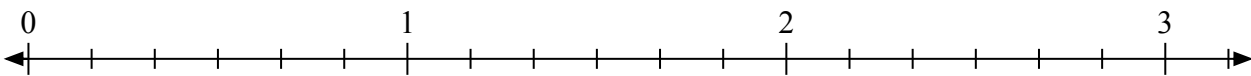
3) Đánh dấu vị trí của $\frac{5}{2}$



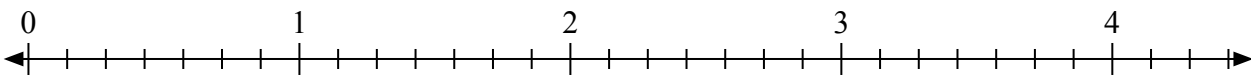
4) Đánh dấu vị trí của $\frac{21}{8}$




5) Đánh dấu vị trí của $\frac{18}{6}$



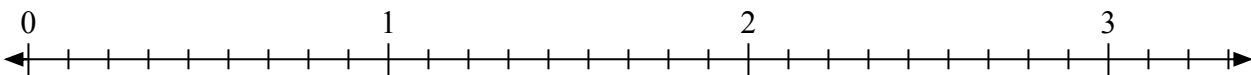
6) Đánh dấu vị trí của $\frac{19}{7}$



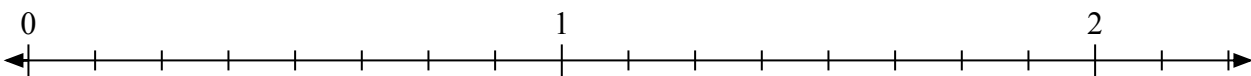
7) Đánh dấu vị trí của $\frac{4}{2}$



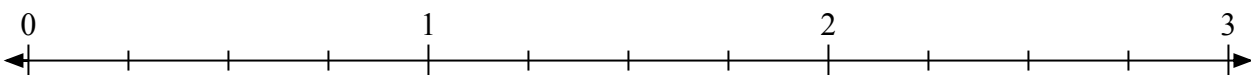
8) Đánh dấu vị trí của $\frac{15}{9}$



9) Đánh dấu vị trí của $\frac{11}{8}$

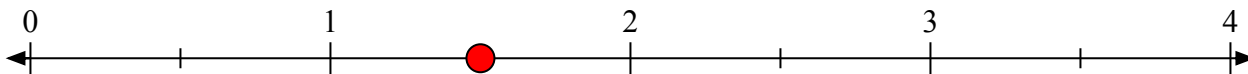
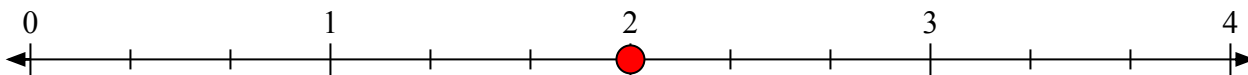
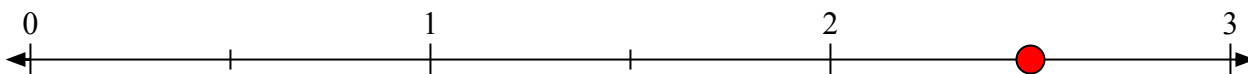
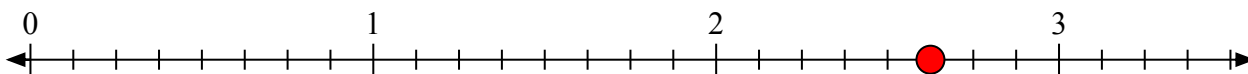
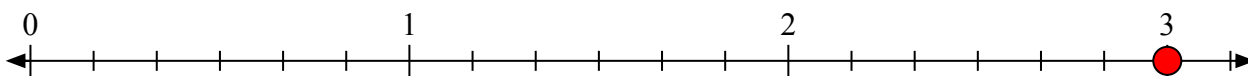
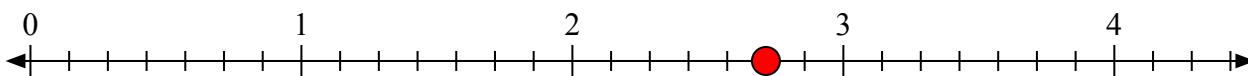

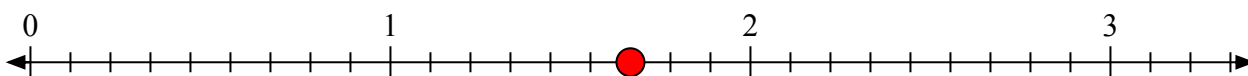
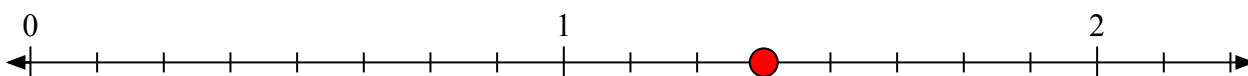


10) Đánh dấu vị trí của $\frac{9}{4}$





Giải các câu hỏi.

1) Đánh dấu vị trí của $\frac{3}{2}$ 2) Đánh dấu vị trí của $\frac{6}{3}$ 3) Đánh dấu vị trí của $\frac{5}{2}$ 4) Đánh dấu vị trí của $\frac{21}{8}$ 5) Đánh dấu vị trí của $\frac{18}{6}$ 6) Đánh dấu vị trí của $\frac{19}{7}$ 7) Đánh dấu vị trí của $\frac{4}{2}$ 8) Đánh dấu vị trí của $\frac{15}{9}$ 9) Đánh dấu vị trí của $\frac{11}{8}$ 10) Đánh dấu vị trí của $\frac{9}{4}$ 