


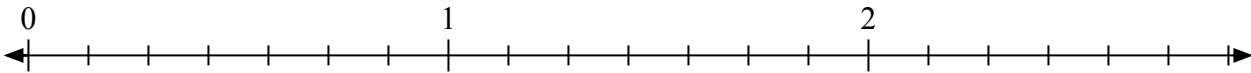


Giải các câu hỏi.

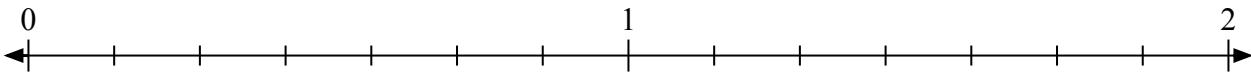
1) Đánh dấu vị trí của $\frac{5}{3}$



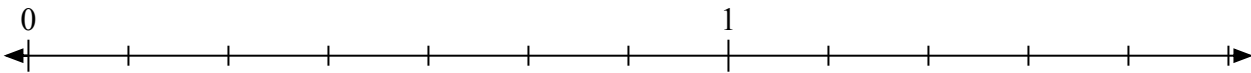
2) Đánh dấu vị trí của $\frac{16}{7}$




3) Đánh dấu vị trí của $\frac{13}{7}$



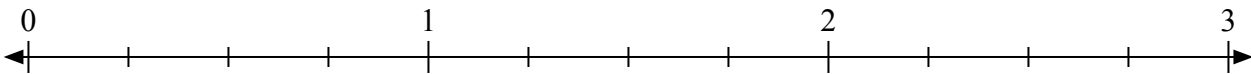
4) Đánh dấu vị trí của $\frac{8}{7}$



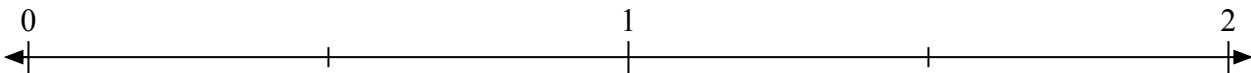
5) Đánh dấu vị trí của $\frac{10}{8}$



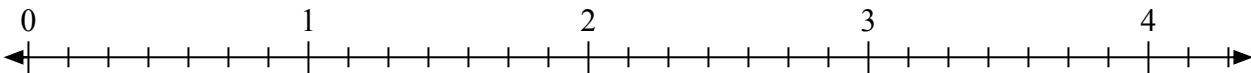
6) Đánh dấu vị trí của $\frac{10}{4}$



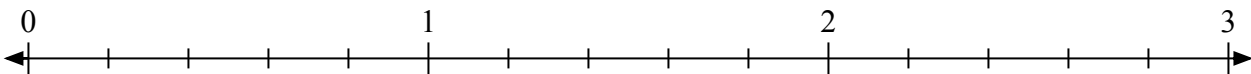
7) Đánh dấu vị trí của $\frac{3}{2}$



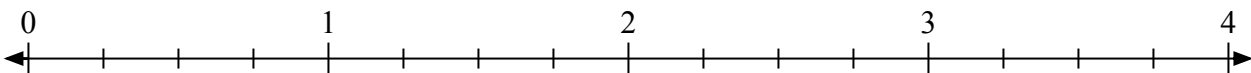
8) Đánh dấu vị trí của $\frac{14}{7}$



9) Đánh dấu vị trí của $\frac{6}{5}$


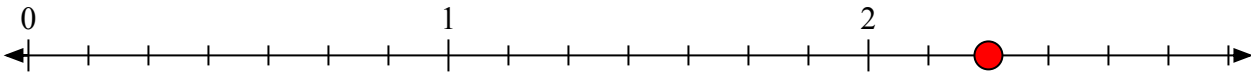
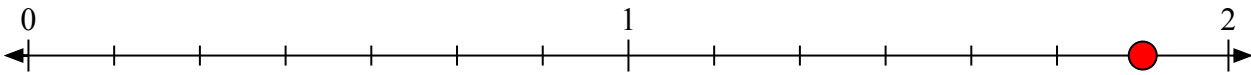
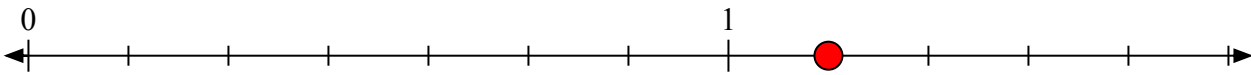

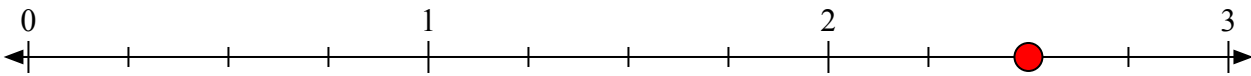
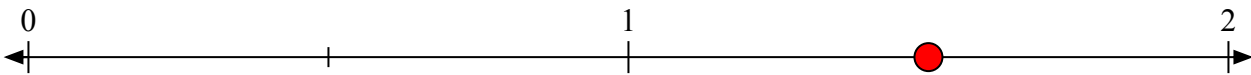
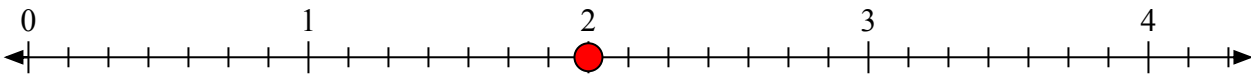
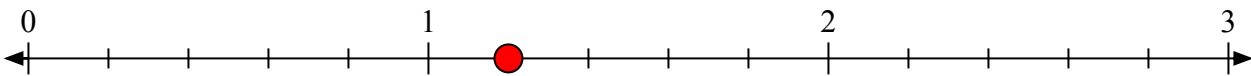
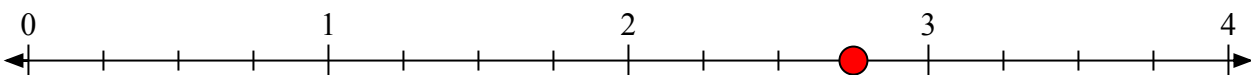


10) Đánh dấu vị trí của $\frac{11}{4}$





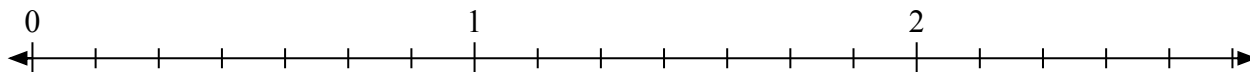
Giải các câu hỏi.

1) Đánh dấu vị trí của $\frac{5}{3}$ 2) Đánh dấu vị trí của $\frac{16}{7}$ 3) Đánh dấu vị trí của $\frac{13}{7}$ 4) Đánh dấu vị trí của $\frac{8}{7}$ 5) Đánh dấu vị trí của $\frac{10}{8}$ 6) Đánh dấu vị trí của $\frac{10}{4}$ 7) Đánh dấu vị trí của $\frac{3}{2}$ 8) Đánh dấu vị trí của $\frac{14}{7}$ 9) Đánh dấu vị trí của $\frac{6}{5}$ 10) Đánh dấu vị trí của $\frac{11}{4}$ 




Giải các câu hỏi.

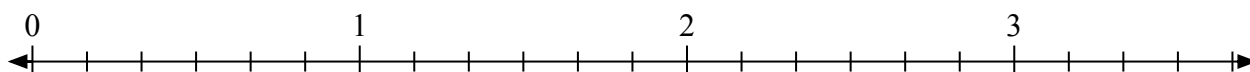
1) Đánh dấu vị trí của $\frac{14}{7}$



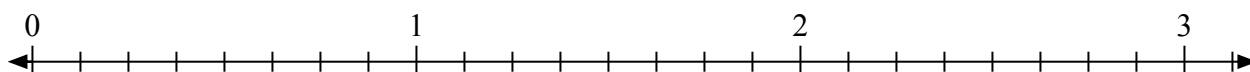
2) Đánh dấu vị trí của $\frac{5}{3}$



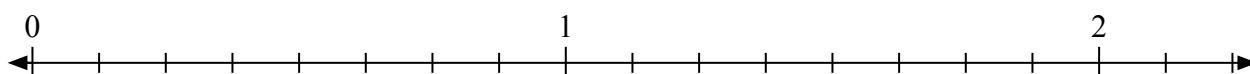
3) Đánh dấu vị trí của $\frac{12}{6}$



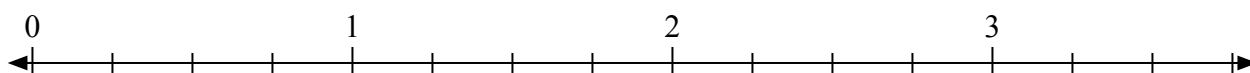
4) Đánh dấu vị trí của $\frac{17}{8}$



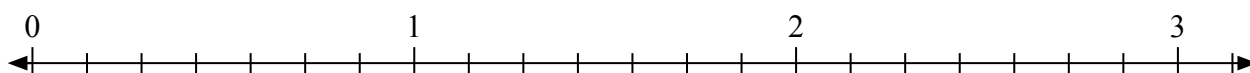
5) Đánh dấu vị trí của $\frac{13}{8}$



6) Đánh dấu vị trí của $\frac{9}{4}$




7) Đánh dấu vị trí của $\frac{18}{7}$




8) Đánh dấu vị trí của $\frac{6}{3}$



9) Đánh dấu vị trí của $\frac{3}{2}$



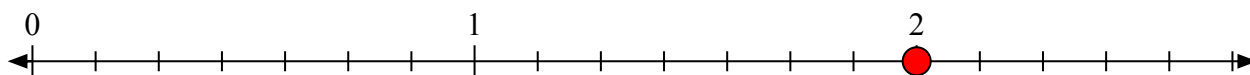
10) Đánh dấu vị trí của $\frac{10}{8}$





Giải các câu hỏi.

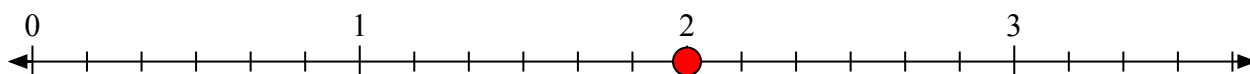
- 1) Đánh dấu vị trí của
- $\frac{14}{7}$



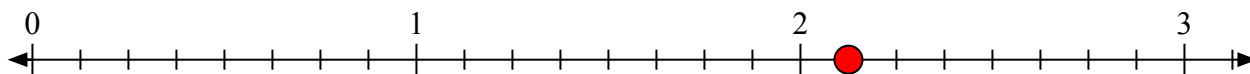
- 2) Đánh dấu vị trí của
- $\frac{5}{3}$



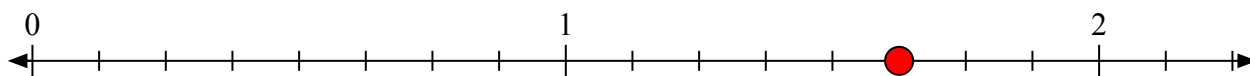
- 3) Đánh dấu vị trí của
- $\frac{12}{6}$



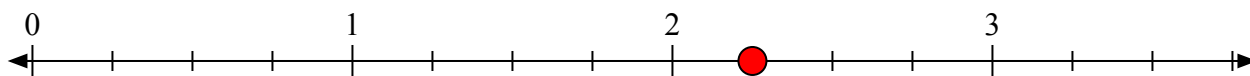
- 4) Đánh dấu vị trí của
- $\frac{17}{8}$



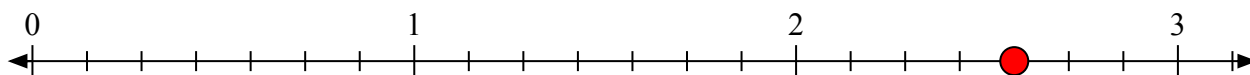
- 5) Đánh dấu vị trí của
- $\frac{13}{8}$



- 6) Đánh dấu vị trí của
- $\frac{9}{4}$



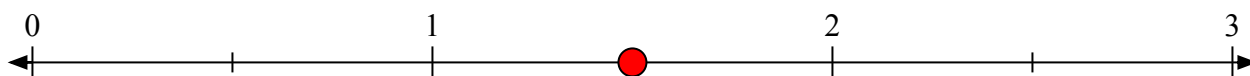
- 7) Đánh dấu vị trí của
- $\frac{18}{7}$



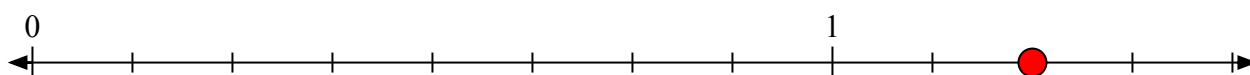
- 8) Đánh dấu vị trí của
- $\frac{6}{3}$



- 9) Đánh dấu vị trí của
- $\frac{3}{2}$




- 10) Đánh dấu vị trí của
- $\frac{10}{8}$






Giải các câu hỏi.

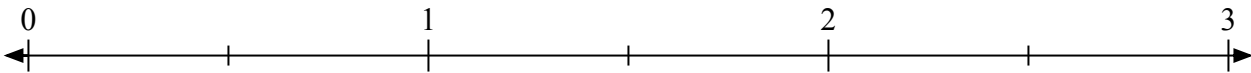
1) Đánh dấu vị trí của $\frac{6}{3}$



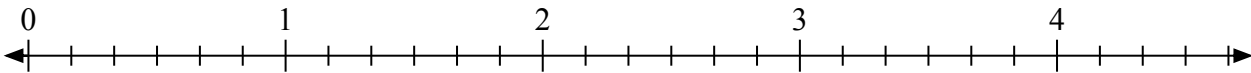
2) Đánh dấu vị trí của $\frac{5}{4}$



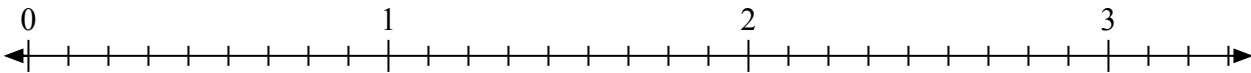
3) Đánh dấu vị trí của $\frac{3}{2}$




4) Đánh dấu vị trí của $\frac{12}{6}$




5) Đánh dấu vị trí của $\frac{20}{9}$



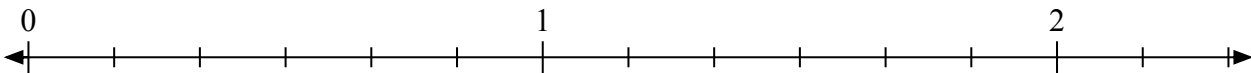
6) Đánh dấu vị trí của $\frac{4}{2}$



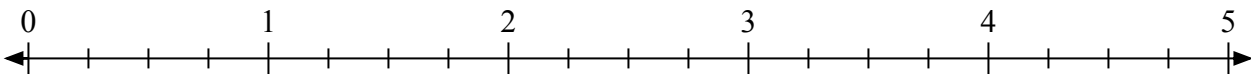
7) Đánh dấu vị trí của $\frac{5}{3}$



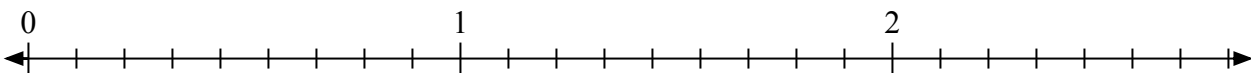
8) Đánh dấu vị trí của $\frac{11}{6}$



9) Đánh dấu vị trí của $\frac{9}{4}$




10) Đánh dấu vị trí của $\frac{14}{9}$






Giải các câu hỏi.

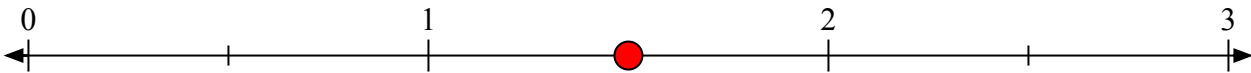
- 1) Đánh dấu vị trí của
- $\frac{6}{3}$



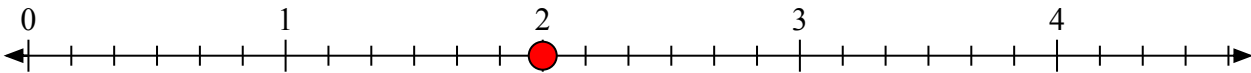
- 2) Đánh dấu vị trí của
- $\frac{5}{4}$



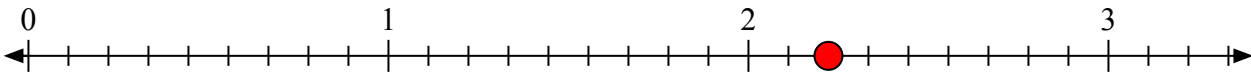
- 3) Đánh dấu vị trí của
- $\frac{3}{2}$




- 4) Đánh dấu vị trí của
- $\frac{12}{6}$




- 5) Đánh dấu vị trí của
- $\frac{20}{9}$



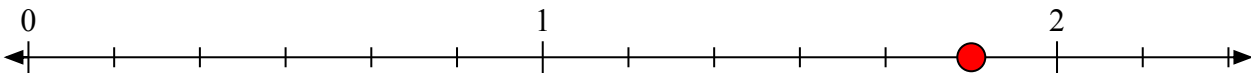
- 6) Đánh dấu vị trí của
- $\frac{4}{2}$



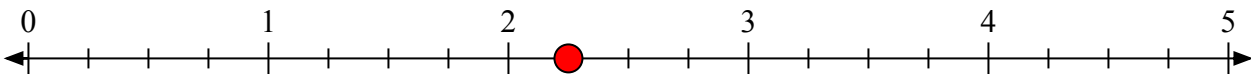
- 7) Đánh dấu vị trí của
- $\frac{5}{3}$



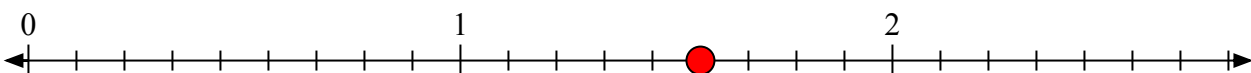
- 8) Đánh dấu vị trí của
- $\frac{11}{6}$



- 9) Đánh dấu vị trí của
- $\frac{9}{4}$



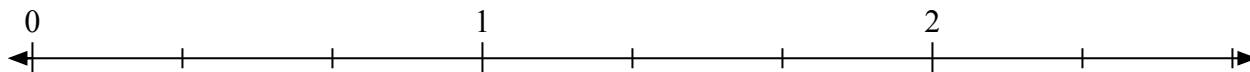
- 10) Đánh dấu vị trí của
- $\frac{14}{9}$



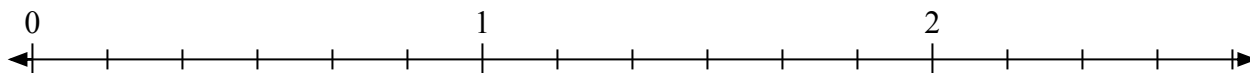


Giải các câu hỏi.

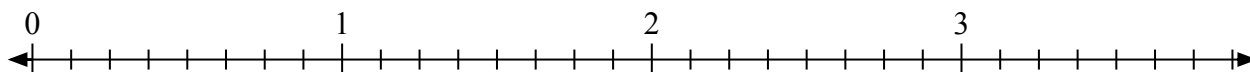
1) Đánh dấu vị trí của $\frac{4}{3}$




2) Đánh dấu vị trí của $\frac{15}{6}$



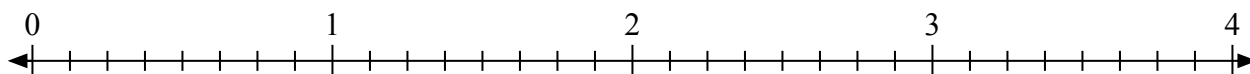
3) Đánh dấu vị trí của $\frac{11}{8}$



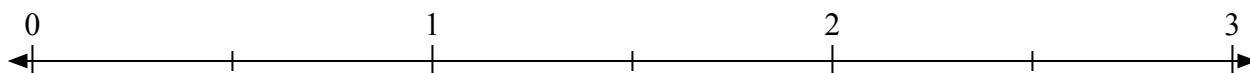
4) Đánh dấu vị trí của $\frac{10}{4}$



5) Đánh dấu vị trí của $\frac{21}{8}$



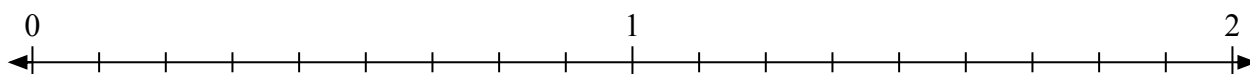
6) Đánh dấu vị trí của $\frac{4}{2}$



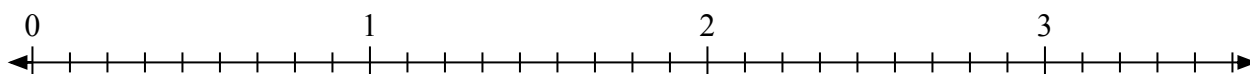
7) Đánh dấu vị trí của $\frac{3}{2}$



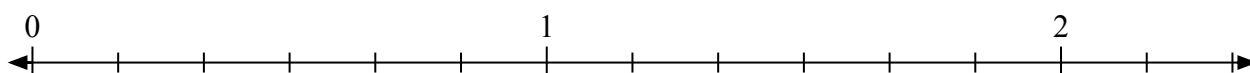
8) Đánh dấu vị trí của $\frac{14}{9}$



9) Đánh dấu vị trí của $\frac{20}{9}$



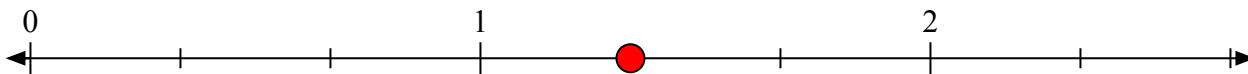
10) Đánh dấu vị trí của $\frac{9}{6}$



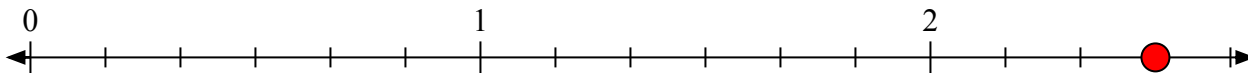


Giải các câu hỏi.

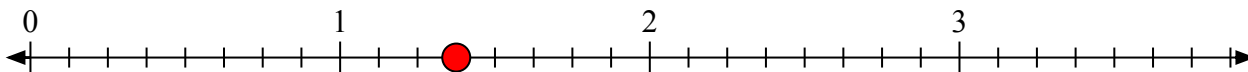
- 1) Đánh dấu vị trí của
- $\frac{4}{3}$




- 2) Đánh dấu vị trí của
- $\frac{15}{6}$



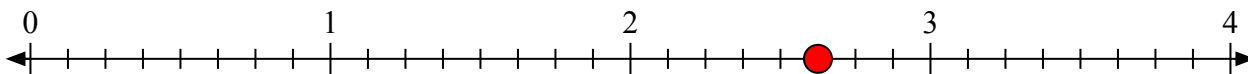
- 3) Đánh dấu vị trí của
- $\frac{11}{8}$



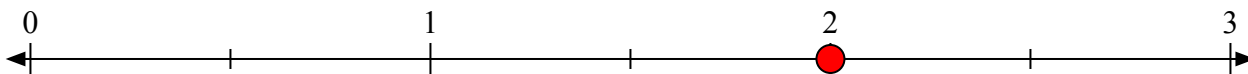
- 4) Đánh dấu vị trí của
- $\frac{10}{4}$




- 5) Đánh dấu vị trí của
- $\frac{21}{8}$



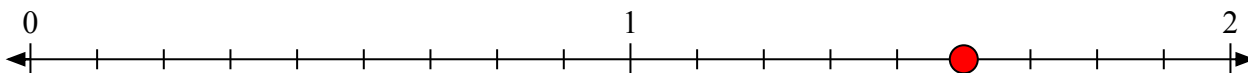
- 6) Đánh dấu vị trí của
- $\frac{4}{2}$



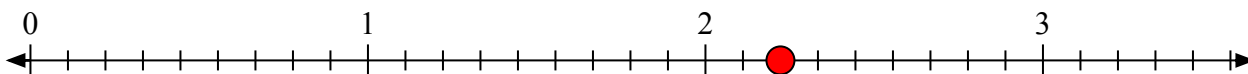
- 7) Đánh dấu vị trí của
- $\frac{3}{2}$



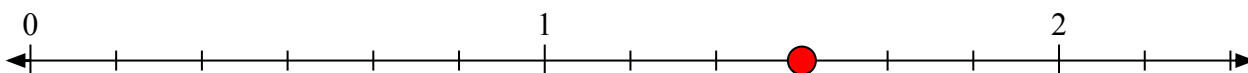
- 8) Đánh dấu vị trí của
- $\frac{14}{9}$



- 9) Đánh dấu vị trí của
- $\frac{20}{9}$



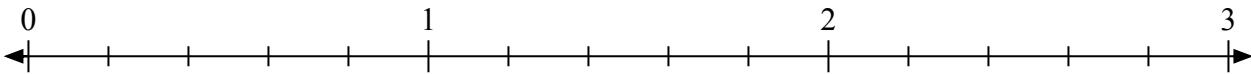
- 10) Đánh dấu vị trí của
- $\frac{9}{6}$



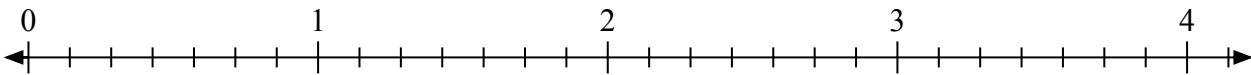


Giải các câu hỏi.

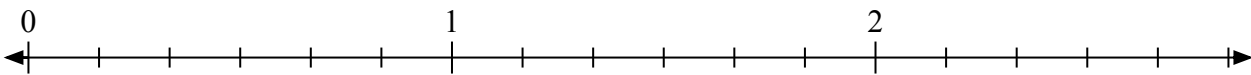
1) Đánh dấu vị trí của $\frac{8}{5}$



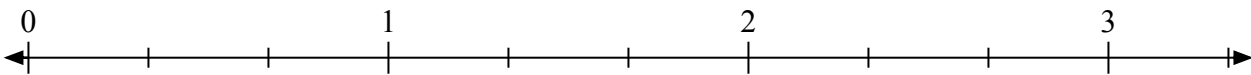
2) Đánh dấu vị trí của $\frac{14}{7}$




3) Đánh dấu vị trí của $\frac{10}{6}$



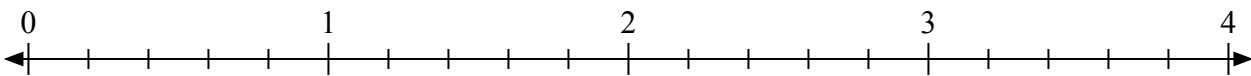
4) Đánh dấu vị trí của $\frac{7}{3}$



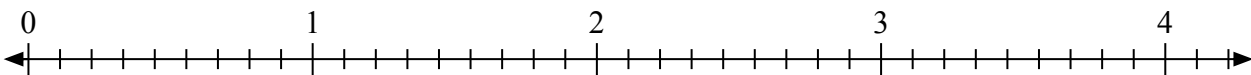
5) Đánh dấu vị trí của $\frac{3}{2}$



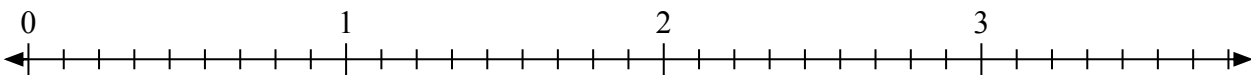
6) Đánh dấu vị trí của $\frac{11}{5}$



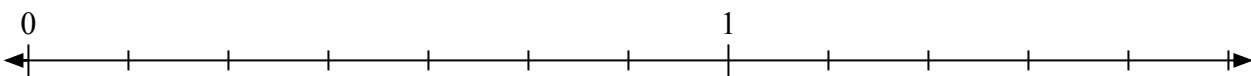
7) Đánh dấu vị trí của $\frac{15}{9}$




8) Đánh dấu vị trí của $\frac{21}{9}$



9) Đánh dấu vị trí của $\frac{8}{7}$



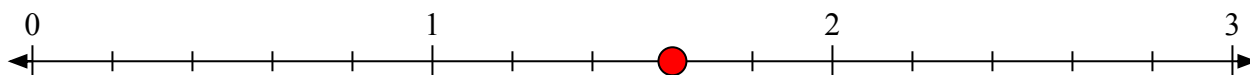
10) Đánh dấu vị trí của $\frac{6}{2}$



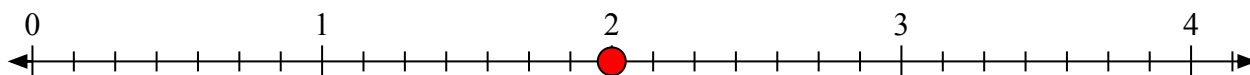


Giải các câu hỏi.

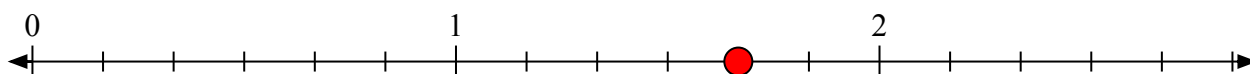
- 1) Đánh dấu vị trí của
- $\frac{8}{5}$



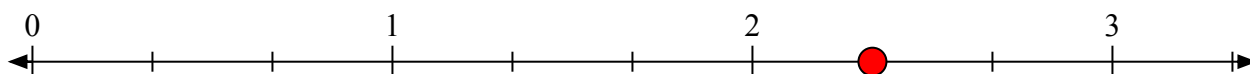
- 2) Đánh dấu vị trí của
- $\frac{14}{7}$




- 3) Đánh dấu vị trí của
- $\frac{10}{6}$



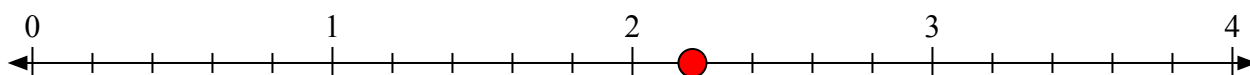
- 4) Đánh dấu vị trí của
- $\frac{7}{3}$



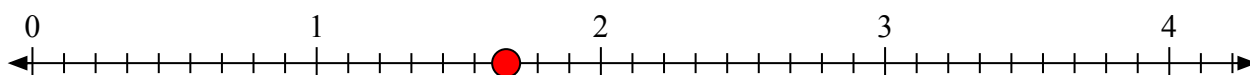
- 5) Đánh dấu vị trí của
- $\frac{3}{2}$



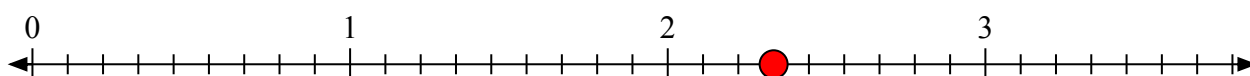
- 6) Đánh dấu vị trí của
- $\frac{11}{5}$



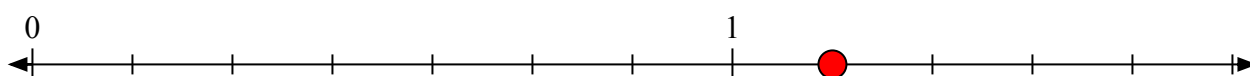
- 7) Đánh dấu vị trí của
- $\frac{15}{9}$




- 8) Đánh dấu vị trí của
- $\frac{21}{9}$



- 9) Đánh dấu vị trí của
- $\frac{8}{7}$




- 10) Đánh dấu vị trí của
- $\frac{6}{2}$



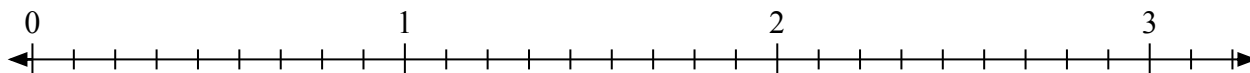


Giải các câu hỏi.

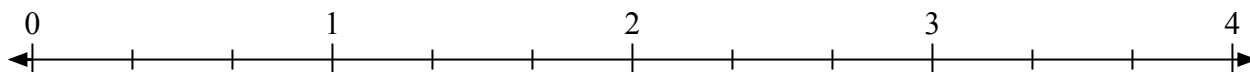
1) Đánh dấu vị trí của $\frac{3}{2}$



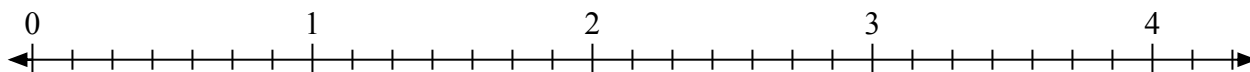
2) Đánh dấu vị trí của $\frac{26}{9}$




3) Đánh dấu vị trí của $\frac{6}{3}$



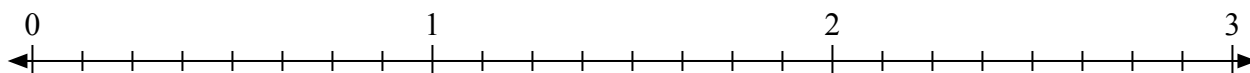
4) Đánh dấu vị trí của $\frac{14}{7}$



5) Đánh dấu vị trí của $\frac{5}{2}$



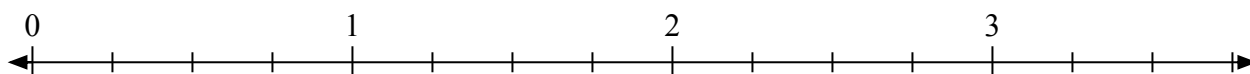
6) Đánh dấu vị trí của $\frac{22}{8}$



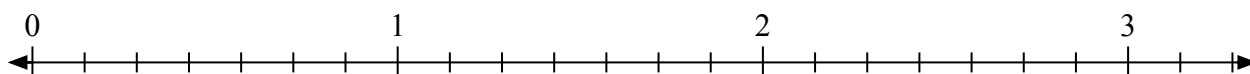
7) Đánh dấu vị trí của $\frac{12}{9}$



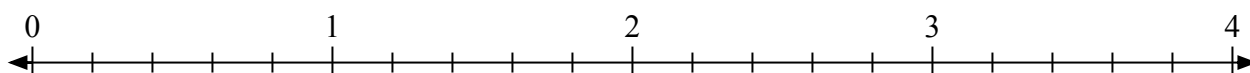
8) Đánh dấu vị trí của $\frac{11}{4}$



9) Đánh dấu vị trí của $\frac{8}{7}$




10) Đánh dấu vị trí của $\frac{11}{5}$



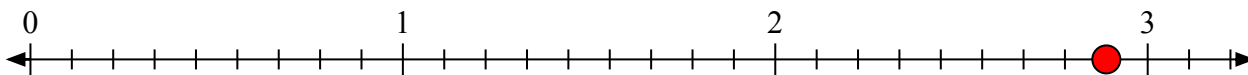


Giải các câu hỏi.

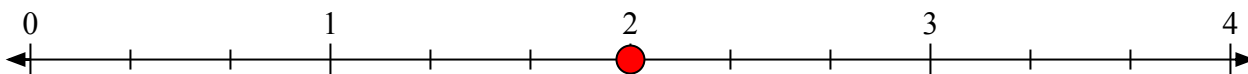
- 1) Đánh dấu vị trí của
- $\frac{3}{2}$



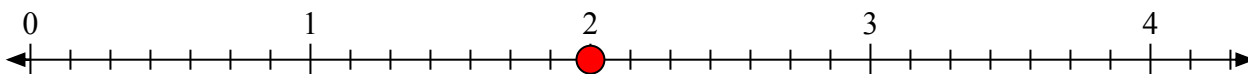
- 2) Đánh dấu vị trí của
- $\frac{26}{9}$




- 3) Đánh dấu vị trí của
- $\frac{6}{3}$



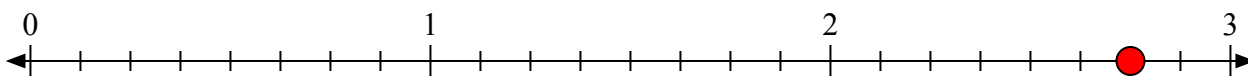
- 4) Đánh dấu vị trí của
- $\frac{14}{7}$




- 5) Đánh dấu vị trí của
- $\frac{5}{2}$



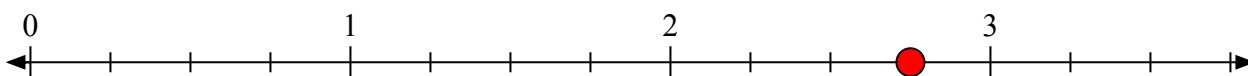
- 6) Đánh dấu vị trí của
- $\frac{22}{8}$



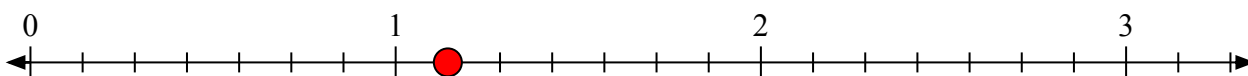
- 7) Đánh dấu vị trí của
- $\frac{12}{9}$



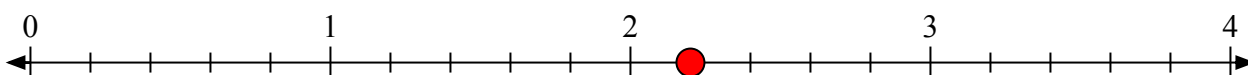
- 8) Đánh dấu vị trí của
- $\frac{11}{4}$



- 9) Đánh dấu vị trí của
- $\frac{8}{7}$



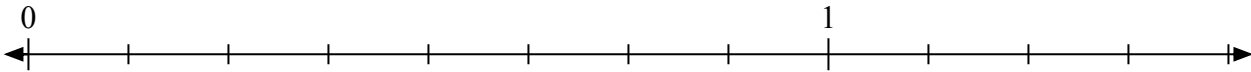
- 10) Đánh dấu vị trí của
- $\frac{11}{5}$



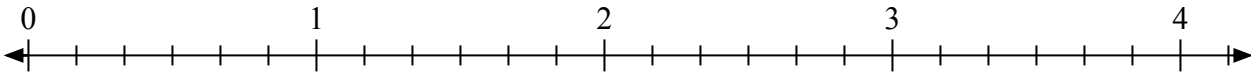


Giải các câu hỏi.

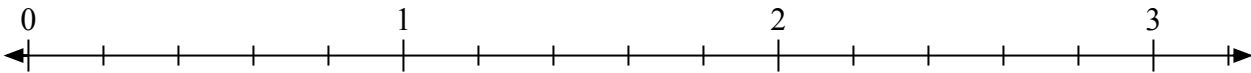
1) Đánh dấu vị trí của $\frac{9}{8}$



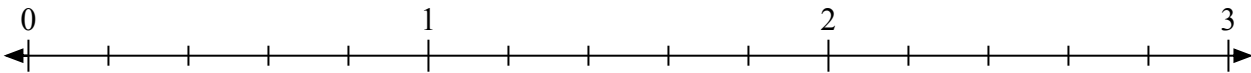
2) Đánh dấu vị trí của $\frac{11}{6}$



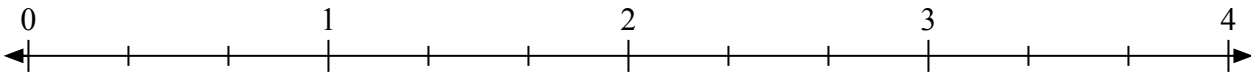
3) Đánh dấu vị trí của $\frac{12}{5}$




4) Đánh dấu vị trí của $\frac{11}{5}$



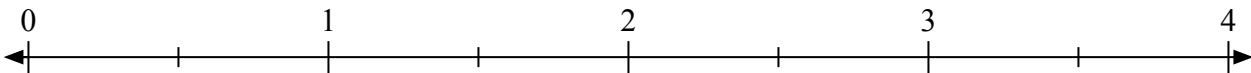
5) Đánh dấu vị trí của $\frac{4}{3}$



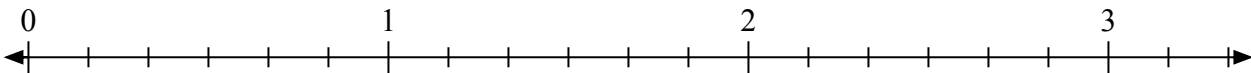
6) Đánh dấu vị trí của $\frac{8}{4}$



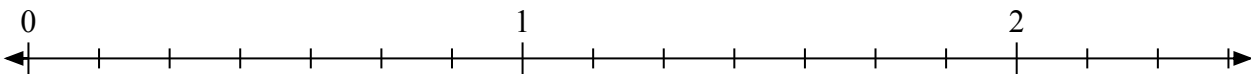
7) Đánh dấu vị trí của $\frac{5}{2}$



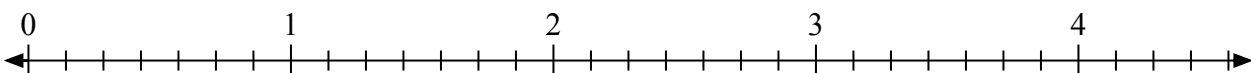
8) Đánh dấu vị trí của $\frac{17}{6}$



9) Đánh dấu vị trí của $\frac{11}{7}$



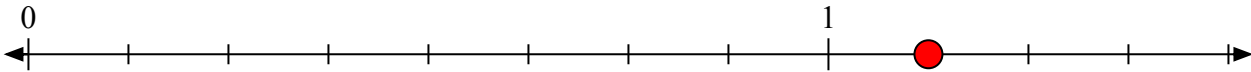
10) Đánh dấu vị trí của $\frac{16}{7}$



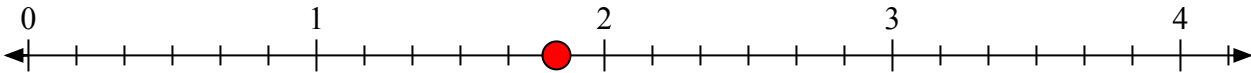


Giải các câu hỏi.

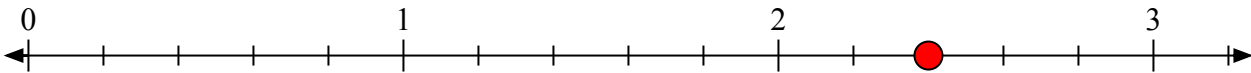
- 1) Đánh dấu vị trí của
- $\frac{9}{8}$



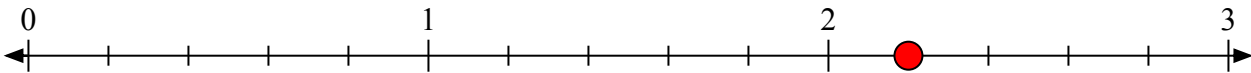
- 2) Đánh dấu vị trí của
- $\frac{11}{6}$



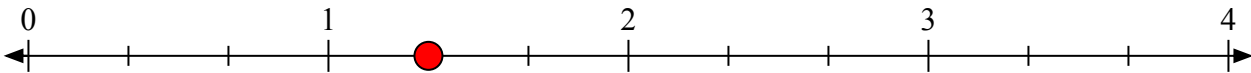
- 3) Đánh dấu vị trí của
- $\frac{12}{5}$




- 4) Đánh dấu vị trí của
- $\frac{11}{5}$



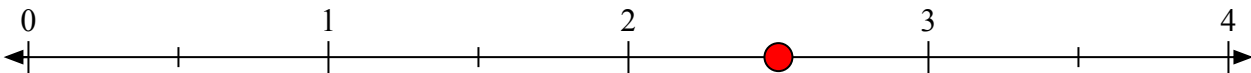
- 5) Đánh dấu vị trí của
- $\frac{4}{3}$



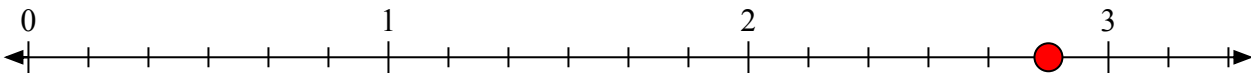
- 6) Đánh dấu vị trí của
- $\frac{8}{4}$



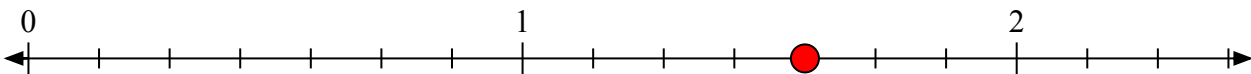
- 7) Đánh dấu vị trí của
- $\frac{5}{2}$



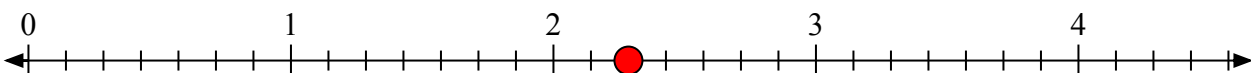
- 8) Đánh dấu vị trí của
- $\frac{17}{6}$



- 9) Đánh dấu vị trí của
- $\frac{11}{7}$




- 10) Đánh dấu vị trí của
- $\frac{16}{7}$






Giải các câu hỏi.


1) Đánh dấu vị trí của $\frac{12}{5}$



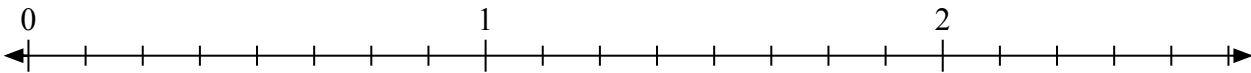
2) Đánh dấu vị trí của $\frac{5}{4}$



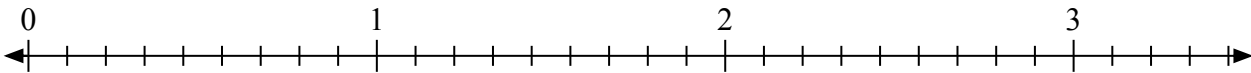
3) Đánh dấu vị trí của $\frac{5}{2}$



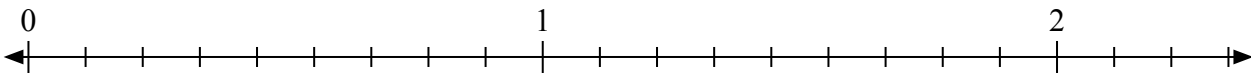
4) Đánh dấu vị trí của $\frac{10}{8}$



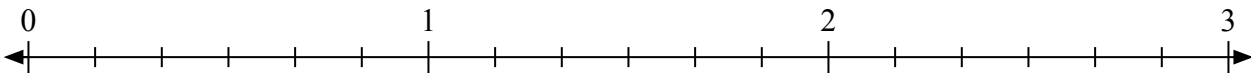
5) Đánh dấu vị trí của $\frac{18}{9}$



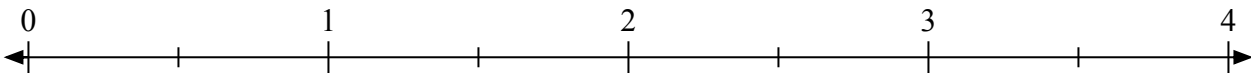
6) Đánh dấu vị trí của $\frac{19}{9}$



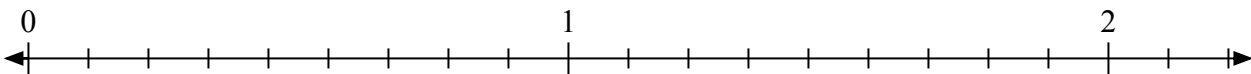
7) Đánh dấu vị trí của $\frac{17}{6}$




8) Đánh dấu vị trí của $\frac{4}{2}$



9) Đánh dấu vị trí của $\frac{15}{9}$


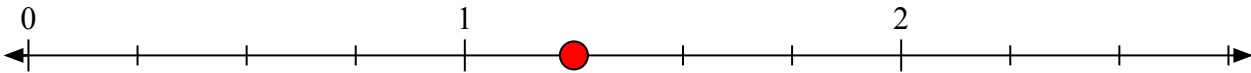

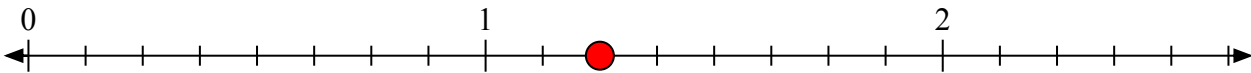
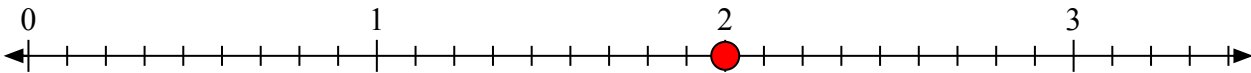
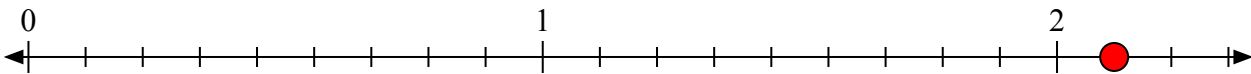
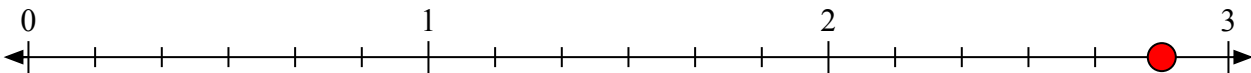
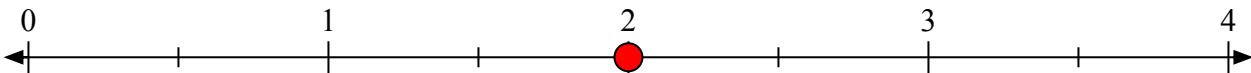
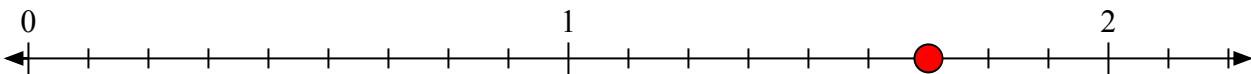


10) Đánh dấu vị trí của $\frac{9}{5}$






Giải các câu hỏi.

1) Đánh dấu vị trí của $\frac{12}{5}$ 2) Đánh dấu vị trí của $\frac{5}{4}$ 3) Đánh dấu vị trí của $\frac{5}{2}$ 4) Đánh dấu vị trí của $\frac{10}{8}$ 5) Đánh dấu vị trí của $\frac{18}{9}$ 6) Đánh dấu vị trí của $\frac{19}{9}$ 7) Đánh dấu vị trí của $\frac{17}{6}$ 8) Đánh dấu vị trí của $\frac{4}{2}$ 9) Đánh dấu vị trí của $\frac{15}{9}$ 10) Đánh dấu vị trí của $\frac{9}{5}$ 

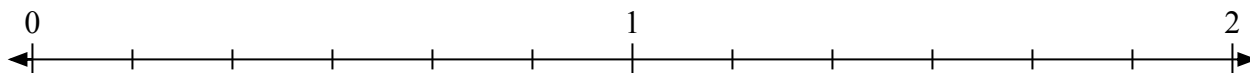


Giải các câu hỏi.

1) Đánh dấu vị trí của $\frac{9}{7}$



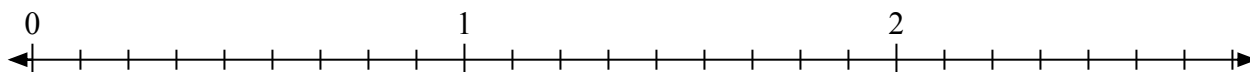
2) Đánh dấu vị trí của $\frac{7}{6}$



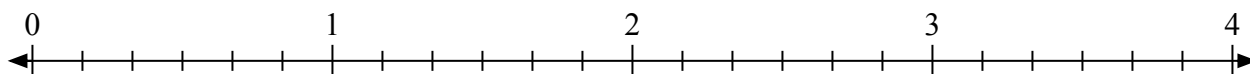
3) Đánh dấu vị trí của $\frac{5}{4}$



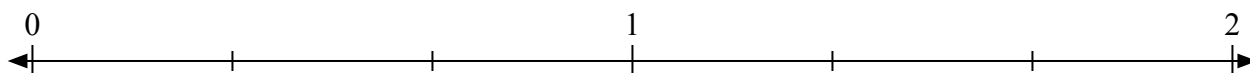
4) Đánh dấu vị trí của $\frac{23}{9}$



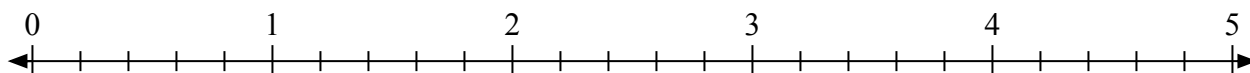
5) Đánh dấu vị trí của $\frac{16}{6}$



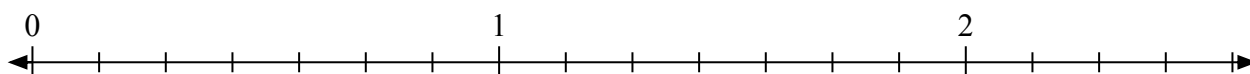
6) Đánh dấu vị trí của $\frac{5}{3}$



7) Đánh dấu vị trí của $\frac{13}{5}$



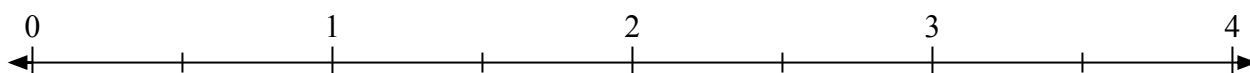
8) Đánh dấu vị trí của $\frac{8}{7}$



9) Đánh dấu vị trí của $\frac{8}{5}$




10) Đánh dấu vị trí của $\frac{5}{2}$



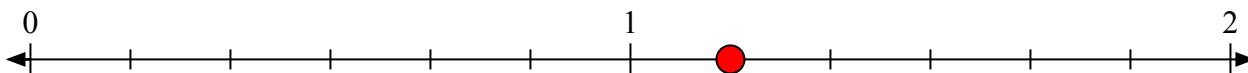


Giải các câu hỏi.

- 1) Đánh dấu vị trí của
- $\frac{9}{7}$



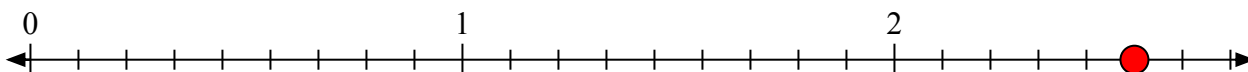
- 2) Đánh dấu vị trí của
- $\frac{7}{6}$



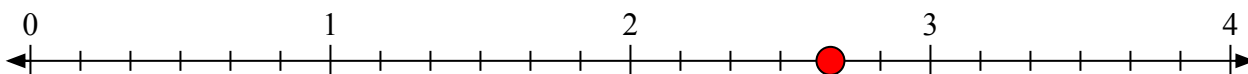
- 3) Đánh dấu vị trí của
- $\frac{5}{4}$



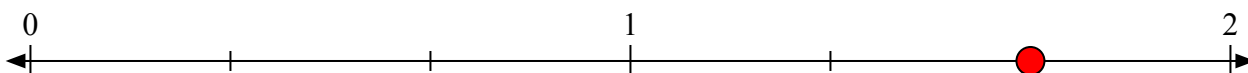
- 4) Đánh dấu vị trí của
- $\frac{23}{9}$



- 5) Đánh dấu vị trí của
- $\frac{16}{6}$



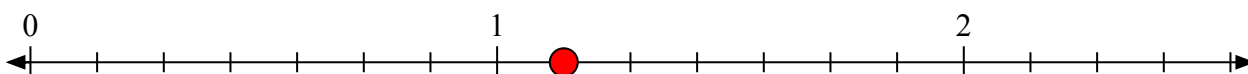
- 6) Đánh dấu vị trí của
- $\frac{5}{3}$




- 7) Đánh dấu vị trí của
- $\frac{13}{5}$



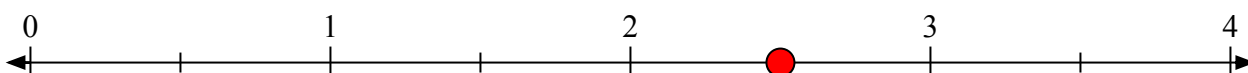
- 8) Đánh dấu vị trí của
- $\frac{8}{7}$



- 9) Đánh dấu vị trí của
- $\frac{8}{5}$



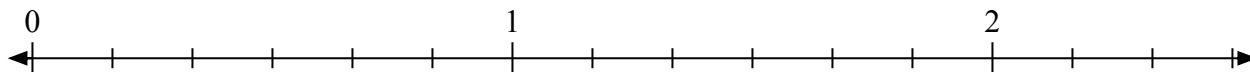
- 10) Đánh dấu vị trí của
- $\frac{5}{2}$



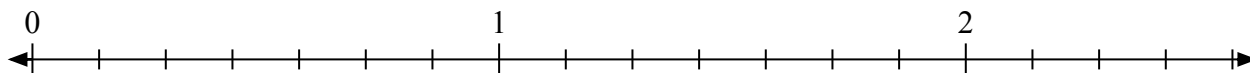


Giải các câu hỏi.

1) Đánh dấu vị trí của $\frac{11}{6}$



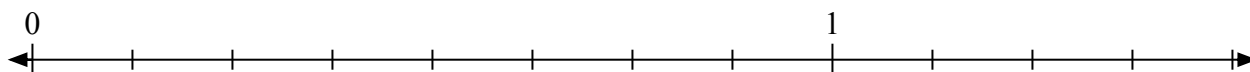
2) Đánh dấu vị trí của $\frac{14}{7}$



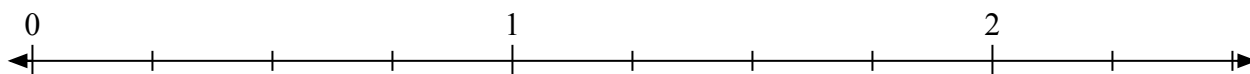
3) Đánh dấu vị trí của $\frac{6}{4}$



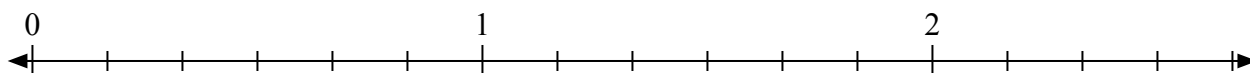
4) Đánh dấu vị trí của $\frac{11}{8}$



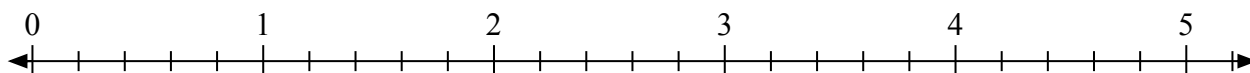
5) Đánh dấu vị trí của $\frac{8}{4}$



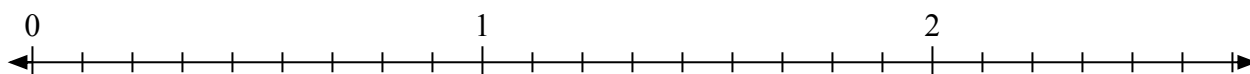
6) Đánh dấu vị trí của $\frac{15}{6}$



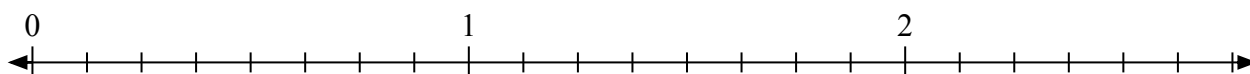
7) Đánh dấu vị trí của $\frac{12}{5}$




8) Đánh dấu vị trí của $\frac{11}{9}$



9) Đánh dấu vị trí của $\frac{14}{8}$



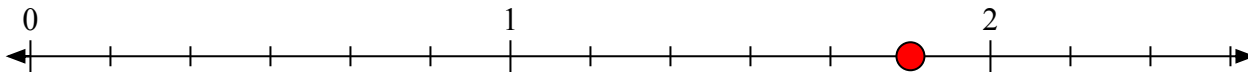
10) Đánh dấu vị trí của $\frac{9}{6}$



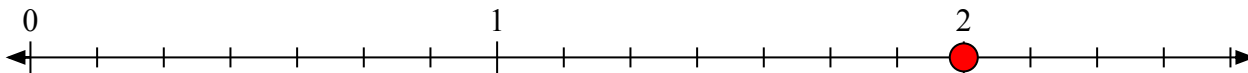


Giải các câu hỏi.

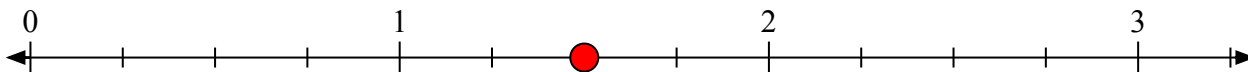
- 1) Đánh dấu vị trí của
- $\frac{11}{6}$



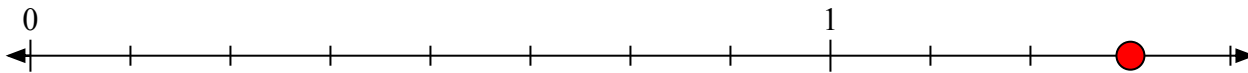
- 2) Đánh dấu vị trí của
- $\frac{14}{7}$



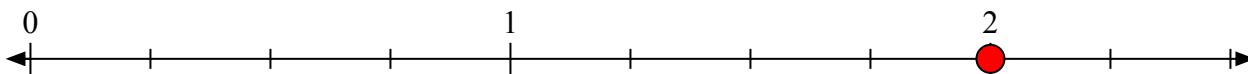
- 3) Đánh dấu vị trí của
- $\frac{6}{4}$



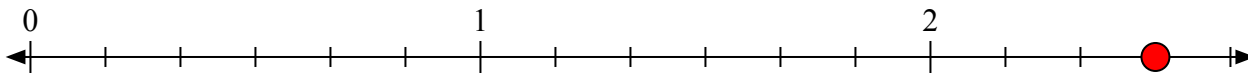
- 4) Đánh dấu vị trí của
- $\frac{11}{8}$



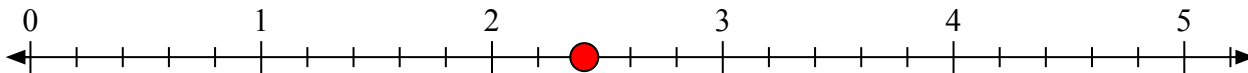
- 5) Đánh dấu vị trí của
- $\frac{8}{4}$



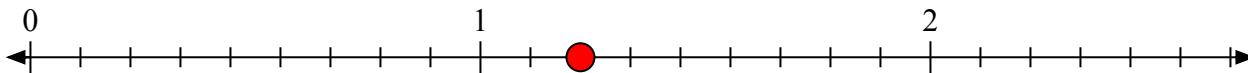
- 6) Đánh dấu vị trí của
- $\frac{15}{6}$



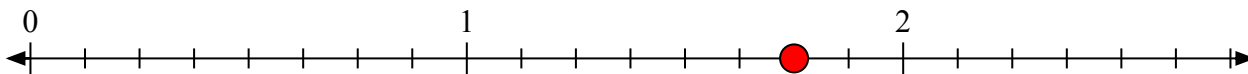
- 7) Đánh dấu vị trí của
- $\frac{12}{5}$



- 8) Đánh dấu vị trí của
- $\frac{11}{9}$



- 9) Đánh dấu vị trí của
- $\frac{14}{8}$



- 10) Đánh dấu vị trí của
- $\frac{9}{6}$

