


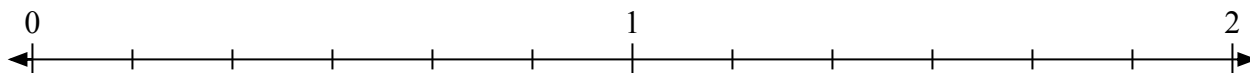


Giải các câu hỏi.

1) Đánh dấu vị trí của $\frac{9}{7}$



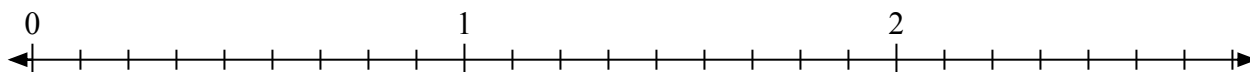
2) Đánh dấu vị trí của $\frac{7}{6}$



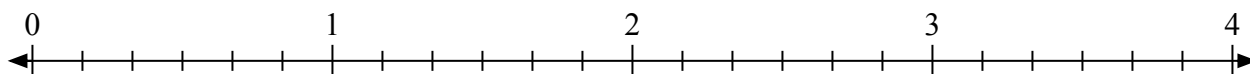
3) Đánh dấu vị trí của $\frac{5}{4}$



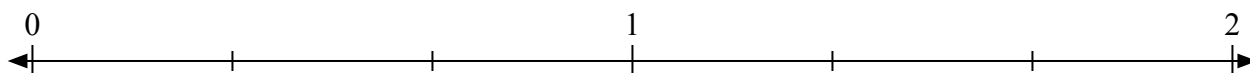
4) Đánh dấu vị trí của $\frac{23}{9}$



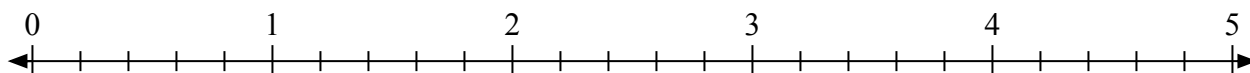
5) Đánh dấu vị trí của $\frac{16}{6}$



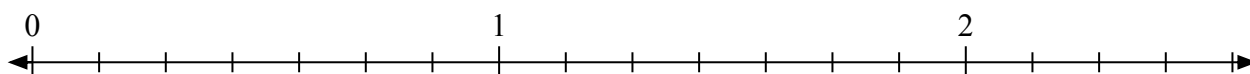
6) Đánh dấu vị trí của $\frac{5}{3}$



7) Đánh dấu vị trí của $\frac{13}{5}$



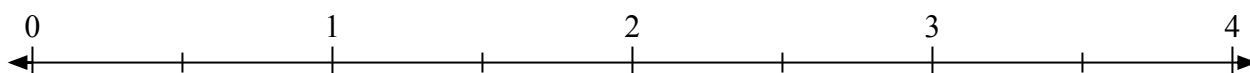
8) Đánh dấu vị trí của $\frac{8}{7}$



9) Đánh dấu vị trí của $\frac{8}{5}$




10) Đánh dấu vị trí của $\frac{5}{2}$



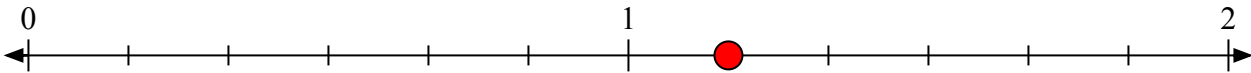


Giải các câu hỏi.


- 1) Đánh dấu vị trí của
- $\frac{9}{7}$



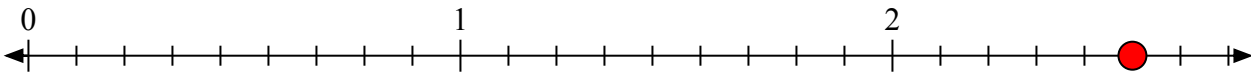
- 2) Đánh dấu vị trí của
- $\frac{7}{6}$



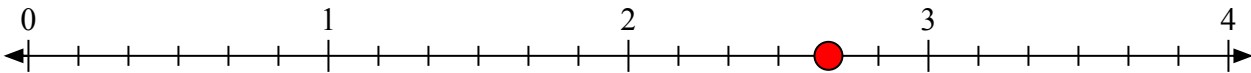
- 3) Đánh dấu vị trí của
- $\frac{5}{4}$



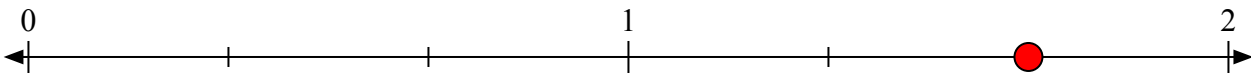
- 4) Đánh dấu vị trí của
- $\frac{23}{9}$



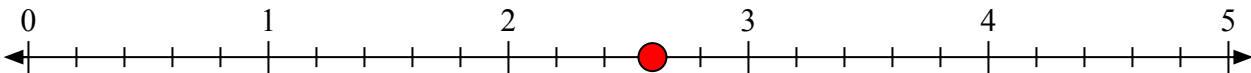
- 5) Đánh dấu vị trí của
- $\frac{16}{6}$



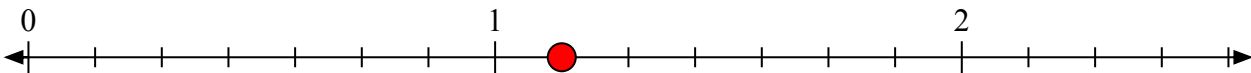
- 6) Đánh dấu vị trí của
- $\frac{5}{3}$




- 7) Đánh dấu vị trí của
- $\frac{13}{5}$



- 8) Đánh dấu vị trí của
- $\frac{8}{7}$



- 9) Đánh dấu vị trí của
- $\frac{8}{5}$



- 10) Đánh dấu vị trí của
- $\frac{5}{2}$

