





Giải các câu hỏi.


1) Đánh dấu vị trí của $\frac{12}{5}$



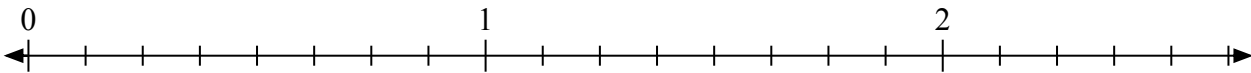
2) Đánh dấu vị trí của $\frac{5}{4}$



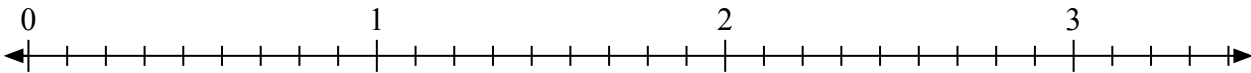
3) Đánh dấu vị trí của $\frac{5}{2}$



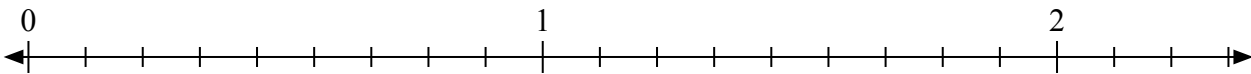
4) Đánh dấu vị trí của $\frac{10}{8}$



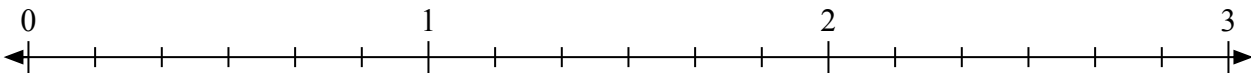
5) Đánh dấu vị trí của $\frac{18}{9}$



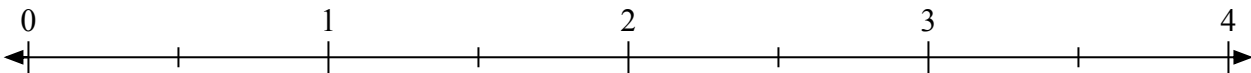
6) Đánh dấu vị trí của $\frac{19}{9}$



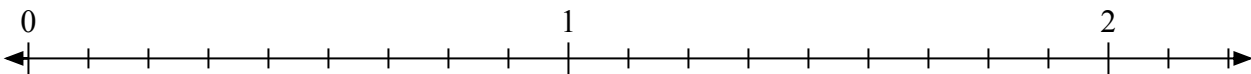
7) Đánh dấu vị trí của $\frac{17}{6}$




8) Đánh dấu vị trí của $\frac{4}{2}$



9) Đánh dấu vị trí của $\frac{15}{9}$


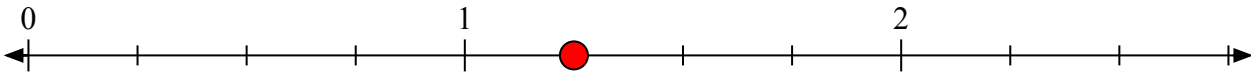

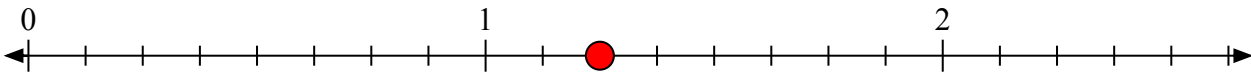
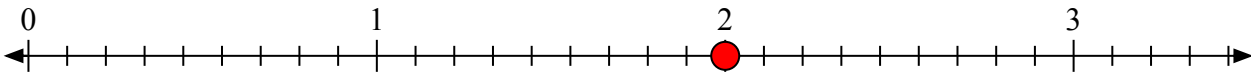
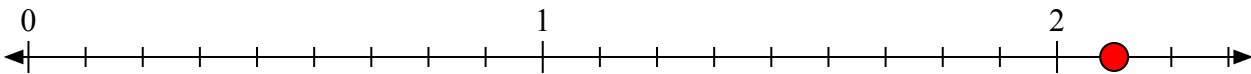
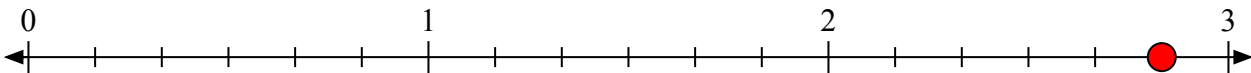
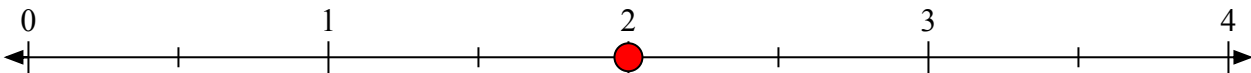
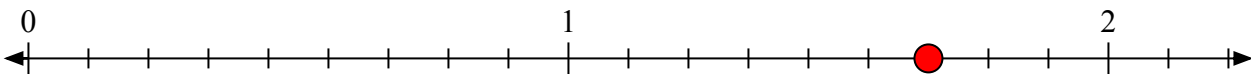


10) Đánh dấu vị trí của $\frac{9}{5}$





Giải các câu hỏi.

1) Đánh dấu vị trí của $\frac{12}{5}$ 2) Đánh dấu vị trí của $\frac{5}{4}$ 3) Đánh dấu vị trí của $\frac{5}{2}$ 4) Đánh dấu vị trí của $\frac{10}{8}$ 5) Đánh dấu vị trí của $\frac{18}{9}$ 6) Đánh dấu vị trí của $\frac{19}{9}$ 7) Đánh dấu vị trí của $\frac{17}{6}$ 8) Đánh dấu vị trí của $\frac{4}{2}$ 9) Đánh dấu vị trí của $\frac{15}{9}$ 10) Đánh dấu vị trí của $\frac{9}{5}$ 