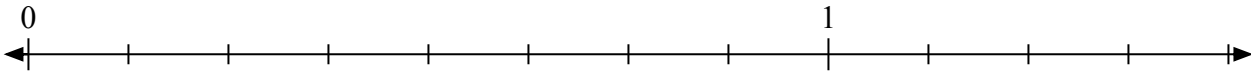


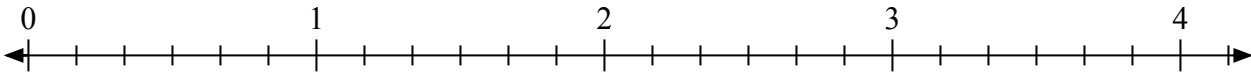


Giải các câu hỏi.

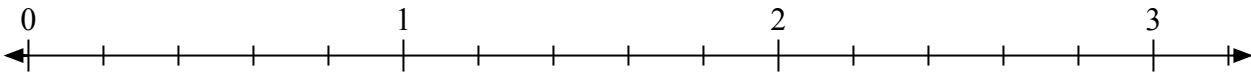
1) Đánh dấu vị trí của $\frac{9}{8}$



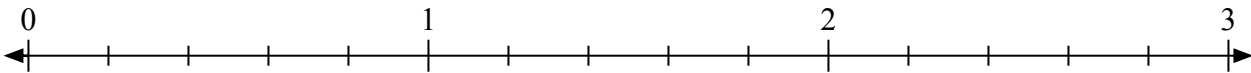
2) Đánh dấu vị trí của $\frac{11}{6}$



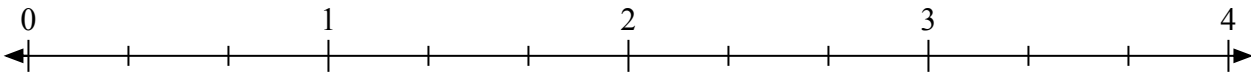
3) Đánh dấu vị trí của $\frac{12}{5}$




4) Đánh dấu vị trí của $\frac{11}{5}$



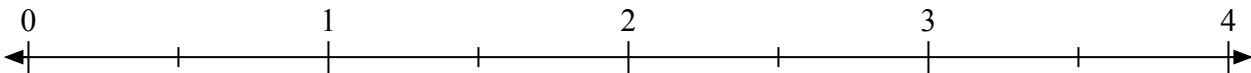
5) Đánh dấu vị trí của $\frac{4}{3}$



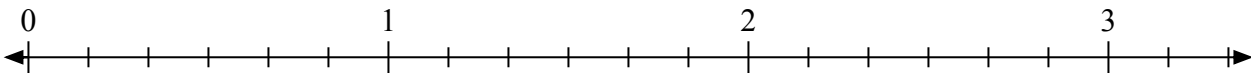
6) Đánh dấu vị trí của $\frac{8}{4}$



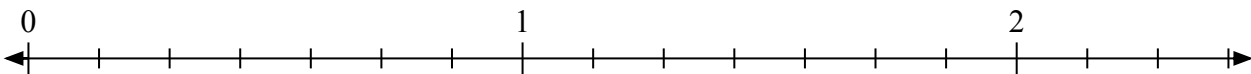
7) Đánh dấu vị trí của $\frac{5}{2}$



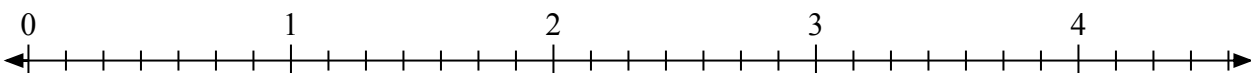
8) Đánh dấu vị trí của $\frac{17}{6}$



9) Đánh dấu vị trí của $\frac{11}{7}$



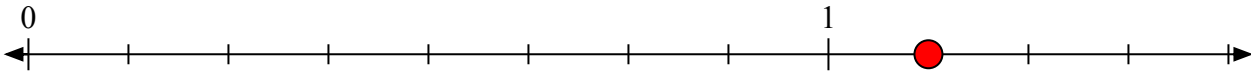
10) Đánh dấu vị trí của $\frac{16}{7}$



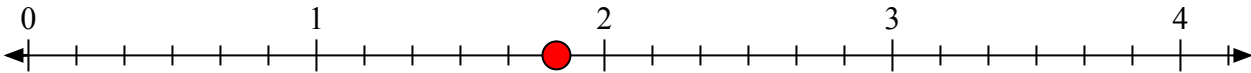


Giải các câu hỏi.

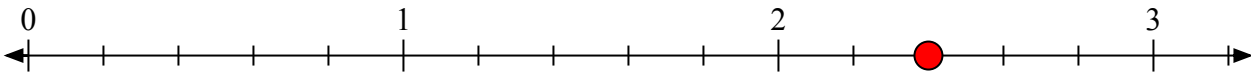
- 1) Đánh dấu vị trí của
- $\frac{9}{8}$



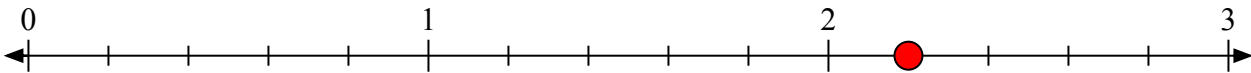
- 2) Đánh dấu vị trí của
- $\frac{11}{6}$



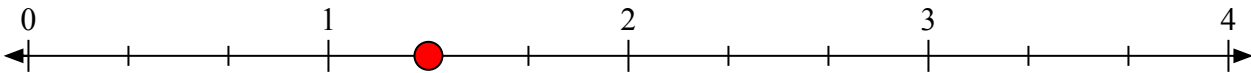
- 3) Đánh dấu vị trí của
- $\frac{12}{5}$




- 4) Đánh dấu vị trí của
- $\frac{11}{5}$



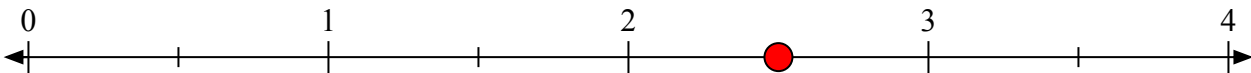
- 5) Đánh dấu vị trí của
- $\frac{4}{3}$



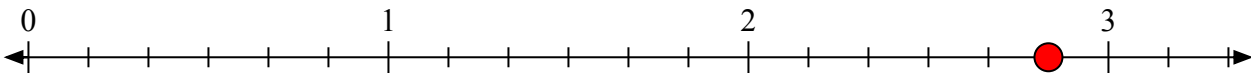
- 6) Đánh dấu vị trí của
- $\frac{8}{4}$



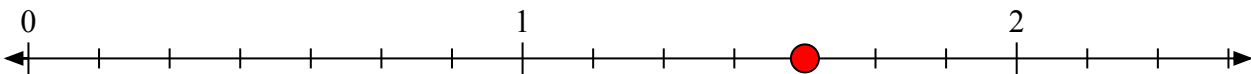
- 7) Đánh dấu vị trí của
- $\frac{5}{2}$



- 8) Đánh dấu vị trí của
- $\frac{17}{6}$



- 9) Đánh dấu vị trí của
- $\frac{11}{7}$



- 10) Đánh dấu vị trí của
- $\frac{16}{7}$

