


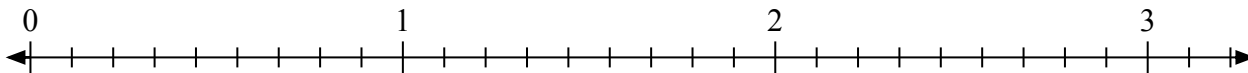


Giải các câu hỏi.

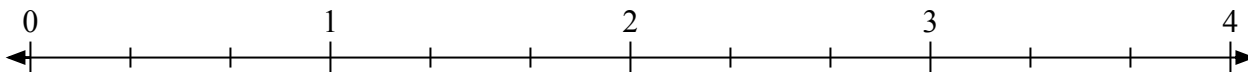
1) Đánh dấu vị trí của $\frac{3}{2}$



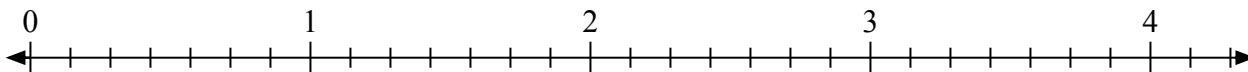
2) Đánh dấu vị trí của $\frac{26}{9}$




3) Đánh dấu vị trí của $\frac{6}{3}$



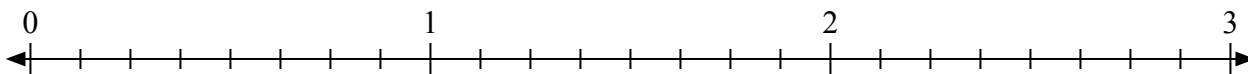
4) Đánh dấu vị trí của $\frac{14}{7}$




5) Đánh dấu vị trí của $\frac{5}{2}$



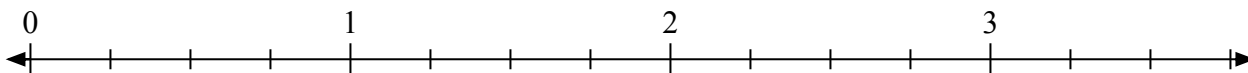
6) Đánh dấu vị trí của $\frac{22}{8}$



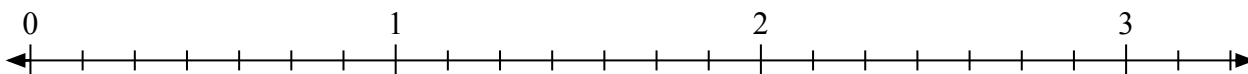
7) Đánh dấu vị trí của $\frac{12}{9}$



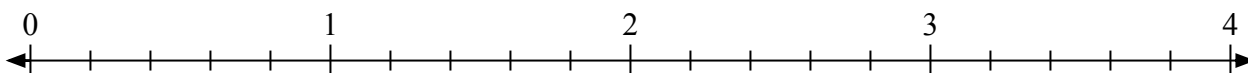
8) Đánh dấu vị trí của $\frac{11}{4}$



9) Đánh dấu vị trí của $\frac{8}{7}$




10) Đánh dấu vị trí của $\frac{11}{5}$



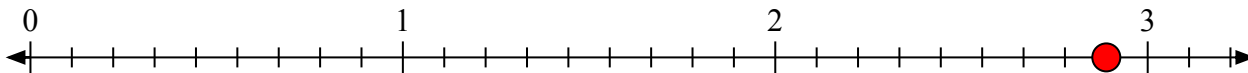


Giải các câu hỏi.

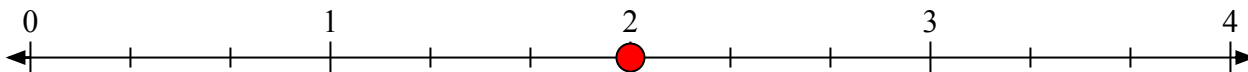
- 1) Đánh dấu vị trí của
- $\frac{3}{2}$



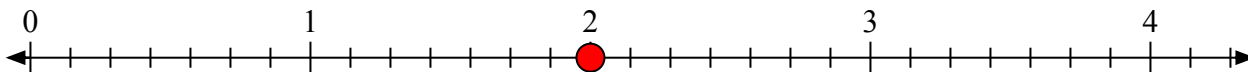
- 2) Đánh dấu vị trí của
- $\frac{26}{9}$




- 3) Đánh dấu vị trí của
- $\frac{6}{3}$



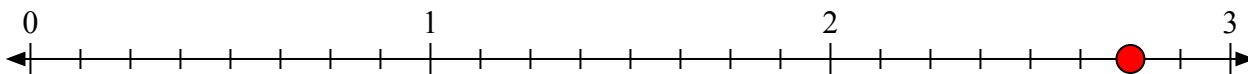
- 4) Đánh dấu vị trí của
- $\frac{14}{7}$




- 5) Đánh dấu vị trí của
- $\frac{5}{2}$



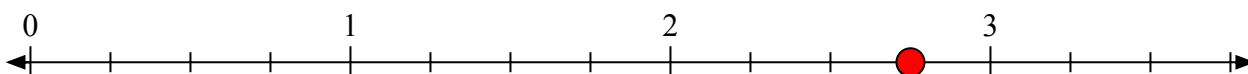
- 6) Đánh dấu vị trí của
- $\frac{22}{8}$



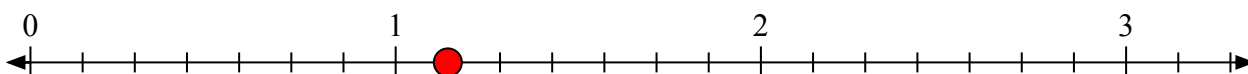
- 7) Đánh dấu vị trí của
- $\frac{12}{9}$



- 8) Đánh dấu vị trí của
- $\frac{11}{4}$



- 9) Đánh dấu vị trí của
- $\frac{8}{7}$



- 10) Đánh dấu vị trí của
- $\frac{11}{5}$

