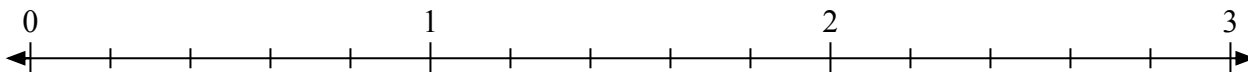


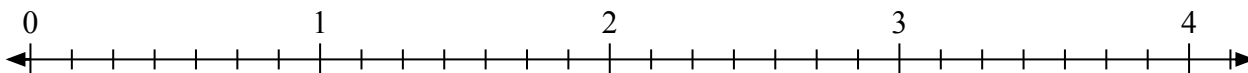


Giải các câu hỏi.

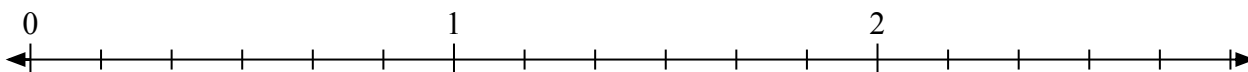
1) Đánh dấu vị trí của $\frac{8}{5}$



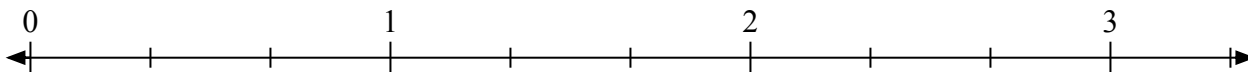
2) Đánh dấu vị trí của $\frac{14}{7}$




3) Đánh dấu vị trí của $\frac{10}{6}$



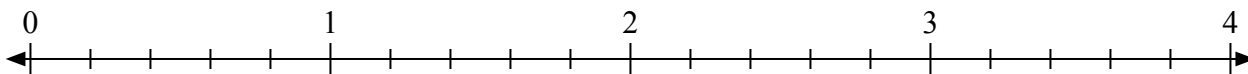
4) Đánh dấu vị trí của $\frac{7}{3}$



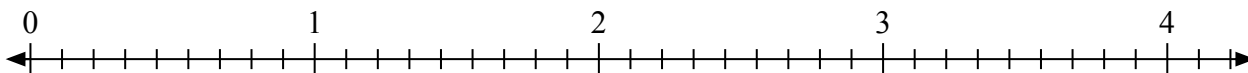
5) Đánh dấu vị trí của $\frac{3}{2}$



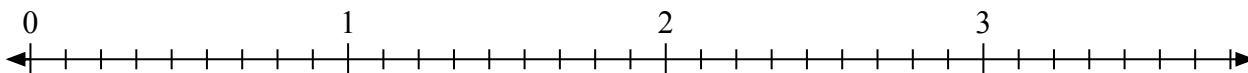
6) Đánh dấu vị trí của $\frac{11}{5}$



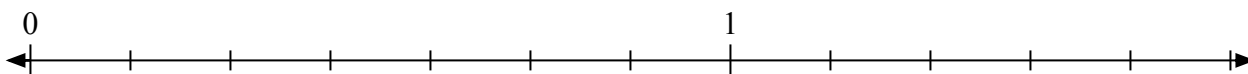
7) Đánh dấu vị trí của $\frac{15}{9}$



8) Đánh dấu vị trí của $\frac{21}{9}$



9) Đánh dấu vị trí của $\frac{8}{7}$



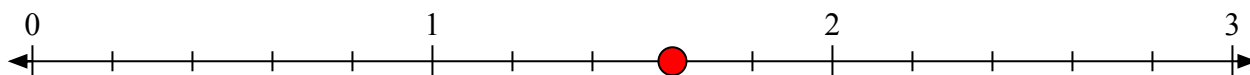
10) Đánh dấu vị trí của $\frac{6}{2}$



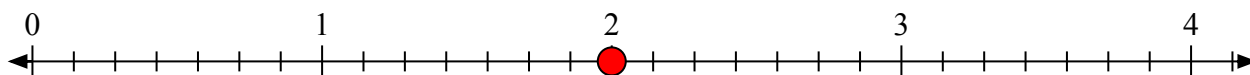


Giải các câu hỏi.

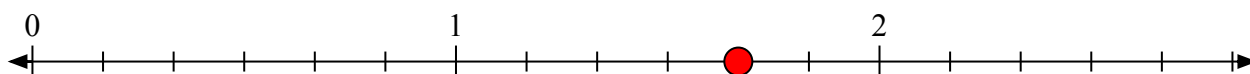
- 1) Đánh dấu vị trí của
- $\frac{8}{5}$



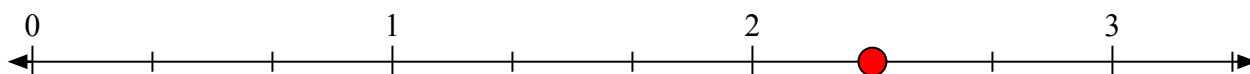
- 2) Đánh dấu vị trí của
- $\frac{14}{7}$




- 3) Đánh dấu vị trí của
- $\frac{10}{6}$



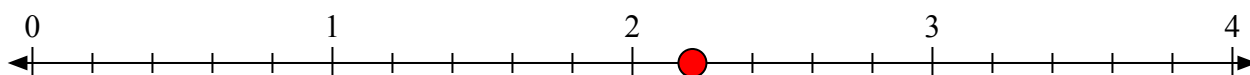
- 4) Đánh dấu vị trí của
- $\frac{7}{3}$



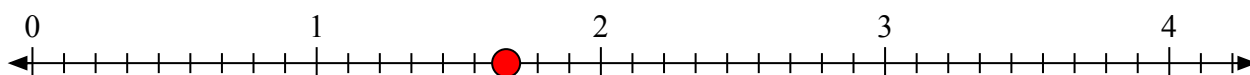
- 5) Đánh dấu vị trí của
- $\frac{3}{2}$



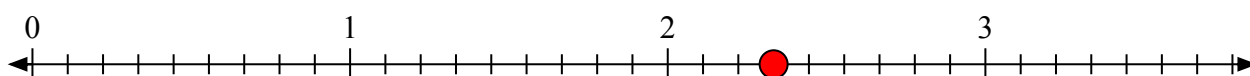
- 6) Đánh dấu vị trí của
- $\frac{11}{5}$



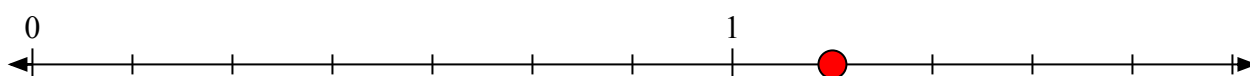
- 7) Đánh dấu vị trí của
- $\frac{15}{9}$



- 8) Đánh dấu vị trí của
- $\frac{21}{9}$



- 9) Đánh dấu vị trí của
- $\frac{8}{7}$



- 10) Đánh dấu vị trí của
- $\frac{6}{2}$

