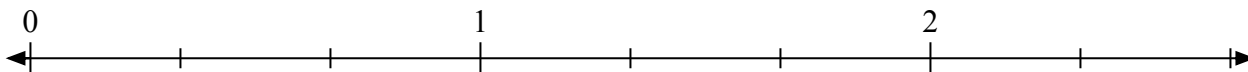


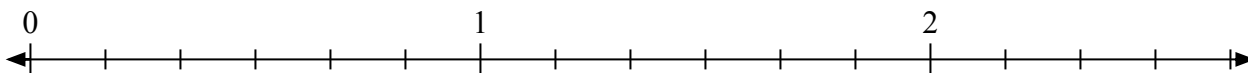


Giải các câu hỏi.

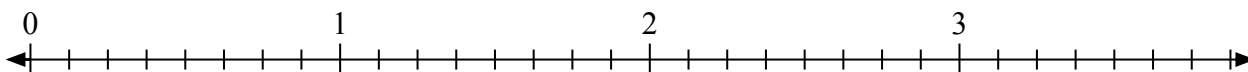
1) Đánh dấu vị trí của $\frac{4}{3}$




2) Đánh dấu vị trí của $\frac{15}{6}$



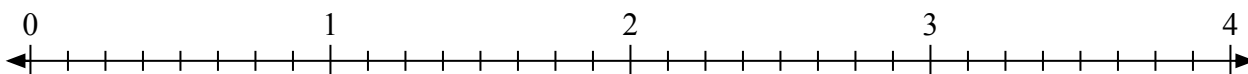
3) Đánh dấu vị trí của $\frac{11}{8}$



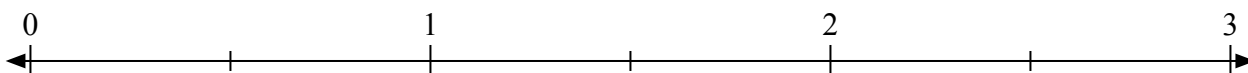
4) Đánh dấu vị trí của $\frac{10}{4}$



5) Đánh dấu vị trí của $\frac{21}{8}$



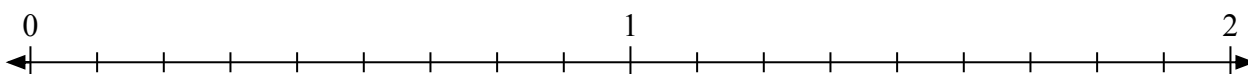
6) Đánh dấu vị trí của $\frac{4}{2}$



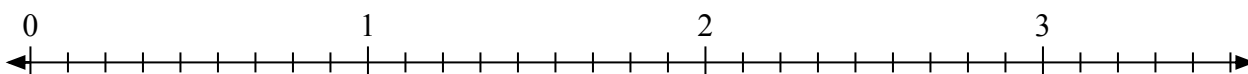
7) Đánh dấu vị trí của $\frac{3}{2}$



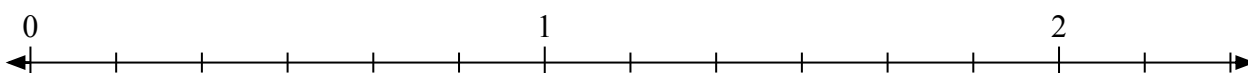
8) Đánh dấu vị trí của $\frac{14}{9}$



9) Đánh dấu vị trí của $\frac{20}{9}$



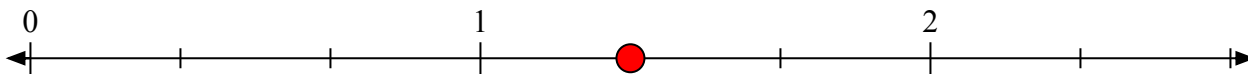
10) Đánh dấu vị trí của $\frac{9}{6}$



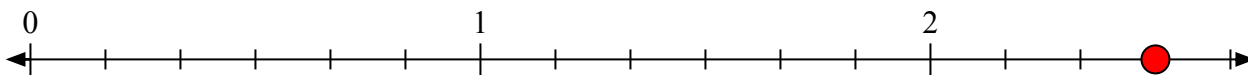


Giải các câu hỏi.

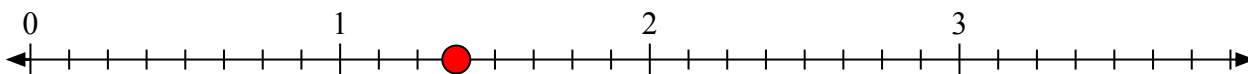
- 1) Đánh dấu vị trí của
- $\frac{4}{3}$




- 2) Đánh dấu vị trí của
- $\frac{15}{6}$



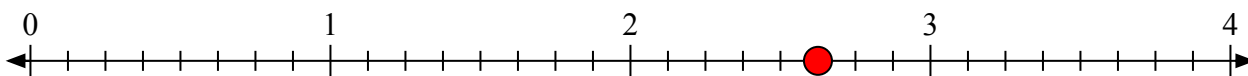
- 3) Đánh dấu vị trí của
- $\frac{11}{8}$



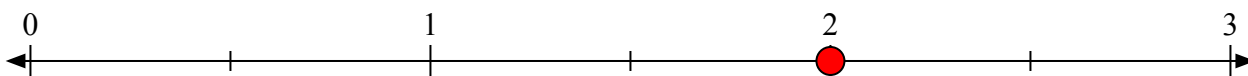
- 4) Đánh dấu vị trí của
- $\frac{10}{4}$




- 5) Đánh dấu vị trí của
- $\frac{21}{8}$



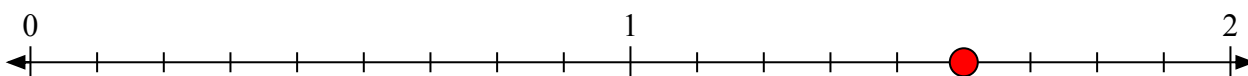
- 6) Đánh dấu vị trí của
- $\frac{4}{2}$



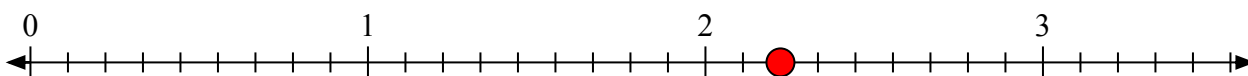
- 7) Đánh dấu vị trí của
- $\frac{3}{2}$



- 8) Đánh dấu vị trí của
- $\frac{14}{9}$



- 9) Đánh dấu vị trí của
- $\frac{20}{9}$



- 10) Đánh dấu vị trí của
- $\frac{9}{6}$

