





Giải các câu hỏi.

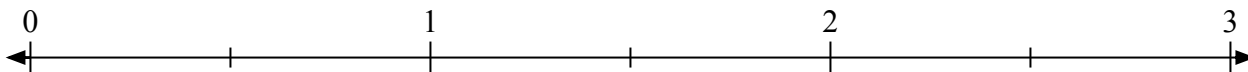
1) Đánh dấu vị trí của $\frac{6}{3}$



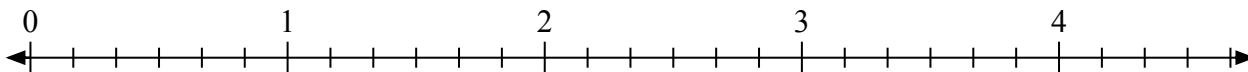
2) Đánh dấu vị trí của $\frac{5}{4}$



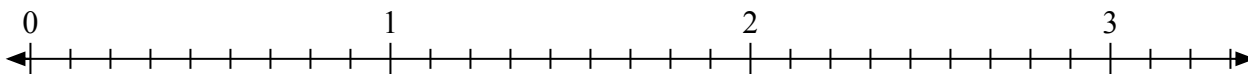
3) Đánh dấu vị trí của $\frac{3}{2}$




4) Đánh dấu vị trí của $\frac{12}{6}$



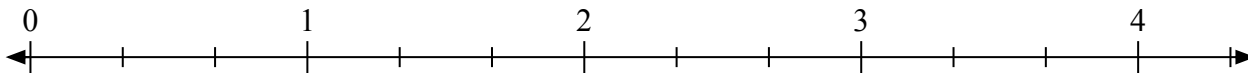
5) Đánh dấu vị trí của $\frac{20}{9}$



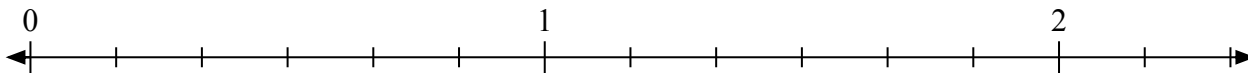
6) Đánh dấu vị trí của $\frac{4}{2}$



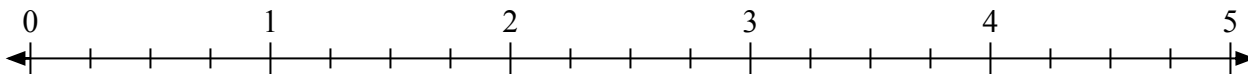
7) Đánh dấu vị trí của $\frac{5}{3}$



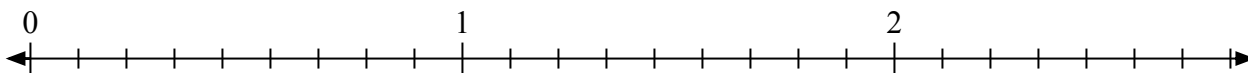
8) Đánh dấu vị trí của $\frac{11}{6}$



9) Đánh dấu vị trí của $\frac{9}{4}$




10) Đánh dấu vị trí của $\frac{14}{9}$






Giải các câu hỏi.

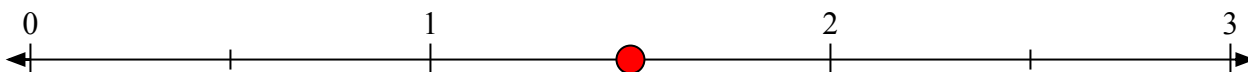
- 1) Đánh dấu vị trí của
- $\frac{6}{3}$



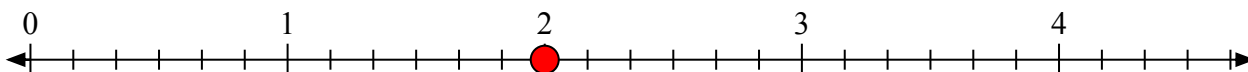
- 2) Đánh dấu vị trí của
- $\frac{5}{4}$



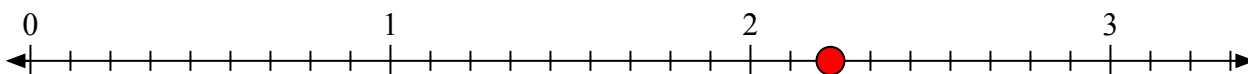
- 3) Đánh dấu vị trí của
- $\frac{3}{2}$




- 4) Đánh dấu vị trí của
- $\frac{12}{6}$



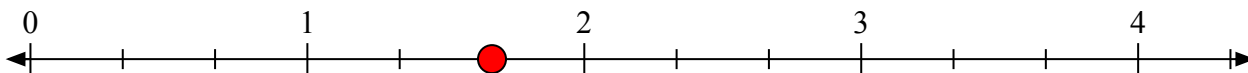
- 5) Đánh dấu vị trí của
- $\frac{20}{9}$



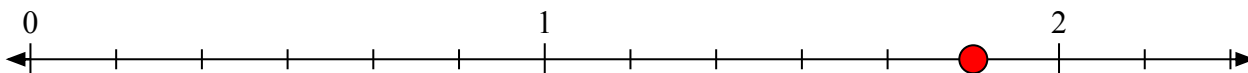
- 6) Đánh dấu vị trí của
- $\frac{4}{2}$



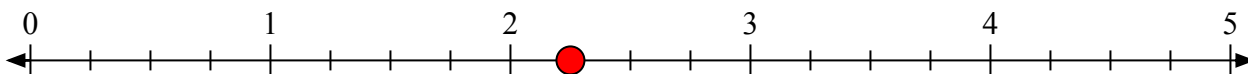
- 7) Đánh dấu vị trí của
- $\frac{5}{3}$



- 8) Đánh dấu vị trí của
- $\frac{11}{6}$



- 9) Đánh dấu vị trí của
- $\frac{9}{4}$



- 10) Đánh dấu vị trí của
- $\frac{14}{9}$

