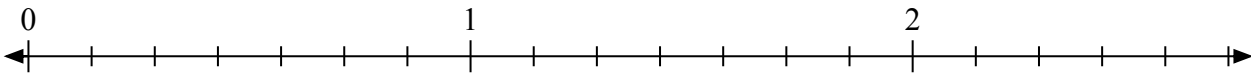





Giải các câu hỏi.

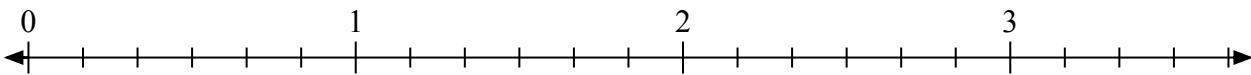
1) Đánh dấu vị trí của $\frac{14}{7}$



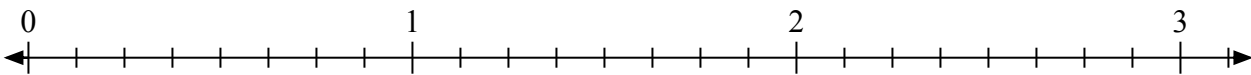
2) Đánh dấu vị trí của $\frac{5}{3}$



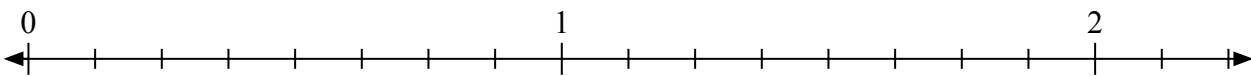
3) Đánh dấu vị trí của $\frac{12}{6}$



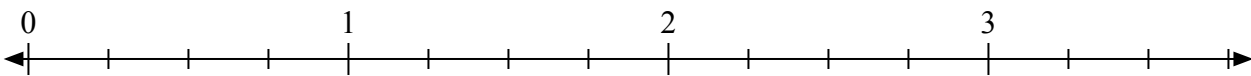
4) Đánh dấu vị trí của $\frac{17}{8}$



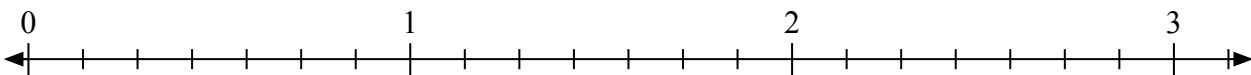
5) Đánh dấu vị trí của $\frac{13}{8}$




6) Đánh dấu vị trí của $\frac{9}{4}$



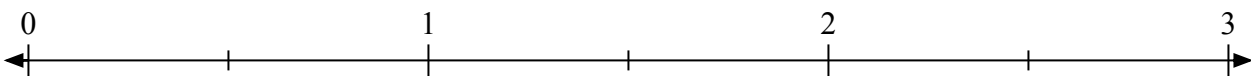
7) Đánh dấu vị trí của $\frac{18}{7}$



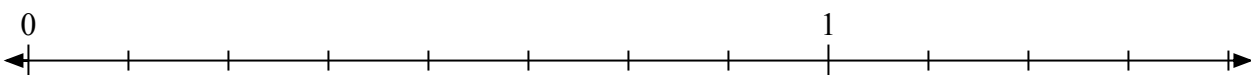
8) Đánh dấu vị trí của $\frac{6}{3}$



9) Đánh dấu vị trí của $\frac{3}{2}$



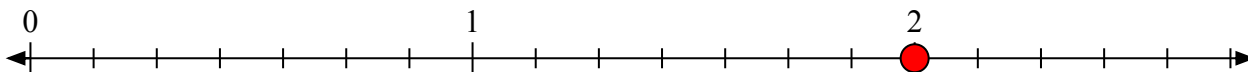
10) Đánh dấu vị trí của $\frac{10}{8}$





Giải các câu hỏi.

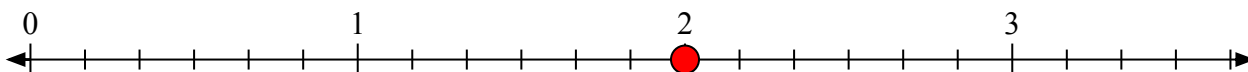
- 1) Đánh dấu vị trí của
- $\frac{14}{7}$



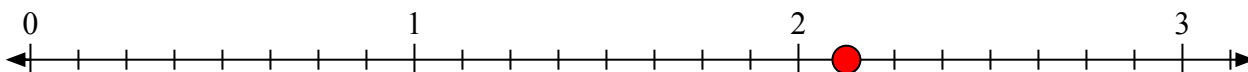
- 2) Đánh dấu vị trí của
- $\frac{5}{3}$



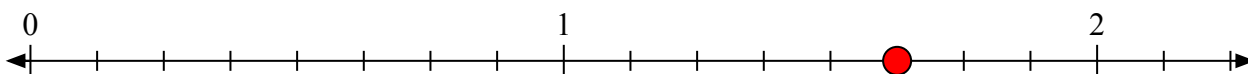
- 3) Đánh dấu vị trí của
- $\frac{12}{6}$



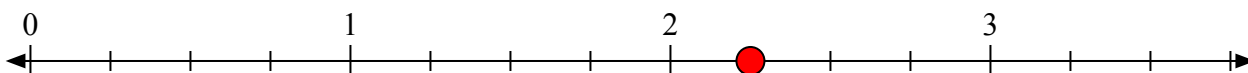
- 4) Đánh dấu vị trí của
- $\frac{17}{8}$



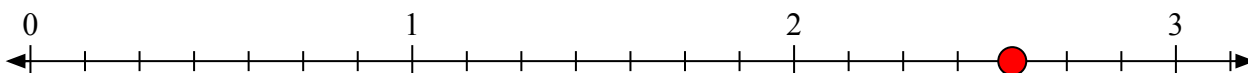
- 5) Đánh dấu vị trí của
- $\frac{13}{8}$




- 6) Đánh dấu vị trí của
- $\frac{9}{4}$



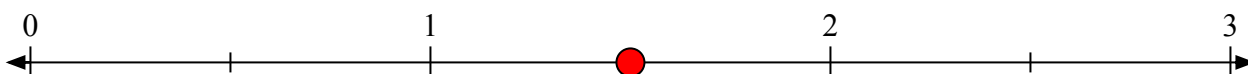
- 7) Đánh dấu vị trí của
- $\frac{18}{7}$



- 8) Đánh dấu vị trí của
- $\frac{6}{3}$



- 9) Đánh dấu vị trí của
- $\frac{3}{2}$



- 10) Đánh dấu vị trí của
- $\frac{10}{8}$

