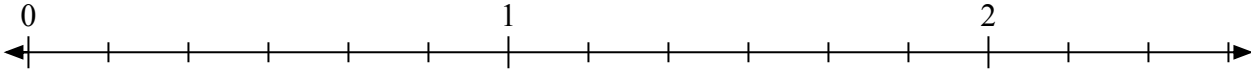


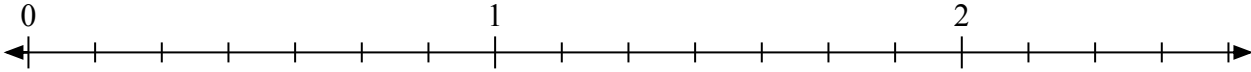


Giải các câu hỏi.

1) Đánh dấu vị trí của $\frac{11}{6}$



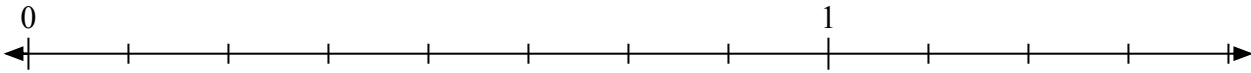
2) Đánh dấu vị trí của $\frac{14}{7}$



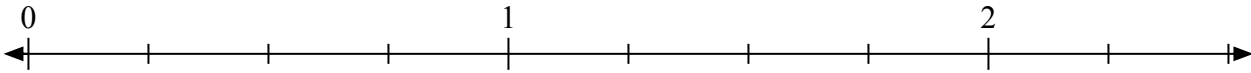
3) Đánh dấu vị trí của $\frac{6}{4}$



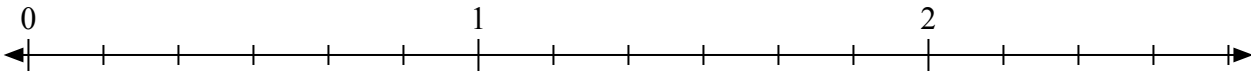
4) Đánh dấu vị trí của $\frac{11}{8}$



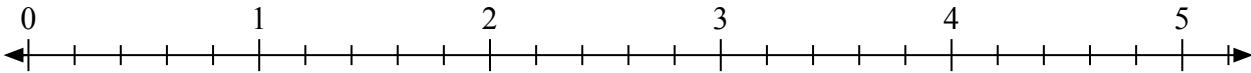
5) Đánh dấu vị trí của $\frac{8}{4}$



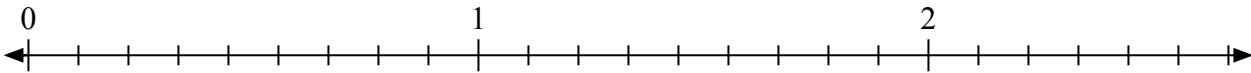
6) Đánh dấu vị trí của $\frac{15}{6}$



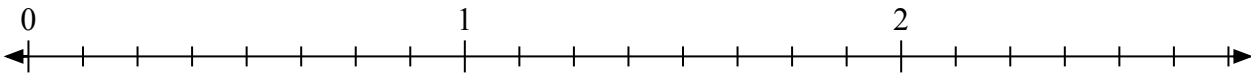
7) Đánh dấu vị trí của $\frac{12}{5}$



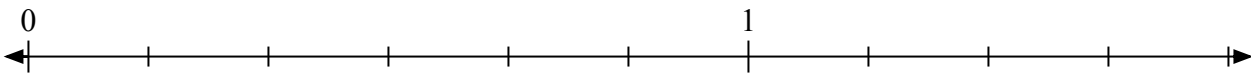
8) Đánh dấu vị trí của $\frac{11}{9}$



9) Đánh dấu vị trí của $\frac{14}{8}$



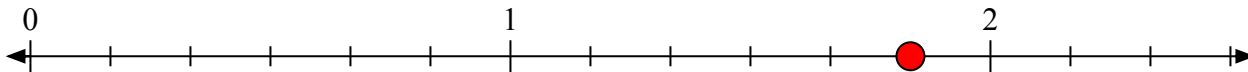
10) Đánh dấu vị trí của $\frac{9}{6}$



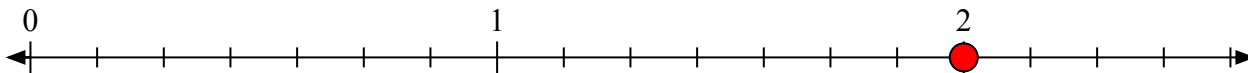


Giải các câu hỏi.

- 1) Đánh dấu vị trí của
- $\frac{11}{6}$



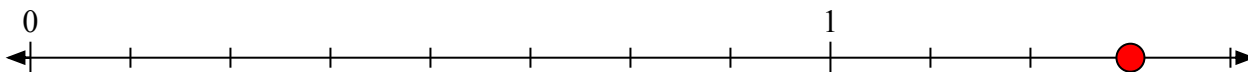
- 2) Đánh dấu vị trí của
- $\frac{14}{7}$



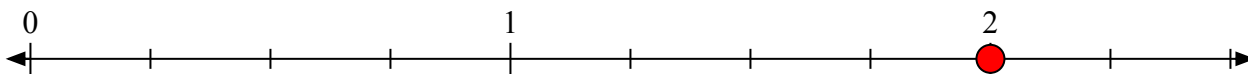
- 3) Đánh dấu vị trí của
- $\frac{6}{4}$



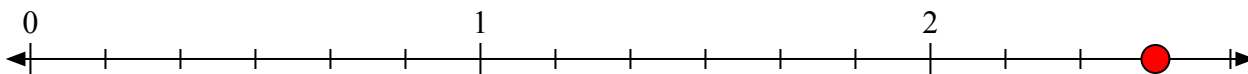
- 4) Đánh dấu vị trí của
- $\frac{11}{8}$



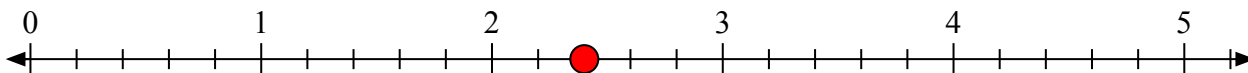
- 5) Đánh dấu vị trí của
- $\frac{8}{4}$



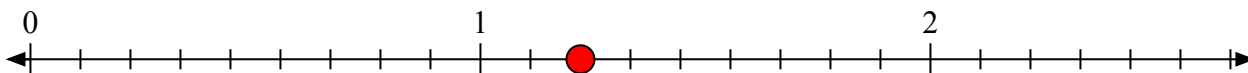
- 6) Đánh dấu vị trí của
- $\frac{15}{6}$



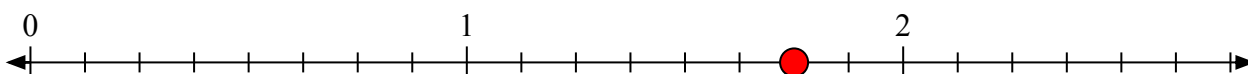
- 7) Đánh dấu vị trí của
- $\frac{12}{5}$



- 8) Đánh dấu vị trí của
- $\frac{11}{9}$



- 9) Đánh dấu vị trí của
- $\frac{14}{8}$



- 10) Đánh dấu vị trí của
- $\frac{9}{6}$

