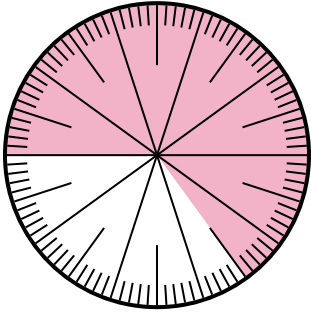




Giải các câu hỏi.

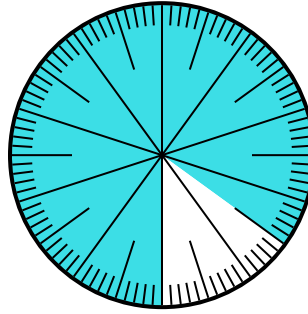
Câu trả lời

- 1) Which choice represents the un-shaded portion of the number wheel?



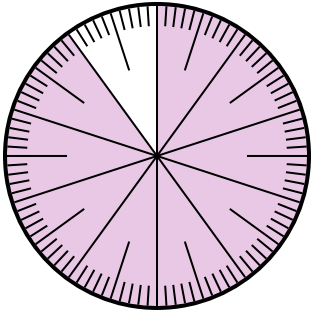
- A. 0,35 B. $\frac{0.35}{100}$
C. 0,035 D. 3,50

- 2) Which choice represents the un-shaded portion of the number wheel?



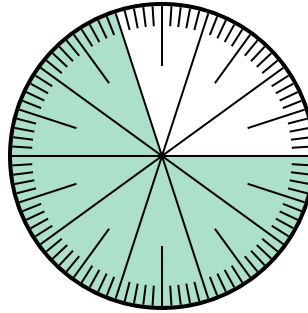
- A. $\frac{15}{100}$ B. 1,50
C. $\frac{85}{15}$ D. 15

- 3) Which choice represents the un-shaded portion of the number wheel?



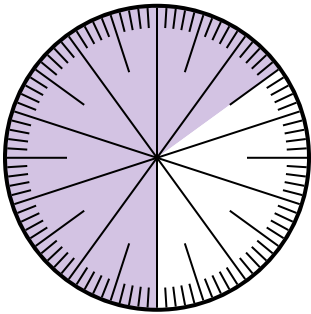
- A. $\frac{1}{100}$ B. 0,1
C. 1 D. 10

- 4) Lựa chọn nào thể hiện phần bóng mờ của bánh xe số?



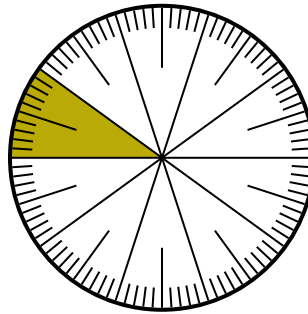
- A. $\frac{70}{100}$ B. $\frac{70}{30}$
C. $\frac{30}{70}$ D. $\frac{7,00}{100}$

- 5) Which choice represents the un-shaded portion of the number wheel?



- A. $\frac{65}{35}$ B. $\frac{35}{100}$
C. 0,035 D. $\frac{3.5}{100}$

- 6) Lựa chọn nào thể hiện phần bóng mờ của bánh xe số?



- A. $\frac{1,00}{100}$ B. $\frac{90}{10}$
C. 10 D. $\frac{10}{100}$

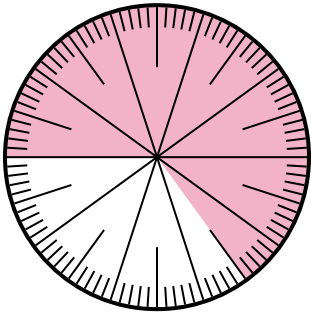
1. _____
2. _____
3. _____
4. _____
5. _____
6. _____



Giải các câu hỏi.

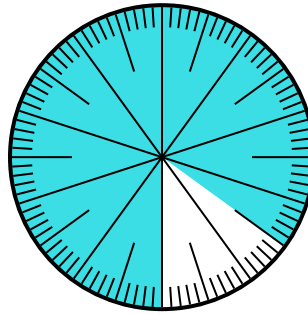
Câu trả lời

1) Which choice represents the un-shaded portion of the number wheel?



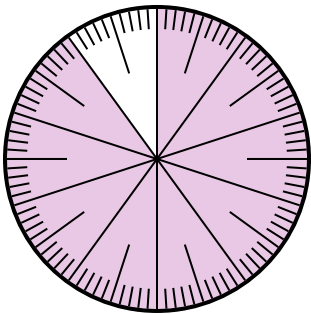
- A. 0,35 B. $\frac{0.35}{100}$
C. 0,035 D. 3,50

2) Which choice represents the un-shaded portion of the number wheel?



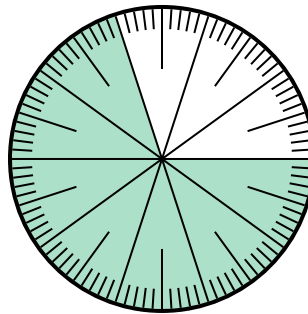
- A. $\frac{15}{100}$ B. 1,50
C. $\frac{85}{15}$ D. 15

3) Which choice represents the un-shaded portion of the number wheel?



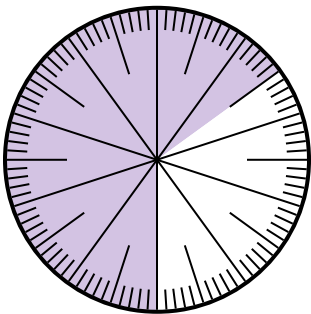
- A. $\frac{1}{100}$ B. 0,1
C. 1 D. 10

4) Lựa chọn nào thể hiện phần bóng mờ của bánh xe số?



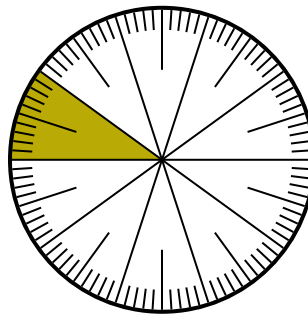
- A. $\frac{70}{100}$ B. $\frac{70}{30}$
C. $\frac{30}{70}$ D. $\frac{7,00}{100}$

5) Which choice represents the un-shaded portion of the number wheel?



- A. $\frac{65}{35}$ B. $\frac{35}{100}$
C. 0,035 D. $\frac{3.5}{100}$

6) Lựa chọn nào thể hiện phần bóng mờ của bánh xe số?



- A. $\frac{1,00}{100}$ B. $\frac{90}{10}$
C. 10 D. $\frac{10}{100}$

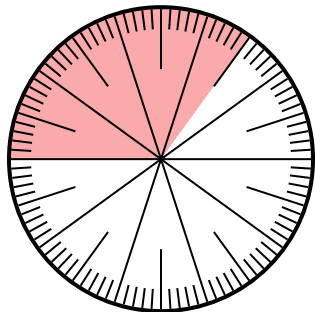
1. **A**
2. **A**
3. **B**
4. **A**
5. **B**
6. **D**



Giải các câu hỏi.

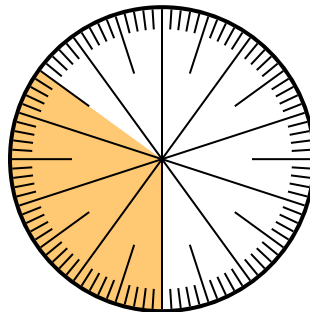
Câu trả lời

- 1) Which choice represents the un-shaded portion of the number wheel?



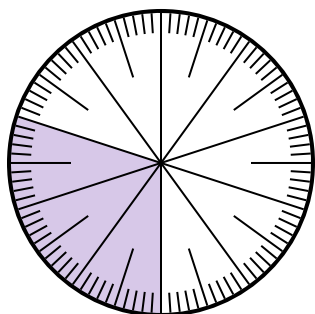
- A. $\frac{65}{100}$ B. $\frac{6.5}{100}$
C. $\frac{35}{65}$ D. $\frac{6.50}{100}$

- 2) Lựa chọn nào thể hiện phần bóng mờ của bánh xe số?



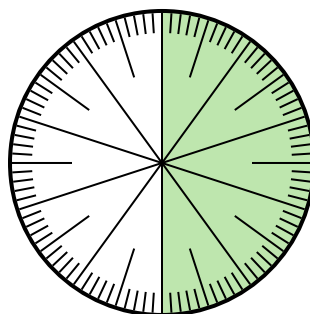
- A. 3,50 B. 0,035
C. $\frac{3.5}{100}$ D. 0,35

- 3) Lựa chọn nào thể hiện phần bóng mờ của bánh xe số?



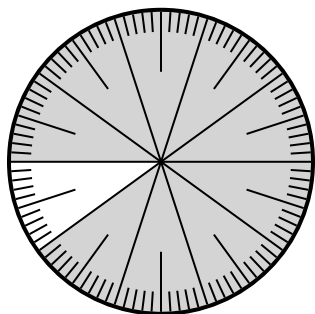
- A. $\frac{30}{10}$ B. 0,3
C. 30,0 D. 3,0

- 4) Which choice represents the un-shaded portion of the number wheel?



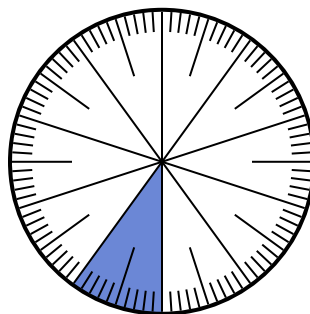
- A. 0,50 B. $\frac{0.5}{100}$
C. 5 D. 50

- 5) Lựa chọn nào thể hiện phần bóng mờ của bánh xe số?



- A. $\frac{90}{100}$ B. 0,090
C. 90 D. $\frac{9}{100}$

- 6) Lựa chọn nào thể hiện phần bóng mờ của bánh xe số?



- A. 0,10 B. 10
C. $\frac{0.1}{100}$ D. $\frac{1.00}{100}$

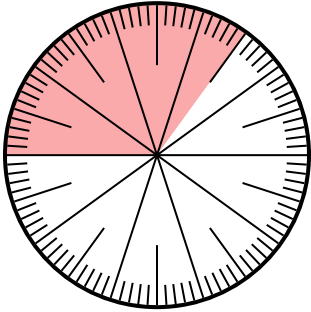
1. _____
2. _____
3. _____
4. _____
5. _____
6. _____



Giải các câu hỏi.

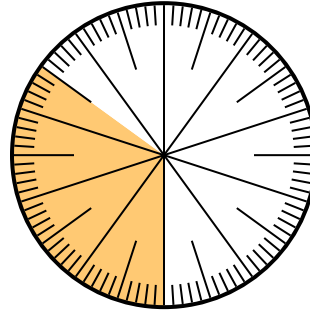
Câu trả lời

1) Which choice represents the un-shaded portion of the number wheel?



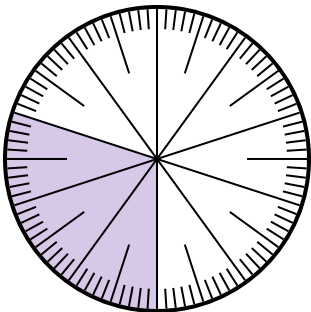
- A. $\frac{65}{100}$ B. $\frac{6.5}{100}$
 C. $\frac{35}{65}$ D. $\frac{6.50}{100}$

2) Lựa chọn nào thể hiện phần bóng mờ của bánh xe số?



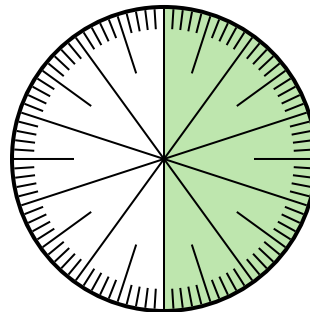
- A. 3,50 B. 0,035
 C. $\frac{3.5}{100}$ D. 0,35

3) Lựa chọn nào thể hiện phần bóng mờ của bánh xe số?



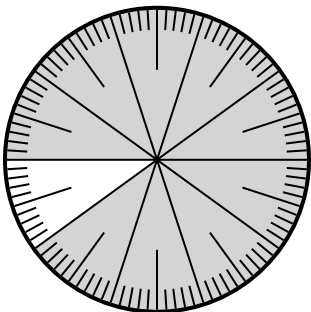
- A. $\frac{30}{10}$ B. 0,3
 C. 30,0 D. 3,0

4) Which choice represents the un-shaded portion of the number wheel?



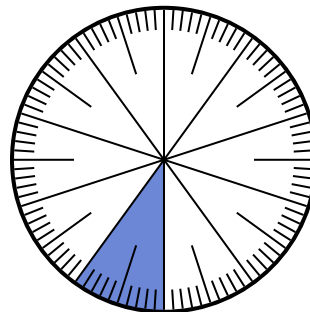
- A. 0,50 B. $\frac{0.5}{100}$
 C. 5 D. 50

5) Lựa chọn nào thể hiện phần bóng mờ của bánh xe số?



- A. $\frac{90}{100}$ B. 0,090
 C. 90 D. $\frac{9}{100}$

6) Lựa chọn nào thể hiện phần bóng mờ của bánh xe số?



- A. 0,10 B. 10
 C. $\frac{0.1}{100}$ D. $\frac{1.00}{100}$

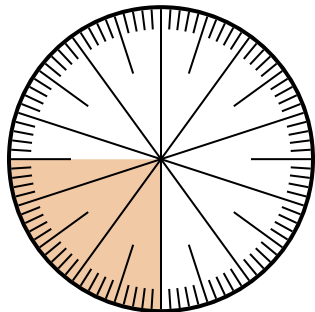
1. **A**
 2. **D**
 3. **B**
 4. **A**
 5. **A**
 6. **A**



Giải các câu hỏi.

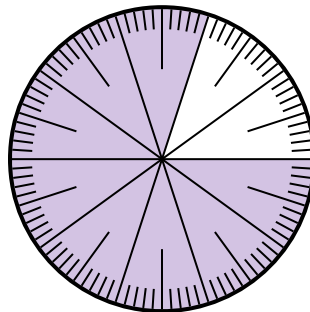
Câu trả lời

- 1) Lựa chọn nào thể hiện phần bóng mờ của bánh xe số?



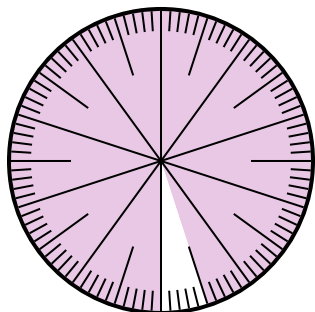
- A. $\frac{25}{75}$ B. $\frac{0.25}{100}$
C. $\frac{25}{100}$ D. 2,50

- 2) Lựa chọn nào thể hiện phần bóng mờ của bánh xe số?



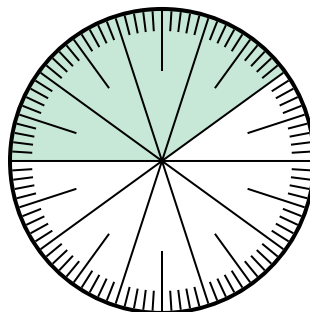
- A. $\frac{8}{100}$ B. 0,080
C. $\frac{0.8}{100}$ D. $\frac{80}{100}$

- 3) Which choice represents the un-shaded portion of the number wheel?



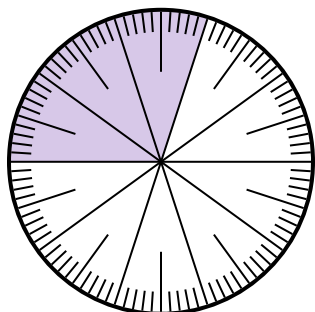
- A. $\frac{5}{100}$ B. 0.5
C. $\frac{95}{5}$ D. $\frac{5}{95}$

- 4) Which choice represents the un-shaded portion of the number wheel?



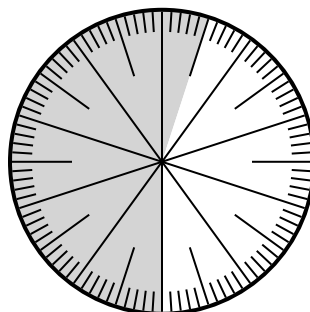
- A. $\frac{0.6}{100}$ B. 0,60
C. $\frac{40}{60}$ D. 6,00

- 5) Lựa chọn nào thể hiện phần bóng mờ của bánh xe số?



- A. 3 B. 0,30
C. 30 D. $\frac{30}{70}$

- 6) Lựa chọn nào thể hiện phần bóng mờ của bánh xe số?



- A. $\frac{55}{100}$ B. 45
C. 5.5 D. 45,0

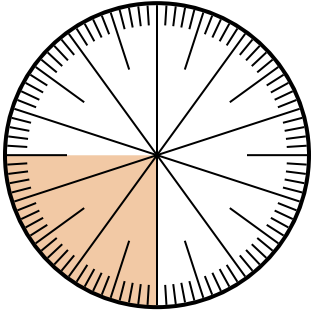
1. _____
2. _____
3. _____
4. _____
5. _____
6. _____



Giải các câu hỏi.

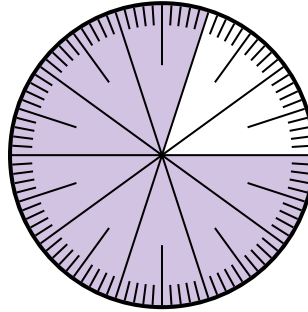
Câu trả lời

- 1) Lựa chọn nào thể hiện phần bóng mờ của bánh xe số?



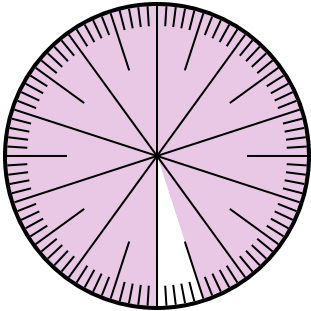
- A. $\frac{25}{75}$ B. $\frac{0.25}{100}$
C. $\frac{25}{100}$ D. 2,50

- 2) Lựa chọn nào thể hiện phần bóng mờ của bánh xe số?



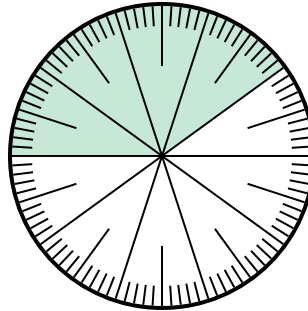
- A. $\frac{8}{100}$ B. 0,080
C. $\frac{0.8}{100}$ D. $\frac{80}{100}$

- 3) Which choice represents the un-shaded portion of the number wheel?



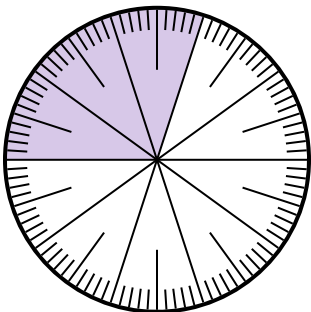
- A. $\frac{5}{100}$ B. 0.5
C. $\frac{95}{5}$ D. $\frac{5}{95}$

- 4) Which choice represents the un-shaded portion of the number wheel?



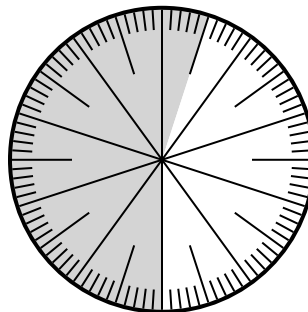
- A. $\frac{0.6}{100}$ B. 0,60
C. $\frac{40}{60}$ D. 6,00

- 5) Lựa chọn nào thể hiện phần bóng mờ của bánh xe số?



- A. 3 B. 0,30
C. 30 D. $\frac{30}{70}$

- 6) Lựa chọn nào thể hiện phần bóng mờ của bánh xe số?



- A. $\frac{55}{100}$ B. 45
C. 5.5 D. 45,0

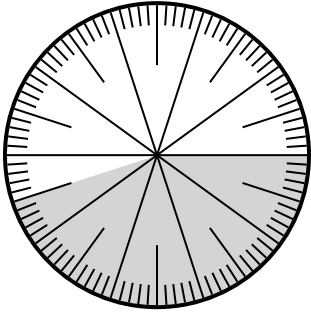
1. **C**
2. **D**
3. **A**
4. **B**
5. **B**
6. **A**



Giải các câu hỏi.

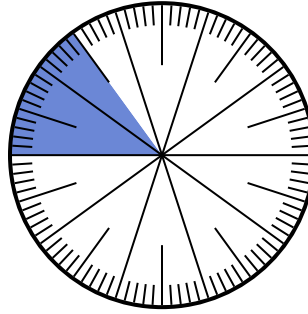
Câu trả lời

- 1) Which choice represents the un-shaded portion of the number wheel?




- A. $\frac{55}{100}$ B. 5.5
C. 5,50 D. $\frac{0.55}{100}$

- 2) Which choice represents the un-shaded portion of the number wheel?



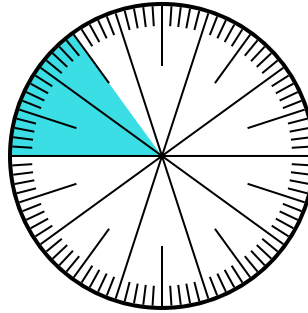
- A. $\frac{15}{85}$ B. 0,85
C. 85 D. $\frac{85}{15}$

- 3) Lựa chọn nào thể hiện phần bóng mờ của bánh xe số?



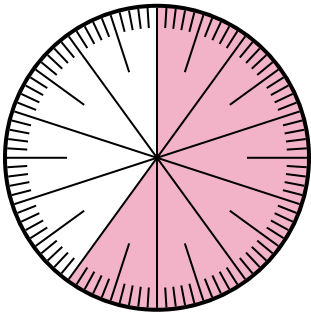
- A. $\frac{0.1}{100}$ B. 0,0010
C. 0,1 D. 1,00

- 4) Lựa chọn nào thể hiện phần bóng mờ của bánh xe số?



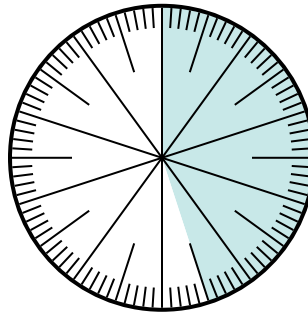
- A. 8,50 B. 0,015
C. 0,15 D. 15

- 5) Lựa chọn nào thể hiện phần bóng mờ của bánh xe số?



- A. $\frac{60}{100}$ B. 6,00
C. 0,0060 D. 60,0

- 6) Lựa chọn nào thể hiện phần bóng mờ của bánh xe số?



- A. $\frac{4.5}{100}$ B. $\frac{0.45}{100}$
C. $\frac{45}{100}$ D. $\frac{45}{55}$

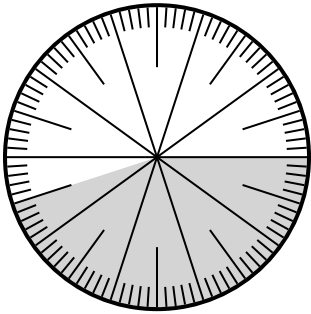
1. _____
2. _____
3. _____
4. _____
5. _____
6. _____



Giải các câu hỏi.

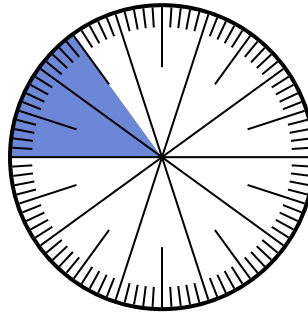
Câu trả lời

1) Which choice represents the un-shaded portion of the number wheel?




- A. $\frac{55}{100}$ B. 5.5
C. 5,50 D. $\frac{0.55}{100}$

2) Which choice represents the un-shaded portion of the number wheel?



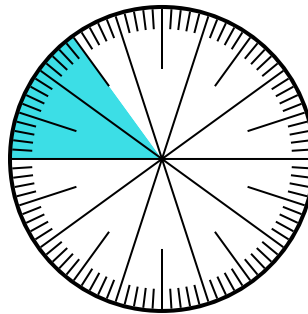
- A. $\frac{15}{85}$ B. 0,85
C. 85 D. $\frac{85}{15}$

3) Lựa chọn nào thể hiện phần bóng mờ của bánh xe số?



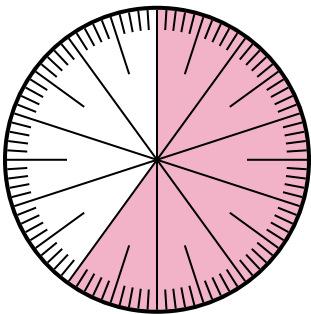
- A. $\frac{0.1}{100}$ B. 0,0010
C. 0,1 D. 1,00

4) Lựa chọn nào thể hiện phần bóng mờ của bánh xe số?



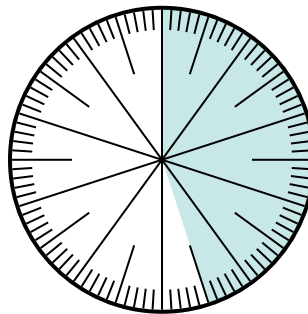
- A. 8,50 B. 0,015
C. 0,15 D. 15

5) Lựa chọn nào thể hiện phần bóng mờ của bánh xe số?



- A. $\frac{60}{100}$ B. 6,00
C. 0,0060 D. 60,0

6) Lựa chọn nào thể hiện phần bóng mờ của bánh xe số?



- A. $\frac{4.5}{100}$ B. $\frac{0.45}{100}$
C. $\frac{45}{100}$ D. $\frac{45}{55}$


1. **A**
2. **B**
3. **C**
4. **C**
5. **A**
6. **C**



Giải các câu hỏi.

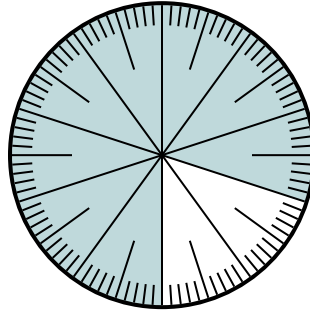
Câu trả lời

1) Lựa chọn nào thể hiện phần bóng mờ của bánh xe số?



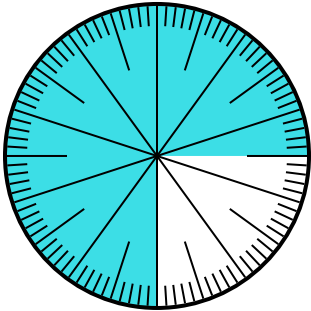
- A. 0,85 B. 8.5
C. 85 D. 0,085

2) Which choice represents the un-shaded portion of the number wheel?



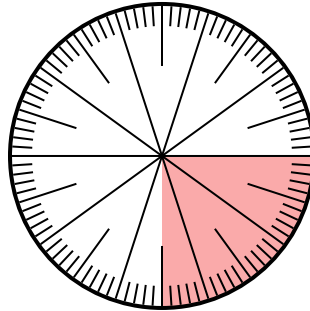
- A. $\frac{2}{100}$ B. $\frac{20}{100}$
C. $\frac{2,00}{100}$ D. $\frac{80}{20}$

3) Which choice represents the un-shaded portion of the number wheel?



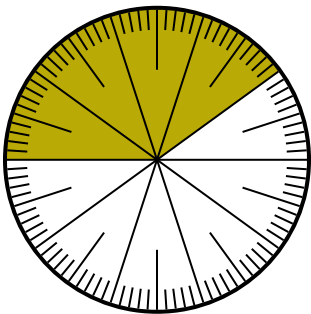
- A. 0,025 B. 0,25
C. 0,0075 D. 2,50

4) Lựa chọn nào thể hiện phần bóng mờ của bánh xe số?



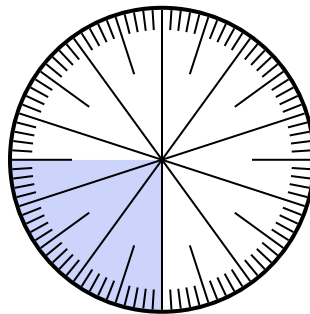
- A. $\frac{0.25}{100}$ B. $\frac{25}{100}$
C. 0,025 D. 25

5) Lựa chọn nào thể hiện phần bóng mờ của bánh xe số?



- A. $\frac{40}{60}$ B. $\frac{60}{40}$
C. $\frac{40}{100}$ D. $\frac{4}{100}$

6) Lựa chọn nào thể hiện phần bóng mờ của bánh xe số?



- A. 0,0075 B. $\frac{2,50}{100}$
C. 0,025 D. 0,25


1. _____
2. _____
3. _____
4. _____
5. _____
6. _____



Giải các câu hỏi.

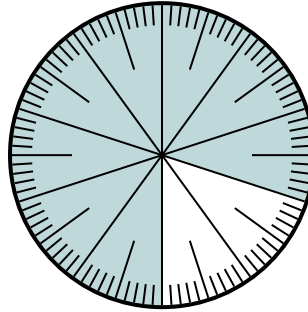
Câu trả lời

1) Lựa chọn nào thể hiện phần bóng mờ của bánh xe số?



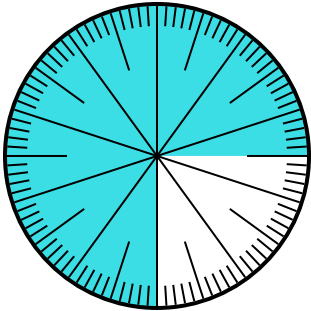
- A. 0,85 B. 8.5
C. 85 D. 0,085

2) Which choice represents the un-shaded portion of the number wheel?



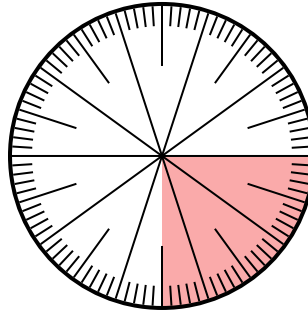
- A. $\frac{2}{100}$ B. $\frac{20}{100}$
C. $\frac{2,00}{100}$ D. $\frac{80}{20}$

3) Which choice represents the un-shaded portion of the number wheel?



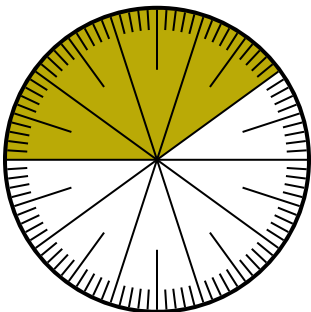
- A. 0,025 B. 0,25
C. 0,0075 D. 2,50

4) Lựa chọn nào thể hiện phần bóng mờ của bánh xe số?



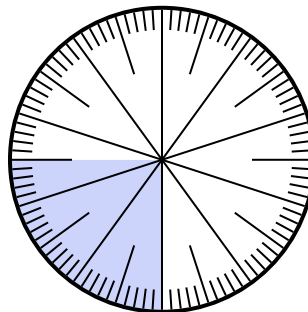
- A. $\frac{0.25}{100}$ B. $\frac{25}{100}$
C. 0,025 D. 25

5) Lựa chọn nào thể hiện phần bóng mờ của bánh xe số?



- A. $\frac{40}{60}$ B. $\frac{60}{40}$
C. $\frac{40}{100}$ D. $\frac{4}{100}$

6) Lựa chọn nào thể hiện phần bóng mờ của bánh xe số?



- A. 0,0075 B. $\frac{2,50}{100}$
C. 0,025 D. 0,25

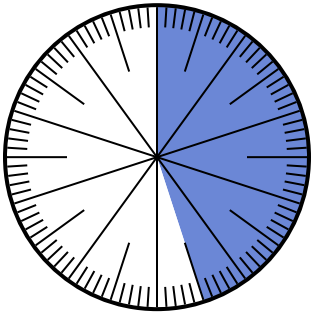
1. **A**
2. **B**
3. **B**
4. **B**
5. **C**
6. **D**



Giải các câu hỏi.

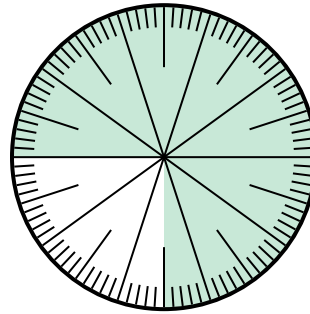
Câu trả lời

1) Lựa chọn nào thể hiện phần bóng mờ của bánh xe số?



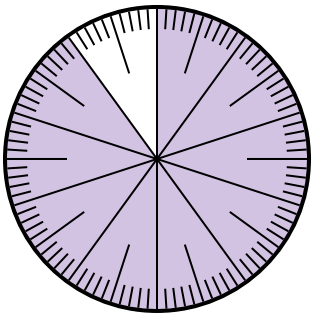
- A. $\frac{45}{100}$ B. $\frac{55}{45}$
 C. $\frac{45}{55}$ D. $\frac{4.5}{100}$

2) Lựa chọn nào thể hiện phần bóng mờ của bánh xe số?



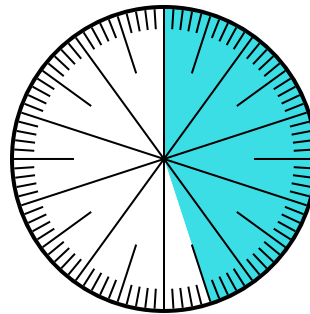
- A. $\frac{0.75}{100}$ B. 0,75
 C. $\frac{7,50}{100}$ D. $\frac{7.5}{100}$

3) Lựa chọn nào thể hiện phần bóng mờ của bánh xe số?



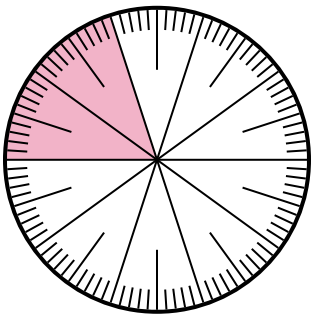
- A. 90 B. 0,090
 C. $\frac{90}{100}$ D. $\frac{9}{100}$

4) Which choice represents the un-shaded portion of the number wheel?



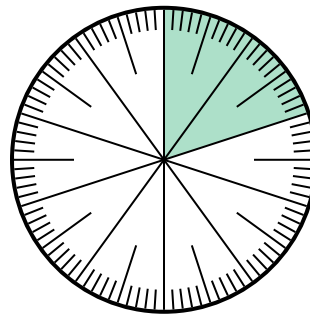
- A. 5.5 B. 55
 C. $\frac{5.5}{100}$ D. $\frac{55}{100}$

5) Which choice represents the un-shaded portion of the number wheel?



- A. $\frac{20}{80}$ B. 0,80
 C. $\frac{8}{100}$ D. 8

6) Which choice represents the un-shaded portion of the number wheel?



- A. 80 B. 8
 C. $\frac{0.8}{100}$ D. $\frac{80}{100}$

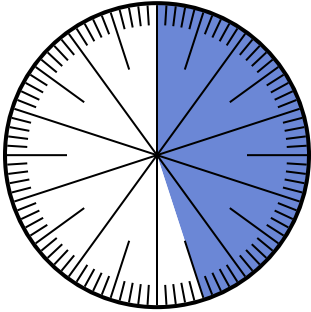
1. _____
 2. _____
 3. _____
 4. _____
 5. _____
 6. _____



Giải các câu hỏi.

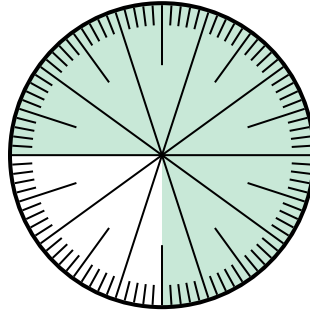
Câu trả lời

- 1) Lựa chọn nào thể hiện phần bóng mờ của bánh xe số?



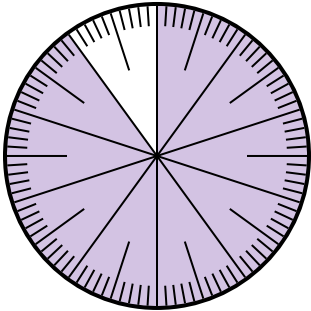
- A. $\frac{45}{100}$ B. $\frac{55}{45}$
 C. $\frac{45}{55}$ D. $\frac{4.5}{100}$

- 2) Lựa chọn nào thể hiện phần bóng mờ của bánh xe số?



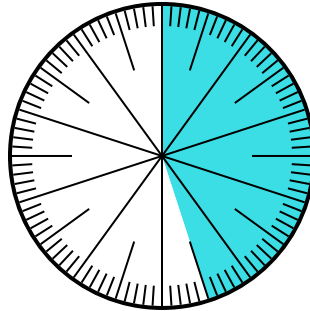
- A. $\frac{0.75}{100}$ B. 0,75
 C. $\frac{7,50}{100}$ D. $\frac{7.5}{100}$

- 3) Lựa chọn nào thể hiện phần bóng mờ của bánh xe số?



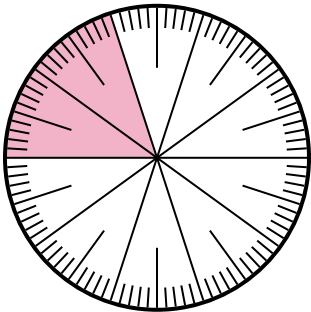
- A. 90 B. 0,090
 C. $\frac{90}{100}$ D. $\frac{9}{100}$

- 4) Which choice represents the un-shaded portion of the number wheel?



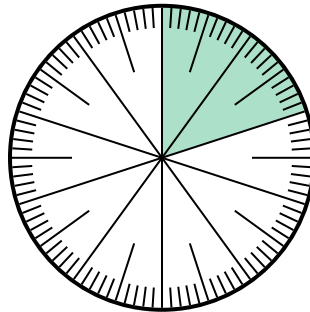
- A. 5.5 B. 55
 C. $\frac{5.5}{100}$ D. $\frac{55}{100}$

- 5) Which choice represents the un-shaded portion of the number wheel?



- A. $\frac{20}{80}$ B. 0,80
 C. $\frac{8}{100}$ D. 8

- 6) Which choice represents the un-shaded portion of the number wheel?



- A. 80 B. 8
 C. $\frac{0.8}{100}$ D. $\frac{80}{100}$


1. **A**
 2. **B**
 3. **C**
 4. **D**
 5. **B**
 6. **D**



Giải các câu hỏi.

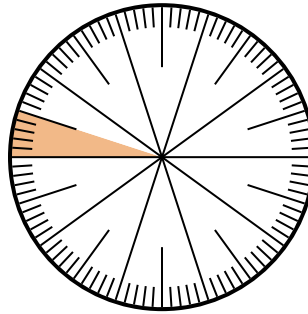
Câu trả lời

1) Lựa chọn nào thể hiện phần bóng mờ của bánh xe số?



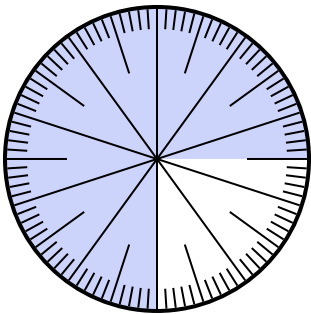
- A. $\frac{80}{20}$ B. 0,20
C. $\frac{20}{10}$ D. $\frac{0.2}{100}$

2) Lựa chọn nào thể hiện phần bóng mờ của bánh xe số?



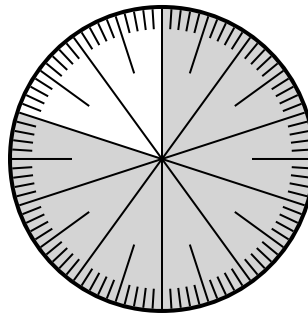
- A. $\frac{0.05}{100}$ B. 0,05
C. $\frac{5}{95}$ D. $\frac{9.5}{100}$

3) Which choice represents the un-shaded portion of the number wheel?



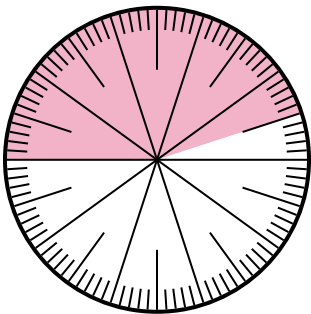
- A. 2,50 B. $\frac{25}{100}$
C. 25 D. 2.5

4) Lựa chọn nào thể hiện phần bóng mờ của bánh xe số?



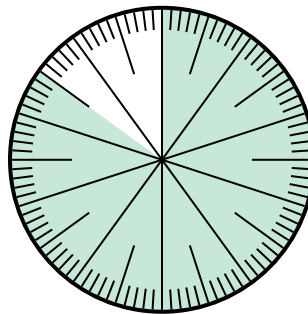
- A. $\frac{80}{20}$ B. $\frac{8,00}{100}$
C. $\frac{80}{100}$ D. 8,00

5) Lựa chọn nào thể hiện phần bóng mờ của bánh xe số?



- A. 55,0 B. 45
C. 4.5 D. 0,45

6) Which choice represents the un-shaded portion of the number wheel?



- A. $\frac{1.5}{100}$ B. $\frac{15}{100}$
C. 1,50 D. 1.5


1. _____
2. _____
3. _____
4. _____
5. _____
6. _____



Giải các câu hỏi.

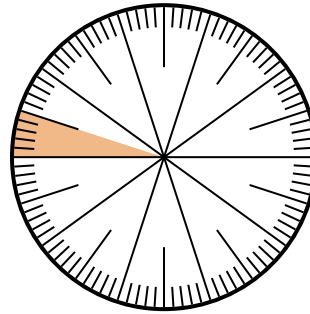
Câu trả lời

1) Lựa chọn nào thể hiện phần bóng mờ của bánh xe số?



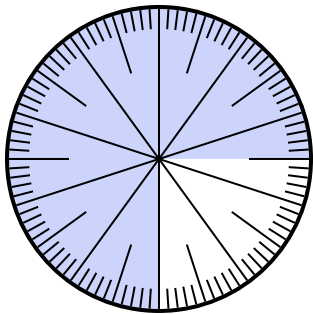
- A. $\frac{80}{20}$ B. 0,20
C. $\frac{20}{10}$ D. $\frac{0.2}{100}$

2) Lựa chọn nào thể hiện phần bóng mờ của bánh xe số?



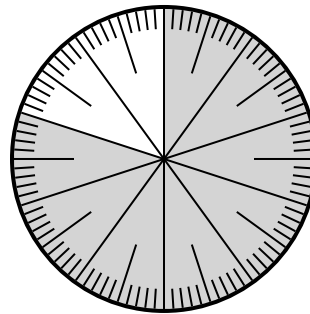
- A. $\frac{0.05}{100}$ B. 0,05
C. $\frac{5}{95}$ D. $\frac{9.5}{100}$

3) Which choice represents the un-shaded portion of the number wheel?



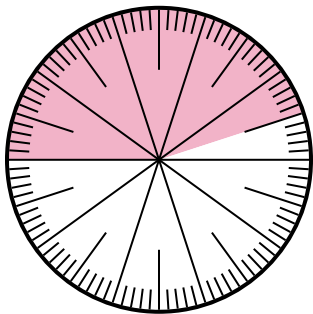
- A. 2,50 B. $\frac{25}{100}$
C. 25 D. 2.5

4) Lựa chọn nào thể hiện phần bóng mờ của bánh xe số?



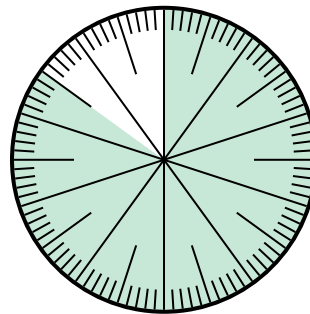
- A. $\frac{80}{20}$ B. $\frac{8.00}{100}$
C. $\frac{80}{100}$ D. 8,00

5) Lựa chọn nào thể hiện phần bóng mờ của bánh xe số?



- A. 55,0 B. 45
C. 4.5 D. 0,45

6) Which choice represents the un-shaded portion of the number wheel?



- A. $\frac{1.5}{100}$ B. $\frac{15}{100}$
C. 1,50 D. 1.5

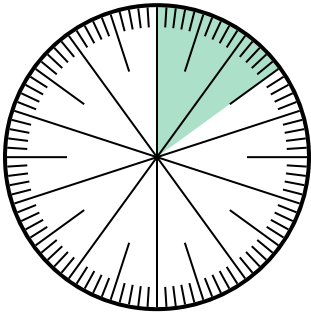
1. **B**
2. **B**
3. **B**
4. **C**
5. **D**
6. **B**



Giải các câu hỏi.

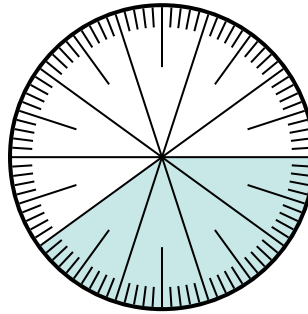
Câu trả lời

1) Lựa chọn nào thể hiện phần bóng mờ của bánh xe số?



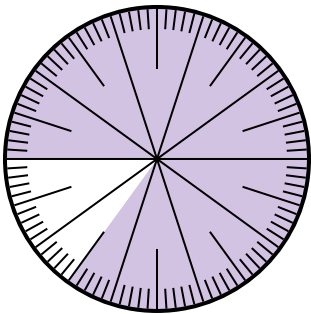
- A. $\frac{1,50}{100}$ B. $\frac{15}{100}$
 C. $\frac{1,5}{100}$ D. 1,50

2) Which choice represents the un-shaded portion of the number wheel?



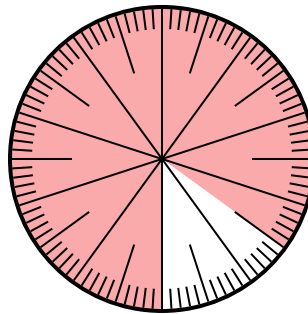
- A. $\frac{6,00}{100}$ B. 0,6
 C. 6 D. 6,00

3) Which choice represents the un-shaded portion of the number wheel?



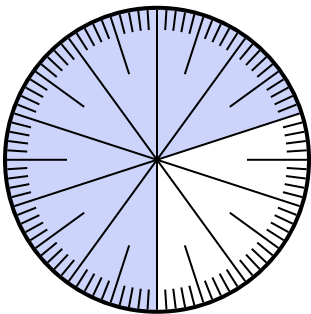
- A. 1.5 B. 0,15
 C. $\frac{15}{85}$ D. $\frac{0,15}{100}$

4) Which choice represents the un-shaded portion of the number wheel?



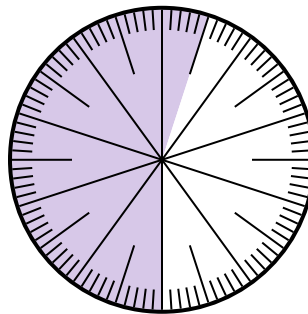
- A. 15 B. 0,15
 C. $\frac{0,85}{100}$ D. $\frac{8,5}{100}$

5) Which choice represents the un-shaded portion of the number wheel?



- A. 0,030 B. 30
 C. $\frac{3,00}{100}$ D. $\frac{30}{100}$

6) Which choice represents the un-shaded portion of the number wheel?



- A. $\frac{4,5}{100}$ B. 0,45
 C. 45 D. $\frac{4,50}{100}$

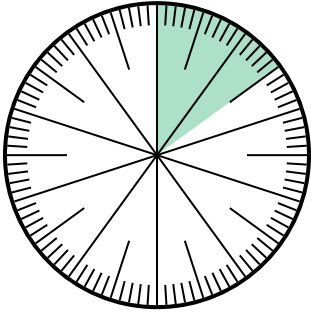
1. _____
 2. _____
 3. _____
 4. _____
 5. _____
 6. _____



Giải các câu hỏi.

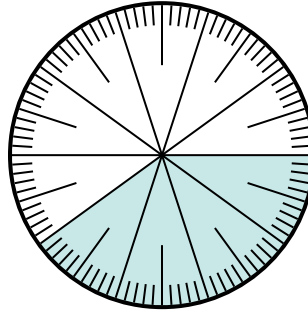
Câu trả lời

1) Lựa chọn nào thể hiện phần bóng mờ của bánh xe số?



- A. $\frac{1,50}{100}$
- B. $\frac{15}{100}$
- C. $\frac{1,5}{100}$
- D. 1,50

2) Which choice represents the un-shaded portion of the number wheel?



- A. $\frac{6,00}{100}$
- B. 0,6
- C. 6
- D. 6,00

1. **B**

2. **B**

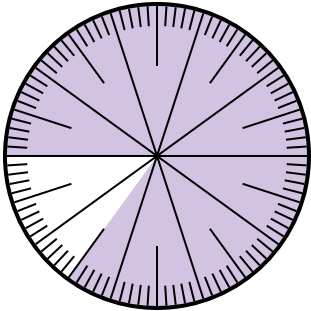
3. **B**

4. **B**

5. **D**

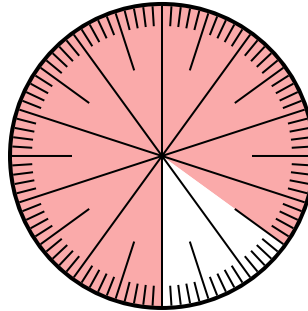
6. **B**

3) Which choice represents the un-shaded portion of the number wheel?



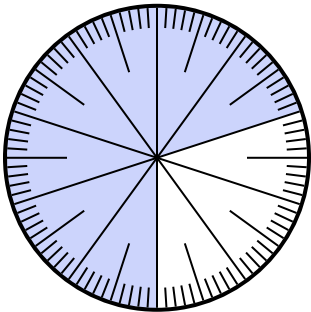
- A. 1.5
- B. 0,15
- C. $\frac{15}{85}$
- D. $\frac{0,15}{100}$

4) Which choice represents the un-shaded portion of the number wheel?



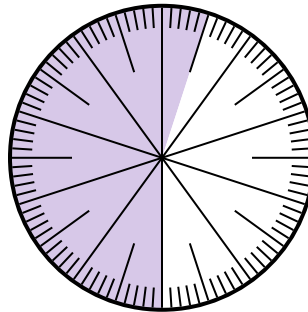
- A. 15
- B. 0,15
- C. $\frac{0,85}{100}$
- D. $\frac{8,5}{100}$

5) Which choice represents the un-shaded portion of the number wheel?



- A. 0,030
- B. 30
- C. $\frac{3,00}{100}$
- D. $\frac{30}{100}$

6) Which choice represents the un-shaded portion of the number wheel?



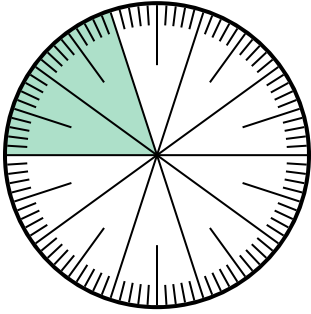
- A. $\frac{4,5}{100}$
- B. 0,45
- C. 45
- D. $\frac{4,50}{100}$



Giải các câu hỏi.

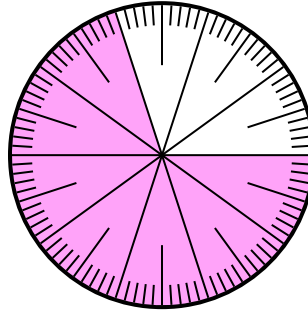
Câu trả lời

1) Which choice represents the un-shaded portion of the number wheel?



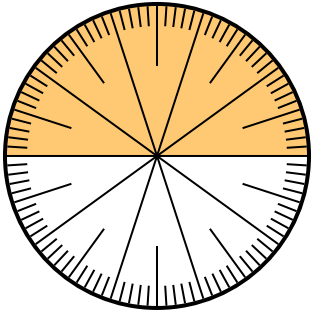
- A. $\frac{0.8}{100}$ B. 0,8
C. 8 D. $\frac{80}{20}$

2) Which choice represents the un-shaded portion of the number wheel?



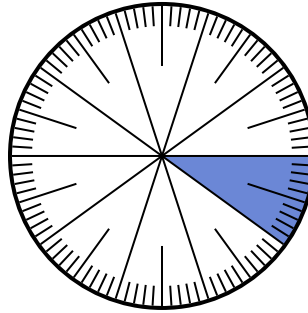
- A. 0,30 B. 70
C. 0,070 D. $\frac{70}{30}$

3) Which choice represents the un-shaded portion of the number wheel?



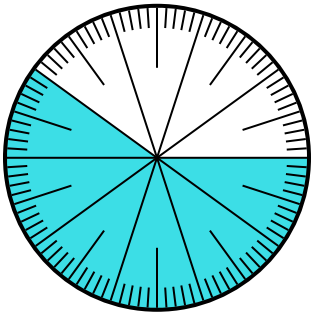
- A. 5,00 B. $\frac{5}{100}$
C. $\frac{5}{100}$ D. 0,5

4) Lựa chọn nào thể hiện phần bóng mờ của bánh xe số?



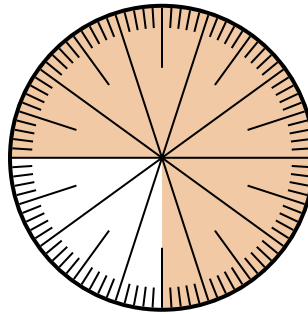
- A. 0,10 B. 1
C. $\frac{1}{100}$ D. $\frac{0.9}{100}$

5) Which choice represents the un-shaded portion of the number wheel?



- A. 4,00 B. 0,40
C. $\frac{40}{60}$ D. $\frac{4,00}{100}$

6) Lựa chọn nào thể hiện phần bóng mờ của bánh xe số?



- A. $\frac{75}{25}$ B. 0,075
C. $\frac{75}{100}$ D. 7,50

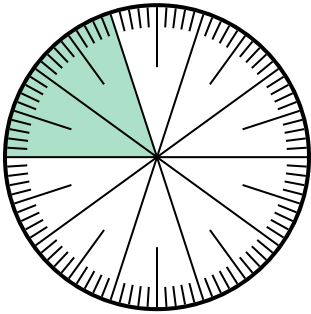
1. _____
2. _____
3. _____
4. _____
5. _____
6. _____



Giải các câu hỏi.

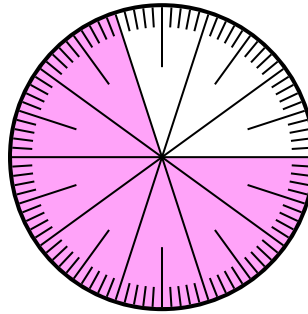
Câu trả lời

- 1) Which choice represents the un-shaded portion of the number wheel?



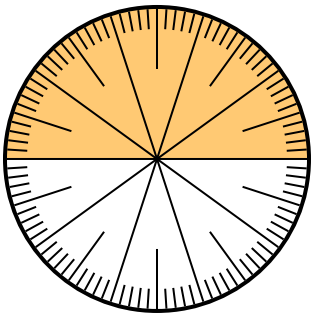
- A. $\frac{0.8}{100}$ B. 0,8
C. 8 D. $\frac{80}{20}$

- 2) Which choice represents the un-shaded portion of the number wheel?



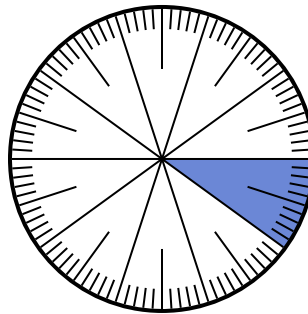
- A. 0,30 B. 70
C. 0,070 D. $\frac{70}{30}$

- 3) Which choice represents the un-shaded portion of the number wheel?



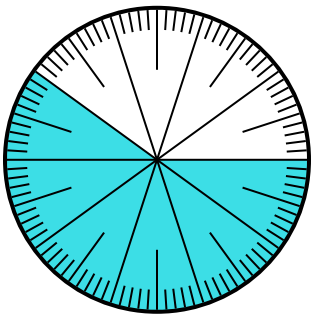
- A. 5,00 B. $\frac{5}{100}$
C. $\frac{5}{100}$ D. 0,5

- 4) Lựa chọn nào thể hiện phần bóng mờ của bánh xe số?



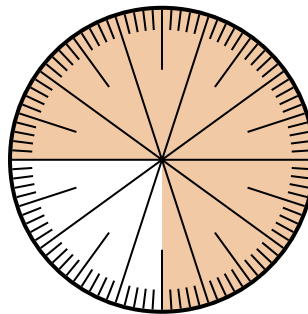
- A. 0,10 B. 1
C. $\frac{1}{100}$ D. $\frac{0.9}{100}$

- 5) Which choice represents the un-shaded portion of the number wheel?



- A. 4,00 B. 0,40
C. $\frac{40}{60}$ D. $\frac{4,00}{100}$

- 6) Lựa chọn nào thể hiện phần bóng mờ của bánh xe số?



- A. $\frac{75}{25}$ B. 0,075
C. $\frac{75}{100}$ D. 7,50

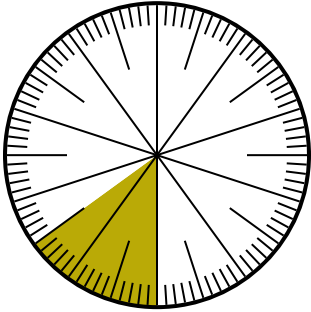
1. **B**
2. **A**
3. **D**
4. **A**
5. **B**
6. **C**



Giải các câu hỏi.

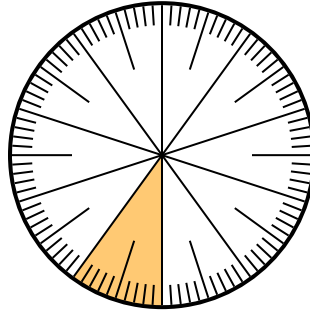
Câu trả lời

1) Which choice represents the un-shaded portion of the number wheel?



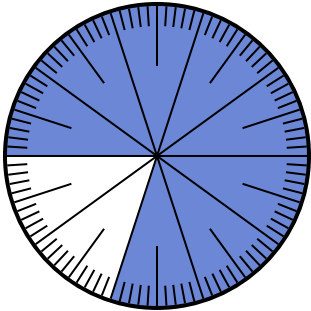
- A. $\frac{85}{100}$ B. $\frac{8.5}{100}$
 C. $\frac{0.85}{100}$ D. $\frac{85}{15}$

2) Which choice represents the un-shaded portion of the number wheel?



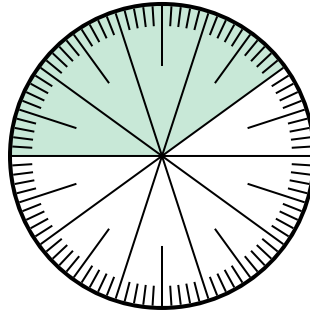
- A. 0,9 B. 90
 C. $\frac{1}{100}$ D. 9

3) Which choice represents the un-shaded portion of the number wheel?




- A. 20 B. $\frac{20}{80}$
 C. 0,2 D. $\frac{20}{10}$

4) Which choice represents the un-shaded portion of the number wheel?



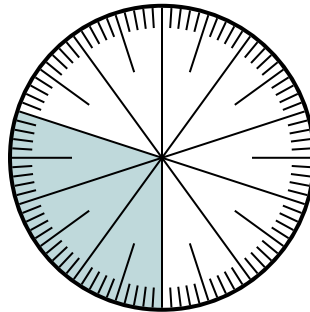
- A. 0,0060 B. 0,6
 C. 60 D. $\frac{40}{60}$

5) Which choice represents the un-shaded portion of the number wheel?



- A. $\frac{60}{40}$ B. $\frac{40}{100}$
 C. $\frac{0.4}{100}$ D. 40

6) Which choice represents the un-shaded portion of the number wheel?



- A. $\frac{70}{100}$ B. $\frac{70}{30}$
 C. 7 D. $\frac{30}{70}$

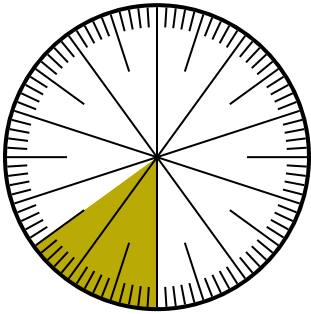
1. _____
 2. _____
 3. _____
 4. _____
 5. _____
 6. _____



Giải các câu hỏi.

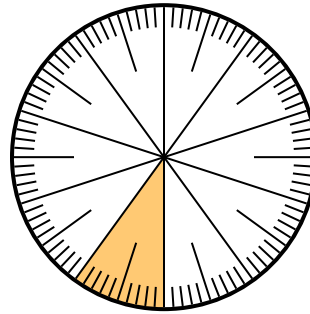
Câu trả lời

1) Which choice represents the un-shaded portion of the number wheel?



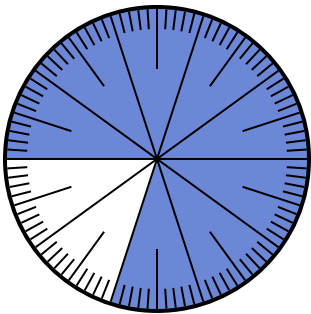
- A. $\frac{85}{100}$ B. $\frac{8.5}{100}$
 C. $\frac{0.85}{100}$ D. $\frac{85}{15}$

2) Which choice represents the un-shaded portion of the number wheel?



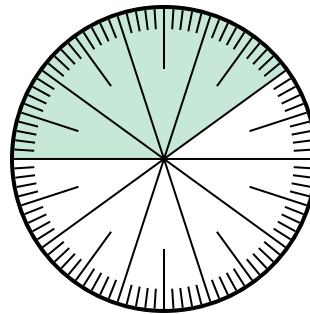
- A. 0,9 B. 90
 C. $\frac{1}{100}$ D. 9

3) Which choice represents the un-shaded portion of the number wheel?




- A. 20 B. $\frac{20}{80}$
 C. 0,2 D. $\frac{20}{10}$

4) Which choice represents the un-shaded portion of the number wheel?



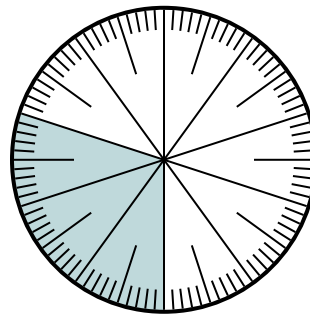
- A. 0,0060 B. 0,6
 C. 60 D. $\frac{40}{60}$

5) Which choice represents the un-shaded portion of the number wheel?



- A. $\frac{60}{40}$ B. $\frac{40}{100}$
 C. $\frac{0.4}{100}$ D. 40

6) Which choice represents the un-shaded portion of the number wheel?



- A. $\frac{70}{100}$ B. $\frac{70}{30}$
 C. 7 D. $\frac{30}{70}$

1. **A**
 2. **A**
 3. **C**
 4. **B**
 5. **B**
 6. **A**