




**Giải các câu hỏi.**

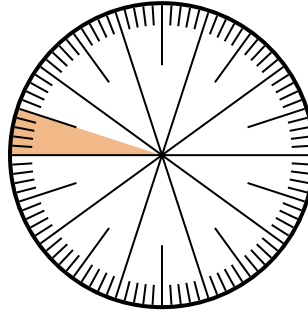
**Câu trả lời**

1) Lựa chọn nào thể hiện phần bóng mờ của bánh xe số?



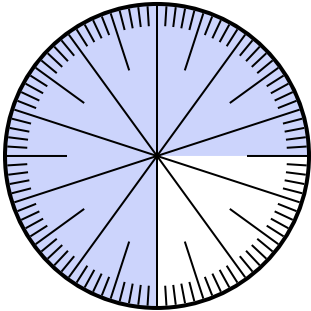
- A.  $\frac{80}{20}$       B. 0,20  
C.  $\frac{20}{10}$       D.  $\frac{0.2}{100}$

2) Lựa chọn nào thể hiện phần bóng mờ của bánh xe số?



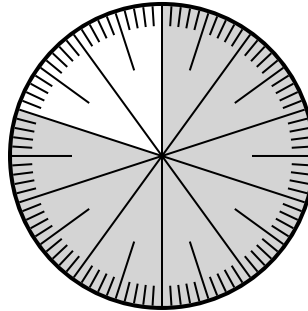
- A.  $\frac{0.05}{100}$       B. 0,05  
C.  $\frac{5}{95}$       D.  $\frac{9.5}{100}$

3) Which choice represents the un-shaded portion of the number wheel?



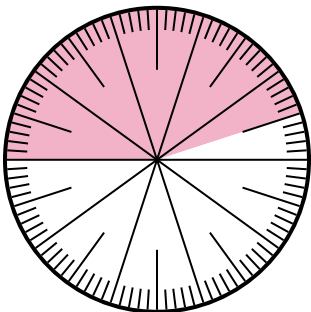
- A. 2,50      B.  $\frac{25}{100}$   
C. 25      D. 2.5

4) Lựa chọn nào thể hiện phần bóng mờ của bánh xe số?



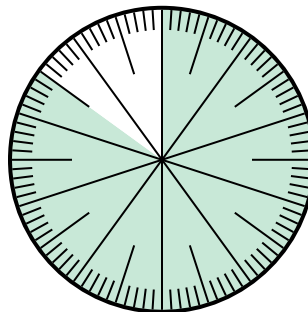
- A.  $\frac{80}{20}$       B.  $\frac{8,00}{100}$   
C.  $\frac{80}{100}$       D. 8,00

5) Lựa chọn nào thể hiện phần bóng mờ của bánh xe số?



- A. 55,0      B. 45  
C. 4.5      D. 0,45

6) Which choice represents the un-shaded portion of the number wheel?



- A.  $\frac{1.5}{100}$       B.  $\frac{15}{100}$   
C. 1,50      D. 1.5


1. \_\_\_\_\_  
2. \_\_\_\_\_  
3. \_\_\_\_\_  
4. \_\_\_\_\_  
5. \_\_\_\_\_  
6. \_\_\_\_\_



**Giải các câu hỏi.**

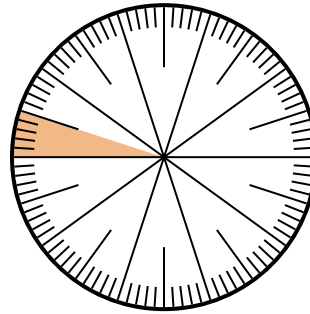
**Câu trả lời**

1) Lựa chọn nào thể hiện phần bóng mờ của bánh xe số?



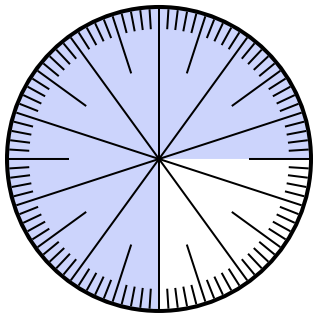
- A.  $\frac{80}{20}$
- B. 0,20
- C.  $\frac{20}{10}$
- D.  $\frac{0.2}{100}$

2) Lựa chọn nào thể hiện phần bóng mờ của bánh xe số?



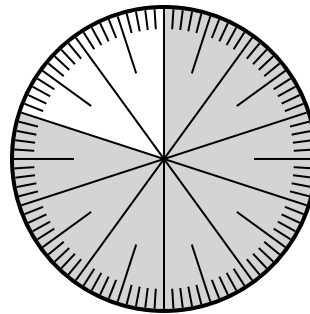
- A.  $\frac{0.05}{100}$
- B. 0,05
- C.  $\frac{5}{95}$
- D.  $\frac{9.5}{100}$

3) Which choice represents the un-shaded portion of the number wheel?



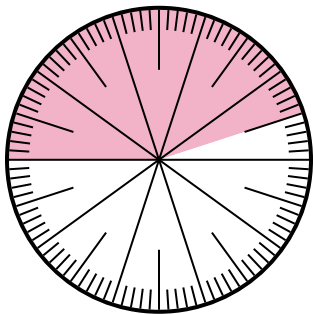
- A. 2,50
- B.  $\frac{25}{100}$
- C. 25
- D. 2.5

4) Lựa chọn nào thể hiện phần bóng mờ của bánh xe số?



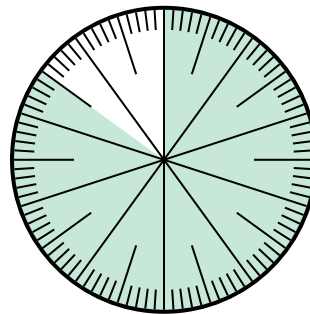
- A.  $\frac{80}{20}$
- B.  $\frac{8.00}{100}$
- C.  $\frac{80}{100}$
- D. 8,00

5) Lựa chọn nào thể hiện phần bóng mờ của bánh xe số?



- A. 55,0
- B. 45
- C. 4.5
- D. 0,45

6) Which choice represents the un-shaded portion of the number wheel?



- A.  $\frac{1.5}{100}$
- B.  $\frac{15}{100}$
- C. 1,50
- D. 1.5

- 1. **B**
- 2. **B**
- 3. **B**
- 4. **C**
- 5. **D**
- 6. **B**