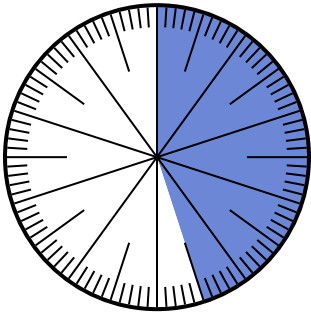




Giải các câu hỏi.

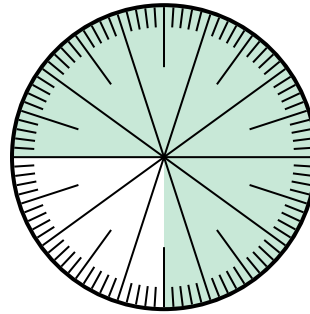
Câu trả lời

1) Lựa chọn nào thể hiện phần bóng mờ của bánh xe số?



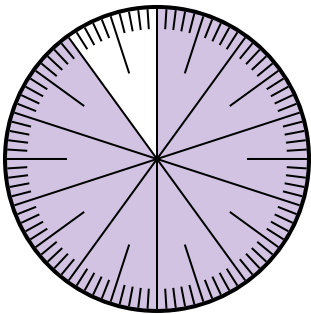
- A. $\frac{45}{100}$ B. $\frac{55}{45}$
 C. $\frac{45}{55}$ D. $\frac{4.5}{100}$

2) Lựa chọn nào thể hiện phần bóng mờ của bánh xe số?



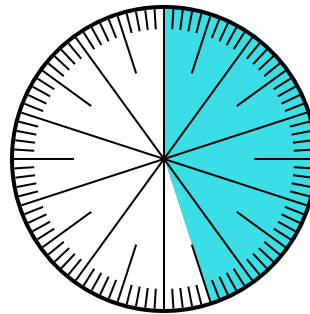
- A. $\frac{0.75}{100}$ B. 0,75
 C. $\frac{7,50}{100}$ D. $\frac{7.5}{100}$

3) Lựa chọn nào thể hiện phần bóng mờ của bánh xe số?



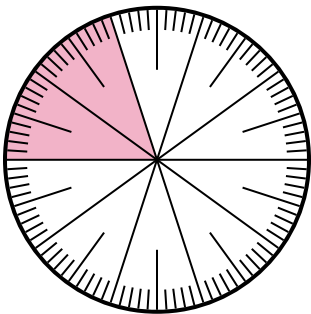
- A. 90 B. 0,090
 C. $\frac{90}{100}$ D. $\frac{9}{100}$

4) Which choice represents the un-shaded portion of the number wheel?



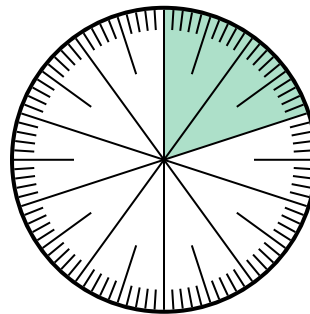
- A. 5.5 B. 55
 C. $\frac{5.5}{100}$ D. $\frac{55}{100}$

5) Which choice represents the un-shaded portion of the number wheel?



- A. $\frac{20}{80}$ B. 0,80
 C. $\frac{8}{100}$ D. 8

6) Which choice represents the un-shaded portion of the number wheel?



- A. 80 B. 8
 C. $\frac{0.8}{100}$ D. $\frac{80}{100}$

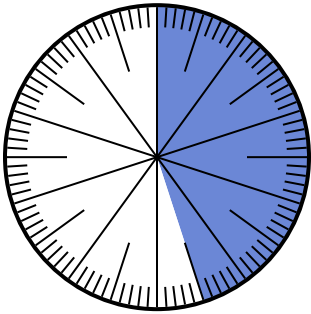
1. _____
 2. _____
 3. _____
 4. _____
 5. _____
 6. _____



Giải các câu hỏi.

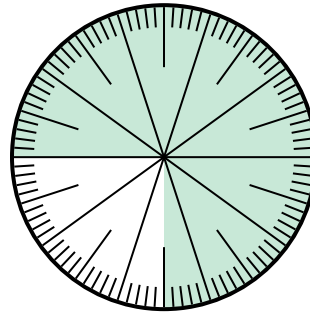
Câu trả lời

1) Lựa chọn nào thể hiện phần bóng mờ của bánh xe số?



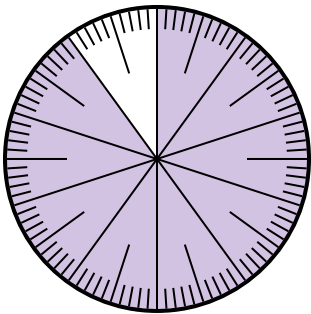
- A. $\frac{45}{100}$
- B. $\frac{55}{45}$
- C. $\frac{45}{55}$
- D. $\frac{4.5}{100}$

2) Lựa chọn nào thể hiện phần bóng mờ của bánh xe số?



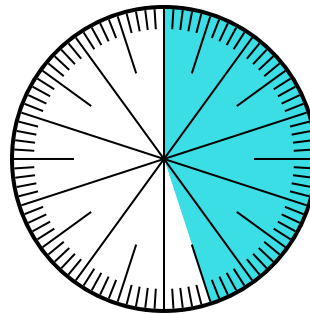
- A. $\frac{0.75}{100}$
- B. 0,75
- C. $\frac{7,50}{100}$
- D. $\frac{7.5}{100}$

3) Lựa chọn nào thể hiện phần bóng mờ của bánh xe số?



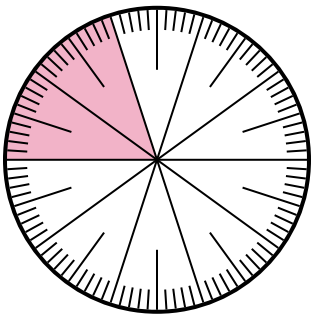
- A. 90
- B. 0,090
- C. $\frac{90}{100}$
- D. $\frac{9}{100}$

4) Which choice represents the un-shaded portion of the number wheel?



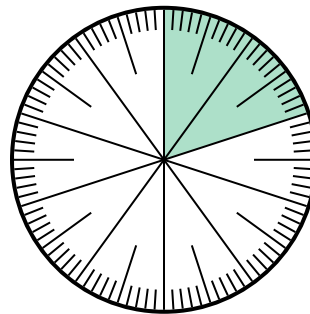
- A. 5.5
- B. 55
- C. $\frac{5.5}{100}$
- D. $\frac{55}{100}$

5) Which choice represents the un-shaded portion of the number wheel?



- A. $\frac{20}{80}$
- B. 0,80
- C. $\frac{8}{100}$
- D. 8

6) Which choice represents the un-shaded portion of the number wheel?



- A. 80
- B. 8
- C. $\frac{0.8}{100}$
- D. $\frac{80}{100}$

- 1. **A**
- 2. **B**
- 3. **C**
- 4. **D**
- 5. **B**
- 6. **D**