




Giải các câu hỏi.

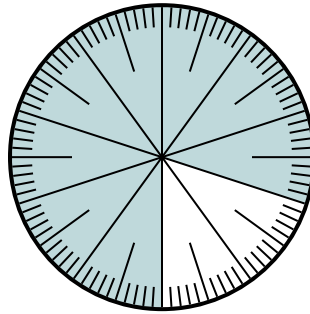
Câu trả lời

- 1) Lựa chọn nào thể hiện phần bóng mờ của bánh xe số?



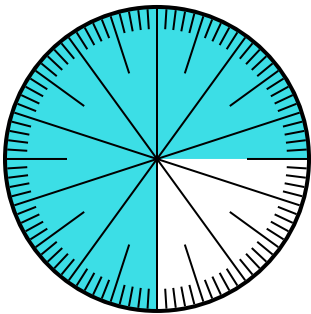
- A. 0,85 B. 8.5
C. 85 D. 0,085

- 2) Which choice represents the un-shaded portion of the number wheel?



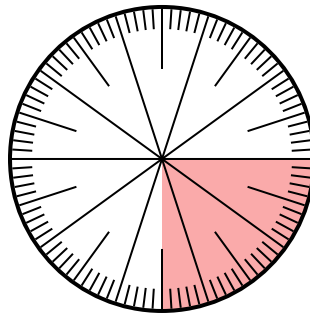
- A. $\frac{2}{100}$ B. $\frac{20}{100}$
C. $\frac{2,00}{100}$ D. $\frac{80}{20}$

- 3) Which choice represents the un-shaded portion of the number wheel?



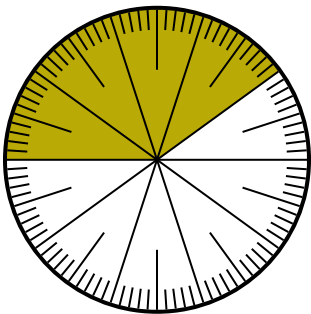
- A. 0,025 B. 0,25
C. 0,0075 D. 2,50

- 4) Lựa chọn nào thể hiện phần bóng mờ của bánh xe số?



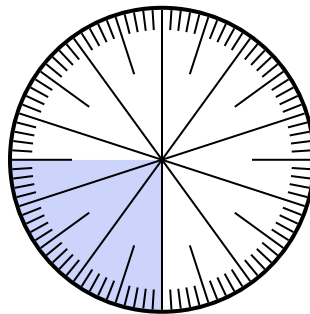
- A. $\frac{0,25}{100}$ B. $\frac{25}{100}$
C. 0,025 D. 25

- 5) Lựa chọn nào thể hiện phần bóng mờ của bánh xe số?



- A. $\frac{40}{60}$ B. $\frac{60}{40}$
C. $\frac{40}{100}$ D. $\frac{4}{100}$

- 6) Lựa chọn nào thể hiện phần bóng mờ của bánh xe số?



- A. 0,0075 B. $\frac{2,50}{100}$
C. 0,025 D. 0,25


1. _____
2. _____
3. _____
4. _____
5. _____
6. _____



Giải các câu hỏi.

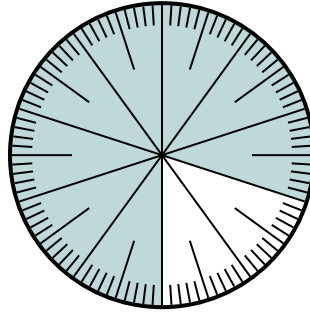
Câu trả lời

1) Lựa chọn nào thể hiện phần bóng mờ của bánh xe số?



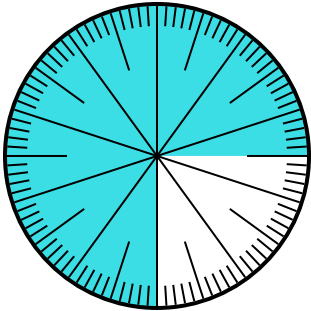
- A. 0,85 B. 8.5
C. 85 D. 0,085

2) Which choice represents the un-shaded portion of the number wheel?



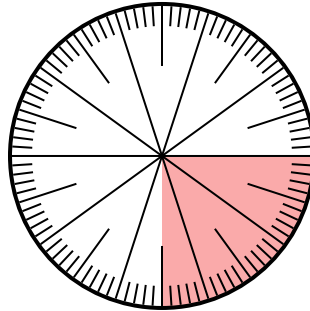
- A. $\frac{2}{100}$ B. $\frac{20}{100}$
C. $\frac{2,00}{100}$ D. $\frac{80}{20}$

3) Which choice represents the un-shaded portion of the number wheel?



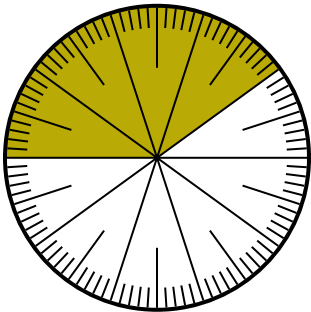
- A. 0,025 B. 0,25
C. 0,0075 D. 2,50

4) Lựa chọn nào thể hiện phần bóng mờ của bánh xe số?



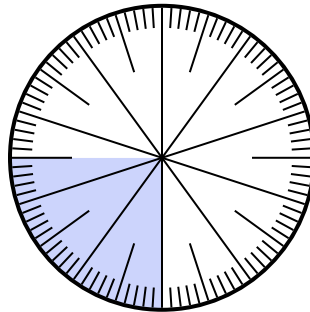
- A. $\frac{0,25}{100}$ B. $\frac{25}{100}$
C. 0,025 D. 25

5) Lựa chọn nào thể hiện phần bóng mờ của bánh xe số?



- A. $\frac{40}{60}$ B. $\frac{60}{40}$
C. $\frac{40}{100}$ D. $\frac{4}{100}$

6) Lựa chọn nào thể hiện phần bóng mờ của bánh xe số?



- A. 0,0075 B. $\frac{2,50}{100}$
C. 0,025 D. 0,25

1. **A**
2. **B**
3. **B**
4. **B**
5. **C**
6. **D**