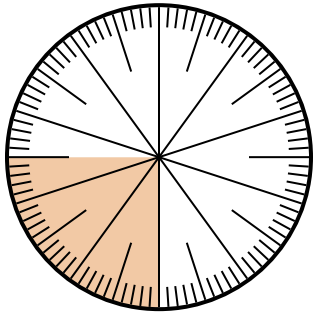




Giải các câu hỏi.

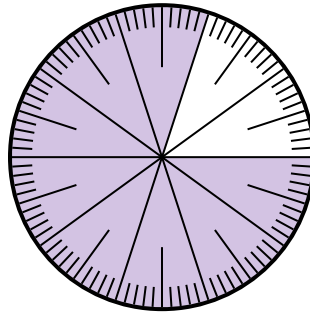
Câu trả lời

- 1) Lựa chọn nào thể hiện phần bóng mờ của bánh xe số?



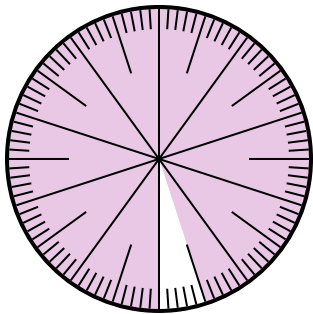
- A. $\frac{25}{75}$ B. $\frac{0.25}{100}$
C. $\frac{25}{100}$ D. 2,50

- 2) Lựa chọn nào thể hiện phần bóng mờ của bánh xe số?



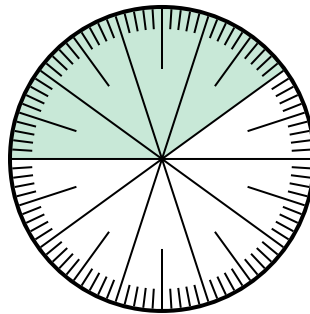
- A. $\frac{8}{100}$ B. 0,080
C. $\frac{0.8}{100}$ D. $\frac{80}{100}$

- 3) Which choice represents the un-shaded portion of the number wheel?



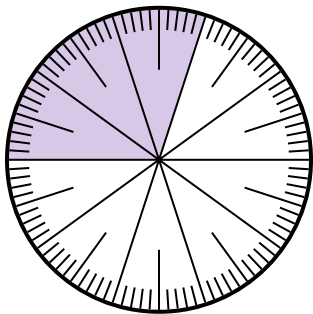
- A. $\frac{5}{100}$ B. 0.5
C. $\frac{95}{5}$ D. $\frac{5}{95}$

- 4) Which choice represents the un-shaded portion of the number wheel?



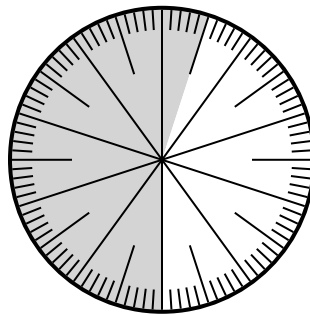
- A. $\frac{0.6}{100}$ B. 0,60
C. $\frac{40}{60}$ D. 6,00

- 5) Lựa chọn nào thể hiện phần bóng mờ của bánh xe số?



- A. 3 B. 0,30
C. 30 D. $\frac{30}{70}$

- 6) Lựa chọn nào thể hiện phần bóng mờ của bánh xe số?



- A. $\frac{55}{100}$ B. 45
C. 5.5 D. 45,0

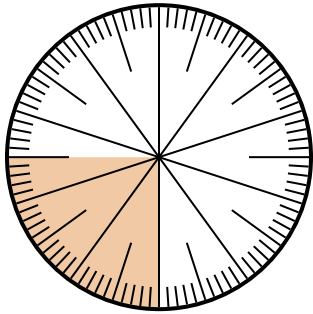
1. _____
2. _____
3. _____
4. _____
5. _____
6. _____



Giải các câu hỏi.

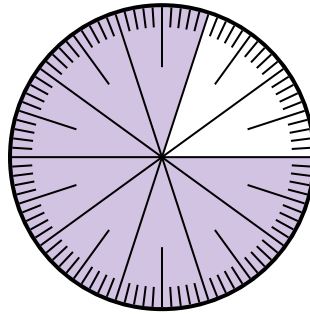
Câu trả lời

- 1) Lựa chọn nào thể hiện phần bóng mờ của bánh xe số?



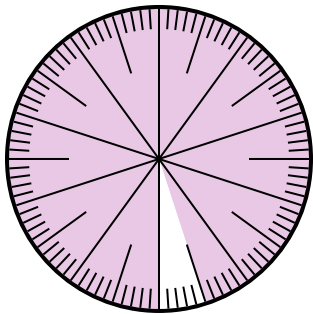
- A. $\frac{25}{75}$ B. $\frac{0.25}{100}$
 C. $\frac{25}{100}$ D. 2,50

- 2) Lựa chọn nào thể hiện phần bóng mờ của bánh xe số?



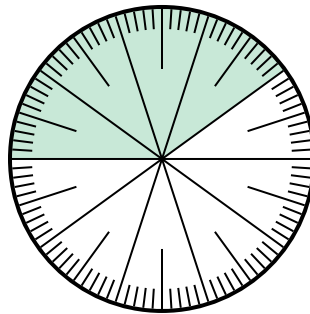
- A. $\frac{8}{100}$ B. 0,080
 C. $\frac{0.8}{100}$ D. $\frac{80}{100}$

- 3) Which choice represents the un-shaded portion of the number wheel?



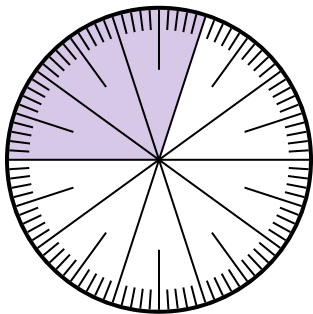
- A. $\frac{5}{100}$ B. 0.5
 C. $\frac{95}{5}$ D. $\frac{5}{95}$

- 4) Which choice represents the un-shaded portion of the number wheel?



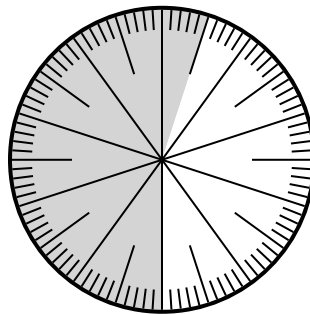
- A. $\frac{0.6}{100}$ B. 0,60
 C. $\frac{40}{60}$ D. 6,00

- 5) Lựa chọn nào thể hiện phần bóng mờ của bánh xe số?



- A. 3 B. 0,30
 C. 30 D. $\frac{30}{70}$

- 6) Lựa chọn nào thể hiện phần bóng mờ của bánh xe số?



- A. $\frac{55}{100}$ B. 45
 C. 5.5 D. 45,0

1. **C**
 2. **D**
 3. **A**
 4. **B**
 5. **B**
 6. **A**