
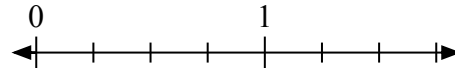
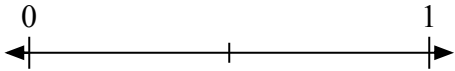
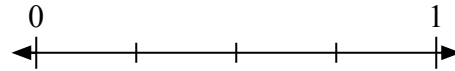
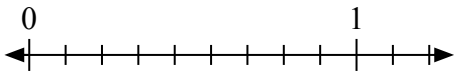
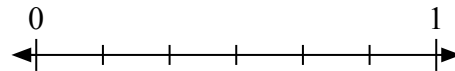

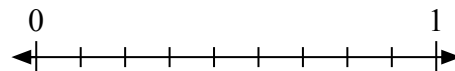
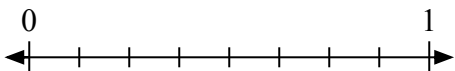
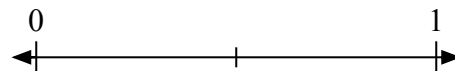
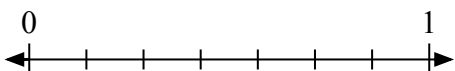
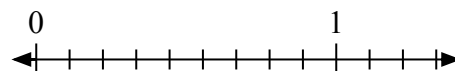
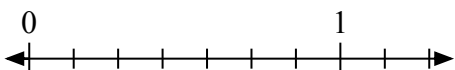
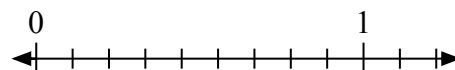
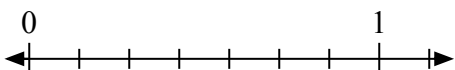
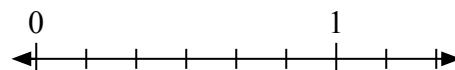




## Giải các câu hỏi.

1) Viết  $\frac{0}{3}$  dưới dạng số nguyên.2) Viết  $\frac{0}{4}$  dưới dạng số nguyên.3) Viết  $\frac{1}{2}$  dưới dạng số nguyên.4) Viết  $\frac{2}{4}$  dưới dạng số nguyên.5) Viết  $\frac{2}{9}$  dưới dạng số nguyên.6) Viết  $\frac{6}{6}$  dưới dạng số nguyên.7) Viết  $\frac{2}{3}$  dưới dạng số nguyên.8) Viết  $\frac{9}{9}$  dưới dạng số nguyên.9) Viết  $\frac{5}{8}$  dưới dạng số nguyên.10) Viết  $\frac{0}{2}$  dưới dạng số nguyên.11) Viết  $\frac{4}{7}$  dưới dạng số nguyên.12) Viết  $\frac{5}{9}$  dưới dạng số nguyên.13) Viết  $\frac{0}{7}$  dưới dạng số nguyên.14) Viết  $\frac{0}{9}$  dưới dạng số nguyên.15) Viết  $\frac{1}{7}$  dưới dạng số nguyên.16) Viết  $\frac{1}{6}$  dưới dạng số nguyên.

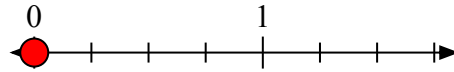


**Giải các câu hỏi.**

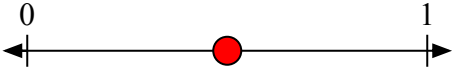
1) Viết  $\frac{0}{3}$  dưới dạng số nguyên.



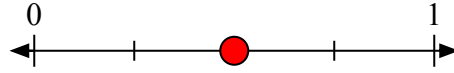
2) Viết  $\frac{0}{4}$  dưới dạng số nguyên.



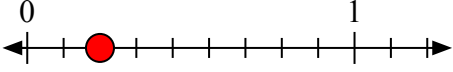
3) Viết  $\frac{1}{2}$  dưới dạng số nguyên.



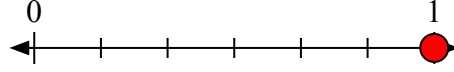
4) Viết  $\frac{2}{4}$  dưới dạng số nguyên.



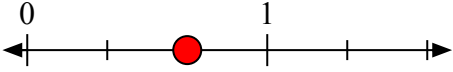
5) Viết  $\frac{2}{9}$  dưới dạng số nguyên.



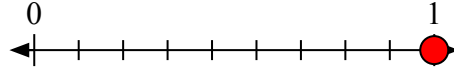
6) Viết  $\frac{6}{6}$  dưới dạng số nguyên.



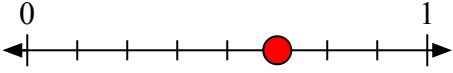
7) Viết  $\frac{2}{3}$  dưới dạng số nguyên.



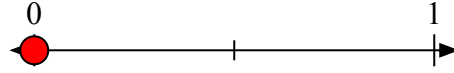
8) Viết  $\frac{9}{9}$  dưới dạng số nguyên.



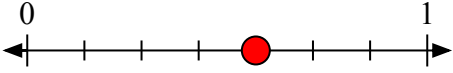
9) Viết  $\frac{5}{8}$  dưới dạng số nguyên.



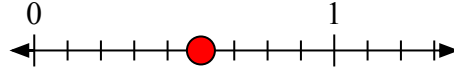
10) Viết  $\frac{0}{2}$  dưới dạng số nguyên.



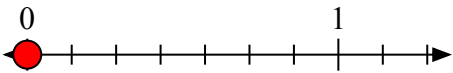
11) Viết  $\frac{4}{7}$  dưới dạng số nguyên.



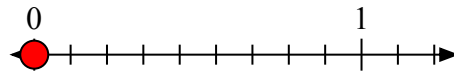
12) Viết  $\frac{5}{9}$  dưới dạng số nguyên.



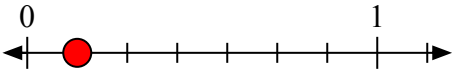
13) Viết  $\frac{0}{7}$  dưới dạng số nguyên.



14) Viết  $\frac{0}{9}$  dưới dạng số nguyên.



15) Viết  $\frac{1}{7}$  dưới dạng số nguyên.



16) Viết  $\frac{1}{6}$  dưới dạng số nguyên.

