

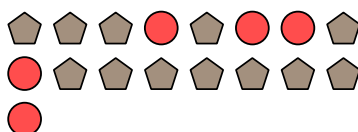

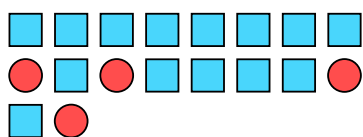
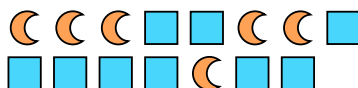


**Giải các câu hỏi.****Vd)** Biểu diễn hình ngôi sao như phân số so với toàn bộ hình.**1)** Biểu diễn hình ngũ giác như phân số so với toàn bộ hình.**2)** Biểu diễn trái tim như phân số so với toàn bộ hình.**3)** Biểu diễn hình ngũ giác như phân số so với toàn bộ hình.**4)** Biểu diễn hình ngôi sao như phân số so với toàn bộ hình.**5)** Biểu diễn hình tròn như phân số so với toàn bộ hình.**6)** Biểu diễn hình ngũ giác như phân số so với toàn bộ hình.**7)** Biểu diễn hình tam giác như phân số so với toàn bộ hình.**8)** Biểu diễn hình vuông như phân số so với toàn bộ hình.**9)** Biểu diễn hình ngôi sao như phân số so với toàn bộ hình.**10)** Biểu diễn mặt trăng như phân số so với toàn bộ hình.**11)** Biểu diễn mặt trăng như phân số so với toàn bộ hình.**Câu trả lời**Vd. $\frac{15}{25}$ 1. $\frac{8}{20}$ 2. $\frac{10}{12}$ 3. $\frac{11}{16}$ 4. $\frac{3}{13}$ 5. $\frac{5}{17}$ 6. $\frac{14}{29}$ 7. $\frac{8}{14}$ 8. $\frac{14}{18}$ 9. $\frac{7}{12}$ 10. $\frac{8}{13}$ 11. $\frac{6}{15}$