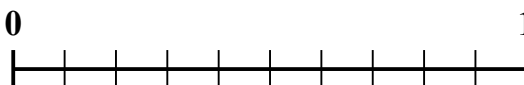
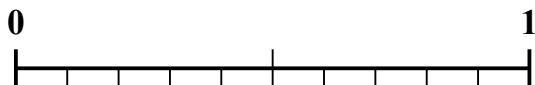
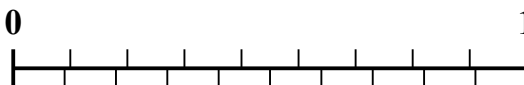
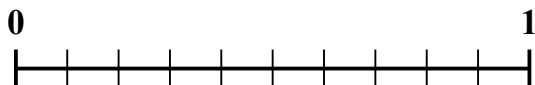
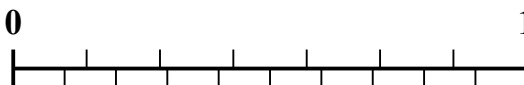
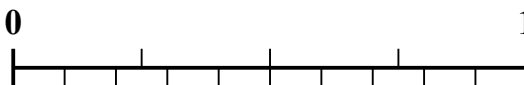




Sử dụng dãy số để giải quyết từng vấn đề.

Câu trả lời1) Số tiền nào lớn hơn, $\frac{3}{7}$ hay 0,53?2) Số tiền nào lớn hơn, $\frac{5}{9}$ hay 0,45?3) Số tiền nào lớn hơn, $\frac{4}{6}$ hay 0,84?4) Số tiền nào lớn hơn, $\frac{4}{10}$ hay 0,56?5) Số tiền nào lớn hơn, $\frac{1}{2}$ hay 0,68?6) Số tiền nào lớn hơn, $\frac{4}{9}$ hay 0,32?7) Số tiền nào lớn hơn, $\frac{3}{10}$ hay 0,18?8) Số tiền nào lớn hơn, $\frac{6}{7}$ hay 0,68?9) Số tiền nào lớn hơn, $\frac{6}{8}$ hay 0,64?10) Số tiền nào lớn hơn, $\frac{3}{4}$ hay 0,61?

1. _____

2. _____

3. _____

4. _____

5. _____

6. _____

7. _____

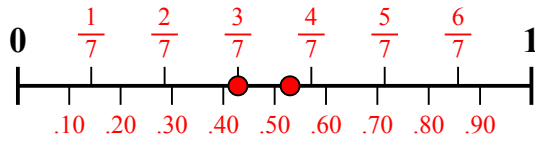
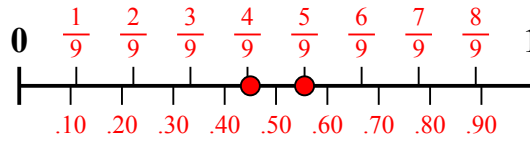
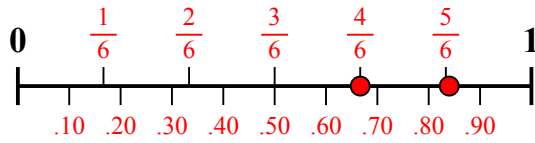
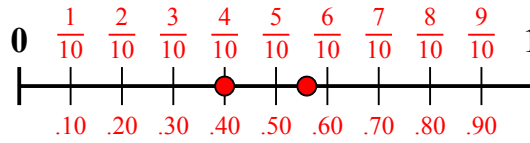
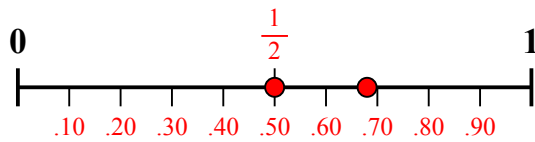
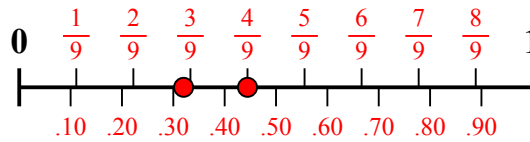
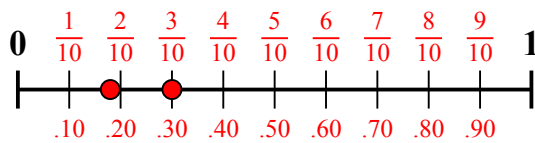
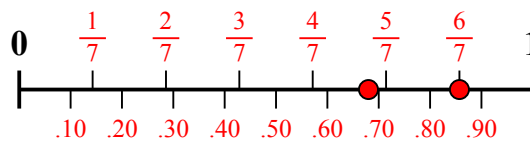
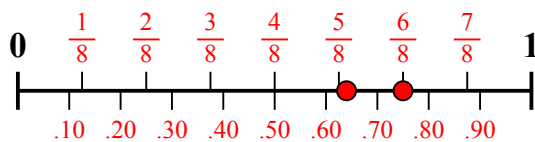
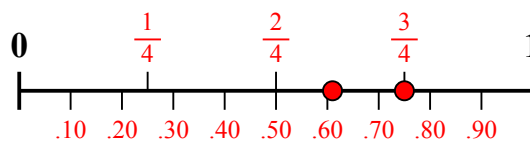
8. _____

9. _____

10. _____



Sử dụng dãy số để giải quyết từng vấn đề.

1) Số tiền nào lớn hơn, $\frac{3}{7}$ hay 0,53?2) Số tiền nào lớn hơn, $\frac{5}{9}$ hay 0,45?3) Số tiền nào lớn hơn, $\frac{4}{6}$ hay 0,84?4) Số tiền nào lớn hơn, $\frac{4}{10}$ hay 0,56?5) Số tiền nào lớn hơn, $\frac{1}{2}$ hay 0,68?6) Số tiền nào lớn hơn, $\frac{4}{9}$ hay 0,32?7) Số tiền nào lớn hơn, $\frac{3}{10}$ hay 0,18?8) Số tiền nào lớn hơn, $\frac{6}{7}$ hay 0,68?9) Số tiền nào lớn hơn, $\frac{6}{8}$ hay 0,64?10) Số tiền nào lớn hơn, $\frac{3}{4}$ hay 0,61?**Câu trả lời**

1. **0,53**
2. **$\frac{5}{9}$**
3. **0,84**
4. **0,56**
5. **0,68**
6. **$\frac{4}{9}$**
7. **$\frac{3}{10}$**
8. **$\frac{6}{7}$**
9. **$\frac{6}{8}$**
10. **$\frac{3}{4}$**