
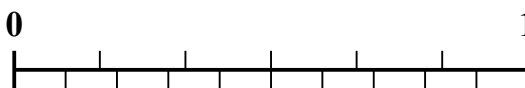
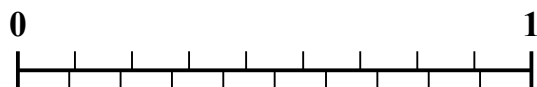
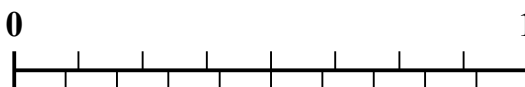

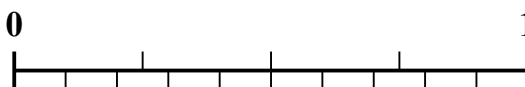
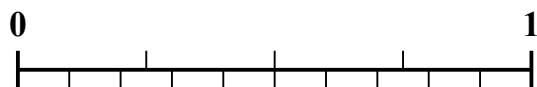




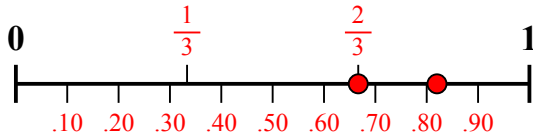
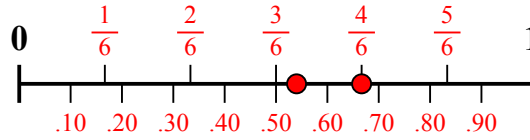
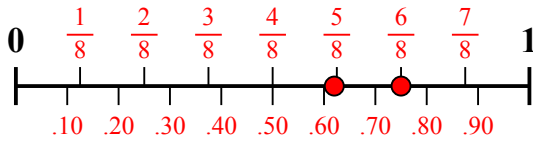
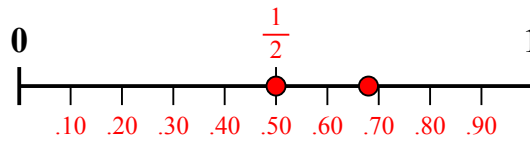
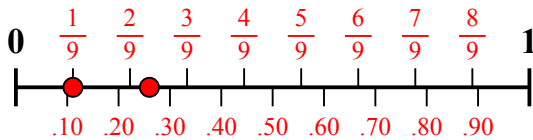
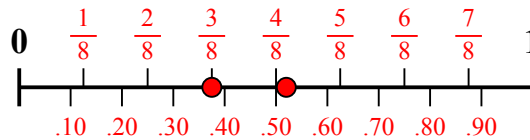
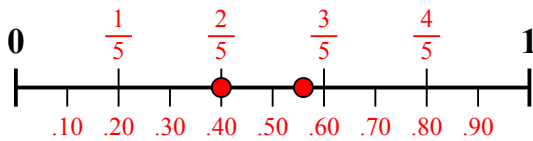
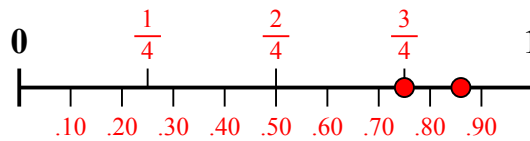
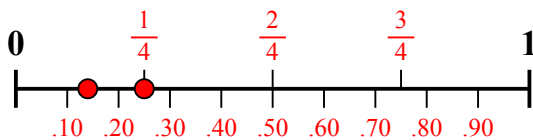
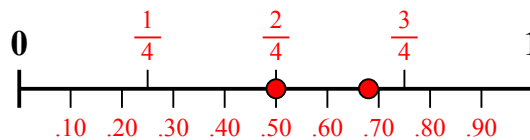
Sử dụng dãy số để giải quyết từng vấn đề.

**Câu trả lời**1) Số tiền nào lớn hơn,  $\frac{2}{3}$  hay 0,82?2) Số tiền nào lớn hơn,  $\frac{4}{6}$  hay 0,54?3) Số tiền nào lớn hơn,  $\frac{6}{8}$  hay 0,62?4) Số tiền nào lớn hơn,  $\frac{1}{2}$  hay 0,68?5) Số tiền nào lớn hơn,  $\frac{1}{9}$  hay 0,26?6) Số tiền nào lớn hơn,  $\frac{3}{8}$  hay 0,52?7) Số tiền nào lớn hơn,  $\frac{2}{5}$  hay 0,56?8) Số tiền nào lớn hơn,  $\frac{3}{4}$  hay 0,86?9) Số tiền nào lớn hơn,  $\frac{1}{4}$  hay 0,14?10) Số tiền nào lớn hơn,  $\frac{2}{4}$  hay 0,68?

1. \_\_\_\_\_
2. \_\_\_\_\_
3. \_\_\_\_\_
4. \_\_\_\_\_
5. \_\_\_\_\_
6. \_\_\_\_\_
7. \_\_\_\_\_
8. \_\_\_\_\_
9. \_\_\_\_\_
10. \_\_\_\_\_



Sử dụng dãy số để giải quyết từng vấn đề.

1) Số tiền nào lớn hơn,  $\frac{2}{3}$  hay 0,82?2) Số tiền nào lớn hơn,  $\frac{4}{6}$  hay 0,54?3) Số tiền nào lớn hơn,  $\frac{6}{8}$  hay 0,62?4) Số tiền nào lớn hơn,  $\frac{1}{2}$  hay 0,68?5) Số tiền nào lớn hơn,  $\frac{1}{9}$  hay 0,26?6) Số tiền nào lớn hơn,  $\frac{3}{8}$  hay 0,52?7) Số tiền nào lớn hơn,  $\frac{2}{5}$  hay 0,56?8) Số tiền nào lớn hơn,  $\frac{3}{4}$  hay 0,86?9) Số tiền nào lớn hơn,  $\frac{1}{4}$  hay 0,14?10) Số tiền nào lớn hơn,  $\frac{2}{4}$  hay 0,68?**Câu trả lời**

1. 0,82
2.  $\frac{4}{6}$
3.  $\frac{6}{8}$
4. 0,68
5. 0,26
6. 0,52
7. 0,56
8. 0,86
9.  $\frac{1}{4}$
10. 0,68