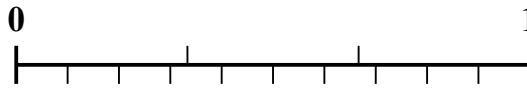
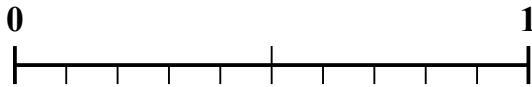
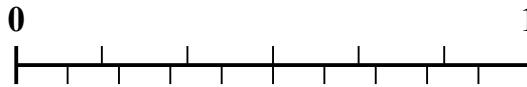
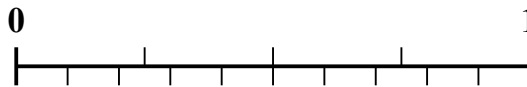


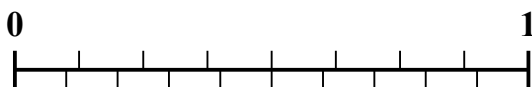
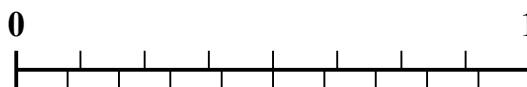




Sử dụng dãy số để giải quyết từng vấn đề.

Câu trả lời1) Số tiền nào lớn hơn, $\frac{3}{7}$ hay 0,23?2) Số tiền nào lớn hơn, $\frac{2}{3}$ hay 0,82?3) Số tiền nào lớn hơn, $\frac{1}{2}$ hay 0,61?4) Số tiền nào lớn hơn, $\frac{4}{6}$ hay 0,77?5) Số tiền nào lớn hơn, $\frac{6}{7}$ hay 0,73?6) Số tiền nào lớn hơn, $\frac{2}{4}$ hay 0,6?7) Số tiền nào lớn hơn, $\frac{3}{4}$ hay 0,88?8) Số tiền nào lớn hơn, $\frac{3}{10}$ hay 0,14?9) Số tiền nào lớn hơn, $\frac{3}{8}$ hay 0,19?10) Số tiền nào lớn hơn, $\frac{5}{8}$ hay 0,83?

1. _____

2. _____

3. _____

4. _____

5. _____

6. _____

7. _____

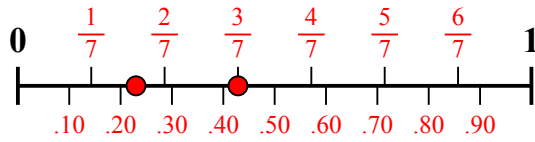
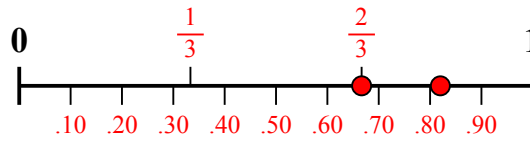
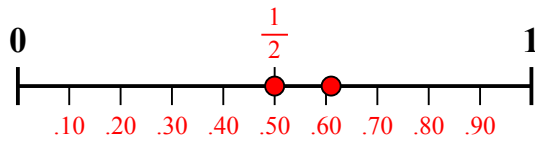
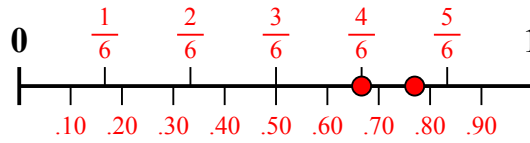
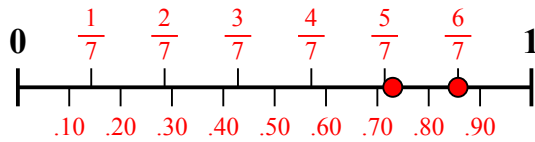
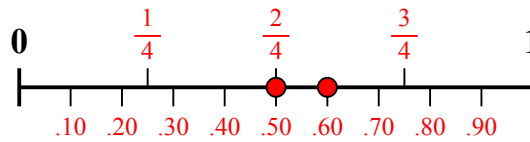
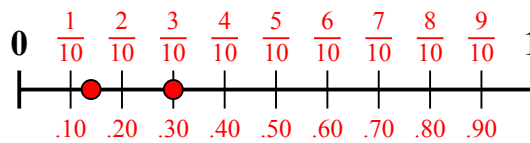
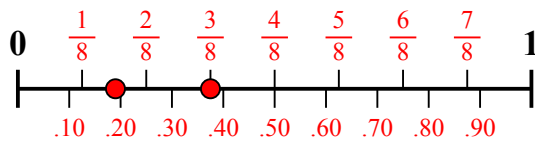
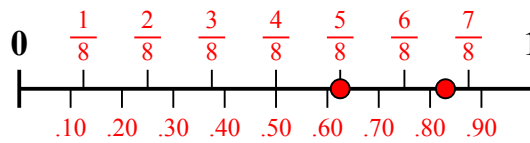
8. _____

9. _____

10. _____



Sử dụng dãy số để giải quyết từng vấn đề.

1) Số tiền nào lớn hơn, $\frac{3}{7}$ hay 0,23?2) Số tiền nào lớn hơn, $\frac{2}{3}$ hay 0,82?3) Số tiền nào lớn hơn, $\frac{1}{2}$ hay 0,61?4) Số tiền nào lớn hơn, $\frac{4}{6}$ hay 0,77?5) Số tiền nào lớn hơn, $\frac{6}{7}$ hay 0,73?6) Số tiền nào lớn hơn, $\frac{2}{4}$ hay 0,6?7) Số tiền nào lớn hơn, $\frac{3}{4}$ hay 0,88?8) Số tiền nào lớn hơn, $\frac{3}{10}$ hay 0,14?9) Số tiền nào lớn hơn, $\frac{3}{8}$ hay 0,19?10) Số tiền nào lớn hơn, $\frac{5}{8}$ hay 0,83?**Câu trả lời**1. $\frac{3}{7}$ 2. **0,82**3. **0,61**4. **0,77**5. $\frac{6}{7}$ 6. **0,6**7. **0,88**8. $\frac{3}{10}$ 9. $\frac{3}{8}$ 10. **0,83**