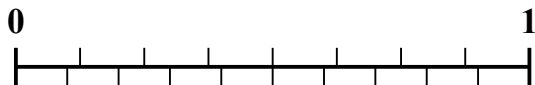
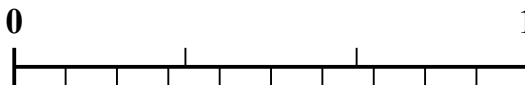

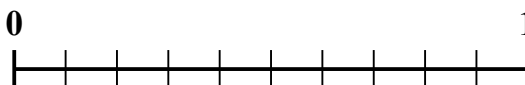
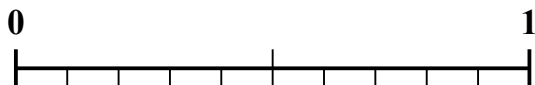
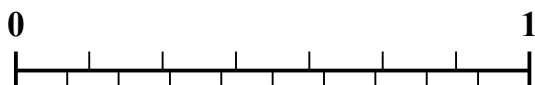
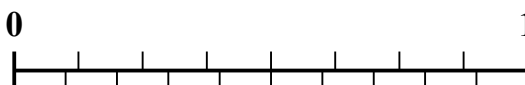





Sử dụng dãy số để giải quyết từng vấn đề.

Câu trả lời1) Số tiền nào lớn hơn, $\frac{4}{8}$ hay 0,35?2) Số tiền nào lớn hơn, $\frac{1}{3}$ hay 0,18?3) Số tiền nào lớn hơn, $\frac{2}{5}$ hay 0,56?4) Số tiền nào lớn hơn, $\frac{7}{10}$ hay 0,53?5) Số tiền nào lớn hơn, $\frac{1}{2}$ hay 0,64?6) Số tiền nào lớn hơn, $\frac{6}{9}$ hay 0,57?7) Số tiền nào lớn hơn, $\frac{3}{7}$ hay 0,24?8) Số tiền nào lớn hơn, $\frac{3}{8}$ hay 0,24?9) Số tiền nào lớn hơn, $\frac{2}{3}$ hay 0,85?10) Số tiền nào lớn hơn, $\frac{2}{9}$ hay 0,11?

1. _____

2. _____

3. _____

4. _____

5. _____

6. _____

7. _____

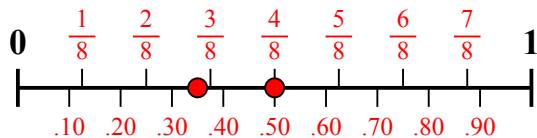
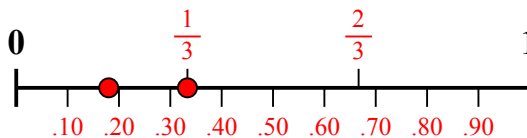
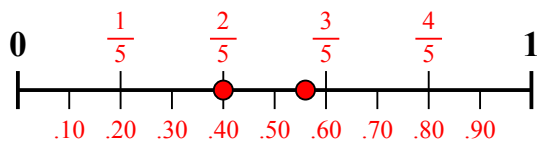
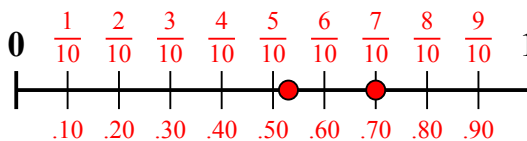
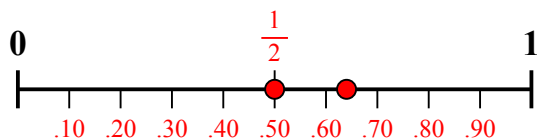
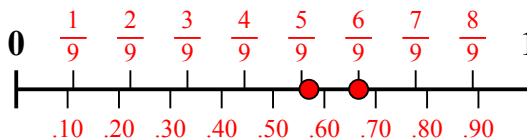
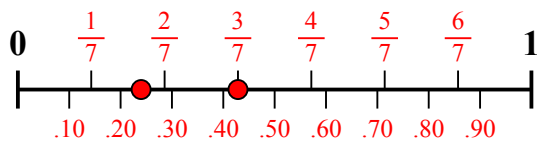
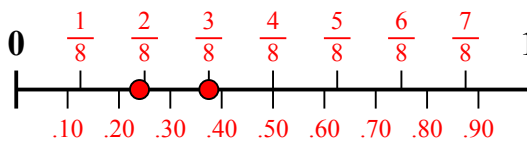
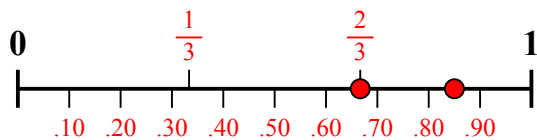
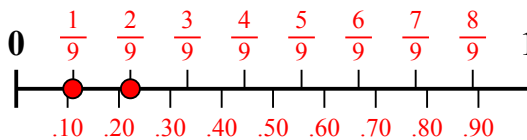
8. _____

9. _____

10. _____



Sử dụng dãy số để giải quyết từng vấn đề.

1) Số tiền nào lớn hơn, $\frac{4}{8}$ hay 0,35?2) Số tiền nào lớn hơn, $\frac{1}{3}$ hay 0,18?3) Số tiền nào lớn hơn, $\frac{2}{5}$ hay 0,56?4) Số tiền nào lớn hơn, $\frac{7}{10}$ hay 0,53?5) Số tiền nào lớn hơn, $\frac{1}{2}$ hay 0,64?6) Số tiền nào lớn hơn, $\frac{6}{9}$ hay 0,57?7) Số tiền nào lớn hơn, $\frac{3}{7}$ hay 0,24?8) Số tiền nào lớn hơn, $\frac{3}{8}$ hay 0,24?9) Số tiền nào lớn hơn, $\frac{2}{3}$ hay 0,85?10) Số tiền nào lớn hơn, $\frac{2}{9}$ hay 0,11?**Câu trả lời**1. $\frac{4}{8}$ 2. $\frac{1}{3}$ 3. **0,56**4. $\frac{7}{10}$ 5. **0,64**6. $\frac{6}{9}$ 7. $\frac{3}{7}$ 8. $\frac{3}{8}$ 9. **0,85**10. $\frac{2}{9}$