

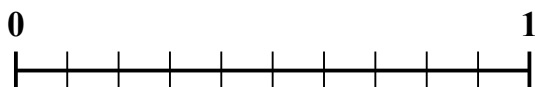
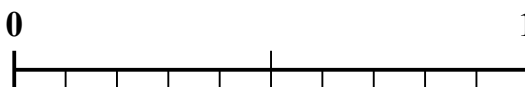




Sử dụng dãy số để giải quyết từng vấn đề.

1) Số tiền nào lớn hơn,  $\frac{5}{7}$  hay 0,6?2) Số tiền nào lớn hơn,  $\frac{3}{7}$  hay 0,24?3) Số tiền nào lớn hơn,  $\frac{4}{8}$  hay 0,4?4) Số tiền nào lớn hơn,  $\frac{1}{4}$  hay 0,4?5) Số tiền nào lớn hơn,  $\frac{1}{3}$  hay 0,49?6) Số tiền nào lớn hơn,  $\frac{2}{3}$  hay 0,79?7) Số tiền nào lớn hơn,  $\frac{6}{10}$  hay 0,42?8) Số tiền nào lớn hơn,  $\frac{3}{4}$  hay 0,9?9) Số tiền nào lớn hơn,  $\frac{7}{8}$  hay 0,75?10) Số tiền nào lớn hơn,  $\frac{1}{2}$  hay 0,33?**Câu trả lời**

1. \_\_\_\_\_

2. \_\_\_\_\_

3. \_\_\_\_\_

4. \_\_\_\_\_

5. \_\_\_\_\_

6. \_\_\_\_\_

7. \_\_\_\_\_

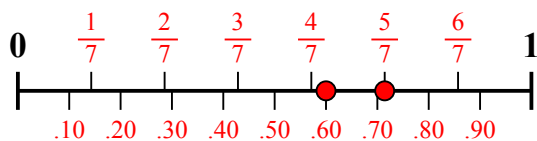
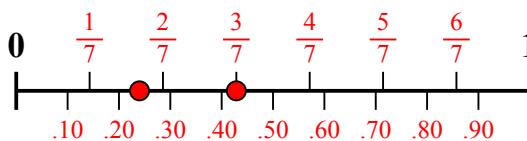
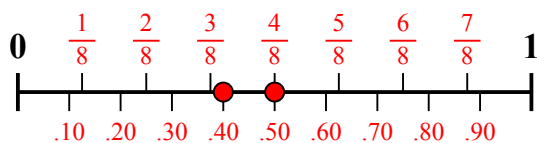
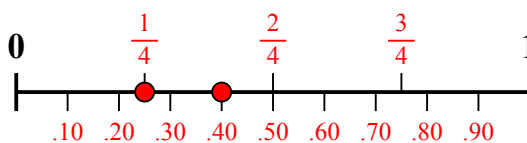
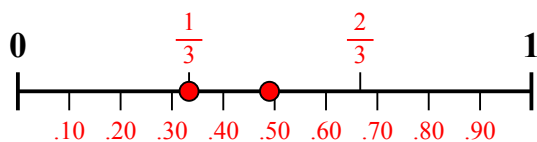
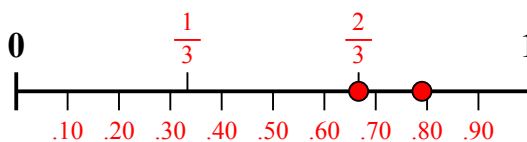
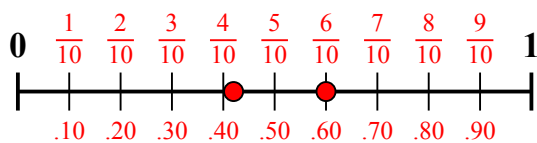
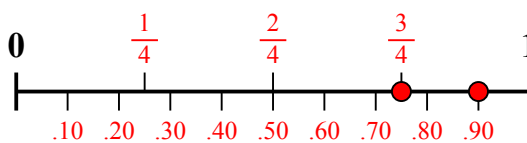
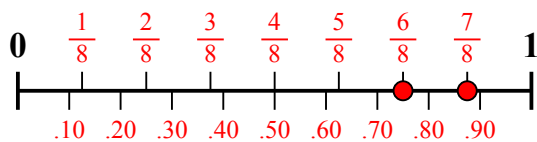
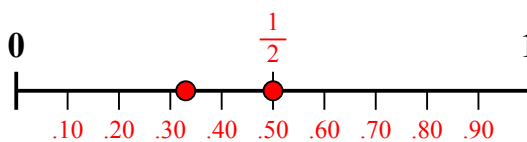
8. \_\_\_\_\_

9. \_\_\_\_\_

10. \_\_\_\_\_



Sử dụng dãy số để giải quyết từng vấn đề.

1) Số tiền nào lớn hơn,  $\frac{5}{7}$  hay 0,6?2) Số tiền nào lớn hơn,  $\frac{3}{7}$  hay 0,24?3) Số tiền nào lớn hơn,  $\frac{4}{8}$  hay 0,4?4) Số tiền nào lớn hơn,  $\frac{1}{4}$  hay 0,4?5) Số tiền nào lớn hơn,  $\frac{1}{3}$  hay 0,49?6) Số tiền nào lớn hơn,  $\frac{2}{3}$  hay 0,79?7) Số tiền nào lớn hơn,  $\frac{6}{10}$  hay 0,42?8) Số tiền nào lớn hơn,  $\frac{3}{4}$  hay 0,9?9) Số tiền nào lớn hơn,  $\frac{7}{8}$  hay 0,75?10) Số tiền nào lớn hơn,  $\frac{1}{2}$  hay 0,33?**Câu trả lời**

1.  $\frac{5}{7}$
2.  $\frac{3}{7}$
3.  $\frac{4}{8}$
4. **0,4**
5. **0,49**
6. **0,79**
7.  $\frac{6}{10}$
8. **0,9**
9.  $\frac{7}{8}$
10.  $\frac{1}{2}$