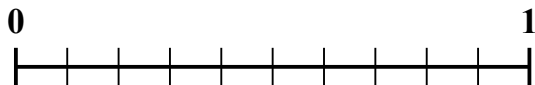
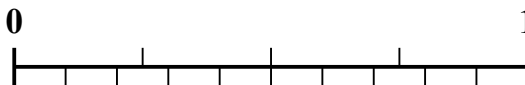
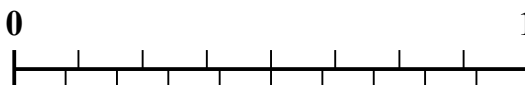

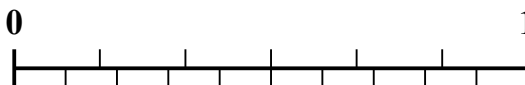

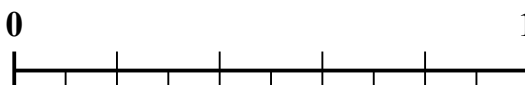





Sử dụng dãy số để giải quyết từng vấn đề.

Câu trả lời1) Số tiền nào lớn hơn, $\frac{6}{10}$ hay 0,47?2) Số tiền nào lớn hơn, $\frac{3}{4}$ hay 0,89?3) Số tiền nào lớn hơn, $\frac{5}{10}$ hay 0,6?4) Số tiền nào lớn hơn, $\frac{7}{8}$ hay 0,78?5) Số tiền nào lớn hơn, $\frac{1}{3}$ hay 0,19?6) Số tiền nào lớn hơn, $\frac{2}{6}$ hay 0,44?7) Số tiền nào lớn hơn, $\frac{3}{5}$ hay 0,43?8) Số tiền nào lớn hơn, $\frac{2}{5}$ hay 0,56?9) Số tiền nào lớn hơn, $\frac{4}{5}$ hay 0,69?10) Số tiền nào lớn hơn, $\frac{1}{2}$ hay 0,6?

1. _____

2. _____

3. _____

4. _____

5. _____

6. _____

7. _____

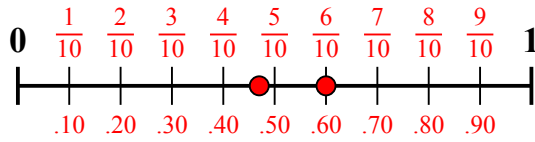
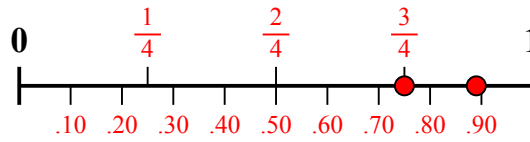
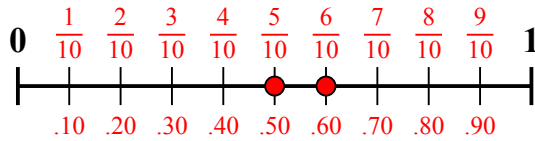
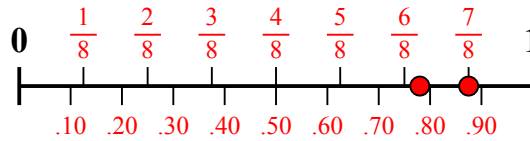
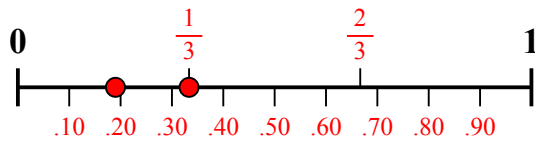
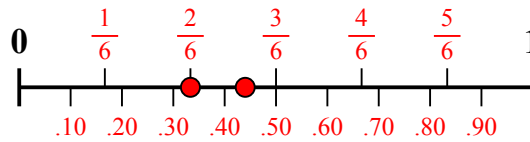
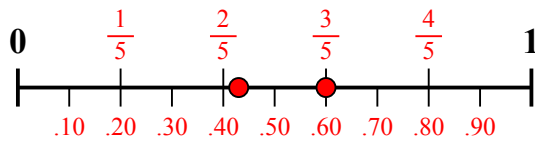
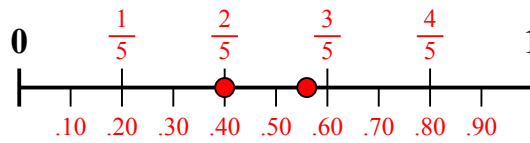
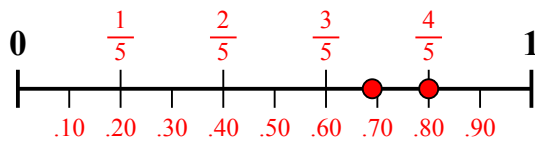
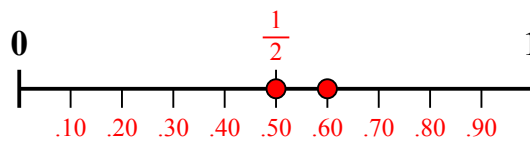
8. _____

9. _____

10. _____



Sử dụng dãy số để giải quyết từng vấn đề.

1) Số tiền nào lớn hơn, $\frac{6}{10}$ hay 0,47?2) Số tiền nào lớn hơn, $\frac{3}{4}$ hay 0,89?3) Số tiền nào lớn hơn, $\frac{5}{10}$ hay 0,6?4) Số tiền nào lớn hơn, $\frac{7}{8}$ hay 0,78?5) Số tiền nào lớn hơn, $\frac{1}{3}$ hay 0,19?6) Số tiền nào lớn hơn, $\frac{2}{6}$ hay 0,44?7) Số tiền nào lớn hơn, $\frac{3}{5}$ hay 0,43?8) Số tiền nào lớn hơn, $\frac{2}{5}$ hay 0,56?9) Số tiền nào lớn hơn, $\frac{4}{5}$ hay 0,69?10) Số tiền nào lớn hơn, $\frac{1}{2}$ hay 0,6?**Câu trả lời**1. $\frac{6}{10}$ 2. **0,89**3. **0,6**4. $\frac{7}{8}$ 5. $\frac{1}{3}$ 6. **0,44**7. $\frac{3}{5}$ 8. **0,56**9. $\frac{4}{5}$ 10. **0,6**