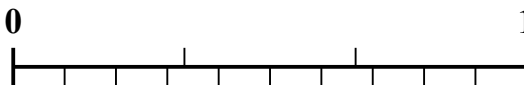

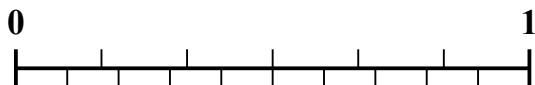
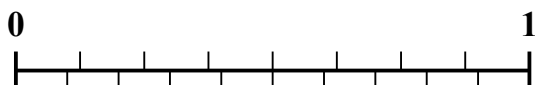
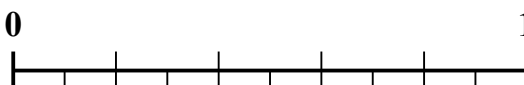




Sử dụng dãy số để giải quyết từng vấn đề.

1) Số tiền nào lớn hơn, $\frac{2}{9}$ hay 0,36?2) Số tiền nào lớn hơn, $\frac{1}{3}$ hay 0,43?3) Số tiền nào lớn hơn, $\frac{1}{5}$ hay 0,35?4) Số tiền nào lớn hơn, $\frac{2}{8}$ hay 0,36?5) Số tiền nào lớn hơn, $\frac{4}{6}$ hay 0,57?6) Số tiền nào lớn hơn, $\frac{3}{9}$ hay 0,15?7) Số tiền nào lớn hơn, $\frac{3}{8}$ hay 0,49?8) Số tiền nào lớn hơn, $\frac{3}{5}$ hay 0,71?9) Số tiền nào lớn hơn, $\frac{1}{2}$ hay 0,64?10) Số tiền nào lớn hơn, $\frac{6}{9}$ hay 0,52?**Câu trả lời**

1. _____

2. _____

3. _____

4. _____

5. _____

6. _____

7. _____

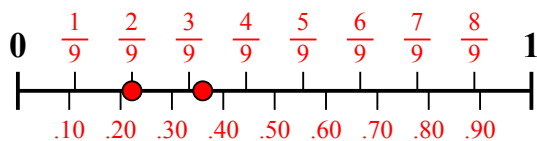
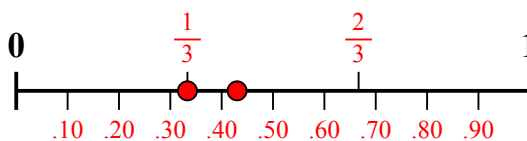
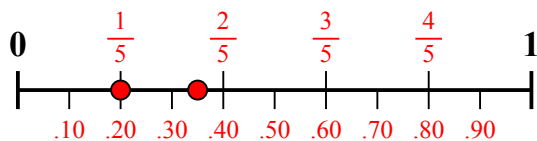
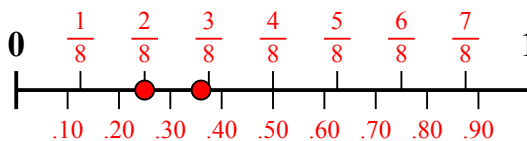
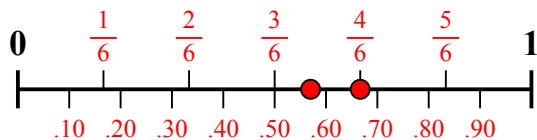
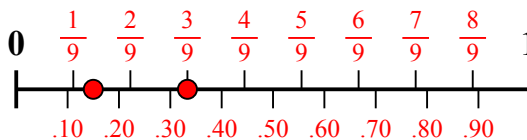
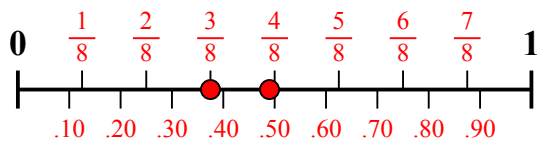
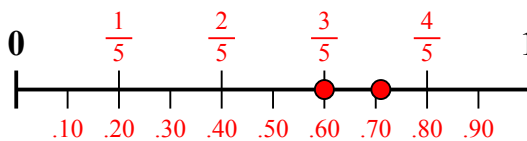
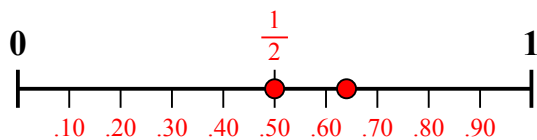
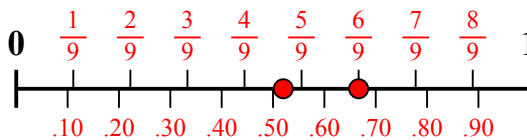
8. _____

9. _____

10. _____



Sử dụng dãy số để giải quyết từng vấn đề.

1) Số tiền nào lớn hơn, $\frac{2}{9}$ hay 0,36?2) Số tiền nào lớn hơn, $\frac{1}{3}$ hay 0,43?3) Số tiền nào lớn hơn, $\frac{1}{5}$ hay 0,35?4) Số tiền nào lớn hơn, $\frac{2}{8}$ hay 0,36?5) Số tiền nào lớn hơn, $\frac{4}{6}$ hay 0,57?6) Số tiền nào lớn hơn, $\frac{3}{9}$ hay 0,15?7) Số tiền nào lớn hơn, $\frac{3}{8}$ hay 0,49?8) Số tiền nào lớn hơn, $\frac{3}{5}$ hay 0,71?9) Số tiền nào lớn hơn, $\frac{1}{2}$ hay 0,64?10) Số tiền nào lớn hơn, $\frac{6}{9}$ hay 0,52?**Câu trả lời**1. **0,36**2. **0,43**3. **0,35**4. **0,36**5. **$\frac{4}{6}$** 6. **$\frac{3}{9}$** 7. **0,49**8. **0,71**9. **0,64**10. **$\frac{6}{9}$**