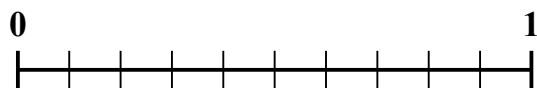
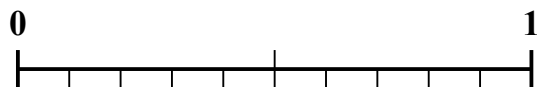
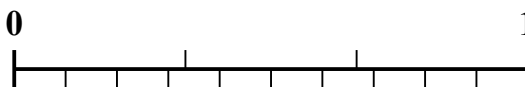

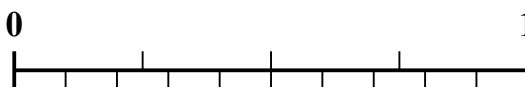
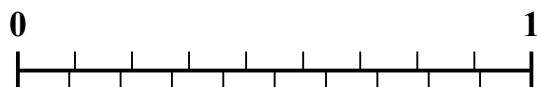




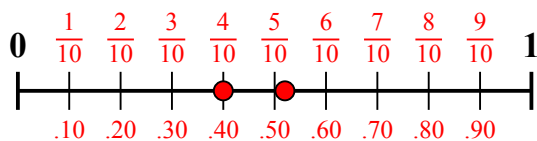
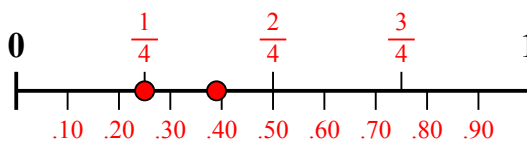
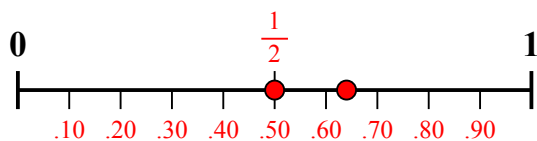
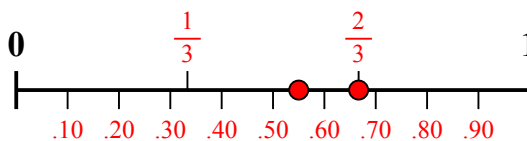
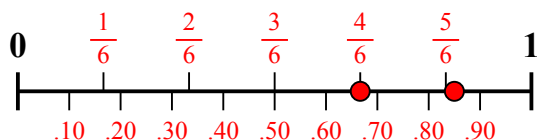
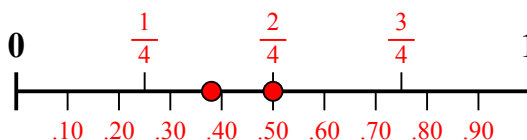
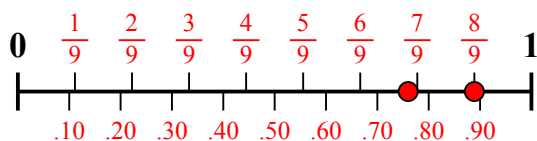
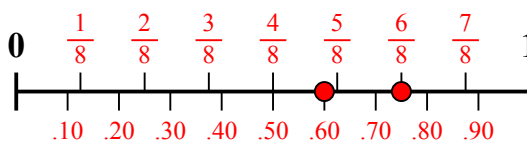
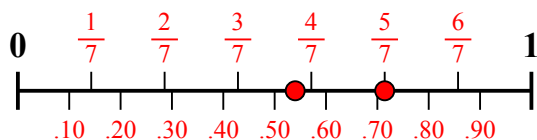
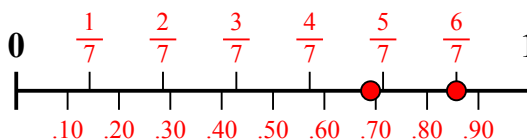
Sử dụng dãy số để giải quyết từng vấn đề.

Câu trả lời1) Số tiền nào lớn hơn, $\frac{4}{10}$ hay 0,52?2) Số tiền nào lớn hơn, $\frac{1}{4}$ hay 0,39?3) Số tiền nào lớn hơn, $\frac{1}{2}$ hay 0,64?4) Số tiền nào lớn hơn, $\frac{2}{3}$ hay 0,55?5) Số tiền nào lớn hơn, $\frac{4}{6}$ hay 0,85?6) Số tiền nào lớn hơn, $\frac{2}{4}$ hay 0,38?7) Số tiền nào lớn hơn, $\frac{8}{9}$ hay 0,76?8) Số tiền nào lớn hơn, $\frac{6}{8}$ hay 0,6?9) Số tiền nào lớn hơn, $\frac{5}{7}$ hay 0,54?10) Số tiền nào lớn hơn, $\frac{6}{7}$ hay 0,69?

1. _____
2. _____
3. _____
4. _____
5. _____
6. _____
7. _____
8. _____
9. _____
10. _____



Sử dụng dãy số để giải quyết từng vấn đề.

1) Số tiền nào lớn hơn, $\frac{4}{10}$ hay 0,52?2) Số tiền nào lớn hơn, $\frac{1}{4}$ hay 0,39?3) Số tiền nào lớn hơn, $\frac{1}{2}$ hay 0,64?4) Số tiền nào lớn hơn, $\frac{2}{3}$ hay 0,55?5) Số tiền nào lớn hơn, $\frac{4}{6}$ hay 0,85?6) Số tiền nào lớn hơn, $\frac{2}{4}$ hay 0,38?7) Số tiền nào lớn hơn, $\frac{8}{9}$ hay 0,76?8) Số tiền nào lớn hơn, $\frac{6}{8}$ hay 0,6?9) Số tiền nào lớn hơn, $\frac{5}{7}$ hay 0,54?10) Số tiền nào lớn hơn, $\frac{6}{7}$ hay 0,69?**Câu trả lời**1. **0,52**2. **0,39**3. **0,64**4. **$\frac{2}{3}$** 5. **0,85**6. **$\frac{2}{4}$** 7. **$\frac{8}{9}$** 8. **$\frac{6}{8}$** 9. **$\frac{5}{7}$** 10. **$\frac{6}{7}$**