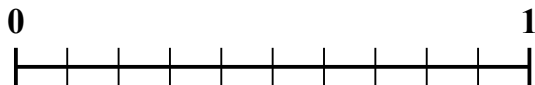
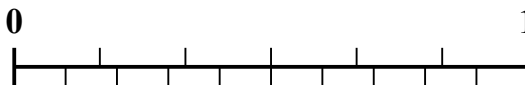


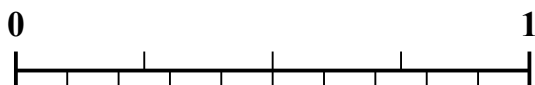
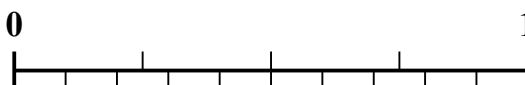




Sử dụng dãy số để giải quyết từng vấn đề.

1) Số tiền nào lớn hơn,  $\frac{4}{10}$  hay 0,58?2) Số tiền nào lớn hơn,  $\frac{2}{6}$  hay 0,52?3) Số tiền nào lớn hơn,  $\frac{4}{5}$  hay 0,65?4) Số tiền nào lớn hơn,  $\frac{6}{7}$  hay 0,66?5) Số tiền nào lớn hơn,  $\frac{6}{9}$  hay 0,77?6) Số tiền nào lớn hơn,  $\frac{2}{3}$  hay 0,8?7) Số tiền nào lớn hơn,  $\frac{2}{4}$  hay 0,69?8) Số tiền nào lớn hơn,  $\frac{1}{4}$  hay 0,35?9) Số tiền nào lớn hơn,  $\frac{6}{10}$  hay 0,7?10) Số tiền nào lớn hơn,  $\frac{1}{2}$  hay 0,32?**Câu trả lời**

1. \_\_\_\_\_

2. \_\_\_\_\_

3. \_\_\_\_\_

4. \_\_\_\_\_

5. \_\_\_\_\_

6. \_\_\_\_\_

7. \_\_\_\_\_

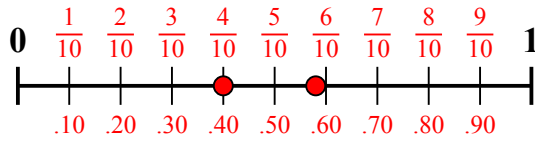
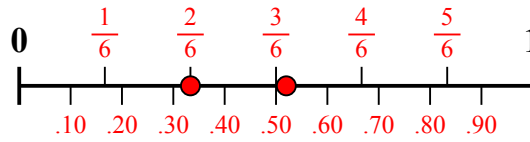
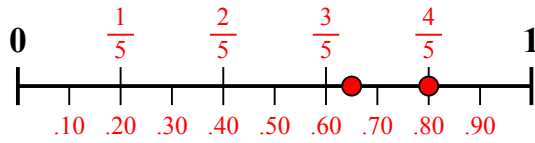
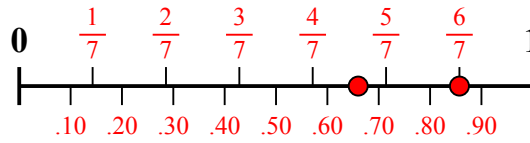
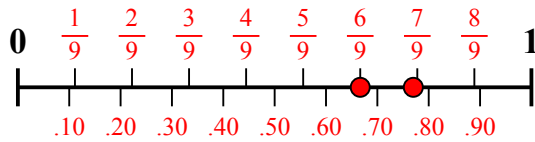
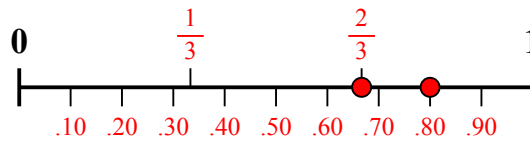
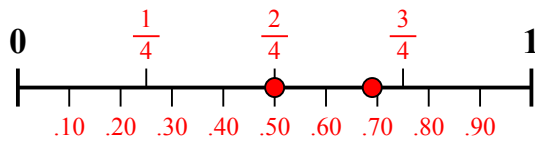
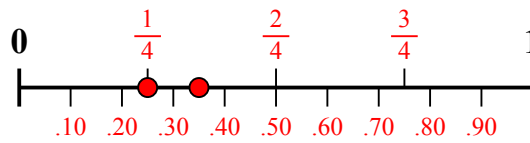
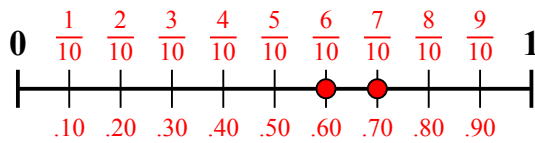
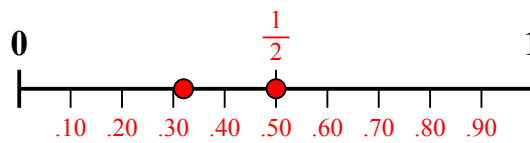
8. \_\_\_\_\_

9. \_\_\_\_\_

10. \_\_\_\_\_



Sử dụng dãy số để giải quyết từng vấn đề.

1) Số tiền nào lớn hơn,  $\frac{4}{10}$  hay 0,58?2) Số tiền nào lớn hơn,  $\frac{2}{6}$  hay 0,52?3) Số tiền nào lớn hơn,  $\frac{4}{5}$  hay 0,65?4) Số tiền nào lớn hơn,  $\frac{6}{7}$  hay 0,66?5) Số tiền nào lớn hơn,  $\frac{6}{9}$  hay 0,77?6) Số tiền nào lớn hơn,  $\frac{2}{3}$  hay 0,8?7) Số tiền nào lớn hơn,  $\frac{2}{4}$  hay 0,69?8) Số tiền nào lớn hơn,  $\frac{1}{4}$  hay 0,35?9) Số tiền nào lớn hơn,  $\frac{6}{10}$  hay 0,7?10) Số tiền nào lớn hơn,  $\frac{1}{2}$  hay 0,32?**Câu trả lời**1. **0,58**2. **0,52**3.  **$\frac{4}{5}$** 4.  **$\frac{6}{7}$** 5. **0,77**6. **0,8**7. **0,69**8. **0,35**9. **0,7**10.  **$\frac{1}{2}$**