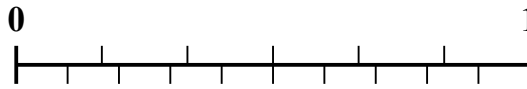
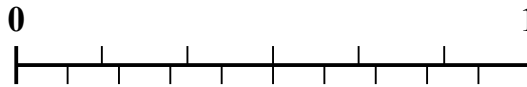
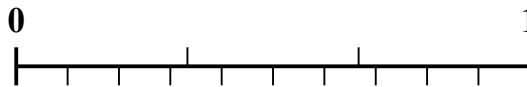
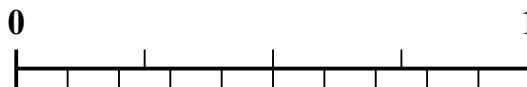

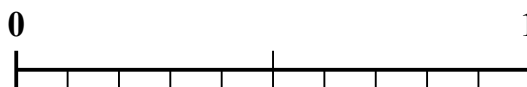




Sử dụng dãy số để giải quyết từng vấn đề.

Câu trả lời1) Số tiền nào lớn hơn, $\frac{2}{9}$ hay 0,34?2) Số tiền nào lớn hơn, $\frac{3}{6}$ hay 0,68?3) Số tiền nào lớn hơn, $\frac{6}{7}$ hay 0,72?4) Số tiền nào lớn hơn, $\frac{4}{6}$ hay 0,47?5) Số tiền nào lớn hơn, $\frac{3}{7}$ hay 0,54?6) Số tiền nào lớn hơn, $\frac{1}{3}$ hay 0,51?7) Số tiền nào lớn hơn, $\frac{5}{7}$ hay 0,54?8) Số tiền nào lớn hơn, $\frac{3}{4}$ hay 0,89?9) Số tiền nào lớn hơn, $\frac{4}{5}$ hay 0,6?10) Số tiền nào lớn hơn, $\frac{1}{2}$ hay 0,34?

1. _____

2. _____

3. _____

4. _____

5. _____

6. _____

7. _____

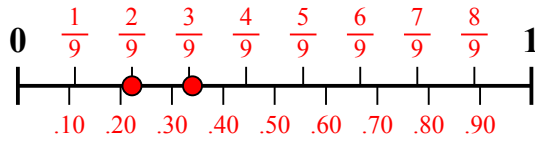
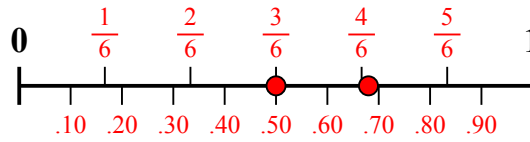
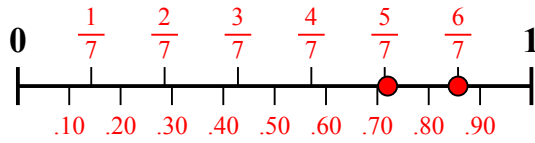
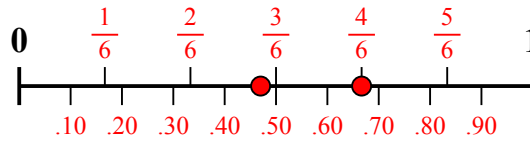
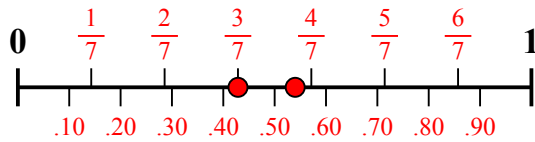
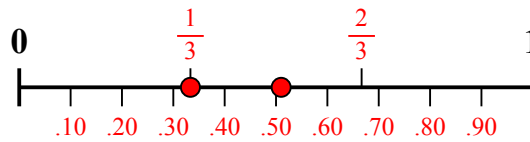
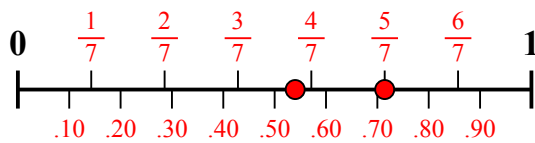
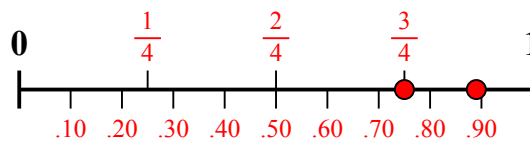
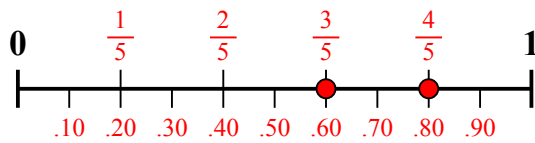
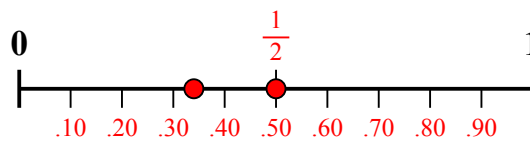
8. _____

9. _____

10. _____



Sử dụng dãy số để giải quyết từng vấn đề.

1) Số tiền nào lớn hơn, $\frac{2}{9}$ hay 0,34?2) Số tiền nào lớn hơn, $\frac{3}{6}$ hay 0,68?3) Số tiền nào lớn hơn, $\frac{6}{7}$ hay 0,72?4) Số tiền nào lớn hơn, $\frac{4}{6}$ hay 0,47?5) Số tiền nào lớn hơn, $\frac{3}{7}$ hay 0,54?6) Số tiền nào lớn hơn, $\frac{1}{3}$ hay 0,51?7) Số tiền nào lớn hơn, $\frac{5}{7}$ hay 0,54?8) Số tiền nào lớn hơn, $\frac{3}{4}$ hay 0,89?9) Số tiền nào lớn hơn, $\frac{4}{5}$ hay 0,6?10) Số tiền nào lớn hơn, $\frac{1}{2}$ hay 0,34?**Câu trả lời**

1. 0,34
2. 0,68
3. $\frac{6}{7}$
4. $\frac{4}{6}$
5. 0,54
6. 0,51
7. $\frac{5}{7}$
8. 0,89
9. $\frac{4}{5}$
10. $\frac{1}{2}$