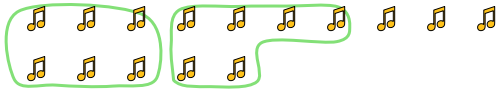


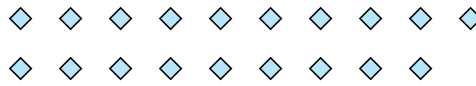


Dùng các hình được cho để trả lời câu hỏi.

Vd) Có 15 hình bên dưới. Hỏi bạn có thể tạo thành bao nhiêu nhóm 6 với chúng? Hỏi còn bao nhiêu hình dư ra?



1) Có 19 hình bên dưới. Hỏi bạn có thể tạo thành bao nhiêu nhóm 8 với chúng? Hỏi còn bao nhiêu hình dư ra?



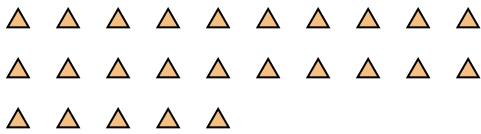
2) Có 13 hình bên dưới. Hỏi bạn có thể tạo thành bao nhiêu nhóm 3 với chúng? Hỏi còn bao nhiêu hình dư ra?



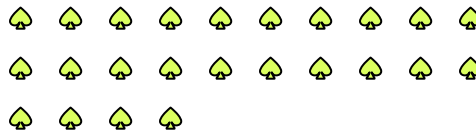
3) Có 10 hình bên dưới. Hỏi bạn có thể tạo thành bao nhiêu nhóm 7 với chúng? Hỏi còn bao nhiêu hình dư ra?



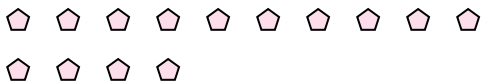
4) Có 25 hình bên dưới. Hỏi bạn có thể tạo thành bao nhiêu nhóm 3 với chúng? Hỏi còn bao nhiêu hình dư ra?



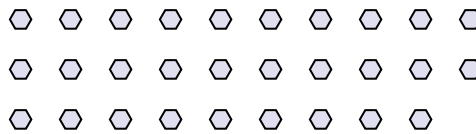
5) Có 24 hình bên dưới. Hỏi bạn có thể tạo thành bao nhiêu nhóm 8 với chúng? Hỏi còn bao nhiêu hình dư ra?



6) Có 14 hình bên dưới. Hỏi bạn có thể tạo thành bao nhiêu nhóm 2 với chúng? Hỏi còn bao nhiêu hình dư ra?



7) Có 29 hình bên dưới. Hỏi bạn có thể tạo thành bao nhiêu nhóm 4 với chúng? Hỏi còn bao nhiêu hình dư ra?



8) Có 12 hình bên dưới. Hỏi bạn có thể tạo thành bao nhiêu nhóm 9 với chúng? Hỏi còn bao nhiêu hình dư ra?



9) Có 17 hình bên dưới. Hỏi bạn có thể tạo thành bao nhiêu nhóm 7 với chúng? Hỏi còn bao nhiêu hình dư ra?



**Câu trả lời**

Vd.   2     3  

1. \_\_\_\_\_

2. \_\_\_\_\_

3. \_\_\_\_\_

4. \_\_\_\_\_

5. \_\_\_\_\_

6. \_\_\_\_\_

7. \_\_\_\_\_

8. \_\_\_\_\_

9. \_\_\_\_\_

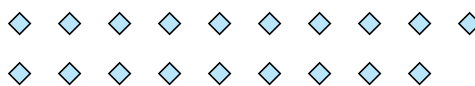


Dùng các hình được cho để trả lời câu hỏi.

Vd) Có 15 hình bên dưới. Hỏi bạn có thể tạo thành bao nhiêu nhóm 6 với chúng? Hỏi còn bao nhiêu hình dư ra?



1) Có 19 hình bên dưới. Hỏi bạn có thể tạo thành bao nhiêu nhóm 8 với chúng? Hỏi còn bao nhiêu hình dư ra?




2) Có 13 hình bên dưới. Hỏi bạn có thể tạo thành bao nhiêu nhóm 3 với chúng? Hỏi còn bao nhiêu hình dư ra?




3) Có 10 hình bên dưới. Hỏi bạn có thể tạo thành bao nhiêu nhóm 7 với chúng? Hỏi còn bao nhiêu hình dư ra?



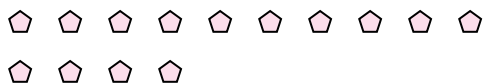
4) Có 25 hình bên dưới. Hỏi bạn có thể tạo thành bao nhiêu nhóm 3 với chúng? Hỏi còn bao nhiêu hình dư ra?



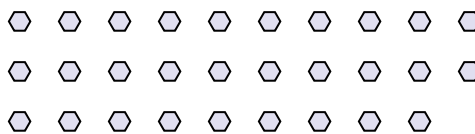
5) Có 24 hình bên dưới. Hỏi bạn có thể tạo thành bao nhiêu nhóm 8 với chúng? Hỏi còn bao nhiêu hình dư ra?



6) Có 14 hình bên dưới. Hỏi bạn có thể tạo thành bao nhiêu nhóm 2 với chúng? Hỏi còn bao nhiêu hình dư ra?



7) Có 29 hình bên dưới. Hỏi bạn có thể tạo thành bao nhiêu nhóm 4 với chúng? Hỏi còn bao nhiêu hình dư ra?



8) Có 12 hình bên dưới. Hỏi bạn có thể tạo thành bao nhiêu nhóm 9 với chúng? Hỏi còn bao nhiêu hình dư ra?



9) Có 17 hình bên dưới. Hỏi bạn có thể tạo thành bao nhiêu nhóm 7 với chúng? Hỏi còn bao nhiêu hình dư ra?



**Câu trả lời**

Vd.	<u>2</u>	<u>3</u>
1.	<u>2</u>	<u>3</u>
2.	<u>4</u>	<u>1</u>
3.	<u>1</u>	<u>3</u>
4.	<u>8</u>	<u>1</u>
5.	<u>3</u>	<u>0</u>
6.	<u>7</u>	<u>0</u>
7.	<u>7</u>	<u>1</u>
8.	<u>1</u>	<u>3</u>
9.	<u>2</u>	<u>3</u>