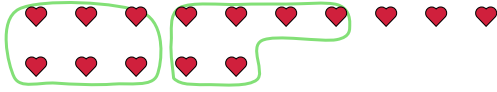


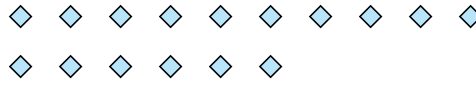


Dùng các hình được cho để trả lời câu hỏi.

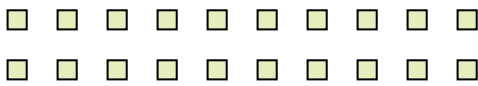
Vd) Có 15 hình bên dưới. Hỏi bạn có thể tạo thành bao nhiêu nhóm 6 với chúng? Hỏi còn bao nhiêu hình dư ra?



1) Có 16 hình bên dưới. Hỏi bạn có thể tạo thành bao nhiêu nhóm 7 với chúng? Hỏi còn bao nhiêu hình dư ra?



2) Có 20 hình bên dưới. Hỏi bạn có thể tạo thành bao nhiêu nhóm 6 với chúng? Hỏi còn bao nhiêu hình dư ra?



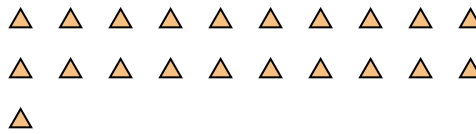
3) Có 21 hình bên dưới. Hỏi bạn có thể tạo thành bao nhiêu nhóm 4 với chúng? Hỏi còn bao nhiêu hình dư ra?



4) Có 11 hình bên dưới. Hỏi bạn có thể tạo thành bao nhiêu nhóm 9 với chúng? Hỏi còn bao nhiêu hình dư ra?



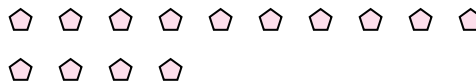
5) Có 21 hình bên dưới. Hỏi bạn có thể tạo thành bao nhiêu nhóm 6 với chúng? Hỏi còn bao nhiêu hình dư ra?



6) Có 12 hình bên dưới. Hỏi bạn có thể tạo thành bao nhiêu nhóm 3 với chúng? Hỏi còn bao nhiêu hình dư ra?



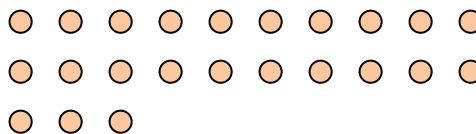
7) Có 14 hình bên dưới. Hỏi bạn có thể tạo thành bao nhiêu nhóm 5 với chúng? Hỏi còn bao nhiêu hình dư ra?



8) Có 12 hình bên dưới. Hỏi bạn có thể tạo thành bao nhiêu nhóm 7 với chúng? Hỏi còn bao nhiêu hình dư ra?



9) Có 23 hình bên dưới. Hỏi bạn có thể tạo thành bao nhiêu nhóm 5 với chúng? Hỏi còn bao nhiêu hình dư ra?



Câu trả lời

Vd. 2 3

1. _____

2. _____

3. _____

4. _____

5. _____

6. _____

7. _____

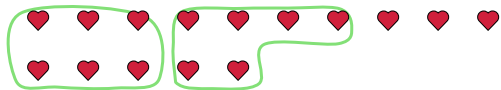
8. _____

9. _____

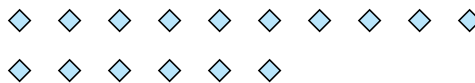


Dùng các hình được cho để trả lời câu hỏi.

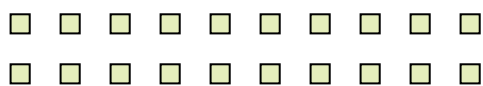
Vd) Có 15 hình bên dưới. Hỏi bạn có thể tạo thành bao nhiêu nhóm 6 với chúng? Hỏi còn bao nhiêu hình dư ra?



1) Có 16 hình bên dưới. Hỏi bạn có thể tạo thành bao nhiêu nhóm 7 với chúng? Hỏi còn bao nhiêu hình dư ra?



2) Có 20 hình bên dưới. Hỏi bạn có thể tạo thành bao nhiêu nhóm 6 với chúng? Hỏi còn bao nhiêu hình dư ra?



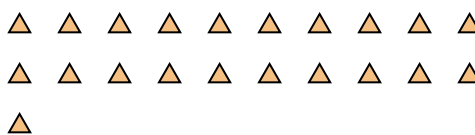
3) Có 21 hình bên dưới. Hỏi bạn có thể tạo thành bao nhiêu nhóm 4 với chúng? Hỏi còn bao nhiêu hình dư ra?



4) Có 11 hình bên dưới. Hỏi bạn có thể tạo thành bao nhiêu nhóm 9 với chúng? Hỏi còn bao nhiêu hình dư ra?



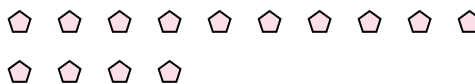
5) Có 21 hình bên dưới. Hỏi bạn có thể tạo thành bao nhiêu nhóm 6 với chúng? Hỏi còn bao nhiêu hình dư ra?



6) Có 12 hình bên dưới. Hỏi bạn có thể tạo thành bao nhiêu nhóm 3 với chúng? Hỏi còn bao nhiêu hình dư ra?



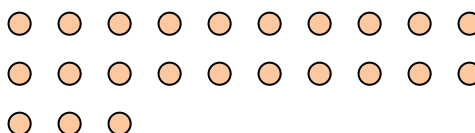
7) Có 14 hình bên dưới. Hỏi bạn có thể tạo thành bao nhiêu nhóm 5 với chúng? Hỏi còn bao nhiêu hình dư ra?



8) Có 12 hình bên dưới. Hỏi bạn có thể tạo thành bao nhiêu nhóm 7 với chúng? Hỏi còn bao nhiêu hình dư ra?



9) Có 23 hình bên dưới. Hỏi bạn có thể tạo thành bao nhiêu nhóm 5 với chúng? Hỏi còn bao nhiêu hình dư ra?



Câu trả lời

Vd.	<u> 2 </u>	<u> 3 </u>
1.	<u> 2 </u>	<u> 2 </u>
2.	<u> 3 </u>	<u> 2 </u>
3.	<u> 5 </u>	<u> 1 </u>
4.	<u> 1 </u>	<u> 2 </u>
5.	<u> 3 </u>	<u> 3 </u>
6.	<u> 4 </u>	<u> 0 </u>
7.	<u> 2 </u>	<u> 4 </u>
8.	<u> 1 </u>	<u> 5 </u>
9.	<u> 4 </u>	<u> 3 </u>