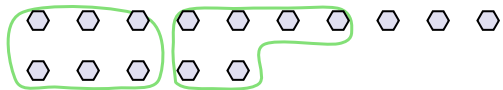


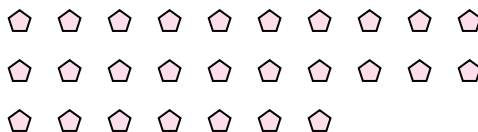


Dùng các hình được cho để trả lời câu hỏi.

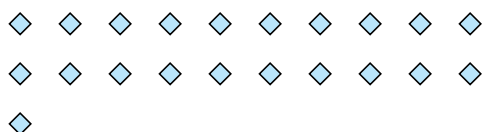
Vd) Có 15 hình bên dưới. Hỏi bạn có thể tạo thành bao nhiêu nhóm 6 với chúng? Hỏi còn bao nhiêu hình dư ra?



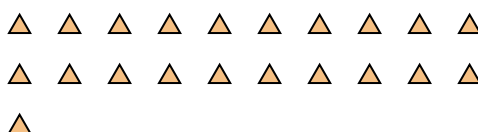
1) Có 27 hình bên dưới. Hỏi bạn có thể tạo thành bao nhiêu nhóm 5 với chúng? Hỏi còn bao nhiêu hình dư ra?




2) Có 21 hình bên dưới. Hỏi bạn có thể tạo thành bao nhiêu nhóm 4 với chúng? Hỏi còn bao nhiêu hình dư ra?



3) Có 21 hình bên dưới. Hỏi bạn có thể tạo thành bao nhiêu nhóm 2 với chúng? Hỏi còn bao nhiêu hình dư ra?



4) Có 27 hình bên dưới. Hỏi bạn có thể tạo thành bao nhiêu nhóm 4 với chúng? Hỏi còn bao nhiêu hình dư ra?



5) Có 12 hình bên dưới. Hỏi bạn có thể tạo thành bao nhiêu nhóm 9 với chúng? Hỏi còn bao nhiêu hình dư ra?



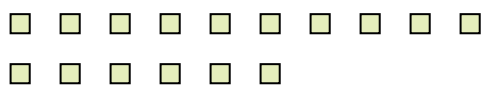
6) Có 17 hình bên dưới. Hỏi bạn có thể tạo thành bao nhiêu nhóm 9 với chúng? Hỏi còn bao nhiêu hình dư ra?



7) Có 15 hình bên dưới. Hỏi bạn có thể tạo thành bao nhiêu nhóm 6 với chúng? Hỏi còn bao nhiêu hình dư ra?



8) Có 16 hình bên dưới. Hỏi bạn có thể tạo thành bao nhiêu nhóm 2 với chúng? Hỏi còn bao nhiêu hình dư ra?



9) Có 26 hình bên dưới. Hỏi bạn có thể tạo thành bao nhiêu nhóm 9 với chúng? Hỏi còn bao nhiêu hình dư ra?



Câu trả lời

Vd. 2 3

1. \_\_\_\_\_

2. \_\_\_\_\_

3. \_\_\_\_\_

4. \_\_\_\_\_

5. \_\_\_\_\_

6. \_\_\_\_\_

7. \_\_\_\_\_

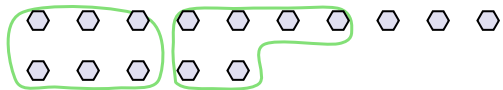
8. \_\_\_\_\_

9. \_\_\_\_\_

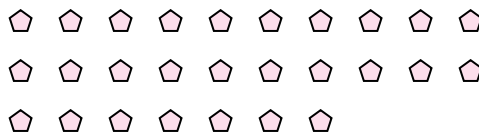


Dùng các hình được cho để trả lời câu hỏi.

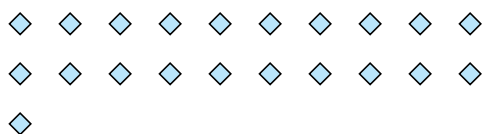
Vd) Có 15 hình bên dưới. Hỏi bạn có thể tạo thành bao nhiêu nhóm 6 với chúng? Hỏi còn bao nhiêu hình dư ra?



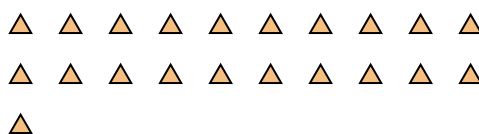
1) Có 27 hình bên dưới. Hỏi bạn có thể tạo thành bao nhiêu nhóm 5 với chúng? Hỏi còn bao nhiêu hình dư ra?




2) Có 21 hình bên dưới. Hỏi bạn có thể tạo thành bao nhiêu nhóm 4 với chúng? Hỏi còn bao nhiêu hình dư ra?



3) Có 21 hình bên dưới. Hỏi bạn có thể tạo thành bao nhiêu nhóm 2 với chúng? Hỏi còn bao nhiêu hình dư ra?



4) Có 27 hình bên dưới. Hỏi bạn có thể tạo thành bao nhiêu nhóm 4 với chúng? Hỏi còn bao nhiêu hình dư ra?



5) Có 12 hình bên dưới. Hỏi bạn có thể tạo thành bao nhiêu nhóm 9 với chúng? Hỏi còn bao nhiêu hình dư ra?



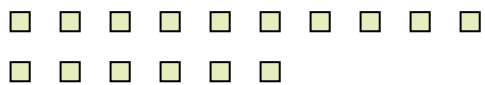
6) Có 17 hình bên dưới. Hỏi bạn có thể tạo thành bao nhiêu nhóm 9 với chúng? Hỏi còn bao nhiêu hình dư ra?



7) Có 15 hình bên dưới. Hỏi bạn có thể tạo thành bao nhiêu nhóm 6 với chúng? Hỏi còn bao nhiêu hình dư ra?



8) Có 16 hình bên dưới. Hỏi bạn có thể tạo thành bao nhiêu nhóm 2 với chúng? Hỏi còn bao nhiêu hình dư ra?



9) Có 26 hình bên dưới. Hỏi bạn có thể tạo thành bao nhiêu nhóm 9 với chúng? Hỏi còn bao nhiêu hình dư ra?



**Câu trả lời**

Vd.	<u>  2  </u>	<u>  3  </u>
1.	<u>  5  </u>	<u>  2  </u>
2.	<u>  5  </u>	<u>  1  </u>
3.	<u> 10  </u>	<u>  1  </u>
4.	<u>  6  </u>	<u>  3  </u>
5.	<u>  1  </u>	<u>  3  </u>
6.	<u>  1  </u>	<u>  8  </u>
7.	<u>  2  </u>	<u>  3  </u>
8.	<u>  8  </u>	<u>  0  </u>
9.	<u>  2  </u>	<u>  8  </u>