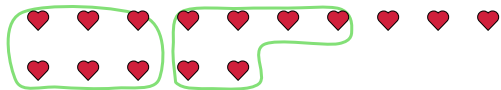


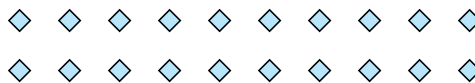


Dùng các hình được cho để trả lời câu hỏi.

Vd) Có 15 hình bên dưới. Hỏi bạn có thể tạo thành bao nhiêu nhóm 6 với chúng? Hỏi còn bao nhiêu hình dư ra?



1) Có 20 hình bên dưới. Hỏi bạn có thể tạo thành bao nhiêu nhóm 8 với chúng? Hỏi còn bao nhiêu hình dư ra?



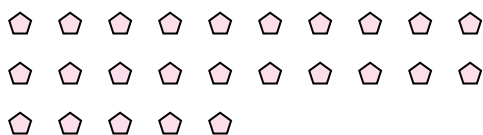
2) Có 10 hình bên dưới. Hỏi bạn có thể tạo thành bao nhiêu nhóm 6 với chúng? Hỏi còn bao nhiêu hình dư ra?



3) Có 13 hình bên dưới. Hỏi bạn có thể tạo thành bao nhiêu nhóm 5 với chúng? Hỏi còn bao nhiêu hình dư ra?



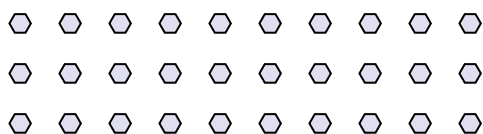
4) Có 25 hình bên dưới. Hỏi bạn có thể tạo thành bao nhiêu nhóm 5 với chúng? Hỏi còn bao nhiêu hình dư ra?



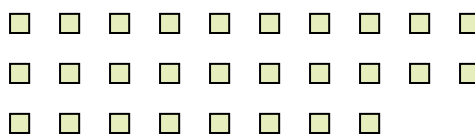
5) Có 13 hình bên dưới. Hỏi bạn có thể tạo thành bao nhiêu nhóm 3 với chúng? Hỏi còn bao nhiêu hình dư ra?




6) Có 30 hình bên dưới. Hỏi bạn có thể tạo thành bao nhiêu nhóm 4 với chúng? Hỏi còn bao nhiêu hình dư ra?



7) Có 28 hình bên dưới. Hỏi bạn có thể tạo thành bao nhiêu nhóm 2 với chúng? Hỏi còn bao nhiêu hình dư ra?



8) Có 26 hình bên dưới. Hỏi bạn có thể tạo thành bao nhiêu nhóm 6 với chúng? Hỏi còn bao nhiêu hình dư ra?



9) Có 20 hình bên dưới. Hỏi bạn có thể tạo thành bao nhiêu nhóm 7 với chúng? Hỏi còn bao nhiêu hình dư ra?



Câu trả lời

Vd. 2 3

1. _____

2. _____

3. _____

4. _____

5. _____

6. _____

7. _____

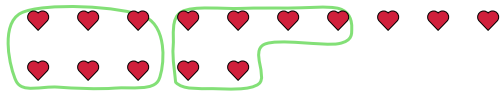
8. _____

9. _____

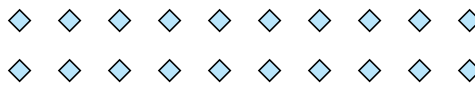


Dùng các hình được cho để trả lời câu hỏi.

Vd) Có 15 hình bên dưới. Hỏi bạn có thể tạo thành bao nhiêu nhóm 6 với chúng? Hỏi còn bao nhiêu hình dư ra?



1) Có 20 hình bên dưới. Hỏi bạn có thể tạo thành bao nhiêu nhóm 8 với chúng? Hỏi còn bao nhiêu hình dư ra?



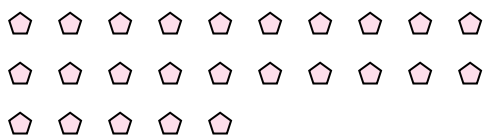
2) Có 10 hình bên dưới. Hỏi bạn có thể tạo thành bao nhiêu nhóm 6 với chúng? Hỏi còn bao nhiêu hình dư ra?



3) Có 13 hình bên dưới. Hỏi bạn có thể tạo thành bao nhiêu nhóm 5 với chúng? Hỏi còn bao nhiêu hình dư ra?



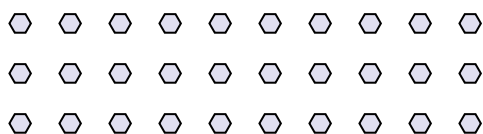
4) Có 25 hình bên dưới. Hỏi bạn có thể tạo thành bao nhiêu nhóm 5 với chúng? Hỏi còn bao nhiêu hình dư ra?



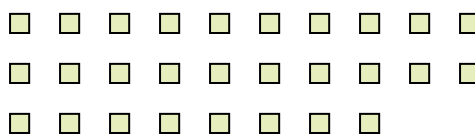
5) Có 13 hình bên dưới. Hỏi bạn có thể tạo thành bao nhiêu nhóm 3 với chúng? Hỏi còn bao nhiêu hình dư ra?




6) Có 30 hình bên dưới. Hỏi bạn có thể tạo thành bao nhiêu nhóm 4 với chúng? Hỏi còn bao nhiêu hình dư ra?



7) Có 28 hình bên dưới. Hỏi bạn có thể tạo thành bao nhiêu nhóm 2 với chúng? Hỏi còn bao nhiêu hình dư ra?



8) Có 26 hình bên dưới. Hỏi bạn có thể tạo thành bao nhiêu nhóm 6 với chúng? Hỏi còn bao nhiêu hình dư ra?



9) Có 20 hình bên dưới. Hỏi bạn có thể tạo thành bao nhiêu nhóm 7 với chúng? Hỏi còn bao nhiêu hình dư ra?



Câu trả lời

Vd.	<u>2</u>	<u>3</u>
1.	<u>2</u>	<u>4</u>
2.	<u>1</u>	<u>4</u>
3.	<u>2</u>	<u>3</u>
4.	<u>5</u>	<u>0</u>
5.	<u>4</u>	<u>1</u>
6.	<u>7</u>	<u>2</u>
7.	<u>14</u>	<u>0</u>
8.	<u>4</u>	<u>2</u>
9.	<u>2</u>	<u>6</u>