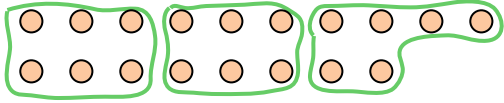




Dùng các hình được cho để trả lời câu hỏi.

**Câu trả lời**

Vd) Có bao nhiêu nhóm 6 mà bạn có thể tạo thành với 18 hình bên dưới?

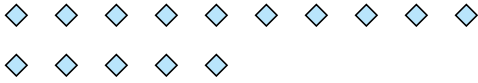


1) Có bao nhiêu nhóm 5 mà bạn có thể tạo thành với 30 hình bên dưới?

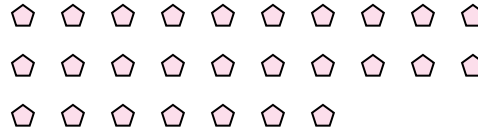


Vd. 3

2) Có bao nhiêu nhóm 5 mà bạn có thể tạo thành với 15 hình bên dưới?



3) Có bao nhiêu nhóm 9 mà bạn có thể tạo thành với 27 hình bên dưới?



1. \_\_\_\_\_

2. \_\_\_\_\_

3. \_\_\_\_\_

4. \_\_\_\_\_

5. \_\_\_\_\_

6. \_\_\_\_\_

7. \_\_\_\_\_


8. \_\_\_\_\_

9. \_\_\_\_\_

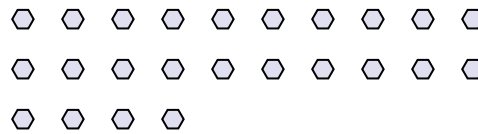
10. \_\_\_\_\_

11. \_\_\_\_\_


4) Có bao nhiêu nhóm 7 mà bạn có thể tạo thành với 35 hình bên dưới?



5) Có bao nhiêu nhóm 8 mà bạn có thể tạo thành với 24 hình bên dưới?




6) Có bao nhiêu nhóm 5 mà bạn có thể tạo thành với 15 hình bên dưới?




7) Có bao nhiêu nhóm 6 mà bạn có thể tạo thành với 24 hình bên dưới?




8) Có bao nhiêu nhóm 7 mà bạn có thể tạo thành với 21 hình bên dưới?




9) Có bao nhiêu nhóm 9 mà bạn có thể tạo thành với 27 hình bên dưới?



10) Có bao nhiêu nhóm 4 mà bạn có thể tạo thành với 40 hình bên dưới?



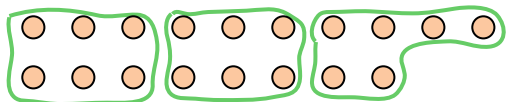
11) Có bao nhiêu nhóm 2 mà bạn có thể tạo thành với 32 hình bên dưới?





Dùng các hình được cho để trả lời câu hỏi.

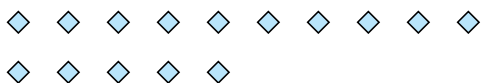
Vd) Có bao nhiêu nhóm 6 mà bạn có thể tạo thành với 18 hình bên dưới?



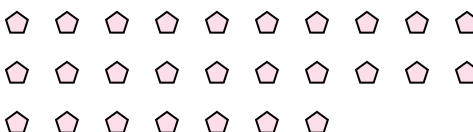
1) Có bao nhiêu nhóm 5 mà bạn có thể tạo thành với 30 hình bên dưới?




2) Có bao nhiêu nhóm 5 mà bạn có thể tạo thành với 15 hình bên dưới?



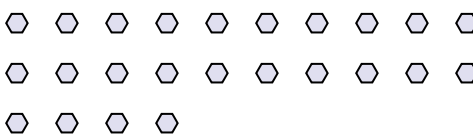
3) Có bao nhiêu nhóm 9 mà bạn có thể tạo thành với 27 hình bên dưới?




4) Có bao nhiêu nhóm 7 mà bạn có thể tạo thành với 35 hình bên dưới?



5) Có bao nhiêu nhóm 8 mà bạn có thể tạo thành với 24 hình bên dưới?




6) Có bao nhiêu nhóm 5 mà bạn có thể tạo thành với 15 hình bên dưới?




7) Có bao nhiêu nhóm 6 mà bạn có thể tạo thành với 24 hình bên dưới?




8) Có bao nhiêu nhóm 7 mà bạn có thể tạo thành với 21 hình bên dưới?




9) Có bao nhiêu nhóm 9 mà bạn có thể tạo thành với 27 hình bên dưới?



10) Có bao nhiêu nhóm 4 mà bạn có thể tạo thành với 40 hình bên dưới?



11) Có bao nhiêu nhóm 2 mà bạn có thể tạo thành với 32 hình bên dưới?



**Câu trả lời**

Vd. 3

1. 6

2. 3

3. 3

4. 5

5. 3

6. 3

7. 4

8. 3

9. 3

10. 10

11. 16