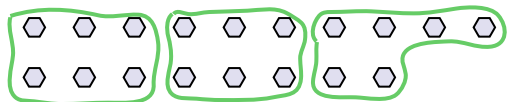




Dùng các hình được cho để trả lời câu hỏi.


Vd) Có bao nhiêu nhóm 6 mà bạn có thể tạo thành với 18 hình bên dưới?



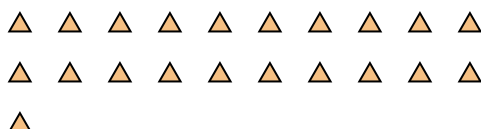
1) Có bao nhiêu nhóm 3 mà bạn có thể tạo thành với 27 hình bên dưới?




2) Có bao nhiêu nhóm 3 mà bạn có thể tạo thành với 33 hình bên dưới?



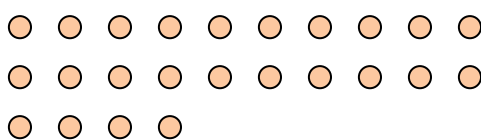
3) Có bao nhiêu nhóm 7 mà bạn có thể tạo thành với 21 hình bên dưới?




4) Có bao nhiêu nhóm 7 mà bạn có thể tạo thành với 14 hình bên dưới?




5) Có bao nhiêu nhóm 8 mà bạn có thể tạo thành với 24 hình bên dưới?



6) Có bao nhiêu nhóm 4 mà bạn có thể tạo thành với 40 hình bên dưới?



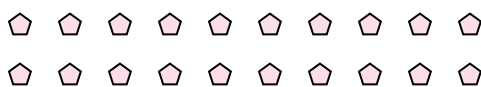
7) Có bao nhiêu nhóm 8 mà bạn có thể tạo thành với 32 hình bên dưới?



8) Có bao nhiêu nhóm 7 mà bạn có thể tạo thành với 28 hình bên dưới?



9) Có bao nhiêu nhóm 5 mà bạn có thể tạo thành với 20 hình bên dưới?



10) Có bao nhiêu nhóm 4 mà bạn có thể tạo thành với 12 hình bên dưới?



11) Có bao nhiêu nhóm 7 mà bạn có thể tạo thành với 21 hình bên dưới?



Câu trả lời

Vd. 3

1. 9

2. 11

3. 3

4. 2

5. 3

6. 10

7. 4

8. 4

9. 4

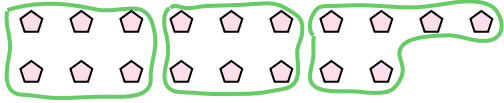
10. 3

11. 3

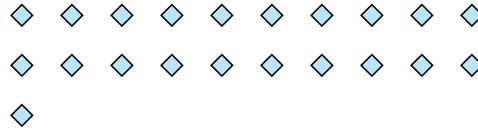


Dùng các hình được cho để trả lời câu hỏi.

Vd) Có bao nhiêu nhóm 6 mà bạn có thể tạo thành với 18 hình bên dưới?



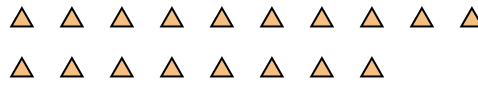
1) Có bao nhiêu nhóm 7 mà bạn có thể tạo thành với 21 hình bên dưới?



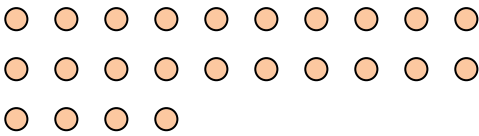
2) Có bao nhiêu nhóm 3 mà bạn có thể tạo thành với 6 hình bên dưới?



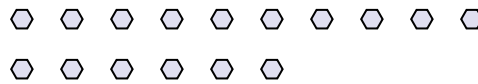
3) Có bao nhiêu nhóm 6 mà bạn có thể tạo thành với 18 hình bên dưới?




4) Có bao nhiêu nhóm 8 mà bạn có thể tạo thành với 24 hình bên dưới?




5) Có bao nhiêu nhóm 8 mà bạn có thể tạo thành với 16 hình bên dưới?



6) Có bao nhiêu nhóm 4 mà bạn có thể tạo thành với 16 hình bên dưới?



7) Có bao nhiêu nhóm 7 mà bạn có thể tạo thành với 35 hình bên dưới?



8) Có bao nhiêu nhóm 3 mà bạn có thể tạo thành với 15 hình bên dưới?



9) Có bao nhiêu nhóm 2 mà bạn có thể tạo thành với 18 hình bên dưới?



10) Có bao nhiêu nhóm 4 mà bạn có thể tạo thành với 8 hình bên dưới?



11) Có bao nhiêu nhóm 7 mà bạn có thể tạo thành với 14 hình bên dưới?



Câu trả lời

Vd. 3

1. _____

2. _____

3. _____

4. _____

5. _____

6. _____

7. _____

8. _____

9. _____

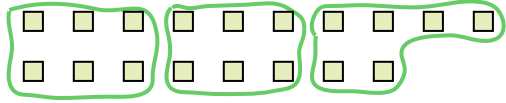
10. _____

11. _____




Dùng các hình được cho để trả lời câu hỏi.


Vd) Có bao nhiêu nhóm 6 mà bạn có thể tạo thành với 18 hình bên dưới?




1) Có bao nhiêu nhóm 3 mà bạn có thể tạo thành với 30 hình bên dưới?



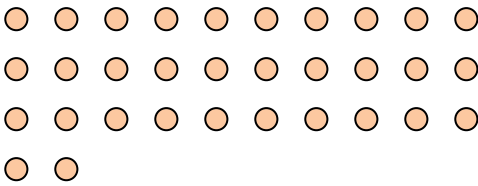
2) Có bao nhiêu nhóm 4 mà bạn có thể tạo thành với 28 hình bên dưới?



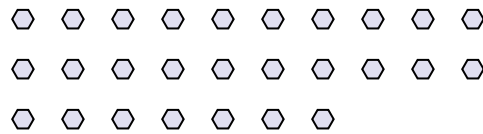
3) Có bao nhiêu nhóm 2 mà bạn có thể tạo thành với 40 hình bên dưới?



4) Có bao nhiêu nhóm 4 mà bạn có thể tạo thành với 32 hình bên dưới?



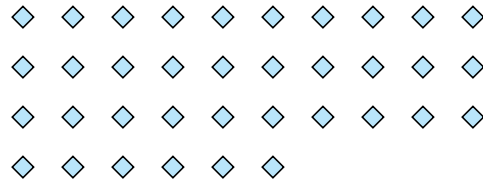
5) Có bao nhiêu nhóm 9 mà bạn có thể tạo thành với 27 hình bên dưới?




6) Có bao nhiêu nhóm 6 mà bạn có thể tạo thành với 36 hình bên dưới?



7) Có bao nhiêu nhóm 3 mà bạn có thể tạo thành với 36 hình bên dưới?



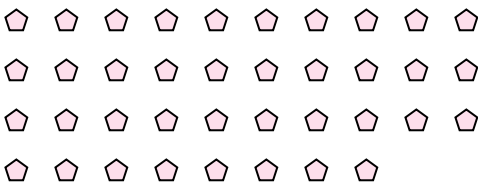
8) Có bao nhiêu nhóm 6 mà bạn có thể tạo thành với 36 hình bên dưới?



9) Có bao nhiêu nhóm 4 mà bạn có thể tạo thành với 36 hình bên dưới?



10) Có bao nhiêu nhóm 2 mà bạn có thể tạo thành với 38 hình bên dưới?



11) Có bao nhiêu nhóm 7 mà bạn có thể tạo thành với 14 hình bên dưới?



Câu trả lời

Vd. 3

1. _____

2. _____

3. _____

4. _____

5. _____

6. _____

7. _____

8. _____

9. _____

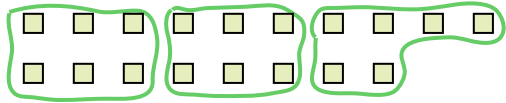
10. _____

11. _____




Dùng các hình được cho để trả lời câu hỏi.


Vd) Có bao nhiêu nhóm 6 mà bạn có thể tạo thành với 18 hình bên dưới?




1) Có bao nhiêu nhóm 3 mà bạn có thể tạo thành với 30 hình bên dưới?



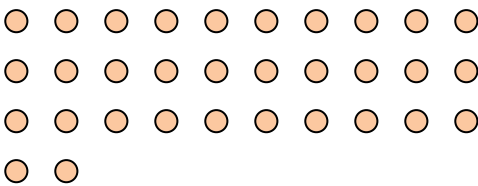
2) Có bao nhiêu nhóm 4 mà bạn có thể tạo thành với 28 hình bên dưới?



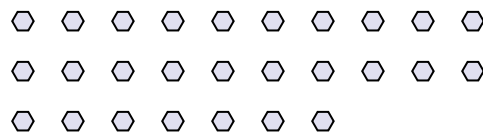
3) Có bao nhiêu nhóm 2 mà bạn có thể tạo thành với 40 hình bên dưới?



4) Có bao nhiêu nhóm 4 mà bạn có thể tạo thành với 32 hình bên dưới?




5) Có bao nhiêu nhóm 9 mà bạn có thể tạo thành với 27 hình bên dưới?




6) Có bao nhiêu nhóm 6 mà bạn có thể tạo thành với 36 hình bên dưới?



7) Có bao nhiêu nhóm 3 mà bạn có thể tạo thành với 36 hình bên dưới?



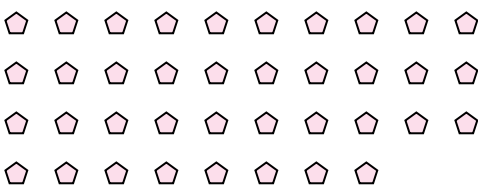
8) Có bao nhiêu nhóm 6 mà bạn có thể tạo thành với 36 hình bên dưới?



9) Có bao nhiêu nhóm 4 mà bạn có thể tạo thành với 36 hình bên dưới?



10) Có bao nhiêu nhóm 2 mà bạn có thể tạo thành với 38 hình bên dưới?



11) Có bao nhiêu nhóm 7 mà bạn có thể tạo thành với 14 hình bên dưới?



Câu trả lời

Vd. 3

1. 10

2. 7

3. 20

4. 8

5. 3

6. 6

7. 12

8. 6

9. 9

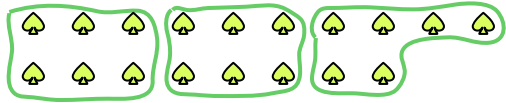
10. 19

11. 2



Dùng các hình được cho để trả lời câu hỏi.

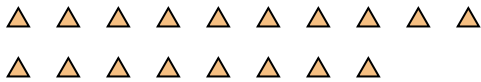
Vd) Có bao nhiêu nhóm 6 mà bạn có thể tạo thành với 18 hình bên dưới?



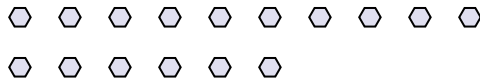
1) Có bao nhiêu nhóm 3 mà bạn có thể tạo thành với 9 hình bên dưới?



2) Có bao nhiêu nhóm 6 mà bạn có thể tạo thành với 18 hình bên dưới?



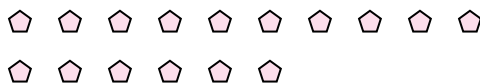
3) Có bao nhiêu nhóm 8 mà bạn có thể tạo thành với 16 hình bên dưới?



4) Có bao nhiêu nhóm 4 mà bạn có thể tạo thành với 8 hình bên dưới?



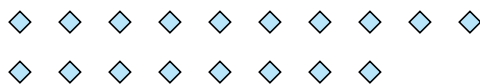
5) Có bao nhiêu nhóm 8 mà bạn có thể tạo thành với 16 hình bên dưới?




6) Có bao nhiêu nhóm 2 mà bạn có thể tạo thành với 24 hình bên dưới?




7) Có bao nhiêu nhóm 2 mà bạn có thể tạo thành với 18 hình bên dưới?



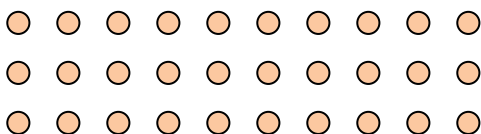
8) Có bao nhiêu nhóm 9 mà bạn có thể tạo thành với 27 hình bên dưới?



9) Có bao nhiêu nhóm 9 mà bạn có thể tạo thành với 36 hình bên dưới?



10) Có bao nhiêu nhóm 6 mà bạn có thể tạo thành với 30 hình bên dưới?



11) Có bao nhiêu nhóm 3 mà bạn có thể tạo thành với 39 hình bên dưới?



Câu trả lời

Vd. 3

1. 3

2. 3

3. 2

4. 2

5. 2

6. 12

7. 9

8. 3

9. 4

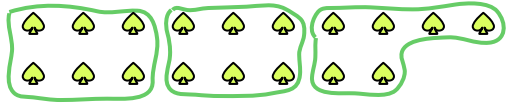
10. 5

11. 13



Dùng các hình được cho để trả lời câu hỏi.

Vd) Có bao nhiêu nhóm 6 mà bạn có thể tạo thành với 18 hình bên dưới?



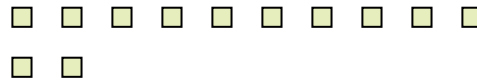
1) Có bao nhiêu nhóm 5 mà bạn có thể tạo thành với 40 hình bên dưới?




2) Có bao nhiêu nhóm 7 mà bạn có thể tạo thành với 21 hình bên dưới?



3) Có bao nhiêu nhóm 6 mà bạn có thể tạo thành với 12 hình bên dưới?



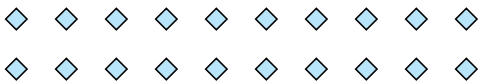
4) Có bao nhiêu nhóm 3 mà bạn có thể tạo thành với 24 hình bên dưới?



5) Có bao nhiêu nhóm 2 mà bạn có thể tạo thành với 4 hình bên dưới?




6) Có bao nhiêu nhóm 5 mà bạn có thể tạo thành với 20 hình bên dưới?



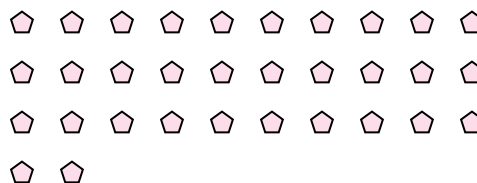
7) Có bao nhiêu nhóm 9 mà bạn có thể tạo thành với 18 hình bên dưới?



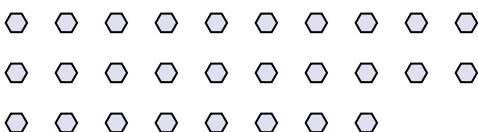
8) Có bao nhiêu nhóm 9 mà bạn có thể tạo thành với 36 hình bên dưới?



9) Có bao nhiêu nhóm 2 mà bạn có thể tạo thành với 32 hình bên dưới?



10) Có bao nhiêu nhóm 2 mà bạn có thể tạo thành với 28 hình bên dưới?



11) Có bao nhiêu nhóm 8 mà bạn có thể tạo thành với 24 hình bên dưới?



Câu trả lời

Vd. 3

1. 8

2. 3

3. 2

4. 8

5. 2

6. 4

7. 2

8. 4

9. 16


10. 14

11. 3



Dùng các hình được cho để trả lời câu hỏi.

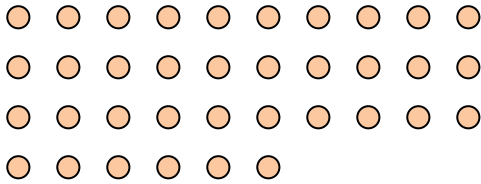
Vd) Có bao nhiêu nhóm 6 mà bạn có thể tạo thành với 18 hình bên dưới?




1) Có bao nhiêu nhóm 2 mà bạn có thể tạo thành với 26 hình bên dưới?




2) Có bao nhiêu nhóm 9 mà bạn có thể tạo thành với 36 hình bên dưới?



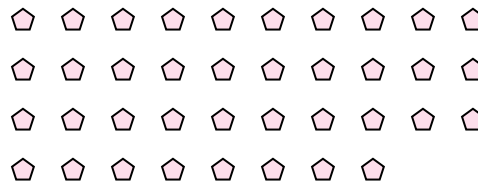
3) Có bao nhiêu nhóm 3 mà bạn có thể tạo thành với 24 hình bên dưới?



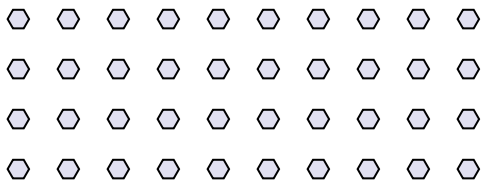
4) Có bao nhiêu nhóm 7 mà bạn có thể tạo thành với 35 hình bên dưới?




5) Có bao nhiêu nhóm 2 mà bạn có thể tạo thành với 38 hình bên dưới?



6) Có bao nhiêu nhóm 8 mà bạn có thể tạo thành với 40 hình bên dưới?



7) Có bao nhiêu nhóm 9 mà bạn có thể tạo thành với 36 hình bên dưới?




8) Có bao nhiêu nhóm 4 mà bạn có thể tạo thành với 40 hình bên dưới?




9) Có bao nhiêu nhóm 7 mà bạn có thể tạo thành với 35 hình bên dưới?



10) Có bao nhiêu nhóm 5 mà bạn có thể tạo thành với 10 hình bên dưới?



11) Có bao nhiêu nhóm 9 mà bạn có thể tạo thành với 27 hình bên dưới?



Câu trả lời

Vd. 3

1. _____

2. _____

3. _____

4. _____

5. _____

6. _____

7. _____

8. _____

9. _____

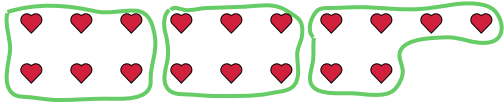
10. _____

11. _____



Dùng các hình được cho để trả lời câu hỏi.

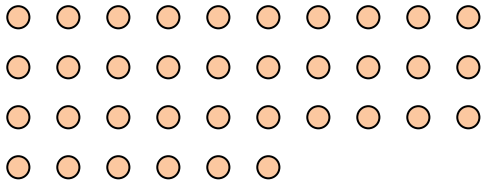
Vd) Có bao nhiêu nhóm 6 mà bạn có thể tạo thành với 18 hình bên dưới?




1) Có bao nhiêu nhóm 2 mà bạn có thể tạo thành với 26 hình bên dưới?




2) Có bao nhiêu nhóm 9 mà bạn có thể tạo thành với 36 hình bên dưới?



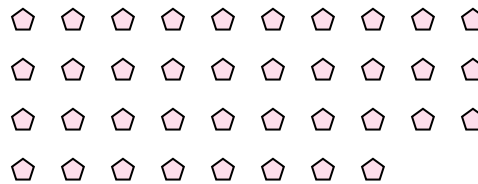
3) Có bao nhiêu nhóm 3 mà bạn có thể tạo thành với 24 hình bên dưới?



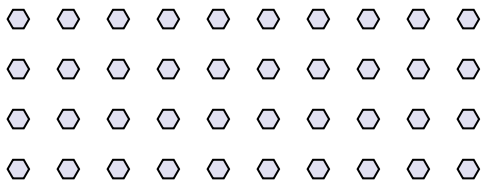
4) Có bao nhiêu nhóm 7 mà bạn có thể tạo thành với 35 hình bên dưới?




5) Có bao nhiêu nhóm 2 mà bạn có thể tạo thành với 38 hình bên dưới?



6) Có bao nhiêu nhóm 8 mà bạn có thể tạo thành với 40 hình bên dưới?



7) Có bao nhiêu nhóm 9 mà bạn có thể tạo thành với 36 hình bên dưới?



8) Có bao nhiêu nhóm 4 mà bạn có thể tạo thành với 40 hình bên dưới?




9) Có bao nhiêu nhóm 7 mà bạn có thể tạo thành với 35 hình bên dưới?



10) Có bao nhiêu nhóm 5 mà bạn có thể tạo thành với 10 hình bên dưới?



11) Có bao nhiêu nhóm 9 mà bạn có thể tạo thành với 27 hình bên dưới?



Câu trả lời

Vd. 3

1. 13

2. 4

3. 8

4. 5

5. 19

6. 5

7. 4

8. 10

9. 5


10. 2

11. 3

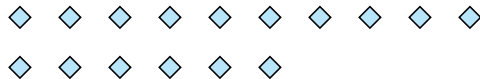


Dùng các hình được cho để trả lời câu hỏi.


Vd) Có bao nhiêu nhóm 6 mà bạn có thể tạo thành với 18 hình bên dưới?



1) Có bao nhiêu nhóm 8 mà bạn có thể tạo thành với 16 hình bên dưới?



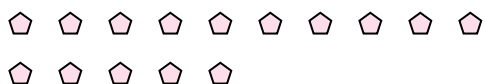
2) Có bao nhiêu nhóm 6 mà bạn có thể tạo thành với 36 hình bên dưới?



3) Có bao nhiêu nhóm 5 mà bạn có thể tạo thành với 25 hình bên dưới?



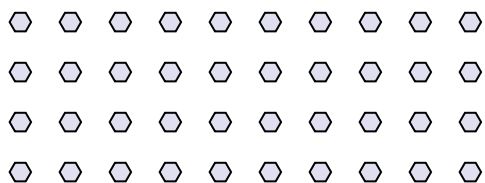
4) Có bao nhiêu nhóm 5 mà bạn có thể tạo thành với 15 hình bên dưới?



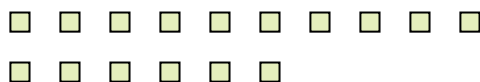
5) Có bao nhiêu nhóm 3 mà bạn có thể tạo thành với 6 hình bên dưới?




6) Có bao nhiêu nhóm 4 mà bạn có thể tạo thành với 40 hình bên dưới?




7) Có bao nhiêu nhóm 2 mà bạn có thể tạo thành với 16 hình bên dưới?



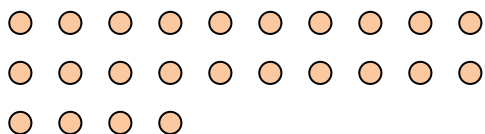
8) Có bao nhiêu nhóm 6 mà bạn có thể tạo thành với 30 hình bên dưới?




9) Có bao nhiêu nhóm 7 mà bạn có thể tạo thành với 21 hình bên dưới?



10) Có bao nhiêu nhóm 8 mà bạn có thể tạo thành với 24 hình bên dưới?



11) Có bao nhiêu nhóm 2 mà bạn có thể tạo thành với 22 hình bên dưới?



Câu trả lời

Vd. 3

1. _____

2. _____

3. _____

4. _____

5. _____

6. _____

7. _____

8. _____

9. _____


10. _____

11. _____

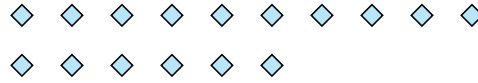


Dùng các hình được cho để trả lời câu hỏi.


Vd) Có bao nhiêu nhóm 6 mà bạn có thể tạo thành với 18 hình bên dưới?



1) Có bao nhiêu nhóm 8 mà bạn có thể tạo thành với 16 hình bên dưới?



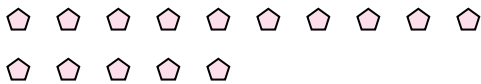
2) Có bao nhiêu nhóm 6 mà bạn có thể tạo thành với 36 hình bên dưới?



3) Có bao nhiêu nhóm 5 mà bạn có thể tạo thành với 25 hình bên dưới?



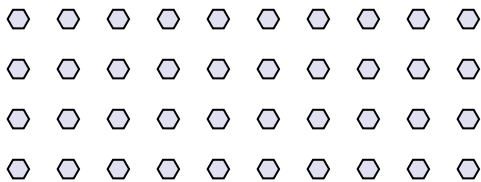
4) Có bao nhiêu nhóm 5 mà bạn có thể tạo thành với 15 hình bên dưới?



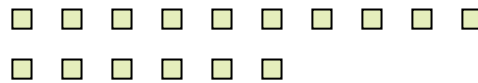
5) Có bao nhiêu nhóm 3 mà bạn có thể tạo thành với 6 hình bên dưới?




6) Có bao nhiêu nhóm 4 mà bạn có thể tạo thành với 40 hình bên dưới?



7) Có bao nhiêu nhóm 2 mà bạn có thể tạo thành với 16 hình bên dưới?



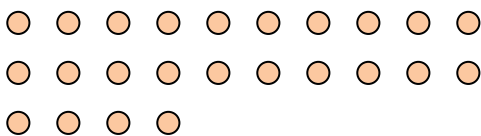
8) Có bao nhiêu nhóm 6 mà bạn có thể tạo thành với 30 hình bên dưới?




9) Có bao nhiêu nhóm 7 mà bạn có thể tạo thành với 21 hình bên dưới?



10) Có bao nhiêu nhóm 8 mà bạn có thể tạo thành với 24 hình bên dưới?



11) Có bao nhiêu nhóm 2 mà bạn có thể tạo thành với 22 hình bên dưới?



Câu trả lời

Vd. 3

1. 2

2. 6

3. 5

4. 3

5. 2

6. 10

7. 8

8. 5

9. 3

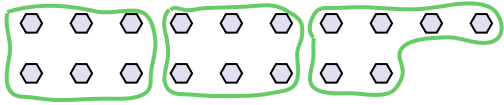
10. 3

11. 11

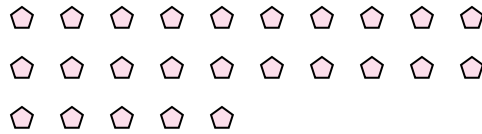


Dùng các hình được cho để trả lời câu hỏi.

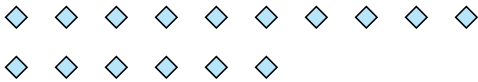
Vd) Có bao nhiêu nhóm 6 mà bạn có thể tạo thành với 18 hình bên dưới?



1) Có bao nhiêu nhóm 5 mà bạn có thể tạo thành với 25 hình bên dưới?




2) Có bao nhiêu nhóm 4 mà bạn có thể tạo thành với 16 hình bên dưới?




3) Có bao nhiêu nhóm 2 mà bạn có thể tạo thành với 14 hình bên dưới?



4) Có bao nhiêu nhóm 4 mà bạn có thể tạo thành với 28 hình bên dưới?



5) Có bao nhiêu nhóm 9 mà bạn có thể tạo thành với 36 hình bên dưới?



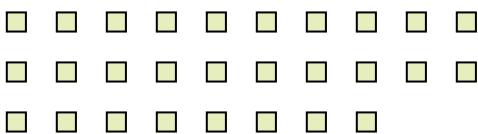
6) Có bao nhiêu nhóm 9 mà bạn có thể tạo thành với 27 hình bên dưới?




7) Có bao nhiêu nhóm 6 mà bạn có thể tạo thành với 30 hình bên dưới?



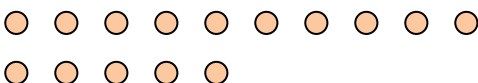
8) Có bao nhiêu nhóm 2 mà bạn có thể tạo thành với 28 hình bên dưới?




9) Có bao nhiêu nhóm 9 mà bạn có thể tạo thành với 27 hình bên dưới?



10) Có bao nhiêu nhóm 5 mà bạn có thể tạo thành với 15 hình bên dưới?



11) Có bao nhiêu nhóm 4 mà bạn có thể tạo thành với 36 hình bên dưới?



Câu trả lời

Vd. 3

1. _____

2. _____

3. _____

4. _____

5. _____

6. _____

7. _____

8. _____

9. _____

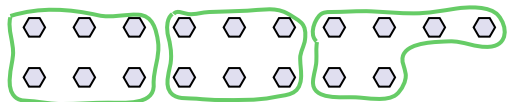
10. _____

11. _____

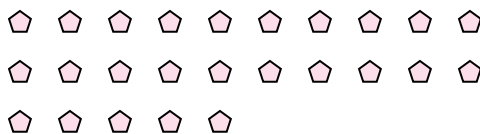


Dùng các hình được cho để trả lời câu hỏi.

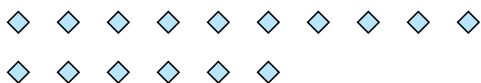
Vd) Có bao nhiêu nhóm 6 mà bạn có thể tạo thành với 18 hình bên dưới?



1) Có bao nhiêu nhóm 5 mà bạn có thể tạo thành với 25 hình bên dưới?




2) Có bao nhiêu nhóm 4 mà bạn có thể tạo thành với 16 hình bên dưới?




3) Có bao nhiêu nhóm 2 mà bạn có thể tạo thành với 14 hình bên dưới?



4) Có bao nhiêu nhóm 4 mà bạn có thể tạo thành với 28 hình bên dưới?



5) Có bao nhiêu nhóm 9 mà bạn có thể tạo thành với 36 hình bên dưới?




6) Có bao nhiêu nhóm 9 mà bạn có thể tạo thành với 27 hình bên dưới?




7) Có bao nhiêu nhóm 6 mà bạn có thể tạo thành với 30 hình bên dưới?



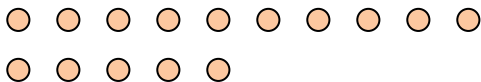
8) Có bao nhiêu nhóm 2 mà bạn có thể tạo thành với 28 hình bên dưới?




9) Có bao nhiêu nhóm 9 mà bạn có thể tạo thành với 27 hình bên dưới?



10) Có bao nhiêu nhóm 5 mà bạn có thể tạo thành với 15 hình bên dưới?



11) Có bao nhiêu nhóm 4 mà bạn có thể tạo thành với 36 hình bên dưới?



Câu trả lời

Vd. 3

1. 5

2. 4

3. 7

4. 7

5. 4

6. 3

7. 5

8. 14

9. 3


10. 3

11. 9

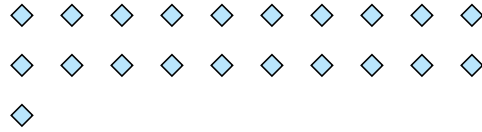


Dùng các hình được cho để trả lời câu hỏi.

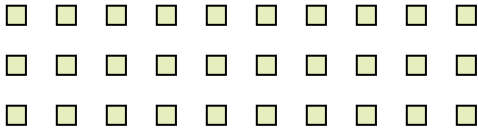
Vd) Có bao nhiêu nhóm 6 mà bạn có thể tạo thành với 18 hình bên dưới?



1) Có bao nhiêu nhóm 7 mà bạn có thể tạo thành với 21 hình bên dưới?




2) Có bao nhiêu nhóm 6 mà bạn có thể tạo thành với 30 hình bên dưới?



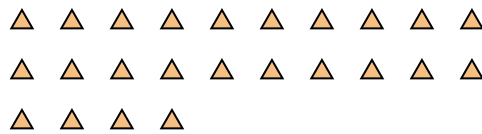
3) Có bao nhiêu nhóm 4 mà bạn có thể tạo thành với 28 hình bên dưới?



4) Có bao nhiêu nhóm 9 mà bạn có thể tạo thành với 27 hình bên dưới?



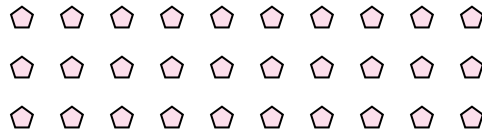
5) Có bao nhiêu nhóm 6 mà bạn có thể tạo thành với 24 hình bên dưới?



6) Có bao nhiêu nhóm 3 mà bạn có thể tạo thành với 30 hình bên dưới?



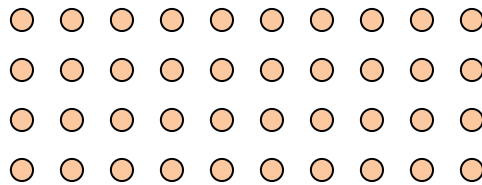
7) Có bao nhiêu nhóm 5 mà bạn có thể tạo thành với 30 hình bên dưới?



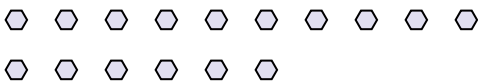
8) Có bao nhiêu nhóm 7 mà bạn có thể tạo thành với 14 hình bên dưới?




9) Có bao nhiêu nhóm 5 mà bạn có thể tạo thành với 40 hình bên dưới?



10) Có bao nhiêu nhóm 2 mà bạn có thể tạo thành với 16 hình bên dưới?



11) Có bao nhiêu nhóm 5 mà bạn có thể tạo thành với 30 hình bên dưới?



Câu trả lời

Vd. 3

1. _____

2. _____

3. _____

4. _____

5. _____

6. _____

7. _____

8. _____

9. _____


10. _____

11. _____

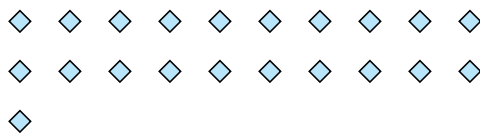


Dùng các hình được cho để trả lời câu hỏi.

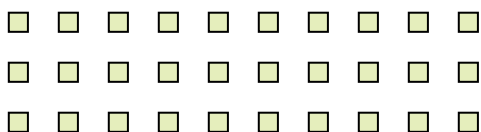
Vd) Có bao nhiêu nhóm 6 mà bạn có thể tạo thành với 18 hình bên dưới?



1) Có bao nhiêu nhóm 7 mà bạn có thể tạo thành với 21 hình bên dưới?



2) Có bao nhiêu nhóm 6 mà bạn có thể tạo thành với 30 hình bên dưới?




3) Có bao nhiêu nhóm 4 mà bạn có thể tạo thành với 28 hình bên dưới?



4) Có bao nhiêu nhóm 9 mà bạn có thể tạo thành với 27 hình bên dưới?



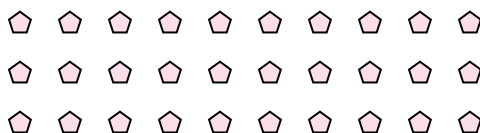
5) Có bao nhiêu nhóm 6 mà bạn có thể tạo thành với 24 hình bên dưới?



6) Có bao nhiêu nhóm 3 mà bạn có thể tạo thành với 30 hình bên dưới?



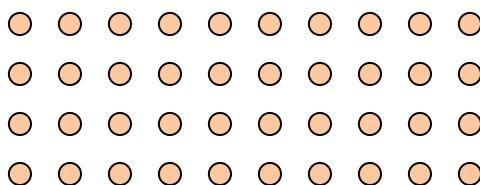
7) Có bao nhiêu nhóm 5 mà bạn có thể tạo thành với 30 hình bên dưới?



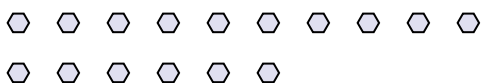
8) Có bao nhiêu nhóm 7 mà bạn có thể tạo thành với 14 hình bên dưới?




9) Có bao nhiêu nhóm 5 mà bạn có thể tạo thành với 40 hình bên dưới?



10) Có bao nhiêu nhóm 2 mà bạn có thể tạo thành với 16 hình bên dưới?



11) Có bao nhiêu nhóm 5 mà bạn có thể tạo thành với 30 hình bên dưới?



Câu trả lời

Vd. 3

1. 3

2. 5

3. 7

4. 3

5. 4

6. 10

7. 6

8. 2

9. 8

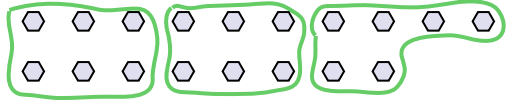
10. 8

11. 6



Dùng các hình được cho để trả lời câu hỏi.

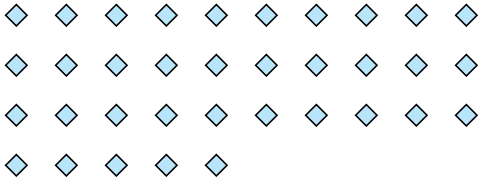
Vd) Có bao nhiêu nhóm 6 mà bạn có thể tạo thành với 18 hình bên dưới?



1) Có bao nhiêu nhóm 6 mà bạn có thể tạo thành với 12 hình bên dưới?




2) Có bao nhiêu nhóm 7 mà bạn có thể tạo thành với 35 hình bên dưới?



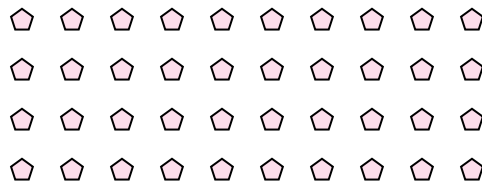
3) Có bao nhiêu nhóm 4 mà bạn có thể tạo thành với 8 hình bên dưới?




4) Có bao nhiêu nhóm 8 mà bạn có thể tạo thành với 24 hình bên dưới?



5) Có bao nhiêu nhóm 4 mà bạn có thể tạo thành với 40 hình bên dưới?




6) Có bao nhiêu nhóm 6 mà bạn có thể tạo thành với 36 hình bên dưới?



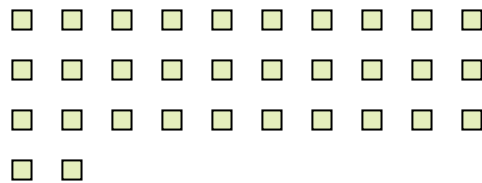
7) Có bao nhiêu nhóm 5 mà bạn có thể tạo thành với 10 hình bên dưới?



8) Có bao nhiêu nhóm 9 mà bạn có thể tạo thành với 27 hình bên dưới?



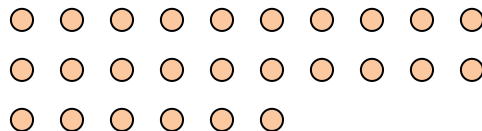
9) Có bao nhiêu nhóm 8 mà bạn có thể tạo thành với 32 hình bên dưới?



10) Có bao nhiêu nhóm 6 mà bạn có thể tạo thành với 18 hình bên dưới?



11) Có bao nhiêu nhóm 2 mà bạn có thể tạo thành với 26 hình bên dưới?



Câu trả lời

Vd. 3

1. _____

2. _____

3. _____

4. _____

5. _____

6. _____

7. _____

8. _____

9. _____

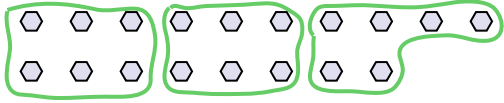
10. _____

11. _____



Dùng các hình được cho để trả lời câu hỏi.

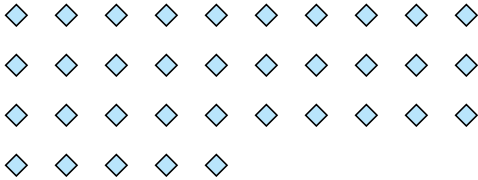
Vd) Có bao nhiêu nhóm 6 mà bạn có thể tạo thành với 18 hình bên dưới?



1) Có bao nhiêu nhóm 6 mà bạn có thể tạo thành với 12 hình bên dưới?




2) Có bao nhiêu nhóm 7 mà bạn có thể tạo thành với 35 hình bên dưới?



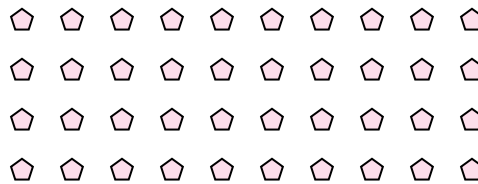
3) Có bao nhiêu nhóm 4 mà bạn có thể tạo thành với 8 hình bên dưới?




4) Có bao nhiêu nhóm 8 mà bạn có thể tạo thành với 24 hình bên dưới?



5) Có bao nhiêu nhóm 4 mà bạn có thể tạo thành với 40 hình bên dưới?




6) Có bao nhiêu nhóm 6 mà bạn có thể tạo thành với 36 hình bên dưới?



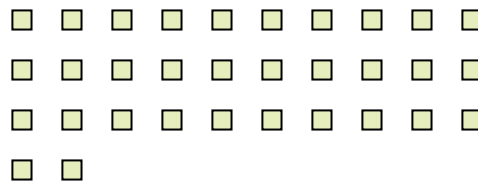
7) Có bao nhiêu nhóm 5 mà bạn có thể tạo thành với 10 hình bên dưới?



8) Có bao nhiêu nhóm 9 mà bạn có thể tạo thành với 27 hình bên dưới?



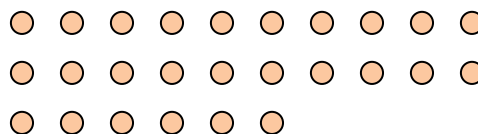
9) Có bao nhiêu nhóm 8 mà bạn có thể tạo thành với 32 hình bên dưới?



10) Có bao nhiêu nhóm 6 mà bạn có thể tạo thành với 18 hình bên dưới?



11) Có bao nhiêu nhóm 2 mà bạn có thể tạo thành với 26 hình bên dưới?



Câu trả lời

Vd. 3

1. 2

2. 5

3. 2

4. 3

5. 10

6. 6

7. 2

8. 3

9. 4

10. 3

11. 13