


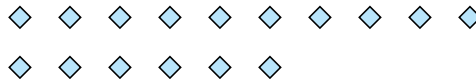


Dùng các hình được cho để trả lời câu hỏi.


Vd) Có bao nhiêu nhóm 6 mà bạn có thể tạo thành với 18 hình bên dưới?



1) Có bao nhiêu nhóm 8 mà bạn có thể tạo thành với 16 hình bên dưới?



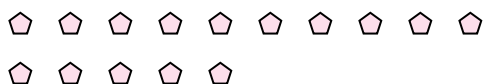
2) Có bao nhiêu nhóm 6 mà bạn có thể tạo thành với 36 hình bên dưới?



3) Có bao nhiêu nhóm 5 mà bạn có thể tạo thành với 25 hình bên dưới?




4) Có bao nhiêu nhóm 5 mà bạn có thể tạo thành với 15 hình bên dưới?



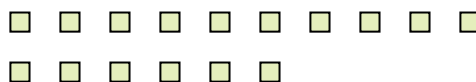
5) Có bao nhiêu nhóm 3 mà bạn có thể tạo thành với 6 hình bên dưới?




6) Có bao nhiêu nhóm 4 mà bạn có thể tạo thành với 40 hình bên dưới?




7) Có bao nhiêu nhóm 2 mà bạn có thể tạo thành với 16 hình bên dưới?



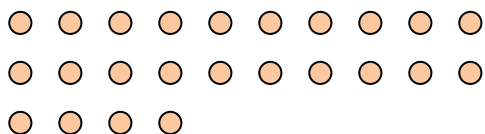
8) Có bao nhiêu nhóm 6 mà bạn có thể tạo thành với 30 hình bên dưới?




9) Có bao nhiêu nhóm 7 mà bạn có thể tạo thành với 21 hình bên dưới?



10) Có bao nhiêu nhóm 8 mà bạn có thể tạo thành với 24 hình bên dưới?



11) Có bao nhiêu nhóm 2 mà bạn có thể tạo thành với 22 hình bên dưới?



Câu trả lời

Vd. 3

1. _____

2. _____

3. _____

4. _____

5. _____

6. _____

7. _____

8. _____

9. _____

10. _____

11. _____

